



T.C. Ölçme, Seçme ve Yerleştirme Merkezi

KAMU PERSONEL SEÇME SINAVI LİSANS

GENEL YETENEK TESTİ GENEL KÜLTÜR TESTİ

22 TEMMUZ 2018

Bu testlerin her hakkı saklıdır. Hangi amaçla olursa olsun, testlerin tamamının veya bir kısmının Merkezimizin yazılı izni olmadan kopya edilmesi, fotoğrafının çekilmesi, herhangi bir yolla çoğaltılması, yayımlanması ya da kullanılması yasaktır. Bu yasağa uymayanlar gerekli cezai sorumluluğu ve testlerin hazırlanmasındaki mali külfeti peşinen kabullenmiş sayılır.

AÇIKLAMA

1. Bu kitapçıkta Kamu Personel Seçme Sınavı **Genel Yetenek Testi** ve **Genel Kültür Testi** bulunmaktadır.
2. Genel Yetenek Testi ve Genel Kültür Testi'nin her birinde **60 soru** vardır.
3. **Bu testler için verilen toplam cevaplama süresi 130 dakikadır (2 saat, 10 dakika).**
4. Bu kitapçıkta testlerde yer alan her sorunun sadece bir doğru cevabı vardır. Bir soru için birden çok cevap yeri işaretlenmişse o soru yanlış cevaplanmış sayılacaktır.
5. İşaretlediğiniz bir cevabı değiştirmek istediğinizde, silme işlemini çok iyi yapmanız gerektiğini unutmayınız.
6. **Bu testler puanlanırken her bölümde doğru cevaplarınızın sayısından yanlış cevaplarınızın sayısının dörtte biri çıkarılacak ve kalan sayı o bölümle ilgili ham puanınız olacaktır.**
7. Cevaplamaya istediğiniz sorudan başlayabilirsiniz. Bir soru ile ilgili cevabınızı, cevap kâğıdında o soru için ayrılmış olan yere işaretlemeyi unutmayınız.
8. Sınavda uyulacak diğer kurallar bu kitapçığın arka kapağında belirtilmiştir.

1. Bu testte 60 soru vardır.

2. Cevaplarınızı, cevap kâğıdının Genel Yetenek Testi için ayrılan kısmına işaretleyiniz.

1. Huzur ve stres biyolojik sağlığınızın ne kadar iyi olacağını belirleme ---- iki değişkendir. Fakat bunlardan birinin baskınlığından ziyade ikisinin ---- yapılacak tahminler biyolojik sağlık üzerinde ruh sağlığının etkilerini kestirmede daha gerçekçi sonuçlar verecektir.

Bu parçada boş bırakılan yerlere sırasıyla aşağıdakilerden hangisi getirilmelidir?

- A) potansiyeline sahip - dengesi gözetilerek
- B) gücü bulunan - etkililiğini öngörerek
- C) ihtimali zayıf - istikrarsızlığı varsayımıyla
- D) kapasitesini sınırlayan - ilişkisine dayanarak
- E) açısından kritik - eşitsizliği esasıyla

2. Akıl, insanı insan yapan temel faktör olduğu gibi pek çok ifade de dilimize yerleşmiştir. Pişmanlıkların ardından "şimdiki aklım olsaydı" ifadesini çok işitmişizdir. Bir şeyin içeriğini veya işleyişini anlamamak "akıl erdirememek" şeklinde ifade edilirken, başkalarının çözemediği bir sorunu çözen kişi için bir tek o "akıl etti" denir. Birine bir işte yol göstermek ona "akıl danışmak"; bir şeyi hatırlamak, unutmamak ise "akılda tutmak" olarak ifade edilir.

Bu parçadaki numaralanmış sözlerden hangisi anlam bakımından yanlış kullanılmıştır?

- A) I
- B) II
- C) III
- D) IV
- E) V

3. Pierre Bourdieu, Fribourg Üniversitesinde yaptığı bir açılış konuşmasında şöyle diyordu: "Düşünceler, ürünü oldukları üretim alanını beraberinde götürmedikleri için bağlamlarından koparılarak dolaşıma giriyor." Özellikle çevirilere gönderme yaptığı bu konuşmasında bir eserin başka bir dile çevrilme, o dile yayımlanma, okunma ve tartışılma süreçlerinin önemi konusunda okuyucuyu uyarıyordu.

Bu parçadaki altı çizili sözle anlatılmak istenen aşağıdakilerden hangisidir?

- A) Tutarlı görüşlerden çok popülist söylemlerin dikkate alındığı
- B) Fikirlerin, ortaya çıkış koşullarına bakılmadan yaygınlaştırıldığı
- C) Anlatılmak istenenden ziyade ifade ediliş şeklinin önemsendiği
- D) Düşüncelerin farklı dillere aktarılırken yeni yorumlar kazandığı
- E) Tüketim kültürünün etkisiyle fikirlere yüzeysel yaklaşıldığı

4. (I) Yaşar Kemal, efsane ve düşerle iç içe geçmiş bir gerçekliği barındıran şiirsel yapıtlarıyla edebiyatımıza Çukurova dünyasını getirmiştir. (II) Dağları, ovaları, ağaçları, kuşları, böcekleriyle buranın doğasını romanlarında coşkuyla anlatmıştır. (III) Onun eserlerindeki Çukurova'da doğa, insan kadar önemli bir yer tutarak çeşitli anlamlar kazanmıştır. (IV) Burası, her şeyden önce insanın yaşadığı çevre olarak vardır; kimi zaman yaşamak için boğuştuğu bir düşmandır, kimi zaman bazı ahlaki değerlerin simgesidir. (V) Kimi zaman da estetik değer kazandıran bir öğedir; aslında Yaşar Kemal'in yapıtlarındaki şiirsellik, tüm zenginliğiyle sergilenen doğadan gelir.

Bu parçadaki numaralanmış cümlelerde Yaşar Kemal'le ilgili olarak aşağıdakilerden hangisi söylenemez?

- A) I. cümlede, eserlerinde gerçekliğin kurguyla ilişkilendirildiğinden söz edilmiştir.
 B) II. cümlede, eserlerine ait öğeleri işleyiş biçiminden bahsedilmiştir.
 C) III. cümlede, eserlerindeki unsurlar arasında karşılaştırma yapılmıştır.
 D) IV. cümlede, eserlerine yansıttığı özgün bakış açısına değinilmiştir.
 E) V. cümlede, eserlerindeki şiirselliğin ve estetiğin kaynağı dile getirilmiştir.

5. (I) Zevki, mizacı ve hayata karşı tavrı ile Yahya Kemal, tam bir Osmanlıydı. (II) Sohbetlerine katılanlar, onun büyük Osmanlı seferlerini hâl içindeymiş gibi heyecanla anlattığını ve yaşattığını görmüşlerdir. (III) Eğer onun sözleri vaktiyle kaydedilebilmiş olsaydı tarihi konu edinen edebiyatımız Ahmet Refik'ten sonra tam takır denecek kadar boş kalmayacak belki de şaheserlerle dolu olacaktı. (IV) Bence şiirlerindeki şahsiyetinden çok, onun asıl kudretli tarafı, Osmanlı Tarihine duyduğu büyük heyecanı ifade eden konuşmalarıydı. (V) Yahya Kemal'in bu emsalsiz tarih sevgisini hiç bir iz bırakmadan beraberinde götürmüş olması, kültürümüzün en büyük kayıplarındandır.

Bu parçadaki numaralanmış cümlelerin hangisinde yazım yanlışı yoktur?

- A) I B) II C) III D) IV E) V

6. Şehir; insanın, hayatını düzenlemek üzere meydana
 I
 getirdiği en önemli, en büyük fiziki ürün olmasının yanı
 II
 sıra insan hayatını yönlendiren ve çevreleyen bir
 yapıdır. Bu yapıya biçim veren tercihleri ise insan ve
 toplumlar; inançlarından, dinlerinden hareket ederek
 III
 belirler. Oysa şehir; toplumsal hayata, insanlar
 IV
 arasındaki ilişkilere biçim veren bir yer olmakla birlikte
 sosyal mesafelerin en aza indiği, bu ilişkilerin en büyük
 V
 yoğunluk kazandığı bir yerdir de.

Bu parçadaki numaralanmış virgüllerden hangisinin işlevi diğerlerinden farklıdır?

- A) I B) II C) III D) IV E) V

7. Tokat'ın Taşhan'ı, şehrin en gözde yerinde, en rağbet gören mekânı. Burada tarihin şahitlerini görmek mümkün. Ortası, göğe açılan bir pencere gibi bulutları selamlıyor. Etrafında küçücük odalar var. Her bir oda sanki bir dünyayı taşıyor.

Bu parçada aşağıdaki ses olaylarından hangisi yoktur?

- A) Ünsüz yumuşaması B) Ünlü düşmesi
C) Ünlü daralması D) Ünsüz düşmesi
E) Ünsüz benzeşmesi
8. (I) Burası; köye bir hayli uzak, eski mi eski bir su değirmeniydi. (II) Güneş sırtların arkasındaki boşluğa gömülünce değirmen, gölgelere bürünüp kararmaya başladı. (III) Yalnızca yüksek kavak ağaçlarının tepelerindeki yapraklar, birer renkli fener gibi bir süre daha ışıklı kalırdı. (IV) Onlar da sönüp kaybolunca değirmen, gecenin karanlığına gömülmüş kimliksiz bir ses hâlini alırdı. (V) Bazen de rutubetli bir hamam gibi en kısık sesi bile abartarak sabaha kadar uğuldardı.

Bu parçada numaralanmış cümlelerden hangisi yalnızca özne ve yüklemden oluşmuştur?

- A) I B) II C) III D) IV E) V

9. Çok sevdiğiniz insanlar hakkında konuşmak zordur.

I
Sevginiz öylesine taşar ki kalbinizden yükselen
II
heyecan dalgası nefesinizi keser. Kelimeler dilinizden
bir türlü dökülmez, dışarıdan bakana anlamsız gelecek
birtakım jest ve mimiklere dönüşür. En azından benim
III
için böyledir bu.
IV

Bu parçadaki altı çizili sözcüklerin türleri aşağıdakilerin hangisinde sırasıyla doğru olarak verilmiştir?

- A) Zarf - zamir - sıfat - sıfat
B) Sıfat - zamir - zarf - sıfat
C) Zarf - zarf - sıfat - zamir
D) Zarf - edat - sıfat - zamir
E) Sıfat - edat - zarf - sıfat

10. Köşkün kapısından içeri girince ötesi berisi aşınmış hasır döşeli ve alçak tavanlı alt kat sofası; basık merdivenlerinden kolayca çıkılıveren üst katı; insana ilk görüşte biraz boşluk ve yalnızlık hissi verirdi.

Bu parçada aşağıdakilerden hangisi yoktur?

- A) Edat grubu B) Belirtili isim tamlaması
C) Zarf-fiil grubu D) Sıfat tamlaması
E) Sıfat-fiil grubu

11. Afrika'daki Sahra Çölü'nün güneyi boyunca uzanan
I
bölgeye düşen yıllık yağış miktarı, ortalamasının altına
II III
düşünce Ranava köyünün verleşik nüfusu 1985 yılından
IV
itibaren azalmaya başlamış.
V

Bu parçadaki numaralanmış sözcüklerden hangisi kökü bakımından diğerlerinden farklıdır?

- A) I B) II C) III D) IV E) V

12. Ali; orta boylu, geniş alınlı, yakışıklı bir adamdı. Sesi berrak, diksiyonu düzgündü. Bence tek kusuru, ezbere gereken önemi vermemesiydi: *Macbeth*'teki rolünü son provaya kadar tam ezberlemediğini bilirim. Oyun başladıktan sonra hep sufleye oynadı, bazı sahnelerde de ezber yetersizliği yüzünden zorlandı. Yine de rolünü kabul ettirmesi önemli bir başarıydı. Zira, *Macbeth* ve *Lady Macbeth* rolleri Shakespeare'in en güç, en nankör rolleridir. İşte büyük oyunculuk, "bu çeşit rolleri sevdirmek ve kabul ettirmek" demektir.

Bu parçanın anlatımında aşağıdakilerden hangisi yoktur?

- A) Örneklendirme B) Karşılaştırma
C) Betimleme D) Öyküleme
E) Tanık gösterme

13. (I) Yazma becerisindeki gelişimin okuma becerileri üzerinde kayda değer bir etkisi vardır. (II) Bu etki özellikle okuma yazmayı yeni öğrenen çocuklar açısından kritik öneme sahiptir. (III) Kimi çevreler ilkokuma yazma döneminde elle yazma becerisini kazanmanın zor olduğunu, kalem yerine klavye kullanımının yazma öğretimini kolaylaştıracağını, böylelikle kolay ve hızlı öğrenilen yazmanın diğer alanlardaki gelişime daha fazla katkı sağlayacağını iddia etmektedir. (IV) Ancak algılama ve uygulama süreçlerinin birlikte gerçekleşmesinin görsel algılamaya yeteneğini geliştirdiğini ve okuma becerisini olumlu yönde etkilediğini gösteren bilimsel çalışmalar da var. (V) El yazısının beyinde güçlü bağlantılar oluşturmasının bir nedeni de elle yazarken dikkatimizin tamamen yazdığımız şeye odaklanmasıdır. (VI) Araştırmacılar elle yazmanın okuma sürecindeki olumlu etkisinin harflerin tanınmasını kolaylaştırmasıyla bağlantılı olduğunu düşünüyor.

Bu parçadaki numaralanmış cümlelerden hangisi düşüncenin akışını bozmaktadır?

- A) II B) III C) IV D) V E) VI

14. (I) Bundan birkaç yıl önce üç boyutlu fotoğraf çekmek için yan yana iki objektif barındıran cep telefonlarıyla karşılaşmıştık. (II) Yeni modelde normal lensin yanına bir de siyah beyaz lens yerleştirilmiş. (III) Şimdi fotoğraf alanında üstünlük kurmaya çalışan cep telefonu üreticilerinin yeniden bu alana yöneldiğini görüyoruz. (IV) Akıllı telefon üreticisi firmalardan biri, bunun ilginç örneklerinden birini duyurdu. (V) Ancak üç boyut furyasının kısa sürmesiyle bunların da ömrü pek uzun olmamıştı.

Bu parçadaki numaralanmış cümlelerin anlamlı bir bütün oluşturabilmesi için hangilerinin birbiriyle yer değiştirmesi gerekir?

- A) I ile III B) I ile IV C) II ile IV
D) II ile V E) III ile V

15. (I) Gaziantep ili sınırları içerisinde yer alan ve Yunancada "geçit" anlamına gelen Zeugma, stratejik bir noktada yer almaktaydı. (II) Önemli ticaret yolları üzerinde bulunan kentin temeli MÖ 300'lü yıllarda atılmıştır. (III) Fırat Nehri'nin batısı ve doğusu olmak üzere iki farklı kent şeklinde kurulmuş, MS 253 yılına kadar önemini korumuştur. (IV) 1990'larda başlayan kazı çalışmaları ile kentin topografisi büyük ölçüde açığa çıkarılmıştır. (V) Kazı çalışmaları ile elde edilen kalıntılar sayesinde halkın özel hayatı, kültürü, etnik ve sosyal kimliği hakkında pek çok bilgiye ulaşılmıştır. (VI) Kalıntılardan en önemlileri, bize halkın tercihleri yanında onların aydın kimlikleri hakkında da eşsiz bilgiler sunan mozaiklerdir.

Bu parça iki paragrafa ayrılmak istense ikinci paragraf hangi cümleyle başlar?

- A) II B) III C) IV D) V E) VI

16. Finlandiya'da bulunan Uluslararası Baş Ağrısı Genetik Birliği araştırmacıları migren bilmeceğini çözdüklerini duyurdular: Migrenin sebebi, beyindeki bazı damarların kan dolaşımını kısıtlaması. 12 farklı ülkeden yaklaşık 60 bin migren hastasının dâhil edildiği araştırmada migrenle ilişkili olan 38 tane gen belirlendi. Bunlardan 28'i daha önceki araştırmalarda bahsi hiç geçmemiş olup hastalıkla ilişkili olduğu yeni keşfedilen genler. İlginc olanı, bu genler damar yolları hastalıklarıyla da doğrudan ilişkili. Kısacası araştırma, ---- .

Bu parçanın sonuna düşüncenin akışına göre aşağıdakilerden hangisi getirilmelidir?

- A) migrenin kalıtım yoluyla doğuştan gelen bir hastalık olduğunu vurguluyor
B) migrenin tedavisi mümkün bir hastalık olduğu tezini ileri sürüyor
C) migrenin de aslında bir çeşit damar hastalığı olduğunu ortaya koyuyor
D) migren sürecinde yaşanan olumsuzlukların beyni beslediğini ifade ediyor
E) migrenle ilgili daha geniş katılımlı bir çalışma yapılması gerektiğini gösteriyor

17. Sinema tarihinin başlarında filmler, bilim insanları ve sanatçıların gerçekliği yeniden üretme yolunda gösterdikleri bir çabanın sonucunda ortaya çıkmıştı ve yeni bir şey olmanın ötesinde bir anlama sahip değildi. İnsanlar film gösterim mekânlarına asıl olarak bu icadı görmek için gitmekteydi. İlk sinema araçlarını yaratanlar, buradan özellikle sıradan insanı ve toplum yaşamını tümüyle kucaklayan yepyeni bir sanat dalının ortaya çıkabileceğini akıllarından bile geçirmemişlerdi. Onlara göre bu ilk hareketli fotoğraflar bir süre için insanların her yeni buluş karşısında kapıldığı merakı karşılamaya yarayabilirdi ancak.

Bu parçadan hareketle ilk filmlerle ilgili olarak aşağıdakilerden hangisi söylenebilir?

- A) Gündelik hayatı konu alan olay örgüsü sayesinde geniş kitlelere ulaşmıştır.
B) İzleyici kitlesini, merak duygusunu gidermek isteyen bir grup oluşturmuştur.
C) Sanat ve bilimle uğraşan insanların çabalarıyla popüler hâle gelmiştir.
D) Gösteri sanatında kullandığı yeni tekniklerle kişilerin hayal dünyasına inebilmiştir.
E) Toplumsal hayatın bütün alanlarında değiştiren bir etkiye sahip olmuştur.

18. Sivrisinekler tarafından yayılan humma virüsü her yıl 400 milyon kişiye bulaşıyor. Humma insanlarda halsizliğe, şiddetli baş ağrılarına, yüksek ateşe hatta can kayıplarına yol açıyor. Bugün dünya nüfusunun % 40'ı risk altında. Küresel ısınma ve yolculuk yapanların sayısındaki yükseliş sebebiyle risk giderek artıyor. Bu yıl Dünya Sağlık Örgütü hummaya karşı üretilen ilk aşığı, Brezilya ve Filipinler gibi tehdidin yüksek olduğu bölgelerde denemeye başladı. Söz konusu ülkelerdeki nüfusun % 20'si aşılandığı takdirde humma vakalarının beş yıl içinde % 50 azalabileceği öngörülüyor. Virüsü kontrol altına almak hastalığın dünya ekonomisine yüklediği yıllık 9 milyar dolarlık tedavi masrafını da aşığıya çekecek.

Bu parçadan hareketle humma virüsü ile ilgili olarak aşağıdakilerden hangisine ulaşamaz?

- A) Sivrisineklerle mücadele edilerek kontrol altına alınabileceğine
- B) Ölümle sonuçlanabilecek ciddi sağlık sorunları yarattığına
- C) Yayılma hızının, çevre ve insan faktörlerinden etkilendiğine
- D) Dünyanın belli bölgelerinde daha yaygın olarak görüldüğüne
- E) Küresel ekonomi üzerinde büyük çaplı finansal etkileri olduğuna

19. Günümüzde pek çok insan; kendi mükemmelliğini ve benzersizliğini, yaptığı işin önemini ve zorluğunu abartmaya şevkle sarılmış bir reklam şirketi gibi davranıyor. Doğa mütevazıdır, insan ise kendini haykırır. Üstelik bunu asırlardır yapıyor. Sosyal medya hesapları üzerinden sürekli olarak "En güzel, en mutlu, en başarılı benim!" diyen çağımız insanının "öz propaganda hastalığı"na yeni yakalandığını düşünmek yanlış olur. Narcissus, sabah uyanır uyanmaz göle öz çekim yapmaya gideli binlerce yıl oluyor.

Aşağıdakilerden hangisi bu parçada öne sürülen düşüncelerden biri değildir?

- A) Pek çok insan yaptığı en ufak işi bile abartarak etrafına sunmayı sever.
- B) Çağın insanı yalnızlaştıkça kendi türünü sevmeye ve yüceltmeye yönelir.
- C) Doğanın aksine çoğu insan, kendi değerini başkalarına duyurmaya yatkındır.
- D) Bireyin kendine duyduğu hayranlık tarihsel olarak uzun bir geçmişe sahiptir.
- E) İnsanların çoğu, kendilerinin ve yaşamlarının biricik olduğunu göstermek ister.

20. - 21. soruları aşağıdaki parçaya göre cevaplayınız.

Ünlü yazar Asimov, *Güç Duygusu* adlı bilim kurgu öyküsünde, iki sayıyı alt alta yazıp bu iki sayının çarpımını hesaplayabilen bir teknisyenin insanlarda yarattığı şaşkınlığı anlatır. En basit işlemlerin bile ceplerde taşınan hesap makineleriyle yapıldığı bu uzak gelecekte, bir adamın çarpma işlemini elle yapabilmesi büyük bir şaşkınlığın ötesinde bir ulusal güvenlik konusu hâline gelir. Oysa Asimov, 1958 yılında öyküsünü yazdığında hesap makinesi henüz icat edilmemişti. Bugün insanların en basit matematiksel işlemler için ceplerinden akıllı telefonlarını çıkarıp hesap makinesini açtığını görmek, üzüntü vermesinin yanı sıra Asimov'un betimlediği uzak geleceğe yaklaştığımızı hissettiriyor.

20. Bu parçanın yazarına göre, teknolojinin kaygı verici yönü aşağıdakilerden hangisidir?

- A) Toplumları zamanla felakete sürüklemesi
- B) İnsanların ruh sağlığını olumsuz yönde etkilemesi
- C) Ülkelerin ulusal güvenliğini tehlikeye atması
- D) Farklı toplumlarda benzer tepkilere yol açması
- E) İnsanların zihinsel becerilerini olumsuz etkilemesi

21. Bu parçada *Güç Duygusu* adlı bilim kurgu öyküsünün vurgulanan özelliği aşağıdakilerden hangisidir?

- A) Bilimsel verilere dayanması
- B) Geniş yankı uyandırması
- C) Diğer yazarlara ilham vermesi
- D) Hâlen popülerliğini koruması
- E) İsabetli öngörülerde bulunması

22. - 23. soruları aşağıdaki parçaya göre cevaplayınız.

Oksijensiz ortamdaki bir bakteri tarafından üretilen botulinum, dünyanın en zehirli maddelerinin başında yer alıyor. Fareler üzerinde yapılan çalışmaların sonuçlarına göre 70 kilogramlık bir kişiye damardan verilen botulinumun 10^{-7} gram gibi çok düşük bir dozu bile felç ve ölüme neden oluyor. Madde, asetilkolin sinyal molekülünün salımını engellediğinden organizmayı ani bir felce uğrattırıyor. İşte dünyanın en zehirli maddesi, bu özelliği nedeniyle kozmetik dünyasında "botoks" adıyla bilinen yöntemde kullanılıyor. Deri altına çok az oranda enjekte edilen botulinum, yüz kaslarının hareket etmesini engelleyerek ciltteki kırışıklığı kısa vadeli olarak yok ediyor. Zehir niteliği taşıyan bu maddenin özellikle kadınlar arasındaki popülerliği gün geçtikçe artıyor. Botulinumun kozmetik dünyasındaki kullanımı, 500 yıl önce "Zehir olmayan madde yoktur, zehir ile ilacı ayıran dozdur!" diyen Paracelsus'un haklı olduğunu gösteriyor.

22. Bu parçaya göre botulinumla ilgili olarak aşağıdakilerden hangisi söylenemez?

- A) Çok düşük miktarının bile ölümcül olabileceği
- B) Vücudun bir kısmını hareketsiz bırakabileceği
- C) Tıp alanında tedavi amacıyla kullanıldığı
- D) Kozmetik sektöründe çokça tercih edildiği
- E) Cilt estetiğinde etkisinin geçici olduğu

23. Bu parçanın anlatımıyla ilgili olarak aşağıdakilerden hangisi söylenemez?

- A) Sayısal veri kullanılmıştır.
- B) Tanık göstermeye başvurulmuştur.
- C) Karşılaştırma yapılmıştır.
- D) Öznel ifade kullanılmıştır.
- E) Tanımlama yapılmıştır.

24. - 26. soruları aşağıdaki parçaya göre cevaplayınız.

(I) Geleneksel toplumlarda tarım dışında çalışan insanlar çoğunlukla bir zanaat öğrenir ve uzun bir çıraklık dönemi yaşarlardı. (II) Zanaatkârlar, başından sonuna kadar üretimin her aşamasında aktif olarak bulunurlardı. (III) Fakat endüstrileşme, iş bölümünü artırıp aynı malı çok daha hızlı ve daha ucuza üreten farklı makinelerin kullanılmasını sağlamış, böylelikle birçok geleneksel el sanatını kademeli olarak yok etmiştir. (IV) Nitekim modern endüstri toplumlarında çalışanlar, zanaatkârlardan farklı olarak, uzun süreli bir eğitim almalarına gerek kalmadan genellikle üretim sürecinin sadece bir bölümünü öğrenmekle yetinirler. (V) Böylelikle, geleneksel toplumdaki rollerden ve başlıca zanaatlardan farklı olan ve çok sayıda farklı mesleği içeren bir uzmanlaşma ve yoğun bir iş bölümü biçimi ortaya çıkmıştır. (VI) Endüstrileşmeye bağlı olarak ortaya çıkan bu yeni üretim modelleri, üretim aşamasında ustalaşmanın tanımını da değiştirmiştir.

24. Bu parçada vurgulanmak istenen aşağıdakilerden hangisidir?

- A) Modern toplumdaki endüstriyel iş bölümü, yetişmesi uzun yıllar alan zanaatkârların iş yükünü büyük oranda hafifletmiştir.
- B) Uzun çıraklık döneminin sonunda, işlerinde ustalaşmaları nedeniyle zanaatkârların ürünleri her zaman daha kıymetli olmuştur.
- C) Endüstrileşmeyle birlikte zanaatkârlık, yerini makineleşme ve hızlı üretim odaklı bir uzmanlaşma anlayışına bırakmıştır.
- D) Geleneksel toplumdaki zanaatkârlar, modern endüstri araçlarının kullanım süreçlerine adapte olamamışlardır.
- E) Zanaatkârların üretim sürecinde makinelere daha fazla yer vermeye başlamasıyla geleneksel el sanatlarına rağbet azalmıştır.

25. Bu parçadaki numaralanmış cümlelerle ilgili olarak aşağıdakilerden hangisi söylenemez?

- A) I. cümlede genelleme yapılmıştır.
- B) II. cümlede betimleme yapılmıştır.
- C) III. cümlede neden-sonuç ilişkisi vardır.
- D) IV. cümlede karşılaştırma vardır.
- E) V. cümlede sonuç ifade edilmiştir.

26. Bu parçadan hareketle,

- I. İş bölümü ve uzmanlaşma, geleneksel toplumlarda olmayan farklı meslekleri ve uzmanlıkları doğurmuştur.
- II. Modern endüstri toplumlarında üretim, farklı kişilerin dâhil olduğu bir süreç hâlini almıştır.
- III. Modern endüstride makinelerin kullanılması üretim maliyetlerinin giderek artmasına yol açmıştır.

yargularından hangilerine ulaşamaz?

- A) Yalnız I B) Yalnız II C) Yalnız III
- D) I ve II E) II ve III

27. - 30. soruları aşağıdaki bilgilere göre birbirinden bağımsız olarak cevaplayınız.

Pazartesi, salı ve çarşamba günlerini kapsayan üç günlük bir film festivalinde; komedi ve macera türünde A, B, C, D, E, F ve G filmleri gösterilmiştir. Filmlerin türlerine ve gösterildikleri günlere ilişkin kimi bilgiler şu şekildedir:

- Bir film, sadece bir kez gösterilmiştir.
- Komedi türündeki film sayısı dördür.
- Salı günü sadece bir film gösterilmiştir.
- Pazartesi gösterilen film sayısı, çarşamba gününden fazladır.
- Çarşamba günü gösterilen E filmi, macera türündedir.
- Aynı türdeki A, C ve D filmleri, farklı günlerde gösterilmiştir.
- Farklı türdeki A ve F filmleri, aynı gün gösterilmiştir.

27. Buna göre,

- I. A
- II. B
- III. C

filmlerinden hangileri pazartesi gösterilmiştir?

- A) Yalnız I B) Yalnız II C) Yalnız III
D) I ve II E) II ve III

28. Aşağıdakilerden hangisi **kesin olarak** doğrudur?

- A) Pazartesi gösterilen D filmi, macera türündedir.
B) Salı gösterilen C filmi, macera türündedir.
C) Çarşamba gösterilen G filmi, komedi türündedir.
D) Pazartesi gösterilen F filmi, macera türündedir.
E) Çarşamba gösterilen B filmi, komedi türündedir.

29. Aşağıdaki filmlerden hangileri aynı gün gösterilmiştir?

- A) B ve C B) B ve E
C) C ve F D) C ve G
E) B ve G

30. C ve G filmlerinin aynı türde oldukları biliniyorsa aşağıdakilerden hangisi doğrudur?

- A) B ve F filmleri aynı türdedir.
B) A ve G filmleri farklı türdedir.
C) B ve G filmleri aynı türdedir.
D) C ve E filmleri aynı türdedir.
E) E ve F filmleri farklı türdedir.

$$31. \frac{\left(1 + \frac{1}{2}\right)\left(1 + \frac{1}{3}\right)\left(1 + \frac{1}{4}\right)}{\left(3 - \frac{1}{2}\right)\left(2 - \frac{1}{3}\right)}$$

işleminin sonucu kaçtır?

- A) $\frac{1}{2}$ B) $\frac{1}{3}$ C) $\frac{2}{3}$ D) $\frac{1}{5}$ E) $\frac{3}{5}$

$$32. \left(\frac{0,3}{4} + \frac{0,4}{3}\right) \cdot \frac{6}{0,5}$$

işleminin sonucu kaçtır?

- A) 1 B) 2 C) $\frac{3}{2}$ D) $\frac{5}{4}$ E) $\frac{5}{2}$

$$33. \frac{3^{13} - 3^{11} + 3^{10}}{3^{11} - 3^{10} - 3^9}$$

işleminin sonucu kaçtır?

- A) 3 B) 5 C) 10 D) 12 E) 15

$$34. \frac{\sqrt{75} + \frac{3}{\sqrt{3}}}{\sqrt{27}}$$

işleminin sonucu kaçtır?

- A) 1 B) 2 C) 3 D) $\sqrt{3}$ E) $2\sqrt{3}$

35. $\frac{x^3 - 27}{(x + 3)^2 - 3x} : \frac{x^2 - 9}{x + 3}$

ifadesinin sadeleştirilmiş biçimi aşağıdakilerden hangisidir?

- A) $x + 3$ B) $3 - x$ C) $x - 3$
D) 1 E) 3

36. a ve b pozitif tam sayılar olmak üzere,

$$a \cdot b + b$$

ifadesi tek sayıdır.

Buna göre,

- I. $a \cdot b + a$
II. $(a + 1)^2$
III. $a^2 + a \cdot b + b^2$

ifadelerinden hangileri tek sayıdır?

- A) Yalnız I B) Yalnız III C) I ve II
D) I ve III E) II ve III

37. a, b ve c gerçel sayılar olmak üzere,

$$\frac{|a|}{|b|} = c$$

$$\frac{|b|}{|c|} = a$$

eşitlikleri sağlanıyor.

Buna göre,

- I. $a > 0$
II. $c = 1$
III. $b < 0$

ifadelerinden hangileri her zaman doğrudur?

- A) Yalnız I B) Yalnız II C) I ve II
D) I ve III E) I, II ve III

38. x ve y gerçel sayıları için

$$\frac{1}{y} < x < 0$$

eşitsizliği veriliyor.

Buna göre,

I. $x + y < xy$

II. $x - y < xy$

III. $x^2 y^2 < xy$

ifadelerinden hangileri her zaman doğrudur?

A) Yalnız I B) Yalnız II C) I ve III

D) II ve III

E) I, II ve III

39. x ve y gerçel sayıları için

$$\frac{4^y}{2^x} = \frac{1}{2}$$

$$2^x - 4^y = \frac{1}{64}$$

olduğuna göre, x · y çarpımı kaçtır?

A) 5 B) 8 C) 10 D) 12 E) 15

40. $\sqrt{\frac{x}{2}} + \sqrt{\frac{x}{8}} + \sqrt{\frac{x}{32}} = \frac{7}{2}$

olduğuna göre, x kaçtır?

A) 8 B) 12 C) 16 D) 24 E) 32

41. ABC üç basamaklı ve AC iki basamaklı doğal sayılar olmak üzere,

$$ABC = 11 \cdot AC$$

eşitliğini sağlayan üç basamaklı ABC sayılarına ayrışık sayı denir. Örneğin,

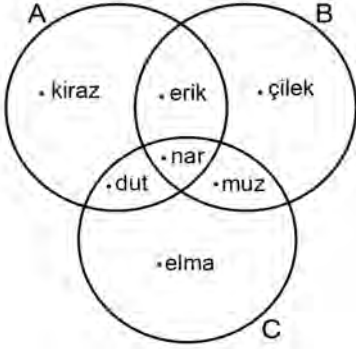
$$132 = 11 \cdot 12$$

olduğundan 132 bir ayrışık sayıdır.

ABA bir ayrışık sayı olduğuna göre, A rakamının alabileceği farklı değerlerin toplamı kaçtır?

A) 3 B) 6 C) 10 D) 15 E) 21

42. Aşağıdaki Venn şemasında A, B ve C sepetlerinde bulunan meyveler gösterilmiştir.



Buna göre, $[(A \cap B) \setminus C] \cup [C \setminus (A \cup B)]$ kümesinde hangi meyveler yer alır?

- A) erik ve muz B) nar ve çilek C) erik ve elma
D) kiraz ve nar E) elma ve kiraz

43. a bir gerçel sayı olmak üzere, gerçel sayılar kümesi üzerinde tanımlı

$$f(x) = ax + 3$$

$$g(x) = 3x + 1$$

fonksiyonları, her x gerçel sayısı için

$$(f \circ g)(x) = (g \circ f)(x)$$

eşitliğini sağlıyor.

Buna göre, a kaçtır?

- A) 7 B) 8 C) 9 D) 10 E) 11

44. Rakamlarından biri 5 olan üç basamaklı bir doğal sayının diğer iki rakamı aynıdır. Bu sayının yüzler ve birler basamağı yer değiştirildiğinde sayının değeri 198 azalmaktadır.

Buna göre, bu sayının alabileceği değerlerin toplamı kaçtır?

- A) 1080 B) 1130 C) 1206 D) 1308 E) 1405

45. Rakamları birbirinden farklı birer asal sayı olan üç basamaklı bir doğal sayı, 3 ile tam bölünebilmektedir.

Buna göre, bu sayının alabileceği en büyük değer ile en küçük değer arasındaki fark kaçtır?

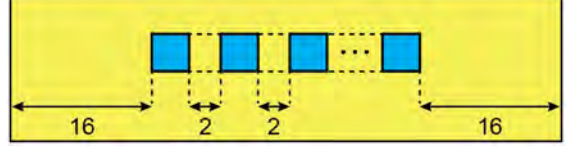
- A) 426 B) 465 C) 496 D) 516 E) 555

46. Dört periyottan oluşan bir basketbol maçında Erhan, her periyotta bir önceki periyottan daha fazla sayı atmıştır. Maç boyunca toplam 39 sayı atan Erhan'ın son iki periyotta attığı toplam sayı, ilk iki periyotta attığı toplam sayıdan 5 fazladır.

Buna göre, Erhan bu maçın ilk ve son periyotlarında toplam kaç sayı atmıştır?

- A) 18 B) 19 C) 20 D) 21 E) 22

47.



Ayşe, dikdörtgen biçiminde olan sarı renkli kartona, sağında ve solunda 16'şar birim boşluk bıraktıktan sonra kare biçiminde olan mavi renkli eş kartonları aşağıdaki kuralları uygulayarak şekildeki gibi yapıştıracaktır.

- Mavi renkli kartonlar; tek sıra hâlinde ve aynı doğrultuda, sarı renkli kartonun uzun kenarına paralel olacak biçimde yapıştırılacaktır.
- Yan yana olan iki mavi renkli karton arasında 2 birim boşluk bulunacaktır.

Ayşe, bu yapıştırma işlemini sarı renkli kartonun sağında ve solunda 1'er birim boşluk bıraktıktan sonra aynı kuralları uygulayarak yapsaydı fazladan 5 tane mavi renkli karton yapıştırmış olacaktır.

Buna göre, mavi renkli kartonun bir kenar uzunluğu kaç birimdir?

- A) 2 B) 2,5 C) 3 D) 3,5 E) 4


48. Eski ve yeni kitapların bulunduğu bir kitapçıda, bütün kitaplar % 20 kâr ile satılmaktadır. Bir kitabın eskisinin alış fiyatı, yenisinin satış fiyatının yarısı kadardır.

Bu kitapçıda aynı kitabın eskisinden 3 tane, yenisinden ise 5 tane satılarak toplam 68 TL kâr elde edilmiştir.

Buna göre, bu kitabın eskisinin satış fiyatı kaç TL'dir?

- A) 24 B) 27 C) 33 D) 36 E) 39

49.



Bir kenar uzunluğu 100 metre olan kare biçimindeki koşu parkurunun A köşesinde bulunan Aysun ve B köşesinde bulunan Bahar, parkur etrafında koşu yapacaktır.

Aysun ve Bahar sabit hızlarla aynı anda birbirlerine doğru AB kenarı üzerinde koşmaya başlıyor. Aysun B noktasına ilk kez ulaştığı anda Bahar toplam 300 metre koşuyor.

Buna göre, Aysun ve Bahar'ın dördüncü kez karşılaştıkları noktanın A noktasına olan uzaklığı kaç metredir?

- A) 50 B) 75 C) 100 D) 125 E) 175

50. Oktay pazartesi günü menekşe, ertesi gün ise sardunya çiçeği almıştır. Menekşenin 4 günde bir, sardunyanın ise 3 günde bir sulanması gerekmektedir. Oktay her bir çiçeğin ilk sulamasını aldığı gün yapmıştır.

Buna göre, her iki çiçeğin de üçüncü defa aynı gün sulandığı gün hangisidir?

- A) Pazartesi B) Salı C) Çarşamba
D) Perşembe E) Cuma

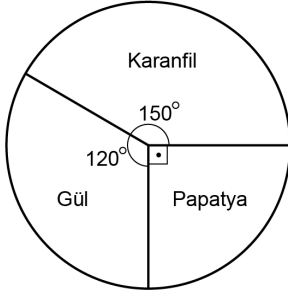
51. Bir tur firması, Antalya ve İzmir şehirlerinde bulunan otellerden birini rastgele seçmek isteyen Mehtap Hanım'a her iki şehirden de belirli sayıda otel öneriyor. Ancak, İzmir şehriden önerilen 6 otelin kapasitesi dolu olduğu için firma, bu otellerin yerine Antalya şehriden 6 otel daha öneriyor. Bu değişim sonucunda, Mehtap Hanım'ın rastgele seçeceği otelin Antalya şehriden olma olasılığı $\frac{3}{16}$ artıyor.

Buna göre, tur firmasının Mehtap Hanım'a başlangıçta önerdiği otellerin toplam sayısı kaçtır?

- A) 24 B) 32 C) 36 D) 42 E) 48

52. - 53. soruları aşağıdaki bilgilere göre birbirinden bağımsız olarak cevaplayınız.

Yalnızca gül, karanfil ve papatya satan bir çiçekçideki çiçeklerin, başlangıçtaki sayılarına göre dağılımı aşağıdaki dairesel grafikte verilmiştir.



52. Çiçekçi güllerin yarısını ve karanfillerin beşte birini sattıktan sonra elinde toplam 81 çiçek kalmıştır.

Buna göre, başlangıçta çiçekçide toplam kaç tane çiçek vardır?

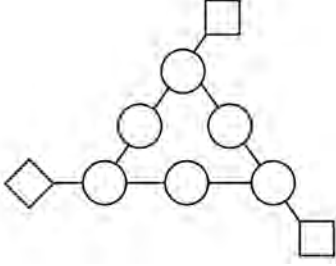
- A) 96 B) 102 C) 108 D) 120 E) 124

53. Çiçekçi başlangıçta elinde bulunan karanfillerin yarısını satıyor. Sonra bir miktar papatya satın alan çiçekçideki güllerin ve papatyaların sayısı birbirine eşit oluyor.

Son durumda elinde 420 çiçek bulunan çiçekçinin sonradan aldığı papatya sayısı kaçtır?

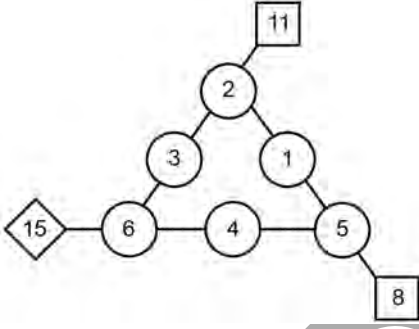
- A) 40 B) 45 C) 50 D) 55 E) 60

54. - 56. soruları aşağıdaki bilgilere göre birbirinden bağımsız olarak cevaplayınız.

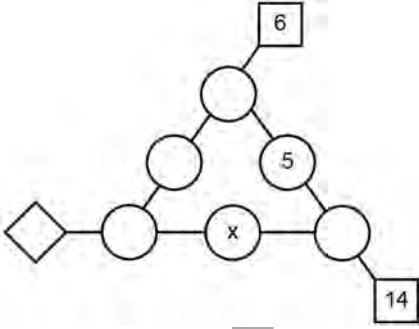


Yukarıdaki düzeneğin dairesel hücrelerine 1'den 6'ya kadar olan rakamlar, her hücrede farklı bir rakam olacak biçimde yerleştiriliyor. Sonra, her karenin içine o kare ile aynı doğrultuda bulunan üç dairesel hücredeki sayıların toplamı yazılıyor.

Örnek:



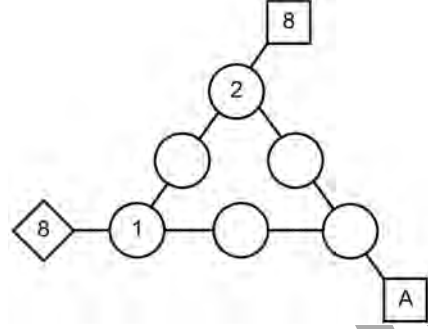
54.



Yukarıdaki düzenekte x kaçtır?

- A) 1 B) 2 C) 3 D) 4 E) 6

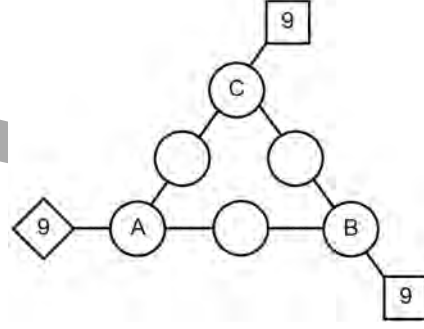
55.



Yukarıdaki düzenekte A'nın alabileceği değerler toplamı kaçtır?

- A) 18 B) 20 C) 21 D) 23 E) 24

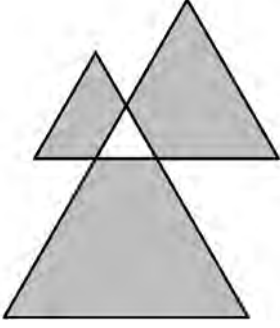
56.



Yukarıdaki düzenekte A + B + C toplamı kaçtır?

- A) 6 B) 7 C) 9 D) 10 E) 12

57.

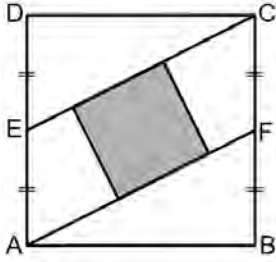


Yukarıdaki şekil dört eşkenar üçgenden oluşmaktadır. Bu eşkenar üçgenlerin kenar uzunlukları ardışık tam sayılardır.

En küçük eşkenar üçgenin bir kenar uzunluğu 1 birim olduğuna göre, boyalı bölgelerin çevreleri toplamı kaç birimdir?

- A) 18 B) 20 C) 22 D) 24 E) 26

58.

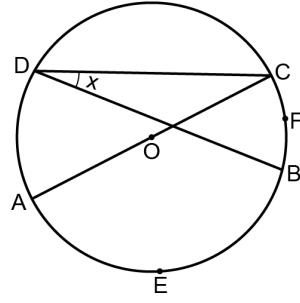


Şekildeki ABCD karesinde E ve F noktaları buldukları kenarların orta noktalarıdır. İki kenarı AF ve EC doğruları üzerinde bulunan bir kare şeklindeki gibi boyanmıştır.

Buna göre, boyalı bölgenin alanının ABCD karesinin alanına oranı kaçtır?

- A) $\frac{1}{5}$ B) $\frac{1}{6}$ C) $\frac{1}{7}$ D) $\frac{1}{8}$ E) $\frac{1}{9}$

59.



[AC] çaplı çember
 $m(\widehat{BDC}) = x$

Yukarıdaki şekilde D noktası çember üzerinde ve AEB yayının ölçüsü, BFC yayının ölçüsünün 4 katıdır.

Buna göre, x kaç derecedir?

- A) 15 B) 18 C) 20 D) 24 E) 30

60. Dik koordinat düzleminde, $P(0, 4)$ noktasında dik kesişen iki doğrudan birinin x-eksenini kestiği noktanın orijine olan uzaklığı, diğerinin x-eksenini kestiği noktanın orijine olan uzaklığının iki katıdır.

Buna göre, bu doğrular ile x-ekseni arasında kalan sınırlı bölgenin alanı kaç birimkaredir?

- A) $8\sqrt{2}$ B) $12\sqrt{2}$ C) $16\sqrt{2}$ D) $18\sqrt{2}$ E) $20\sqrt{2}$

1. Bu testte 60 soru vardır.

2. Cevaplarınızı, cevap kâğıdının Genel Kültür Testi için ayrılan kısmına işaretleyiniz.

1. İslamiyet öncesi Türk devletlerinin yönetim anlayışıyla ilgili olarak aşağıdakilerden hangisi **söylenemez**?

- A) Hükümdar olma hakkı, hanedanın erkek üyelerine aittir.
- B) Hükümdar olma yetkisinin tanrısal olduğu inancı vardır.
- C) Ülke, ikili teşkilatla yönetilmiştir.
- D) Ülke yönetimi ile ilgili kararlar, kurultayda alınır.
- E) Hanedanın hükümdar olacak üyesi önceden belirlenir.

2. Selçukluların, Türk-İslam mimarisine kazandırdığı yapı aşağıdakilerden hangisidir?

- A) Otağ
- B) Ribat
- C) Şadırvan
- D) Cami
- E) Kümbet

3. Türk-İslam devletlerinde gelirleri; bilim, eğitim, sağlık gibi alanlardaki kurumların yapım ve onarımı ile görevlilerinin maaşlarının ödenmesi için ayrılan arazilere verilen ad aşağıdakilerden hangisidir?

- A) Has arazi
- B) İкта arazi
- C) Mülk arazi
- D) Vakıf arazi
- E) Mirî arazi

4. Aşağıdakilerden hangisinin, Balkanlardaki ahalinin Osmanlı yönetimini kolay kabullenmesinin nedenlerinden biri olduğu **söylenemez**?

- A) Osmanlı vergi düzeninin esnekliği
- B) Gayrimüslimlerin avarızdan muaf tutulması
- C) Eski yöneticilerin Osmanlı sistemi içine alınması
- D) Yerleşik ahalinin âdetlerinin dikkate alınması
- E) İslamiyetin, Hristiyanlara zimmi statüsünü tanınması

5. Aşağıdakilerden hangisi Osmanlı Devleti'nde fethedilen topraklar üzerinde timar sisteminin uygulanma nedenlerinden biri **değildir**?

- A) Fetih hareketlerini hızlandırmak
- B) Merkezî yönetimi güçlendirmek
- C) Hassa ordusu oluşturmak
- D) Aynı vergileri doğrudan tahsil etmek
- E) Taşra yönetimini yeniden yapılandırmak

6. XVI. yüzyılın sonlarından itibaren girilen yoğun savaş döneminde, Celâli isyanlarının da etkisiyle Osmanlı ekonomisinde bazı sorunlar yaşanmış ve bütçe açıkları ortaya çıkmıştır.

Aşağıdakilerden hangisinin bu durumla ilgili bir gelişme olduğu söylenemez?

- A) Köylerin boşalmasının
B) Yüksek fiyat artışları yaşanmasının
C) Akçenin değerinin düşmesinin
D) Tımarlıların sayısının artmasının
E) Ulufelilerin gerçek gelirinin azalmasının

7. Aşağıdakilerden hangisi, Osmanlı maliyesinde vergilerin şeri ve örfi olarak ayrılmasının sebeplerinden biridir?

- A) Vergi oranlarının bölgeden bölgeye değişmesi
B) Esnaf ve zanaat üretim alanlarının çok çeşitli olması
C) Hukuk sisteminde ikili bir yapının bulunması
D) Gayrimüslimlerin çift resmi yerine ispençe ödemesi
E) Devletin vergi toplama şeklinin zamanla değişmesi

8. Osmanlı Devleti'nde Karahisarlı Ahmet, Hafız Osman ve Şeyh Hamdullah'ın önde gelen temsilcileri olduğu; kûfi, nesih, sülûs ve ta'lik gibi çeşitleri bulunan Türk-İslam sanatı aşağıdakilerden hangisidir?

- A) Hat
B) Ebru
C) Tezhip
D) Minyatür
E) Çini

9. III. Selim Dönemi'nde aşağıdaki alanların hangisinde islahat yapıldığı söylenemez?

- A) Ordu
B) Eğitim
C) Diplomasi
D) İdare
E) Din

10. 1838'de İngiltere ile imzalanan Baltalimanı Ticaret Antlaşması ile Osmanlı Devleti ülke içinde fiyatları kontrol etmek için kullandığı tekel sistemini kaldırdı ve yabancı tüccarların Osmanlı sınırları içinde ticaret yapması serbest bırakıldı. Bununla birlikte İngiliz tacirlere, Osmanlı topraklarında yaptıkları ticarete yerli tacirlerle aynı vergileri ödeme yükümlülüğü getirildi. Ayrıca bu tüccarlara yün, pamuk, ipek, hububat gibi ihracı yasak ya da izne tabi Osmanlı ürünlerini serbestçe ihraç etme hakkı tanındı.

Bu antlaşmanın Osmanlı ekonomisi üzerindeki etkileriyle ilgili olarak aşağıdakilerden hangisi söylenemez?

- A) Kapitülasyonların kapsamı genişletilmiştir.
B) Osmanlı ülkesi açık pazar durumuna gelmiştir.
C) Osmanlı Devleti'nde yerli sanayi olumsuz etkilenmiştir.
D) Osmanlı ülkesinden ham madde çıkışı kolaylaşmıştır.
E) Tarımsal üretimde düşüş yaşanmıştır.

11. Osmanlı modernleşme sürecinde ortaya çıkan düşünce akımları ve temsilcileriyle ilgili aşağıdaki eşleştirmelerden hangisi yanlıştır?

- A) Batıcılık - Sait Halim Paşa
- B) Osmanlıcılık - Namık Kemal
- C) Türkçülük - Ziya Gökalp
- D) Batıcılık - Abdullah Cevdet
- E) Türkçülük - Yusuf Akçura

12. Osmanlı Devleti'nde Kanunuesasi'nin kabulüyle;

- I. parlamentolu sisteme geçilmesi,
- II. tebaanın tüm unsurlarının mecliste temsil edilmesi,
- III. padişahın yürütme yetkisinin sona ermesi

gelişmelerinden hangileri yaşanmıştır?

- A) Yalnız I
- B) I ve II
- C) I ve III
- D) II ve III
- E) I, II ve III

13. Birinci Dünya Savaşı sırasında Osmanlı Devleti tarafından 27 Mayıs 1915'te çıkarılan Sevk ve İskân Kanunu ile aşağıdakilerden hangisi amaçlanmıştır?

- A) Osmanlı ülkesinde güvenliğin sağlanması
- B) Vilayet sınırlarının yeniden belirlenmesi
- C) Doğudaki aşiretler arasındaki anlaşmazlıkların giderilmesi
- D) Orduya asker alımının düzenlenmesi
- E) Olası doğal afetler için tedbir alınması

14. Mustafa Kemal Paşa, "Osmanlı Devleti bu mütareke ile kendisini kayıtsız ve şartsız düşmanlara teslim etmeye razı olmuştu." ifadesini aşağıdakilerden hangisi için kullanmıştır?

- A) Mudanya Anlaşması
- B) Montrö Sözleşmesi
- C) Mondros Anlaşması
- D) Londra Ön Barışı
- E) Selanik Anlaşması

15. Temuçin Öğretmen; "Kuvayımiliye birlikleri, tüm çabalara rağmen askerî bir disiplin ve hiyerarşi içine sokulamamıştır. Bu birlikler düşmana zarar vermiş, ama ilerlemesini durduramamıştır. Her Kuvayımiliye birliği, kendi şefinin emrini dinlemiş, yakaladıkları asileri kendi yöntemleriyle cezalandırmış ve son zamanlarda halktan bazen zorla malzeme alma yoluna gitmiştir. Dolayısıyla devlet düzeni içinde bu tür davranışlar asla hoş görülmemiştir." demiştir.

Bu bilgiyi veren Temuçin Öğretmen, öğrencilerine aşağıdaki konulardan hangisini anlatmaktadır?

- A) Kuvayımiliyenin oluşturulma sürecini
- B) Heyet-i Temsiliyenin Ankara'ya gelmesini
- C) Mondros Anlaşması sonrası işgalleri
- D) Kongrelerin toplanmasını
- E) Düzenli ordunun kurulmasının sebeplerini

16. 1919 yılında Türkiye'ye gelen ve Sivas'ta Mustafa Kemal Paşa ile görüşme yapan General Harbord, aşağıdaki konulardan hangisinde araştırma yapmak üzere gönderilmiştir?

- A) Boğazlar sorunu B) Yunan işgali
C) Manda konusu D) Kapitülasyonlar
E) Musul petroleri

17. İstiklal Mahkemelerinin amacı, millî birliğin, huzurun ve güvenliğin tesisini sağlamaktır. Üyeleri Meclis tarafından, milletvekilleri arasından seçilen mahkemelere olağanüstü yetkiler tanınmıştır. Kararları teyiz edilemeyen bu mahkemeler, Millî Mücadele'nin başarıya ulaşmasında ve inkılapların uygulanmasında etkili olmuşlardır.

Bu bilgiyle İstiklal Mahkemeleri ile ilgili olarak aşağıdakilerden hangisine ulaşamaz?

- A) TBMM'nin yargı gücünü kullanmasını sağlamışlardır.
B) TBMM'ye karşı çıkan isyanların bastırılmasında etkili olmuşlardır.
C) Faaliyetleri Millî Mücadele Dönemi'yle sınırlı kalmıştır.
D) Gerektiği hâllerde kurularak yargılama yapmışlardır.
E) Kararları kesin olup, derhâl uygulanmıştır.

18. Millî Mücadele Dönemi'nde gerçekleşen ve Mustafa Kemal Paşa'nın daha sonra "Rum Sındığı" olarak da adlandırdığı savaş, aşağıdakilerden hangisidir?

- A) Birinci İnönü Muharebesi
B) İkinci İnönü Muharebesi
C) Kütahya-Eskişehir Muharebesi
D) Sakarya Meydan Muharebesi
E) Başkomutan Meydan Muharebesi

19. Lozan Konferansı sırasında ve görüşmelere ara verildiği dönemde, TBMM'de muhalefeti oluşturan ikinci grubun yoğun eleştirileri, aşağıdakilerden hangisinin gerçekleşmesinde etkili olmuştur?

- A) Takrir-i Sükûn Kanunu'nun çıkarılması
B) Milletvekili seçimleri için karar alınması
C) Başkomutanlık yetkisinin uzatılması
D) Felah-ı Vatan Grubu'nun kurulması
E) Hıyanet-i Vataniye Kanunu'nun yürürlüğe girmesi

20. Aşağıdakilerden hangisi saltanat ve hilafetin kaldırılmasının ortak nedenlerinden biridir?

- A) Rejimin cumhuriyet olmasını sağlamak
B) TBMM'yi egemenliği kullanan tek güç hâline getirmek
C) Dış müdahalelerin önüne geçmek
D) Meclisteki muhalif ikinci grubun gücünü kırmak
E) Lozan Konferansı'ndaki temsil kargaşasını önlemek

21. Aşağıdaki kurumlardan hangisi, Atatürk Dönemi'nde açılmıştır?

- A) Darülfünun
- B) Mülkiye Mektebi
- C) Türk Ocakları
- D) Ankara Hukuk Mektebi
- E) Sanayi-i Nefise Mektebi

22. 19 Nisan 1926 tarihli Kabotaj Kanunu'yla aşağıdakilerden hangisi düzenlenmiştir?

- A) Âşar vergisi
- B) Toprak reformu
- C) Millî bankacılık
- D) Deniz ticareti
- E) Planlı sanayi

23. 1929 Dünya Ekonomik Krizi'nin etkisiyle ortaya çıkan otarşi (kendine yetme) eğiliminin Türkiye'de yansımaları olarak geliştirilen Atatürk ilkesi, aşağıdakilerden hangisidir?

- A) Devletçilik
- B) Laiklik
- C) Cumhuriyetçilik
- D) Milliyetçilik
- E) Halkçılık

24. Atatürk Dönemi'nde en uzun süre Dışişleri Bakanlığı görevinde bulunan ve Hatay sorununun çözümünde önemli katkı sağlayan devlet adamı aşağıdakilerden hangisidir?

- A) Tevfik Rüştü Aras
- B) Yusuf Kemal Tengirşenk
- C) Şükrü Kaya
- D) Mahmut Esat Bozkurt
- E) Ali Fethi Okyar

25. Yusuf, bir sahafta eski gazetelerin yer aldığı bölüme gitmiş ve eline aldığı bir gazetenin ilk sayfasında Bulgaristan'da toplanmış olan Alman kuvvetlerinin Yunanistan'a girerek işgale başladığı haberini okumuştur.

Gazetenin bu nüshasında yer alan haberin aşağıdaki savaşların hangisine ait olduğu söylenebilir?

- A) Birinci Balkan Savaşı
- B) İkinci Balkan Savaşı
- C) Trablusgarp Savaşı
- D) Birinci Dünya Savaşı
- E) İkinci Dünya Savaşı

26. Aşağıdakilerden hangisi, 27 Mayıs 1960 Askerî Darbesi sonrasında kurulan, Genel Başkanlığını Ragıp Gümüşpala'nın üstlendiği ve Demokrat Partinin devamı niteliğinde olan siyasi partidir?

- A) Adalet Partisi
- B) Hürriyet Partisi
- C) Millet Partisi
- D) Millî Kalkınma Partisi
- E) Ahali Cumhuriyet Partisi

27. SSCB'nin yıkılmasından sonra Azerbaycan, Gürcistan ve Türkiye üzerinden bir enerji koridoru oluşturulmuştur.

Bu politikanın;

- I. Rusya'nın bölgedeki etkinliğini azaltmak,
- II. Türkiye'nin önemini artırmak,
- III. Bağımsız Devletler Topluluğunu güçlendirmek

amaçlarından hangilerini taşıdığı söylenebilir?

- A) Yalnız I
- B) I ve II
- C) I ve III
- D) II ve III
- E) I, II ve III

28.

- I. Ege Denizi'nin oluşması - İkinci Jeolojik Zaman
- II. Kuzey Anadolu ve Toros Dağlarının oluşması - Üçüncü Jeolojik Zaman
- III. İstanbul Boğazı'nın oluşması - Dördüncü Jeolojik Zaman

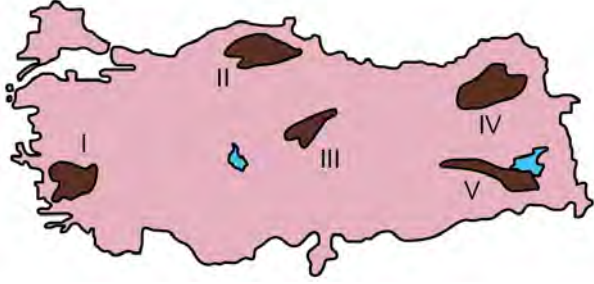
Türkiye'deki bazı coğrafi olayların meydana geldiği jeolojik zamanlarla ilgili yukarıdaki eşleştirmelerden hangileri doğrudur?

- A) Yalnız I
- B) Yalnız II
- C) Yalnız III
- D) I ve II
- E) II ve III

29. Aşağıdaki coğrafi koordinatlardan hangisi Türkiye sınırları içinde kalmaktadır?

- A) 28° Doğu 35° Kuzey
- B) 40° Doğu 30° Kuzey
- C) 38° Doğu 28° Kuzey
- D) 36° Doğu 38° Kuzey
- E) 26° Doğu 45° Kuzey

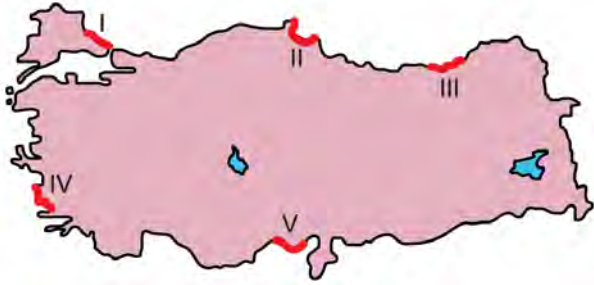
30.



Yukarıdaki haritada numaralandırılarak koyu renkle gösterilen yerlerden hangisi masif arazilerin bulunduğu alanlardan biri değildir?

- A) I B) II C) III D) IV E) V

31.



Yukarıdaki haritada numaralandırılarak ve kırmızı renkle gösterilen kıyı hatlarının hangisinde kıyı kumulları daha az görülmektedir?

- A) I B) II C) III D) IV E) V

32. Türkiye'nin endemik bitki türleri bakımından zengin olmasında,

- I. geçmiş küresel iklim değişimleri,
- II. Kuzey Yarım Küre'de yer alması,
- III. yeryüzü şekilleri,
- IV. doğu boylamlarında yer alması

özelliklerinden hangileri etkili olmuştur?

- A) I ve II B) I ve III C) II ve III
D) II ve IV E) III ve IV

33. Yaklaşık olarak aynı enlemlerde yer almasına karşın yaz mevsiminde Şanlıurfa'nın Mersin'e göre daha sıcak olmasında aşağıdakilerden hangisinin etkisi yoktur?

- A) Yükseltinin
B) Karasallığın
C) Nem oranının düşük olmasının
D) Basra Alçak Basıncı'nın
E) Güneyden esen rüzgârların

34. Aşağıdakilerden hangisi, Anadolu'nun iç kısımlarından kaynağını alarak kuzey veya güneydeki sıradağları aşan akarsulardan biri değildir?

- A) Kızılırmak
- B) Fırat Irmağı
- C) Seyhan Nehri
- D) Sakarya Irmağı
- E) Dalaman Çayı

35. Türkiye, 557 sayılı Nüfus Planlaması Kanunu'yla birlikte nüfus politikalarının netleştiği bir döneme girmiştir. Bu dönemin en belirgin özelliği, o döneme kadar benimsenen nüfusun artması yönündeki görüşlerin terk edilerek "bireylerin istediği sayıda ve istediği zaman çocuk sahibi olmaları" gerektiğiyle ilgili görüşlerin ağırlık kazanmasıdır.

Nüfus politikalarıyla ilgili önemli bir değişimin yaşandığı bu dönem, aşağıdakilerden hangisidir?

- A) 1923-1965 dönemi
- B) 1965-1980 dönemi
- C) 1980-2005 dönemi
- D) 2005-2014 dönemi
- E) 2014 sonrası dönem

36. Aşağıdakilerden hangisi Türkiye'de kırdan kente yapılan göçlerde doğrudan etkili olan faktörlerden biri değildir?

- A) Ekonomik yetersizlikler
- B) Kamulaştırma işlemleri
- C) Doğal afetler
- D) Sosyal yetersizlikler
- E) Arazi toplulaştırması

37. Türkiye'nin yazları sıcak ve bunaltıcı geçen yörelerinde sayfiye veya dinlenme amaçlı yaylacılık faaliyeti giderek önem kazanmaktadır.

Bu tür yaylalar aşağıdaki yörelerin hangisinde daha fazla bulunur?

- A) Aydın Dağları
- B) Orta Toroslar
- C) Iğaz Dağları
- D) Güneydoğu Toroslar
- E) Yıldız Dağları

38. Türkiye'nin en büyük bölgesel kalkınma planlarından biri olan Güneydoğu Anadolu Projesi kapsamında önemli enerji yatırımları yapılmıştır.

Aşağıdakilerden hangisi bu proje kapsamındaki hidroelektrik santrallerinden biri değildir?

- A) Atatürk
- B) Ilısu
- C) Deriner
- D) Birecik
- E) Karkamış

39. Türkiye'de iklim ve bitki örtüsü çeşitliliği aşağıdaki ekonomik faaliyetlerden hangisinin gelişmesine daha fazla katkı sağlamıştır?

- A) Arıcılık B) İpek böcekçiliği
C) Besi hayvancılığı D) Kümes hayvancılığı
E) Balıkçılık

40. Aşağıdaki illerin hangisinde sanayi diğerlerine göre daha az gelişmiştir?

- A) İstanbul B) İzmir C) Bursa
D) Kocaeli E) Samsun

41. Türkiye'de aşağıdaki fosil enerji kaynaklarından hangisinin bilinen toplam rezervi diğerlerinden daha azdır?

- A) Petrol B) Doğal gaz
C) Asfaltit D) Linyit
E) Taş kömürü

42. Aşağıdakilerden hangisi, Türkiye'de zeytin tarımının son yıllarda daha fazla gelişme göstermesinin nedenlerinden biri değildir?

- A) Zeytin üretim alanlarının genişlemesi
B) Zeytin bahçelerinin bakım koşullarının iyileştirilmesi
C) Zeytin ağacı sayısındaki artış
D) İç ve dış talepteki artış
E) Sulama olanaklarının gelişmesi

43. Türkiye'de aşağıdaki göllerden hangisi su ürünleri üretimi bakımından daha önemli bir paya sahiptir?

- A) Van B) Çıldır C) Eğirdir
D) Abant E) Sapanca

44. Aşağıda, Türkiye'de yer alan bir millî parkla ilgili bazı özellikler verilmiştir.

- Türkiye Cumhuriyeti'nin ilk millî parkıdır.
- Geçmişte Anadolu'nun ormanlarla kaplı olduğunun bir kanıtıdır.
- Park alanı genellikle karaçam, ardıç ve meşe gibi ağaçlardan oluşur.

Bu özellikler aşağıdaki millî parklardan hangisine aittir?

- A) Yozgat Çamlığı Millî Parkı
B) Soğuksu Millî Parkı
C) Ilgaz Dağı Millî Parkı
D) Boğazköy-Alacahöyük Millî Parkı
E) Küre Dağları Millî Parkı

45.



Türkiye'nin yeryüzü şekilleri ve yükselti özellikleri dikkate alındığında yukarıdaki haritada numaralandırılarak verilen doğrultuların hangisinde kara yolu ve demir yolu ulaşım maliyetlerinin daha fazla olması beklenir?

- A) I ve II B) I ve V C) II ve III
D) III ve IV E) IV ve V

46. 1982 Anayasası'na göre bakanlar hakkında, görevleriyle ilgili bir suç işledikleri iddiasıyla Yüce Divana sevk kararı alma yetkisi aşağıdakilerin hangisine aittir?

- A) Cumhurbaşkanı
B) Türkiye Büyük Millet Meclisi
C) Anayasa Mahkemesi
D) Yargıtay Cumhuriyet Başsavcılığı
E) Yargıtay Ceza Genel Kurulu

47. 1982 Anayasası'na göre Millî Güvenlik Kurulunun gündemi, ilgililerin önerileri dikkate alınarak aşağıdakilerin hangisi tarafından düzenlenir?

- A) İçişleri bakanı
B) Genelkurmay başkanı
C) Millî savunma bakanı
D) Cumhurbaşkanı
E) Millî Güvenlik Kurulu Genel Sekreterliği

48. Aşağıdakilerin hangisi 1982 Anayasası'nda koruma altına alınan inkılap kanunlarından biri değildir?

- A) Tevhidi Tedrisat Kanunu
B) Tekke ve Zaviyelerle Türbelerin Seddine ve Türbedarlıklar ile Birtakım Unvanların Men ve İlgasına Dair Kanun
C) Türk Harflerinin Kabul ve Tatbiki Hakkında Kanun
D) Şapka İktisası Hakkında Kanun
E) Yıpranan Tarihî ve Kültürel Taşınmaz Varlıkların Yenilenecek Korunması ve Yaşatılarak Kullanılması Hakkında Kanun

49. Memurların, amirlerinin vermiş olduğu emirleri yerine getirme zorunluluğunun istisnası 1982 Anayasası'nda hangi madde başlığı altında düzenlenmiştir?

- A) Merkezî idare
- B) Kanunsuz emir
- C) İdarenin bütünlüğü ve kamu tüzel kişiliği
- D) Suç ve cezalara ilişkin esaslar
- E) Yargı yolu

50. 5393 sayılı Belediye Kanunu'na göre belediyelerle ilgili,

- I. İlçe merkezlerinde belediye kurulması zorunludur.
- II. Köylerde belediye kurulması zorunludur.
- III. Nüfusu 5.000 ve üzerinde olan yerleşim birimlerinde belediye kurulabilir.

ifadelerinden hangileri doğrudur?

- A) Yalnız I
- B) I ve II
- C) I ve III
- D) II ve III
- E) I, II ve III

51. 1982 Anayasası'na göre, merkezî yönetim bütçesi kapsamındaki kamu idareleri ile sosyal güvenlik kurumlarının bütün gelir ve giderleri ile mallarını Türkiye Büyük Millet Meclisi adına denetleme ve sorumluların hesap ve işlemlerini kesin hükme bağlama ve kanunlarla verilen inceleme, denetleme ve hükme bağlama işlerini yapma görevi aşağıdakilerden hangisine aittir?

- A) Devlet Denetleme Kurulu
- B) Anayasa Mahkemesi
- C) İçişleri Bakanlığı
- D) Sayıştay
- E) Danıştay

52. Ergin olma, 4721 sayılı Türk Medeni Kanunu'nda kural olarak aşağıdakilerin hangisiyle ilişkili kılınmıştır?

- A) Belli bir yaşı doldurma
- B) Ayırt etme gücüne sahip olma
- C) Kısıtlı olmama
- D) Hak ehliyetine sahip olma
- E) Sağ olarak tamamiyle doğma

53. Türkiye'de Cumhuriyet'in ilanından sonra kaç farklı anayasa yürürlüğe girmiştir?

- A) 1
- B) 2
- C) 3
- D) 4
- E) 5

54. Bir kimsenin, durumun gereklerine göre kendisinden beklenen özeni göstermesine rağmen bir hakkın kazanılmasına veya hukuki sonucun doğmasına ilişkin engelin farkında olmamasıdır.

Bu ifadeyle açıklanan kavram aşağıdakilerden hangisidir?

- A) Fiil ehliyeti
- B) Hakkın kötüye kullanılması
- C) Kanuna karşı hile
- D) Muvazaa
- E) İyi niyet

55. Ankara'nın önemli tarihî mekânlarından biri olan ve Mehmet Akif Ersoy'un *İstiklal Marşı*'ni yazmış olduğu yer aşağıdakilerden hangisidir?

- A) Zağfiran Han
- B) Tâceddin Dergâhı
- C) İbadullah Camii
- D) Hacı Bayram Veli Türbesi
- E) Ahi Şerafettin Türbesi

56. "Olmak ya da olmamak, işte bütün mesele bu." sözüyle tanınan, *Hamlet* oyununun yazarı İngiliz edebiyatçı aşağıdakilerden hangisidir?

- A) George Eliot
- B) Thomas More
- C) William Shakespeare
- D) Charles Dickens
- E) Daniel Defoe

57. Anadolu'da, kış mevsiminden sonra doğanın canlanması ile bolluk ve bereket beklentisinin simgesi olarak her yıl mayıs ayında kutlanan ve UNESCO tarafından 2017'de İnsanlığın Somut Olmayan Kültürel Mirasının Temsili Listesi'ne kaydedilen gün aşağıdakilerden hangisidir?

- A) Savaş Bayramı
- B) Etik Günü
- C) Aşure Günü
- D) Hıdırellez
- E) Nevruz

58. Aşağıdakilerden hangisi, Türk Dili Konuşan Ülkeler İşbirliği Konseyinin kurucu üyelerinden biri değildir?

- A) Kazakistan
- B) Azerbaycan
- C) Türkiye
- D) Kırgızistan
- E) Özbekistan

59. 1998 yılında Atatürk Uluslararası Barış Ödülü'ne layık görülen, özellikle Orta Doğu tarihi üzerine çalışmalarıyla tanınan ve 2018 yılının Mayıs ayında hayatını kaybeden ünlü tarihçi aşağıdakilerden hangisidir?

- A) Bernard Lewis
- B) Arnold Joseph Toynbee
- C) Eric Hobsbawm
- D) Fernard Braudel
- E) Stanford Shaw

60. 2018 yılının Şubat ayından itibaren Nüfus ve Vatandaşlık İşleri Genel Müdürlüğü tarafından e-Devlet Kapısı üzerinden sunulmaya başlanan ve yoğun bir ilgi gören hizmet aşağıdakilerden hangisidir?

- A) Adres değişikliği bildirimini
- B) Alt-üst soy bilgisi sorgulama
- C) Geçici kimlik belgesi sorgulama
- D) Nüfus kayıt örneği belgesi sorgulama
- E) Yerleşim yeri (ikametgâh) ve diğer adres belgesi sorgulama

SINAVDA UYULACAK KURALLAR

1. Sınav salonunda saate entegre kamera ile kayıt yapılıyor ise; kamera kayıtlarının incelenmesinden sonra sınav kurallarına uymadığı tespit edilen adayların sınavları ÖSYM Yönetim Kurulunca geçersiz sayılacaktır.
2. **Cep telefonu ile sınava girmek kesinlikle yasaktır.** Her türlü elektronik/mekanik cihazla ve çağrı cihazı, telsiz, fotoğraf makinesi vb. araçlarla; cep bilgisayarları, her türlü saat ile, kablosuz iletişim sağlayan bluetooth, kulaklık vb. her türlü bilgisayar özelliği bulunan cihazlarla; her türlü kesici ve delici alet, ateşli silah vb. teçhizatla; kalem, silgi, kalemtırtaş, müsvedde kâğıdı, defter, kitap, ders notu, sözlük, dergi, gazete vb. yayınlar, hesap makinesi, pergel, açıölçer, cetvel vb. araçlarla sınava girmek kesinlikle yasaktır. Sınava kolye, küpe, yüzük (alyans hariç), bilezik, broş, anahtar, anahtarlık, metal para gibi metal içerikli eşyalarla (basit başörtü iğnesi ve ince metal tokalı kemer hariç); plastik veya camdan yapılmış her türlü güneş gözlüğü ile (şeffaf/numaralı gözlük hariç), banka/kredi kartı, ulaşım kartı vb. kartlarla; yiyecek-içecek (şeffaf pet şişe içerisindeki su hariç) ve diğer tüketim maddeleri ile gelmeleri kesinlikle yasaktır. Bu tür eşya, araç-gereçlerle sınava girmiş adaylar mutlaka Salon Tutanağı'na yazılacak, bu adayların sınavı geçersiz sayılacaktır. **Ancak, ÖSYM Başkanlığı tarafından belirlenen Engelli ve Yedek Sınav Evrakı Yönetim Merkezi (YSYM) binalarında sınava girecek olan engelli adayların sınava giriş belgelerinde yazılı olan araç-gereçler, cihazlar vb. yukarıda belirtilen yasakların kapsamı dışında değerlendirilecektir.**
3. Bu sınav için verilen toplam cevaplama süresi **130 dakikadır (2 saat, 10 dakika)**. Sınav başladıktan sonra **ilk 100 ve son 15** dakika içinde adayın sınavdan çıkmasına kesinlikle izin verilmeyecektir. **Bu süreler dışında, cevaplama sınav bitmeden tamamlarsanız cevap kâğıdınızı ve soru kitapçığınızı salon görevlilerine teslim ederek salonu terk edebilirsiniz. Bildirilen sürele aykırı davranışlardan adayın kendisi sorumludur.**
4. **Sınav salonundan ayrılan aday, her ne sebeple olursa olsun, tekrar sınav salonuna alınmayacaktır.**
5. Sınav süresince görevlilerle konuşmak, görevlilere soru sormak yasaktır. Aynı şekilde görevlilerin de adaylarla yakından ve alçak sesle konuşmaları ayrıca adayların birbirinden kalem, silgi vb. şeyleri istemeleri kesinlikle yasaktır.
6. Sınav sırasında, görevlilerin her türlü uyarısına uymak zorundasınız. Sınavınızın geçerli sayılması, her şeyden önce, sınav kurallarına uymaya bağlıdır. Kurallara aykırı davranışta bulunanlar ve yapılacak uyarılara uymayanlar Salon Tutanağı'na yazılacak ve sınavları geçersiz sayılacaktır.
7. Sınav sırasında kopya çeken, çekmeye kalkışan, kopya veren, kopya çekilmesine yardım edenler Salon Tutanağı'na yazılacak ve bu adayların sınavları geçersiz sayılacaktır. Adayların test sorularına verdikleri cevapların dağılımları bilgi işlem yöntemleriyle incelenecek, bu incelemelerden elde edilen bulgular bireysel veya toplu olarak kopya çekildiğini gösterirse kopya eylemine katılan adayın/adayların sınavı geçersiz sayılacak ayrıca 2 yıl boyunca ÖSYM tarafından düzenlenen hiçbir sınavı başvuru yapamayacak ve sınava giremeyecektir. Sınav görevlileri bir salondaki sınavın, kurallara uygun biçimde yapılmadığını, toplu kopya girişiminde bulunulduğunu raporlarında bildirdiği takdirde, ÖSYM bu salonda sınava giren tüm adayların sınavını geçersiz sayabilir.
8. Cevap kâğıdında doldurmanız gereken alanlar bulunmaktadır. Bu alanları doldurunuz. Cevap kâğıdınızı başkaları tarafından görülmeyecek şekilde tutmanız gerekmektedir. Cevap kâğıdına yazılacak her türlü yazıda ve yapılacak bütün işaretlemelerde kurşun kalem kullanılacaktır. Sınav süresi bittiğinde cevapların cevap kâğıdına işaretlenmiş olması gerekir. Soru kitapçığına işaretlenen cevaplar geçerli değildir.
9. Soru kitapçığınızı alır almaz kapağında bulunan alanları doldurunuz. Size söylendiği zaman sayfaların eksik olup olmadığını, kitapçıkta basım hatalarının bulunup bulunmadığını ve soru kitapçığının her sayfasında basılı bulunan soru kitapçık numarasının, kitapçığın ön kapağında basılı soru kitapçık numarasıyla aynı olup olmadığını kontrol ediniz. Soru kitapçığının sayfası eksik veya basımı hatalıysa değiştirilmesi için salon başkanına başvurunuz. **Size verilen soru kitapçığının numarasını cevap kâğıdınızdaki "Soru Kitapçık Numarası" alanına yazınız ve kodlayınız. Cevap kâğıdınızdaki "Soru kitapçık numaramı doğru kodladım." kutucuğunu işaretleyiniz. Soru kitapçığı üzerinde yer alan Soru Kitapçık Numarasını doğru kodladığınızı beyan eden alanı imzalayınız.**
10. Sınav sonunda soru kitapçıkları toplanacak ve ÖSYM'de incelenecektir. Soru kitapçığının sayfalarını koparmayınız. Soru kitapçığının bir sayfası bile eksik çıkarsa sınavınız geçersiz sayılacaktır.
11. Cevap kâğıdına ve soru kitapçığına yazılması ve işaretlenmesi gereken bilgilerde bir eksiklik ve/veya yanlışlık olması hâlinde sınavınızın değerlendirilmesi mümkün değildir, bu husustaki özen yükümlülüğü ve sorumluluk size aittir.
12. Soru kitapçığının sayfalarındaki boş yerleri müsvedde için kullanabilirsiniz.
13. Soruları ve/veya bu sorulara verdiğiniz cevapları ayrı bir kâğıda yazıp bu kâğıdı dışarı çıkarmanız kesinlikle yasaktır.
14. **Sınav salonundan ayrılmadan önce, soru kitapçığınızı, cevap kâğıdınızı ve sınava giriş belgenizi salon görevlilerine eksiksiz olarak teslim ediniz. Bu konudaki sorumluluk size aittir.**
15. **Her testin cevaplarını cevap kâğıdındaki ilgili alana işaretlemeye dikkat ediniz.**
16. Sınav süresi salon görevlilerinin "SINAV BAŞLAMIŞTIR" ibaresiyle başlar, "SINAV BİTMİŞTİR" ibaresiyle sona erer.

Bu testlerin her hakkı saklıdır. Hangi amaçla olursa olsun, testlerin tamamının veya bir kısmının Merkezimizin yazılı izni olmadan kopya edilmesi, fotoğrafının çekilmesi, herhangi bir yolla çoğaltılması, yayımlanması ya da kullanılması yasaktır. Bu yasağa uymayanlar gerekli cezai sorumluluğu ve doğacak tüm mali külfeti peşinen kabullenmiş sayılır.

22-07-2018

GENEL YETENEK

1. A
2. D
3. B
4. D
5. B
6. A
7. E
8. A
9. C
10. A
11. B
12. E
13. D
14. D
15. C
16. C
17. B
18. A
19. B
20. E
21. E
22. C
23. E
24. C
25. B
26. C
27. D
28. D
29. E
30. A
31. E
32. E
33. E
34. B
35. D
36. E
37. C
38. C
39. E
40. A
41. C
42. C
43. A
44. D
45. D
46. C
47. E

GENEL YETENEK

48. D
49. B
50. A
51. B
52. C
53. A
54. D
55. D
56. A
57. D
58. A
59. B
60. B

GENEL KÜLTÜR

1. E
2. E
3. D
4. B
5. C
6. D
7. C
8. A
9. E
10. E
11. A
12. B
13. A
14. C
15. E
16. C
17. C
18. E
19. B
20. B
21. D
22. D
23. A
24. A
25. E
26. A
27. B
28. E
29. D
30. D
31. C
32. B
33. A
34. E
35. B
36. E
37. B
38. C
39. A
40. E
41. B
42. E
43. A
44. A
45. D
46. B
47. D

GENEL KÜLTÜR

48. E
49. B
50. C
51. D
52. A
53. C
54. E
55. B
56. C
57. D
58. E
59. A
60. B