



T.C. Ölçme, Seçme ve Yerleştirme Merkezi

**KAMU PERSONEL SEÇME SINAVI
A GRUBU VE ÖĞRETMENLİK**

**GENEL YETENEK TESTİ
GENEL KÜLTÜR TESTİ**

14 TEMMUZ 2019

Bu testlerin her hakkı saklıdır. Hangi amaçla olursa olsun, testlerin tamamının veya bir kısmının Merkezimizin yazılı izni olmadan kopya edilmesi, fotoğrafının çekilmesi, herhangi bir yolla çoğaltılması, yayımlanması ya da kullanılması yasaktır. Bu yasağa uymayanlar gerekli cezai sorumluluğu ve testlerin hazırlanmasındaki mali külfeti peşinen kabullenmiş sayılır.

AÇIKLAMA

1. Bu kitapçıkta toplam **120 soru** bulunmaktadır.
Genel Yetenek Testi: 60 soru
Genel Kültür Testi: 60 soru
2. Bu sınav için verilen cevaplama süresi **120 dakikadır (2 saat, 10 dakika)**.
3. Bu testler puanlanırken, her testteki doğru cevaplarınızın sayısından yanlış cevaplarınızın sayısının dörtte biri çıkarılacak ve kalan sayı o bölümle ilgili net puanınız olacaktır.
4. Kitapçığın sayfalarındaki boş yerleri müsvedde için kullanabilirsiniz.
5. Cevaplamaya istediğiniz sorudan başlayabilirsiniz. Bir soru ile ilgili cevabınızı cevap kağıdında o soru için ayrılmış olan yere işaretlemeyi unutmayınız.
6. Bu kitapçıkta yer alan her sorunun sadece bir doğru cevabı vardır. Cevap kağıdında bir soru için birden çok cevap yeri işaretlenmişse o soru yanlış cevaplanmış sayılacaktır. İşaretlediğiniz bir cevabı değiştirmek istediğinizde, silme işlemi çok iyi yapmanız gerektiğini unutmayınız.
7. Sınavda uyulacak kurallar bu kitapçığın arka kapağında belirtilmiştir.

1. Bu testte 60 soru vardır.

2. Cevaplarınızı, cevap kâğıdının Genel Yetenek Testi için ayrılan kısmına işaretleyiniz.

1. İnsan endişeliyken aynı yerden defalarca geçer ve hep başladığı noktaya döner, bu nedenle endişe ---- saplanıp kalmamıza neden olur. Analitik düşünme ise ---- ve değişim gerektirir. Bundan dolayı insan yaşamının amacı, endişeyi analitik düşünmeye dönüştürmek olmalıdır.

Bu parçada boş bırakılan yerlere sırasıyla aşağıdakilerden hangisi getirilmelidir?

- A) farklılık arayan bir zihniyete - yenilikçi bir ufuk
- B) sarsılmaz bir istikrara - geleceğe dönük bir irade
- C) yinelemeci bir mantığa - genellemeye yatkın bir bakış
- D) kendini tekrarlayan bir ruha - ilerici bir görüş
- E) umutsuz bir kısır döngüye - kuralcı bir yaklaşım

2. Boru döşemek mütevazı bir iş olduğu için üstün bir tesisatçılığı hor gören, fikir üretimi yüce bir faaliyet olduğu için bayağı bir felsefeyi hoş gören toplumlarda ne iyi tesisatçılık olur ne de iyi felsefe. Seckinliği çıktılarda aramak yerine girdilere sabitleyen böyle toplumların boruların da teorileri de su koyuverir.

Bu parçada altı çizili sözle anlatılmak istenen aşağıdakilerden hangisidir?

- A) Ortaya çıkan sonucun niteliğinden çok, mesleğin ve kişinin statüsünü önceleyen
- B) Farklı işlerin, farklı oranlarda zaman ve enerji gerektirdiğini görmezden gelen
- C) Bir faaliyetin gerçekleşmesi için gereken iş gücünü her şeyden önemli gören
- D) Üretilen işin kalitesinden ziyade yarattığı etkinin büyüklüğüne odaklanan
- E) İşin gerektirdiği çabayı değil, sonunda alınan takdir ve beğeniyi ön planda tutan

3. Farklı biçimdedir benim dönemeçlerim. Anlatış değişiklikleri... Nitekim bir on beş yıl kadar; duru, kolay anlaşılır bir şiir dili kullandım. Yaz Dönemi'nden, 1963'ten sonra ise şiirin farlarını kıstım biraz, karartma geceleri başladı az çok. Ama aydınlıkta da yarı karanlıkta da aynı eşyalar, aynı kişiler ve aynı orta hâlli vatandaşın yaşama savaşları görülüyor, seçiliyordu.

Bu parçada altı çizili sözle anlatılmak istenen aşağıdakilerden hangisidir?

- A) Yaz Dönemi eserinden sonra biçimde yapıldığı değişiklikleri giderek azalttığı
 - B) Şiirinde artık olumlu duygu ve düşünceleri yansıtmaktan vazgeçtiği
 - C) 1963'ten sonra yazdığı şiirlerin, kendisini yeterince tatmin etmediği
 - D) Belli bir tarihten itibaren anlamca daha kapalı bir şiire geçtiği
 - E) Şiirinde içerik aynı kalmakla birlikte biçimde değişiklikler yaptığı
- Gerçek anlamda yaratıcı bir ressam için gül resmi yapmaktan daha zor bir şey yoktur çünkü şimdiye değin diğer ressamlarca resmedilmiş tüm gülleri unutmaları gerekir.

Bu cümleye göre yaratıcı ressamın işini zorlaştıran, aşağıdakilerden hangisidir?

- A) Gerçeklik ile hayal gücünün çatışması
- B) Başyapıtları taklit etmenin kaçınılmazlığı
- C) Etkilenme endişesi ve özgünlük arayışı
- D) Kendini aşma ve yenileme arzusu
- E) Beğenilme ve dikkat çekme kaygısı

5. Aşağıdaki cümlelerin hangisinde büyük harflerin yazımı ile ilgili yanlışlık yapılmıştır?

- A) 40 yıl önce yayımlanan ve güncelliğini hâlâ koruyan *Türk Düşününde Batı Sorunu* adlı eser yeni baskısıyla okurun karşısında.
- B) Tarih yazılarında akademik yetkinliğinin yanı sıra güçlü üslubuyla da öne çıkan Profesör İlber Ortaylı, bu kitaptaki kadınlara Osmanlıdaki varlık sahasını tartışıyor.
- C) Sokağın yüzlerini; söz gelimi esnafı, arzuhâlcii ustalıklarla birer kahramana dönüştüren yazara, Vali tarafından bir plaket verildi.
- D) Antik Yunan'da Tanrılar ve dönemin sıradan insanları arasında yaşananlar, sonraki çağlarda bilimden sanata pek çok alana ilham kaynağı olmuştur.
- E) Bu kitap, Deli Ozan takma adıyla da bilinen Fazıl Hüsnü Dağlarca'nın daha önce yayımlanmamış şiirlerini bir araya getiriyor.

6. Yusuf güzel bir çocuk, Kenan'ın Yusuf'u. Naz uykularındaydı. Güzelim, göz kapaklarının arkasında rüyası vardı. Yusuf'un rüyasında güneş vardı, ay vardı. Yusuf'un rüyasında tam on bir yıldız vardı. Berrak gökyüzü ve parlak yıldızlar, elini uzatsa dokunabileceği kadar yakınındaydı. Güneş ve ay birbirinin ışığını söndürmemekte, on bir yıldız başının üzerinde titremekteydi.

Bu parçadaki numaralanmış virgüllerden hangisinin kullanımında yanlışlık yapılmıştır?

- A) I B) II C) III D) IV E) V

7. Desem ki vakitlerden bir nisan akşamıdır,
Rüzgârların en ferahlatıcısı senden esiyor,
Sende seyrediyorum denizlerin en mavisini,
Ormanların en kuytusunu sende gezmekteyim.

Ben sende yaşıyorum,
Sen bende hüküm sürmektесin.
Bırak ben söyleyeyim güzelliğini,
Rüzgârlarla, nehirlere, kuşlarla beraber.

Bu dizelerde aşağıdaki ses olaylarından hangisi yoktur?

- A) Ünlü düşmesi B) Ünsüz yumuşaması
C) Ünsüz benzeşmesi D) Ünlü daralması
E) Ünsüz düşmesi

8. (I) Gıdaların paketlenme ve saklanma koşulları özellikle yaz aylarında dikkat edilmesi gereken bir husustur. (II) Tükettiğimiz paketli gıdalarda oluşan bazı bakteriler, çeşitli hastalıklara sebep olmaktadır. (III) Konunun önemi üzerine bilim insanları, bu sorunun çözümüne katkı sağlayabilmek amacıyla bir sensör geliştirdi. (IV) Bakteri tespit etme sensörü, insanlarda birçok hastalığın oluşmasına neden olan *Escherichia coli* bakterisini belirlediğinde ışık yayıyor. (V) Gıda ambalajlarının içine yerleştirilen sensör sayesinde tüketiciler, gıda ürünlerine temas etmeden bakterilerin varlığından haberdar olabilecekler.

Bu parçadaki numaralanmış cümlelerden hangisinin öznesi sıfat tamlamasından oluşmaktadır?

- A) I B) II C) III D) IV E) V

9. Belli belirsiz görünen ^I ağırtı, gecenin içinde bir ada gibi yüzüyor. Baktıkça ^{II} yukarıda bu koyu karanlıkta bile ton değiştirmeleri ^{III} ile düzensiz çizgiler oluşturan tepeler, tepelerde de gölgeler hâlinde evler beliriyor. Hiç yaşamadığım ^{IV} bu yerin donuk görüntüsünde, bir ana yurdun silik anısı gömülü. Sabırsızca oradan oraya çarpan kanatlarıyla, doğan günün ışıkları dağıtacak ^V karşımdaki bu buzdan perdeyi.

Bu parçadaki numaralanmış sözcüklerden hangisi fiilimsi değildir?

- A) I B) II C) III D) IV E) V

10. Büyük Patlama Kuramı'na göre evrenin oluşumunun erken dönemlerinde sıcaklıklar, atom çekirdeklerinin birleşmesini sağlayacak kadar yüksekti. Bu durum hafif elementlerin oluşumuna zemin hazırladı.

Bu parçadaki sözcüklerle ilgili aşağıdakilerden hangisi yanlıştır?

- A) "Kuramı'na" sözcüğünde birden fazla çekim eki kullanılmıştır.
 B) "oluşumunun" sözcüğünde fiilden isim türeten yapım eki kullanılmıştır.
 C) "sıcaklıklar" sözcüğünde yapım eki ile çekim eki bir arada kullanılmıştır.
 D) "birleşmesini" sözcüğünde birden fazla yapım eki kullanılmıştır.
 E) "hazırladı" sözcüğünde fiilden fiil türeten yapım eki kullanılmıştır.

11. Sabah olmuştu. Kapının aralığından ^I bembeyaz ışık ^{II} çizgileri parlıyordu. O hiç böyle dalıp kalmazdı, güneş doğmadan uyanırdı. ^{III} Doğrudu, musandıradan atladı. Ayakkabılarını giymeden yürüdü. Hızla sürmevi ^{IV} Birdenbire açılan kapıdan dükkanı ^V dolduran aydınlığın içinde, buyukları ^V yeni terlemiş delikanlıyı gördü.

Bu parçadaki numaralanmış sözcüklerden hangisi kökü bakımından diğerlerinden farklıdır?

- A) I B) II C) III D) IV E) V

12. Eski evler, şimdiki apartmanlar gibi insanları doğadan ayırmazdı. Eve bahçeden geçip, bahçeyi sulamak için bir kuyudan su çekilir, çiçekler bahçeden evlere girer, lavanta çiçekleri temizliği duyuran kokularını yataklara dökerti. İnsanlar ne tatlıları zevkleri değiştiren mevsimleri ne de sevdikleri hayvanları düşünmemezlik ederdi. Evlerin rahat köşelerinde kediler uyuklardı.

Bu parçanın anlatımında aşağıdakilerin hangisi yoktur?

- A) Karşılaştırma B) Kişileştirme C) Tanımlama
 D) Öyküleme E) Örneklendirme

13. (I) *Uykuların Doğusu* adlı romanıma başlarken kafamda sadece "İnsan gördüğü şeylerin toplamı kadar uyanık, görmediği şeylerin sonsuzluğu kadar uykudadır." cümlesi vardı. (II) Bir düşünceyi içeren bu cümlenin yanı sıra içimde bir roman yazma arzusu da vardı elbette. (III) Yazma arzusunun ne kadar güçlü olduğunu ancak onu içinde taşıyanların bilebileceğini düşünüyorum. (IV) Ne var ki her zaman olduğu gibi ben yazacağım romanda neleri, nasıl anlatacağımı bilmiyordum. (V) Pusulam yoktu açıkçası; haritam, planlarım, karakterlerim ve hikâyelerim yoktu. (VI) Bunlar, kesinlikle metnin içinde, metinle birlikte düşünüp oluşturacağım şeylerdi.

Bu parçadaki numaralanmış cümlelerden hangisi düşüncenin akışını bozmaktadır?

- A) II B) III C) IV D) V E) VI

14. I. Bugünkü takım elbiselerin atası sayılabilecek ilk örnekler, Batı Avrupa'da XVII. yüzyılda görülmeye başlanır.
II. Rengârenk pahalı kumaşlardan dikilen, değerli taşlarla süslenen takım elbiseler özellikle soylu sınıfın tercihleri arasına girer.
III. Ancak giderek yaygınlaşan Protestanlık fikri ve pratikleri; bu müsrif giyime, rüküşlüğe ve canlı renklere karşı bir savaş açar.
IV. Dönemin gerçekliğiyle de uyumlu olan bu yeni tarz, farklı coğrafyalarda yaşayan Protestanları ve Katolikleri ortak zevkte buluşturur ve kalıcı bir etki yaratır.
V. Alçak gönüllülük ve tövbekârlığın simgesi olarak siyah, gri ve beyaz gibi ölçülü renklerin hakim olduğu bir giyim modası, bu karşı çıkışın etkisiyle ortaya çıkar.

Bu parçada numaralanmış cümlelerin anlamlı bir bütün oluşturabilmesi için hangisinin birbiriyle yer değiştirmesi gerekir?

- A) I ve II B) I ve V C) II ve III
D) III ve IV E) IV ve V

15. (I) Hat, en kısa tanımıyla güzel yazı sanatıdır. (II) Hat sanatında harfler, farklı öğelerle bir araya getirilerek estetik şekillerde sunulur. (III) Genellikle dekoratif amaçlarla kullanılan bu sanat; Yunancada kaligrafi, Arapçada ise hüsnühat olarak adlandırılır. (IV) İfade edilen iki adlandırmada da "güzel" ve "yazı" kelimelerinin bir araya getirilmesi söz konusudur. (V) Hat sanatında tek bir formun varlığından söz etmek mümkün değildir. (VI) Zamanla sanatkârların maharetleri ve araştırmaları sonucu farklı yazı stilleri ortaya çıkar ki bu stiller genel anlamda "sitte" terimi ile karşılanır.

Bu parça iki paragrafa ayrılmak istense ikinci paragraf hangi cümleyle başlar?

- A) II B) III C) IV D) V E) VI

16. Yazmaya hevesli bir genç olarak ünlü yazarın evine vardığımda çok heyecanlıydım çünkü kitaplarına hayran olduğum bu yazarın söyleyeceği tek bir cümle bile benim için yol gösterici olacaktı. "Siz romanlarınızı yazarken en çok neye dikkat ediyorsunuz?" diye sordum ürkerek. Biraz düşündükten sonra: "Romanlarımdaki kişilerin bana benzememesine..." dedi ve sürdürdü konuşmasını: "Onlar kendilerine benzemeliler. Sözde her dediğime değil, onlara ait olmalı." dedi. Ünlü yazarla yaptığım bu konuşmayla romana ilişkin çok temel bir gerçeği kavramıştım. ----.

Bu parçanın sonuna düşüncenin akışına göre aşağıdakilerden hangisi getirilmelidir?

- A) İyi bir yazarın ürettiği karakterler, romancının kendisiyle ilgili gerçekleşmemiş olasılıkları yokladığı oranda başarılı oluyordu
B) Roman türünde sadece karakterleri üretmek değil, onlarla gerçek dünya arasında sağlam bağlar kurmak da önemliydi
C) Romancının yarattığı karakterlerin kendilerine has bir kişiliğe ve o kişiliği yansıtan bir söyleme sahip olmaları gerekiyordu
D) Romancının kendi kurmaca kişileriyle kurduğu ilişki, olayların nasıl gelişeceğini de önemli bir habercisiydi
E) Yazarın ürettiği kurgusal kimliklerin birbiriyle uyumlu olması, okur tarafından benimsenmesini de sağlıyordu

17. Japonya'da restoranlar ve kafeler, sunulan tüm yiyeceklerin üç boyutlu maketlerini vitrinlerinde sergiler. Vitrindeki maketler masanıza gelen yiyecek tabağının neredeyse aynısıdır. Tokyo'da bu maketlerin hazırlandığı ünlü bir sokak vardır. Her şeyin yemek ve yemek reklamı üzerine olduğu ama hiçbir şeyin yenilebilir olmadığı bu sokağı görünce Lyotard'ın "simulacra" olarak adlandırdığı postmodern dünya gerçekliğini daha iyi anlıyor insan. Gerçeğini unutturmuş kopyanın, yani reklamın, gerçeği yerinden ettiği bir dünyadayız artık. Yakında dünyada hiçbir şeye, hiçbir gerçekliğe yer kalmayacak; her yer söz konusu şeylerin reklamıyla dolacak.

Bu parçaya göre aşağıdakilerden hangisi "simulacra"yı tanımlar?

- A) Ürünün geliştirilmesinde kullanılması gereken bütçenin reklama ayrılması nedeniyle kalitesiz ürünleri pazarlamaya odaklanmış ticari bir dünya
- B) Maliyeti indirerek kâr oranını en yüksek düzeye çıkarmak için orijinal olmayan materyallerin kullanıldığı bir üretim anlayışı
- C) Nesnelerin asıl örneklerinden çok, kendileri hakkında üretilmiş reklamlara ve kopyalarına yer veren yapay bir ortam
- D) Artan talebi karşılarken doğal kaynakların sınırlılığıyla karşılaşan üreticilerin yapay olana yönelmesini zorunlu kılan bir tüketim çılgınlığı
- E) Sahte ve kalitesiz olan için talep yaratmaya çalışan pazarlama anlayışını görmezden gelen bir satış ahlakı

18. Etrafımdaki insanlar; yaşadıklarından, kurulu düzenlerinden, doğadan, işlerinden ve daha pek çok şeyden yakınıyor. Bense hiçbir şeyden memnun değilim. İklimden, toplumsal sorunlardan, içgüdülerden, neokorteksin 3 mm kalınlığında olmasından bile rahatsızım mesela. Hatta bu dünyadan kaçıp kafa dinlemeye Ay'a gidemediğim için mutsuzum. Üstüne üstlük pi gibi bazı sayıların sonsuza giden hanelerini bilmemekten ve hayatımda bu gibi net olmayan şeylerin varlığından memnun değilim. Bir onu deneyeyim, hadi bir de buna geçeyim derken aslında hiçbir şeyi tam olarak yapamadığım için de mutsuzum. Sanırım her şeyden çok tüm bu mutsuzluklarımı giderebilecek kararlılığı bir türlü gösteremediğim için kendime kızıyorum.

Bu parçanın yazarı için aşağıdakilerden hangisi söylenemez?

- A) Kimi isteklerinin gerçekleşmesinin imkansızlığından yakınmaktadır.
- B) Belirsizlik içeren durumlardan rahatsızlık duymaktadır.
- C) Çevresindekileri mutsuz eden durumları önemsiz görmektedir.
- D) Harekete geçmeyi sağlayan iradeyi gösteremediği için mutsuzdur.
- E) Tam bir başarı gösterememesinin nedeni maymun iştahı olmasıdır.

ÖSYM
Bu soruların telif hakları ÖSYM'ye aittir. Sorular ÖSYM'nin yazılı izni olmaksızın hiçbir kişi, kurum veya kuruluş tarafından kullanılamaz.

19. Geleneksel kültürlerde rüya ve rüya yorumu toplumsal bir olgudur. Antropolog Ellen Basso'nun kuramında belirttiği gibi, halka özgü rüya yorumları "ilericidir" yani geleceğe yöneliktir. Geleneksel kültürlerde rüyalar, bazen halk tıbbının bir parçası olarak karşımıza çıkar bazen de geleceği tahmin etmeye yarar. Göç, savaş, doğal afet gibi toplumun tüm bireylerini ilgilendiren önemli konular, bu toplumlarda rüyaların kılavuzluğunda değerlendirilir. Batı'nın "geriye dönük" rüya kuramında ise tam tersi bir durum söz konusudur. Bu yaklaşıma göre rüyalar, bir tür penceredir; bastırılmış isteklerimizi, kendimize özgü detayları ve evrensel insani niteliklerimizden kaynaklanan çatışmalarımızı görmeye yardımcı olur.

Bu parçadan hareketle rüya ile ilgili aşağıdakilerden hangisine ulaşamaz?

- A) Batı toplumlarında kutsiyetini ve önemini kaybettiğine
- B) Geleneksel toplumlarda kehanet işlevi taşıdığına
- C) Batı kültüründe psikolojik analiz için kullanıldığına
- D) Bazı kültürlerde iyileştirici bir görev üstlendiğine
- E) Geleneksel kültürlerde karar alma sürecinde rol oynadığına

20. - 21. soruları aşağıdaki parçaya göre cevaplayınız.

Orta Çağ İslam dünyası, Yunan uygarlıklarından gelen bilimsel mirası alıp geliştiren birçok bilim insanı yetiştirmiştir. Bu bilim insanlarının en seçkinlerinden biri Harezmi'dir. Aslında pek çok eseri olsa da elimizde tam metin olarak sadece altı çalışması bulunmaktadır. Astronomi ve coğrafya bilimlerine katkılarıyla tanınan Harezmi, asıl ününü matematik alanında yaptığı çalışmalarla kazanmıştır. Bugün cebir alanında kullanılan rakam sistemi, Harezmi tarafından dünyaya tanıtılmıştır. Ayrıca henüz sıfırın tam olarak kullanılmadığı bir dönemde "Çıkarma işleminde hiçbir şey kalmadığında, küçük bir yuvarlak yaz ki o yer boş kalmamış olsun. Çünkü bu küçük yuvarlak, bir konum işgal etmezse ikinci konum yanlışlıkla birinci konumun yerine geçer." diyerek sıfır rakamının işlevini açıklamıştır.

20. Bu parçadan hareketle Harezmi ile ilgili aşağıdakilerden hangisine ulaşılabilir?

- A) Yaşadığı dönemde veterince ilgi görmediğine
- B) Cebir dışındaki çalışmalarının orijinallik taşımadığına
- C) Çağdaşların yaptığı çalışmaları benimsemediğine
- D) Kimi eserlerinin günümüze ulaşmadığına
- E) Sıfırla ilgili araştırmalarının kalıcı olmadığına

21. Bu parçada Harezmi ile ilgili aşağıdakilerden hangisine değinilmemiştir?

- A) Yaşadığı döneme
- B) Çalışmalarının çeşitliliğine
- C) Bilgisini besleyen kaynağa
- D) Eserlerinde kullandığı dile
- E) Eserlerinin çokluğuna

22. - 23. soruları aşağıdaki parçaya göre cevaplayınız.

Gün geçtikçe gelişen teknoloji ve yapay zekâ uygulamalarının gelecekte insanlığa hükmedeceğiyle ilgili sayısız senaryo karşımıza çıkıyor. Bunlardan biri, belki de en ustalıkla yazılanı, *Matrix* filmiyle beyaz perdeye taşındı. Filmin temelini oluşturan senaryoda, kabaca, robotlarla insanların eşit güçlere sahip olduğu bir dünya kurgulanıyor. Bu dünyada robotlar ve insan ırkı arasında bir hayatta kalma mücadelesi yaşanıyor ve kazanan, robotlar oluyor. Savaşın enkazı altında ezilen insanlar, robotlarla anlaşma yapmak zorunda kalıyor. Bu anlaşma gereği insanlar, kapsüller içine alınıyor ve kendileri için yaratılan sanal bir dünyada sanki gerçek dünyada yaşıyormuşçasına hayatlarını sürdürmek mecburiyetinde bırakılıyor. İşte bu sanal dünyanın adı *Matrix*'tir.

22. Bu parçadan hareketle *Matrix* ile ilgili aşağıdakilerden hangisine ulaşamaz?

- A) Film versiyonunun küresel ölçekte büyük bir ilgiyle karşılandığına
- B) İnsanı bekleyen karanlık geleceği anlatan eserlerden biri olduğuna
- C) İnsan üretimi olan yapay zekânın dünyayı kontrol etmesini anlattığına
- D) Adını içeriğindeki, geleceğe ait kurmaca dünyadan aldığına
- E) Yapay zekânın insanlık için tehdit olabileceği fikrinde beslendiğine

23. Aşağıdaki felsefi düşüncelerden hangisi ile metinde bahsi geçen sanal dünya arasında ilişki kurmak mümkündür?

- A) Hint felsefesine göre her şey Brahman'ın bir parçasıdır ve tüm canlılar tekrar ona döneceklerine inanarak yaşar.
- B) Sokrates'in kullandığı diyalektik yöntemine göre bilgi, insan zihninde zaten var olan bir yetidir ve bu bilgi, doğurtma yöntemiyle ortaya çıkarılabilir.
- C) Platon'a göre insan, bu dünyada bir mağarada tutulan ve nesnelere kendilerini değil sadece mağaranın içine yansıyan gölgelerini görebilen bir mahkûma benzer.
- D) Seneca'ya göre rehber olarak erdemi değil tahtı seçenler aklın ışığından yoksun kalır, özgünlük bilincini yitirerek başkalarına kul olur.
- E) Budizm'e göre Nirvana'ya ulaşmak ve yaşamın kısır döngüsünü kırmak için duygularınızın kontrolünü ele alıp varoluş nedeninizin bilincine varmanız şarttır.

Bu soruların telif hakları ÖSYM'ye aittir. Sorular ÖSYM'nin yazın telif hakkı olmaksızın hiçbir kişi, kurum veya kuruluş tarafından kullanılmamalıdır.

24. - 26. soruları aşağıdaki parçaya göre cevaplayınız.

Bir efsaneye göre S. T. Coleridge, kendi zamanına değin yazılmış her şeyi okumuş en son kişidir. Dediklerine göre o öldükten sonra artık tek insanlık bir yaşam bakiyesinin baş edemeyeceği kadar kitap birikmiş. Oysa ondan çok önce, ilk basılı sayfanın ilk matbaadan çıkmasından yalnızca yarım yüzyıl sonra bile, yani 1500'de Avrupa'da sayısız kitap vardı. Matbaa devrimi ile gelen toplu yazılı kaynak üretimi, ilk zamanlar çeşitlilikten ziyade başta kutsal kitaplar ve eğitim materyalleri olmak üzere sınırlı bir ürün yelpazesinin örneklerini mümkün miktarda çoğaltmayı hedeflemişti. Bilgi ve kitap pazarının hâkim denklemi "En fazla satan, en fazla basılır." matbaanın daha emekleme çağında bile geçerliydi. Her şeye karşın, bu dönemde dahi milyonlarca farklı kitabın olduğu dev bir kütüphaneydi Avrupa. Yaşam boyu bir milyon kitap okuyabilmek için bir insanın yetmiş yıl boyunca günde kırk kitap okuması gerekir. Ben bu kadar sürede bu sayıda çay içmeyi bile başaramadım ve bir kitap okumanın bir bardak çay içmekten çok daha fazla zaman aldığından eminim. Yine de her şeyi okumak, her şeyden haberdar olmak hevesinde bazı doyumsuz okurlara rastlarız. Bence böylesi bir okuma iştahı sınırsız bir entelektüel meraktan çok, dünyaya sığamayacak bir egoya işaret eder. Demek istediğim, bütün kitapları okuyup her şeyi bilmek yüzyıllardır imkânsız. Bırakın bazı bilgileri başkaları yazsın ve okusun. Zihninizi bir sürü ilgisiz bilginin genellemeler ve yanlışlarla dolu ansiklopedisi olacağına, ilginizi çeken bir bilginin kaynak kitabı olsun.

24. Bu parçada altı çizili ifadeyle anlatılmak istenen aşağıdakilerden hangisidir?

- A) Kişisel kapasitenin sınırlarını aşan bir okuma isteği
- B) Bireyin tek başına ulaşabileceği yazılı kaynakların sayısı
- C) İnsanın okumaya ayırabileceği bütün madde imkânlar
- D) Kişinin salt kitap okuyarak edinebileceği bilginin miktarı
- E) İnsan ömründe bilgiye ve okumaya ayrılacak azami süre

25. Bu parçadan hareketle aşağıdakilerden hangisi söylenemez?

- A) Avrupa'da matbaa devrimiyle gelen toplu yazılı kaynak basımı XV. yüzyılın ortalarında başlamıştır.
- B) Matbaa devriminin ilk dönemlerinde, belli materyallerin kopya sayısının olabildiğince artırılması amaçlanmıştır.
- C) Okuma materyalleri basımında etkili olan temel dinamik, matbaa devriminin başından beri kitlesel talep olmuştur.
- D) Coleridge'in matbaa devrimine değin üretilmiş tüm bilgi kaynaklarını okumuş olması bile imkânsızdır.
- E) Avrupa kütüphanelerindeki kitapların çeşitliliği matbaa devriminden sonra fark edilir bir oranda azalmıştır.

26. Bu parçanın yazarının eleştirdiği durum aşağıdakilerden hangisidir?

- A) Matbaa devrimi sonrası öğrenmek ve bilgiye ulaşmak için gereken zamanın giderek artması
- B) Bir süre kurlan ilişkide üretim ve tüketim dengesini görmeyen gelen sağlıksız tutumlar
- C) Modern toplumlarda araştırmacıların sadece kendi alanlarında üretilen bilgiyi takip etmesi
- D) Aydınların bilgi üretimi ve bilgiye ulaşmak için yazılı kaynaklara atfettikleri büyük kutsallık
- E) Kimi okur ve yazarların bilgi üretimine katkıda bulunmadan salt tüketici bir rol benimsemeleri

27. - 30. soruları aşağıdaki bilgilere göre birbirinden bağımsız olarak cevaplayınız.

Ali, Berna, Cem, Deren, Engin, Faruk ve Gizem adlı sporcular iki aşamalı bir koşu yarışına katılmıştır. Bu yarışta birinci koşuyu ilk beş sırada tamamlayan yarışmacılar, ikinci koşuya katılmaya hak kazanmıştır. Sporcuların her iki koşuyu tamamlama sıralarına ilişkin kimi bilgiler şu şekildedir:

- İlk koşuyu Gizem; Deren'den hemen sonra, Faruk'tan hemen önce tamamlamıştır.
- Berna her iki koşuyu da aynı sırada tamamlamıştır.
- İlk koşuyu ikinci sırada Ali, ikinci koşuyu üçüncü sırada Faruk tamamlamıştır.
- İkinci koşuyu Gizem, Deren'den önce tamamlamıştır.

27. Buna göre

- Berna,
- Cem,
- Deren

adlı sporculardan hangileri ikinci koşuyu beşinci sırada tamamlamış olabilir?

- A) Yalnız I B) Yalnız III C) I ve II
D) I ve III E) II ve III

28. Aşağıdakilerden hangisi kesin olarak yanlıştır?

- A) Berna, ilk koşuyu dördüncü sırada tamamlamıştır.
B) Cem, ilk koşuyu yedinci sırada tamamlamıştır.
C) Deren, ilk koşuyu üçüncü sırada tamamlamıştır.
D) Engin, ilk koşuyu altıncı sırada tamamlamıştır.
E) Faruk, ilk koşuyu beşinci sırada tamamlamıştır.

29. Aşağıdakilerden hangisi kesin olarak doğrudur?

- A) Ali'nin ilk koşudaki sırası ile Deren'in ikinci koşudaki sırası aynıdır.
B) Ali'nin ilk koşudaki sırası ile ikinci koşudaki sırası aynıdır.
C) Gizem'in ilk koşudaki sırası ile ikinci koşudaki sırası aynıdır.
D) Faruk'un ilk koşudaki sırası ile Deren'in ikinci koşudaki sırası aynıdır.
E) Deren'in ilk koşudaki sırası ile Faruk'un ikinci koşudaki sırası aynıdır.

30. Gizem'in ilk koşuyu tamamlama sırası ile Ali'nin ikinci koşuyu tamamlama sırasının aynı olduğu biliniyorsa aşağıdakilerden hangisi doğrudur?

- A) Berna, ikinci koşuyu beşinci sırada tamamlamıştır.
B) Gizem, ikinci koşuyu dördüncü sırada tamamlamıştır.
C) Deren, ikinci koşuyu beşinci sırada tamamlamıştır.
D) Engin, ikinci koşuyu ikinci sırada tamamlamıştır.
E) Ali, ikinci koşuyu birinci sırada tamamlamıştır.

$$31. \frac{\left(1 + \frac{2}{3}\right) \cdot \left(2 + \frac{3}{4}\right)}{\left(2 - \frac{3}{4}\right) \cdot \left(7 - \frac{8}{9}\right)}$$

işleminin sonucu kaçtır?

- A) $\frac{3}{5}$ B) $\frac{1}{3}$ C) $\frac{4}{7}$ D) $\frac{5}{6}$ E) $\frac{7}{8}$

$$32. \frac{(0,4)^2 + (0,6)^2}{(0,7)^2 - (0,6)^2}$$

işleminin sonucu kaçtır?

- A) 4 B) 5 C) 6 D) 7 E) 8

$$33. \frac{\sqrt{5} + \sqrt{3}}{\sqrt{5} - \sqrt{3}} - \sqrt{15}$$

işleminin sonucu kaçtır?

- A) $\sqrt{3}$ B) $\sqrt{5}$ C) 2 D) 3 E) 4

34. A ve B birer rakam olmak üzere,

$$\begin{array}{r} ABA \\ - 19B \\ \hline BB \end{array}$$

olduğuna göre, A + B toplamı kaçtır?

- A) 6 B) 7 C) 8 D) 9 E) 10

ÖSYM
Bu soruların telif hakları ÖSYM'ye aittir. Sorular ÖSYM'nin yazılı izni olmaksızın hiçbir kişi, kurum veya kuruluş tarafından kullanılamaz.

35. a, b ve c gerçel sayıları için

$$a \cdot b^2 < 0 < a + c < 2 \cdot a - b$$

olduğuna göre, aşağıdaki sıralamalardan hangisi doğrudur?

- A) $b < a < c$ B) $a < b < c$ C) $a < c < b$
 D) $b < c < a$ E) $c < a < b$

36. a, b ve c tam sayıları için

$$(a + 2 \cdot b) \cdot (b - 3 \cdot c)$$

ifadesi bir tek sayıdır.

Buna göre,

- I. $a \cdot b$
 II. $b \cdot c$
 III. $c \cdot a$

ifadelerinden hangileri her zaman bir çift sayıdır?

- A) Yalnız I B) Yalnız II C) Yalnız III
 D) I ve II E) II ve III

37. x ve y gerçel sayıları için

$$\frac{x}{x+y} - \frac{x-y}{x} = -4$$

olduğuna göre, $\frac{x}{y}$ oranı kaçtır?

- A) $\frac{-1}{2}$ B) $\frac{-1}{3}$ C) $\frac{-1}{4}$ D) $\frac{-1}{5}$ E) $\frac{-1}{6}$

38. a, b ve c tam sayıları için

$$(12)^2 \cdot (0,04)^a = 2^a \cdot b^c \cdot 5^c$$

eşitliği sağlandığına göre, $a + b + c$ toplamı kaçtır?

- A) 7 B) 8 C) 9 D) 10 E) 11

ÖSYM

Bu soruların telif hakları ÖSYM'ye aittir. Sorular ÖSYM'nin yazılı izni olmaksızın hiçbir kişi, kurum veya kuruluş tarafından kullanılamaz.

39. a, b ve c pozitif tam sayıları için

$$a \cdot b = 8$$

$$|a - b| = 2$$

$$|b - c| = 6$$

eşitlikleri veriliyor.

Buna göre, c sayısının alabileceği farklı değerlerin toplamı kaçtır?

- A) 14 B) 15 C) 16 D) 17 E) 18

40. Tam sayılar kümesi üzerinde \square ve \star işlemleri

$$a \square b = a \cdot b + a - b$$

$$a \star b = 3 \cdot (a \square b) - 1$$

biçiminde tanımlanıyor.

Buna göre, $1 \star 3$ işleminin sonucu kaçtır?

- A) 1 B) 2 C) 3 D) 4 E) 5

41. Tam sayılar kümesi üzerinde f fonksiyonu

$$f(x) = \begin{cases} 3x + 1, & x \text{ tek ise} \\ \frac{x}{2}, & x \text{ çift ise} \end{cases}$$

biçiminde tanımlanıyor.

Buna göre,

$$\underbrace{(f \circ f \circ \dots \circ f)}_{n \text{ tane } f}(6) = 1$$

eşitliğini sağlayan en küçük n pozitif tam sayı kaçtır?

- A) 2 B) 4 C) 6 D) 8 E) 10

42. AAAA başlıklı bir doğal sayı ve n bir pozitif tam sayı olmak üzere,

$$2 + 3 + \dots + n = AAA$$

eşitliğini sağlayan n sayısının rakamları toplamı kaçtır?

- A) 5 B) 7 C) 9 D) 11 E) 13

43. AAB üç basamaklı doğal sayısı 5'e, ABA üç basamaklı doğal sayısı 11'e tam bölünebilmektedir.

Buna göre, A + B toplamı kaçtır?

- A) 10 B) 11 C) 12 D) 13 E) 14

44. Bir düğün salonunda her bir masa etrafında 5 ya da 6 sandalye bulunmaktadır. Başlangıçta, 6 sandalyeli masa sayısı 5 sandalyeli masa sayısının 2 katıdır.

5 sandalyeli masalardan iki tanesinin kırık olduğu fark edilince bu iki masa salondan çıkarılıyor. Bu iki masanın sandalyeleri, bazı 5 sandalyeli masaların etrafına her bir masaya bir sandalye eklenecek biçimde yerleştiriliyor. Son durumda, salondaki 6 sandalyeli masa sayısı 5 sandalyeli masa sayısının 3 katı oluyor.

Buna göre, başlangıçta salonda toplam kaç masa vardır?

- A) 130 B) 134 C) 138 D) 144 E) 150

45. Bir okulda düzenlenen yıl sonu gösterisi için tüm öğrencilere gösteri kıyafeti alınmıştır. Bir erkek öğrenci için alınan kıyafetin fiyatı, bir kız öğrenci için alınan kıyafetin fiyatının $\frac{4}{5}$ 'i kadardır. Alınan kıyafetler için toplam 5740 TL ödenmiştir.

Kız öğrencilerin sayısı, erkek öğrencilerin sayısının 2 katı olduğuna göre, kız öğrencilerin kıyafetleri için toplam kaç TL ödenmiştir?

- A) 4000 B) 4050 C) 4100 D) 4150 E) 4200

46. Ali, bir haftanın ilk 6 gününde bilgisayara karşı oynadığı 75 satranç oyununun 48'ini kazanmış, geri kalan oyunları ise kaybetmiş ya da berabere bitirmiştir. Ali, bu haftanın son gününde belirli sayıda oyun oynayarak bu haftada kazanma oranını % 50'ye çıkarmıştır.

Ali'nin bu haftanın son gününde berabere bitirdiği oyun sayısı nedir.

Buna göre Ali'nin; bu haftanın son gününde kazandığı oyun sayısı, bu haftanın son gününde kaybettiği oyun sayısından kaç fazladır?

- A) 5 B) 7 C) 9 D) 11 E) 13

Bu soruların telif hakları ÖSYM'ye aittir. Sorular ÖSYM'nin yazılı izni olmaksızın hiçbir kişi, kurum veya kuruluş tarafından kullanılamaz.

47. A kentinden B kentine her saat başında 1 otobüs seferi düzenleyen bir seyahat firmasına ait otobüsler, bu iki kent arasındaki yolu saatte 80 kilometre sabit hızla almaktadır. B kentinden A kentine saatte 120 kilometre sabit hızla giden bir otomobil, A kentinden B kentine giden bu firmaya ait iki otobüsle karşılaşmıştır.

Otomobil ilk otobüsle saat 13.00'te karşılaştığına göre, ikinci otobüsle saat kaçta karşılaşmıştır?

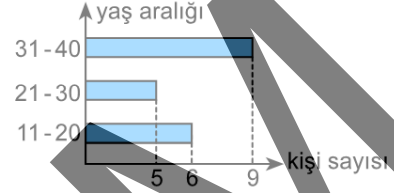
- A) 13.18 B) 13.24 C) 13.30
D) 13.36 E) 13.42

48. Bir giyim firmasının A, B ve C şehirlerindeki mağaza sayıları sırasıyla 4, 5 ve 6 sayılarıyla doğru orantılıdır. Bu firma, mağazasının bulunmadığı başka bir şehir bu üç şehirde bulunan kendi mağazalarının toplam sayısı kadar mağaza açıyor. Son durumda, firmanın bu dört şehir için şehir başına düşen mağaza sayısı 60 oluyor.

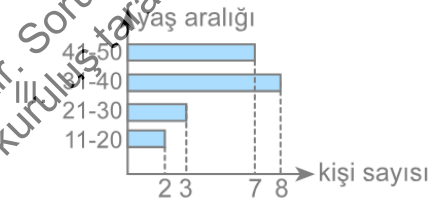
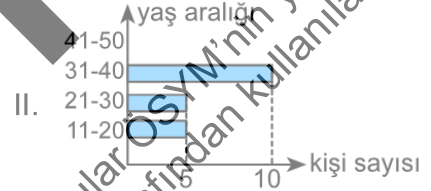
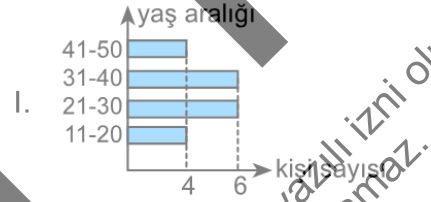
Buna göre, bu firmanın B şehrindeki mağazalarının sayısı kaçtır?

- A) 20 B) 25 C) 30 D) 35 E) 40

49. Bir toplulukta bulunan 20 kişinin bugünkü yaşlarının yer aldığı yaş aralıkları ve bu aralıklarda bulunan kişi sayıları aşağıdaki grafikte verilmiştir.



Buna göre, topluluktaki bu 20 kişinin 5 yıl sonraki yaş aralığı-kişi sayısı grafiği



grafiklerinden hangileri olabilir?

- A) Yalnız I B) Yalnız II C) Yalnız III
D) I ve II E) I ve III

Bu soruların telif hakları ÖSYM'ye aittir. Sorular ÖSYM'nin yazılı izni olmaksızın hiçbir kişi, kurum veya kuruluş tarafından kullanılamaz.

50. Elemanları doğal sayılardan oluşan bir kümenin birbirinden farklı her iki elemanı arasındaki farkın mutlak değeri, o kümenin bir elemanı ise bu kümeye "farklı küme" denir.

Buna göre,

$$A = \{2, 4, 6, 8, 10\}$$

kümesinin en az iki elemanlı alt kümelerinden kaç tanesi farklı kümedir?

- A) 5 B) 7 C) 9 D) 10 E) 12
51. Bir restoranda çalışan garson; 5 kişilik bir gruptan 1 sade, 2 orta şekerli ve 2 şekerli kahve siparişi almıştır. Bu garson; siparişleri doğru bir şekilde hazırlamış ancak bu gruptaki kişilerin, şeker oranları farklı kahveler istediğini unutup kahveleri bu gruba rastgele dağıtmıştır.

Buna göre, bu gruptaki tüm kişilerin sipariş verdikleri kahveleri almış olma olasılığı kaçtır?

- A) $\frac{1}{20}$ B) $\frac{1}{30}$ C) $\frac{1}{40}$ D) $\frac{1}{50}$ E) $\frac{1}{60}$

ÖSYM

Bu soruların telif hakları ÖSYM'ye aittir. Sorular ÖSYM'nin yazılı izni olmaksızın hiçbir kişi, kurum veya kuruluş tarafından kullanılamaz.

52. - 53. soruları aşağıdaki bilgilere göre birbirinden bağımsız olarak cevaplayınız.

Bir pastanede üretilen kurabiye, simit ve poğaça ürünlerinin birim satış fiyatları 1. grafikte verilmiştir. Belirli bir günde bu pastanede üretilen bu üç ürünün başlangıçtaki üretim sayılarının dağılımı 2. grafikte verilmiştir.



52. Başlangıçta üretilen bu ürünlerin tamamının satışından 184 TL gelir elde edilmiştir.

Buna göre, başlangıçta üretilen poğaça sayısı kaçtır?

- A) 40 B) 48 C) 50 D) 56 E) 60

53. Bu gün içinde, belirli sayıda daha simit üretildikten sonra tüm simitlerin satışından elde edilen gelir, başlangıçta üretilen kurabiye ve poğaçaların satışından elde edilen gelirin toplamına eşittir.

Buna göre, başlangıçta üretilen simitlerin sayısının sonradan üretilen simitlerin sayısına oranı kaçtır?

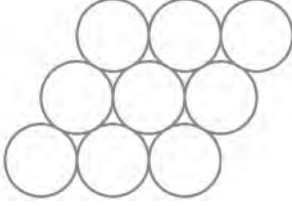
- A) 1 B) 2 C) 3 D) $\frac{10}{3}$ E) $\frac{11}{5}$

ÖSYM

Bu soruların telif hakları ÖSYM'ye aittir. Sorular ÖSYM'nin yazılı izni olmaksızın hiçbir kişi, kurum veya kuruluş tarafından kullanılamaz.

54. - 56. soruları aşağıdaki bilgilere göre birbirinden bağımsız olarak cevaplayınız.

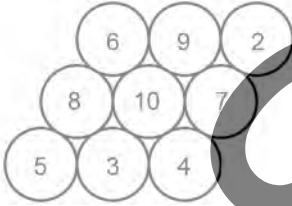
9 daireden oluşan aşağıdaki şekilde, birbirine teğet iki daireye komşu daireler denir.



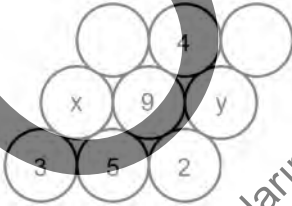
2'den 10'a kadar olan tam sayılar bu dairelere her bir dairede farklı bir sayı olacak biçimde aşağıdaki kurala göre yazılacaktır.

- Bir daireye yazılan sayı komşu olduğu dairelerdeki sayılardan hiçbirinin tam katı olmayacaktır.

Örnek:



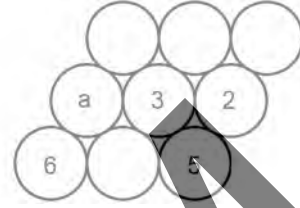
54.



Yukarıdaki şekle göre, $x + y$ toplamı kaçtır?

- A) 13 B) 14 C) 15 D) 16 E) 17

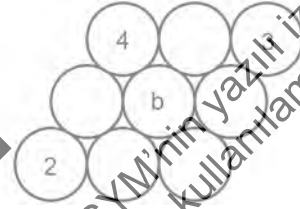
55.



Yukarıdaki şekle göre, a kaçtır?

- A) 4 B) 7 C) 8 D) 9 E) 10

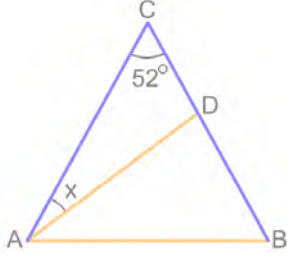
56.



Yukarıdaki şekle göre b'nin alabileceği farklı değerlerin toplamı kaçtır?

- A) 17 B) 18 C) 20 D) 22 E) 23

57.



ABC ikizkenar üçgen

$|CA| = |CB|$

$|AB| = |AD|$

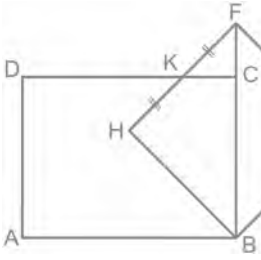
$m(\widehat{ACB}) = 52^\circ$

$m(\widehat{CAD}) = x$

Yukarıdaki verilere göre, x kaç derecedir?

- A) 10 B) 12 C) 15 D) 16 E) 18

58.



ABCD dikdörtgen

BEFH kare

$DC \cap HF = \{K\}$

$|KF| = |KH|$

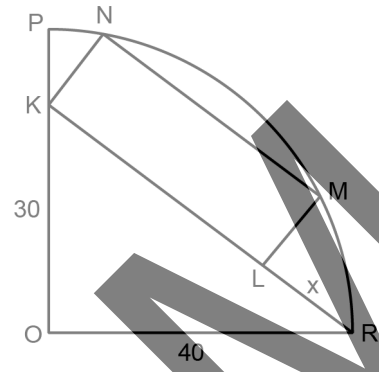
$|KD| = 3|KC|$

B, C ve F noktaları doğrusal ve ABCD dikdörtgeninin alanı 48 birimkaredir.

Buna göre, BEFH karesinin alanı kaç birimkaredir?

- A) 18 B) 20 C) 24 D) 28 E) 32

59.



KLMN dikdörtgen

$K \in [OP]$

$|OK| = 30$ birim

$|OR| = 40$ birim

$|LR| = x$

Şekilde, N ve M noktaları O merkezli çeyrek çemberin üzerindedir.

Buna göre, x kaç birimdir?

- A) 12 B) 14 C) 16 D) 18 E) 20

60.

Dik koordinat düzleminde $A(2, a)$ noktasının $y = -x$ doğrusuna göre simetriği olan nokta ile $B(-1, b)$ noktasının $y = 1$ doğrusuna göre simetriği olan nokta aynı noktadır.Buna göre, $b - a$ farkı kaçtır?

- A) 7 B) 6 C) 5 D) 4 E) 3

1. Bu testte 60 soru vardır.

2. Cevaplarınızı, cevap kâğıdının Genel Kültür Testi için ayrılan kısmına işaretleyiniz.

1. Aşağıdakilerden hangisi Türk tarihinde önemli bir yeri olan Uygurlarla ilgili değildir?

- A) Yerleşik hayat tarzını yaygınlaştırmışlardır.
- B) Maniheizm dinini benimsemişlerdir.
- C) Yazılı hukuk belgeleri düzenlemiştir.
- D) Kalıp baskı yöntemiyle kitap çoğaltmışlardır.
- E) Tarihlerini Manas Destanı'yla anlatmışlardır.

2. Eski Türklerin "Güneş bayrağımız, gökyüzü çadırımız." sözüyle aşağıdakilerden hangisi vurgulanmaktadır?

- A) Kut
- B) İkili yönetim
- C) Ordu-millet
- D) Töre
- E) Cihan hâkimiyeti

3. Anadolu Selçuklu Devleti'yle ilgili,

- I. Nizamiye medreseleri adı altında ilk medreseleri kurmuşlardır.
- II. Haçlı seferlerine karşı mücadele etmişlerdir.
- III. Kervansaraylar yaparak ticari hayatın canlanmasına yardımcı olmuşlardır.

yargılarından hangileri söylenebilir?

- A) Yalnız I
- B) Yalnız II
- C) I ve II
- D) II ve III
- E) I, II ve III

4. Osmanlı Devleti'nde mirî toprak rejimi çerçevesinde köylünün; toprağı habersiz terk etmemesi, sebepsiz olarak üç yıl boş bırakmaması ve ürettiği ürünün vergilerini ödemesi beklenirdi. Köylü toprağı satamaz, vakfedemez ve devredemezdi. Ölen kişinin toprakları oğullarına geçerdi.

Buna göre mirî toprak rejimiyle aşağıdakilerden hangisinin amaçlandığı söylenemez?

- A) Özel mülkiyetin yaygınlaştırılması
- B) Üretimde sürekliliğin sağlanması
- C) Nüfus hareketlerinin denetlenmesi
- D) Devlet gelirlerinin tahmin edilebilir kılınması
- E) Merkezî otoritenin güçlendirilmesi

5. Veziriazam Osman Paşa, 1584 yılında İran üzerine düzenlenecek sefer için, Anadolu'dan kapıkulu ocaklarında istihdam edilmek vaadiyle asker toplamıştır.

Bu bilgi de dikkate alınarak Osmanlı ordusuyla ilgili aşağıdakilerden hangisine ulaşılabılır?

- A) Yeniçeri Ocağının Türk kökenlilere açıldığına
B) Timar sisteminin yeniden düzenlendiğine
C) Devşirme sisteminin ortadan kalktığına
D) Eyalet ordularının güçlendiğine
E) Askerî harcamaların azaldığına

6. I. Tereke defterlerinde; büyük miktarda nakit parası, borcu ve alacağı olan kadınların bulunması
II. Zenginlerin haremlerine kumaş ve mücevherat satan kadınların olması
III. Nikah sözleşmelerinde yüksek miktarda mehir takdir edilmiş kadınlara rastlanması

Yukarıdakilerden hangileri Klasik Dönem Osmanlı ekonomik hayatında kadınların da aktif olduğunu göstermektedir?

- A) Yalnız I B) Yalnız II C) I ve II
D) II ve III E) I, II ve III

7. Askerî yenilgiler sonrasında Batı dünyasıyla siyasi ilişkiler dışında teknik ve kültürel alanlarda da temasa geçilmesi gerekliliği, aşağıdakilerin hangisinde ilk kez ortaya çıkmıştır?

- A) II. Meşrutiyet Devri
B) Lale Devri
C) Nizam-ı Cedit Devri
D) Tanzimat Devri
E) I. Meşrutiyet Devri

8. Osmanlı Devleti ilk daimî elçiliğini aşağıdaki Avrupa başkentlerinin hangisinde açmıştır?

- A) Berlin B) Viyana C) Paris
D) Londra E) Moskova

9. Tarih Öğretmeni Yasemin: "II. Mahmut, Osmanlı merkez teşkilatında köklü idari değişiklikler yapmıştır." diyerek öğrencilerinden bu duruma örnek vermelerini istemiştir.

Aşağıdakilerden hangisi Yasemin Öğretmen'in öğrencilerinden istediği bu örneklerden biridir?

- A) Sekban-ı Cedit Ocağının kurulması
B) Heyet-i Vükelanın oluşturulması
C) Mekteb-i Harbiyenin açılması
D) Yeniçeri Ocağının kaldırılması
E) Muzika-i Hümayunun kurulması

10. Aşağıdakilerden hangisi, Osmanlı Devleti'nde İslamcılık düşüncesini savunan yayın organlarından biridir?

- A) Sebilürreşat
- B) Tercüman-ı Ahval
- C) Genç Kalemler
- D) İçtihat
- E) Öğüt

11. Birinci Dünya Savaşı sırasında Medine'yi müdafaa eden Osmanlı kuvvetlerinin komutanı, aşağıdakilerden hangisidir?

- A) Cemal Paşa
- B) Fahrettin Paşa
- C) Halil Paşa
- D) Cevat Paşa
- E) Sakallı Nurettin Paşa

12. Birinci Dünya Savaşı sonunda toplanan Paris Barış Konferansı'na katılarak Osmanlı Devleti'nden ayrılma isteklerini belirten Müslüman ve gayrimüslim unsurların temsilcileri, Willson İlkeleri'ne dayanarak bağımsızlık taleplerini aşağıdaki seçeneklerden hangisi üzerine inşa etmişlerdir?

- A) Din
- B) Nüfus
- C) Ekonomi
- D) Sosyal sınıflar
- E) Rejim

13. Mustafa Kemal Paşa aşağıdakilerden hangisinin hazırlıkları sırasında, Osmanlı Hükümeti tarafından IX. Ordu Müfettişliği görevinden alınması üzerine bütün görevlerinden istifa ederek sineyimillete dönmüştür?

- A) Havza Bildirisi
- B) Erzurum Kongresi
- C) Amasya Görüşmeleri
- D) Amasya Genelgesi
- E) TBMM'nin açılması

14. 4 Eylül 1919'da toplanan Sivas Kongresi'yle ilgili aşağıdakilerden hangisi yanlıştır?

- A) Delegeler, ittihatçı olmadıklarını ispat etmeye çalışmışlardır.
- B) Kongre başkanlığı konusunda tartışmalar yaşanmıştır.
- C) Bolşevik propagandası, görüşmelere damga vurmuştur.
- D) Anadolu ve Rumeli Müdafaa-i Hukuk Cemiyeti kurulmuştur.
- E) Erzurum Kongresi'nde alınan kararlar kabul edilmiştir.

15. Damat Ferit Paşa Hükümetinin Anadolu'dan gelen baskılar sonucunda istifa etmesinden sonra, Ali Rıza Paşa Hükümeti kurulmuş ve bu yeni kabinenin Temsil Heyetinden bazı istekleri olmuştur.

Aşağıdakilerden hangisi bu istekler arasında yer almaz?

- A) El konulan resmî dairelerin boşaltılması
- B) İstanbul ve Anadolu arasındaki iletişimin yeniden kurulması
- C) Hükümet uygulamalarına saygı gösterilmesi
- D) Seçimlere müdahale edilmemesi
- E) Ülkenin birlikte yönetilmesi

16. İtilaf Devletleri'nin Haziran 1920'de Yunanlılara Milne Hattı'nı aşarak Batı Anadolu'da işgalini genişletmesi konusunda izin vermesi, aşağıdakilerden hangisiyle ilişkilendirilebilir?

- A) Osmanlı Hükümetini barış antlaşması imzalamaya zorlamak
- B) Padişahın cihat çağrısını etkisiz kılmak
- C) Sivas'ta ulusal bir kongrenin toplanmasını önlemek
- D) Mebusan Meclisinde Misakımillî'nin kabul edilmesini engellemek
- E) Cemiyetlerin tek çatı altında birleşmesinin önüne geçmek

17. Mustafa Kemal Paşa'nın 26 Ağustos 1922'de başlayan Büyük Taarruz sırasında bizzat yönettiği "Başkumandan Meydan Muharebesi", savaşın geçtiği yer nedeniyle aşağıdaki isimlerden hangisiyle de anılmaktadır?

- A) İnönü
- B) Sakarya
- C) Dumlupınar
- D) Eskişehir-Kütahya
- E) Gediz

18. 23 Nisan 1920'de toplanan Birinci TBMM'de farklı görüş ve düşüncelere mensup milletvekilleri bulunmuştur. Görüşleri birbirine yakın milletvekilleri zamanla çeşitli gruplar oluşturmuştur.

Aşağıdakilerden hangisi bu gruplardan biri değildir?

- A) İstiklal Grubu
- B) Halk Zümresi
- C) İslahat Grubu
- D) Mim Mim Grubu
- E) Fesânüt Grubu

19. 1923 yılında İzmir'de toplanan Türkiye İktisat Kongresi'nde alınan kararlardan hangisinin, ülkede üretim ve sanayi altyapısından çok, tüketim alışkanlıklarını düzenleme niteliği taşıdığı söylenebilir?

- A) Ham maddesi yurt içinden temin edilen sanayi dalları kurulmalıdır.
- B) El işçiliğinden ve küçük imalattan süratle fabrikaya ve büyük işletmeye geçilmelidir.
- C) Devlet, özel sektör tarafından gerçekleştirilemeyen yatırımlara öncülük etmelidir.
- D) İşletmelere kredi sağlayacak bankalar kurulmalıdır.
- E) Yerli malı kullanımı ve tasarruf özendirilmelidir.

20. Aşağıdakilerden hangisi, Lozan Görüşmeleri'nin kesintiye uğradığı 4 Şubat-23 Nisan 1923 tarihleri arasında Türk iç politikasında yaşanan gelişmelerden biridir?

- A) TBMM'de seçim kararı alınması
- B) Saltanatın kaldırılması
- C) Ankara'nın başkent olması
- D) İsmet Paşa'nın Dışişleri Bakanlığına getirilmesi
- E) Takrir-i Sükûn Kanunu'nun çıkarılması

21. Aşağıdaki gelişmelerden hangisi, Sivas Mebusu Rauf Bey tarafından 2 Kasım 1922 tarihinde sunulan önerinin 24 Ekim 1923'te yasalaşmasıyla 1935 yılına kadar "Hâkimiyet Bayramı" olarak kutlanmıştır?

- A) Cumhuriyet'in ilan edilmesi
- B) Halifeliğin kaldırılması
- C) Misakımillî'nin ilan edilmesi
- D) Saltanatın kaldırılması
- E) Lozan Antlaşması'nın imzalanması

22. Mustafa Kemal Atatürk, "Din, bir vicdan meselesidir. Herkes, vicdanının emrine uymakta serbesttir. Biz dine saygı gösteririz. Düşünüşe karşı değiliz. Biz sadece, din işlerini millet ve devlet işleriyle karıştırmamaya çalışıyor, kaste ve fiile dayanan taassupkâr hareketlerden sakınıyoruz." demiştir.

Bu ifade;

- I. halifeliğin kaldırılması,
- II. tekke, zaviye ve türbelerin kapatılması,
- III. Türk Medeni Kanunu'nun kabul edilmesi

gelişmelerinden hangileriyle ilişkilendirilebilir?

- A) Yalnız I
- B) Yalnız III
- C) I ve II
- D) II ve III
- E) I, II, ve III

23. Aşağıdakilerden hangisi Atatürk Dönemi'nde eğitim alanında yapılan yeniliklerden biri **değildir**?

- A) Maarif Teşkilatı'na ilgili bir kanun çıkarılması
- B) Yeni Türk Partilerinin kabul edilmesi
- C) Üniversite Reformu'nun gerçekleştirilmesi
- D) Millet Mekteplerinin açılması
- E) Türk Ocaklarının kurulması

Bu soruların telif hakları ÖSYM'ye aittir. Sorular ÖSYM'nin yazılı izni olmaksızın hiçbir kişi, kurum veya kuruluş tarafından kullanılamaz.

24. Türk İnkılabı'nın temelini oluşturan Atatürk İlkeleri'yle ilgili aşağıdakilerden hangisi söylenemez?

- A) Devletçilik, diğerlerinden sonra uygulama alanı bulmuştur.
- B) Fransız Devrimi'nden etkilenmiştir.
- C) Atatürk'ün ölümünden sonra CHP'nin programına girmiştir.
- D) 1937 yılında Anayasa hükmü hâline getirilmiştir.
- E) "Kemalizmin Prensipleri" olarak da tanımlanmıştır.

25. Almanya'nın Avusturya ve Çekoslovakya'yı işgal ederek yayılcı ve saldırgan bir politika izlemesi karşısında, İngiltere'nin geliştirdiği ve Başbakan Chamberlain ile özdeşleşen politika aşağıdakilerden hangisidir?

- A) Yalnızlık
- B) Aktif tarafsızlık
- C) Mekik diplomasisi
- D) Yatıştırma
- E) Yumuşama

26. Demokrat Parti Dönemi'nde, ABD üniversite modeliyle uygun olarak kurulan yükseköğretim kurumu aşağıdakilerden hangisidir?

- A) İstanbul Teknik Üniversitesi
- B) Orta Doğu Teknik Üniversitesi
- C) Hacettepe Üniversitesi
- D) Ankara Üniversitesi
- E) Ege Üniversitesi

27. Aşağıdakilerden hangisi SSCB'nin Soğuk Savaş Dönemi'nde izlediği politikalarından biri değildir?

- A) Avrupa'nın önemli bir bölümünü nüfuzu altına alma
- B) Ordusunu güçlendirerek savaş sanayisini geliştirme
- C) Türk Cumhuriyetlerine bağımsızlık verme
- D) Afganistan'ı işgal etme
- E) Uzay çalışmalarına başlama

28. Obruk Platosu, adını üzerinde yer alan çok sayıda obruktan almıştır. Yüzeyi genel olarak 1100-1150 metre arasında değişen ve çevresindeki ovalara göre yükselisi fazla olmayan bu plato, özellikle yer altı karst gelişiminin etkin olduğu bir sahadır.



Yukarıda açıklaması verilen plato, haritada numaralandırılarak gösterilen alanların hangisinde yer almaktadır?

- A) I
- B) II
- C) III
- D) IV
- E) V

29. Aşağıdaki ağaç türlerinden hangisi Türkiye ormanları içerisinde daha sınırlı bir yayılım gösterir?

- A) Kızılcım
- B) Sığla
- C) Karaçam
- D) Meşe
- E) Sarıçam

30. Karadeniz’de tuzluluk oranının Akdeniz’den daha az olmasında;

- I. büyük akarsularla beslenmesi,
- II. buharlaşmanın daha az olması,
- III. derinliğin fazla olması,
- IV. kirliliğin yüksek olması

faktörlerinden hangileri etkili olmuştur?

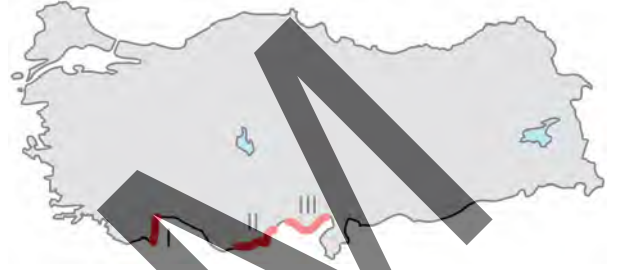
- A) I ve II B) I ve III C) II ve III
D) II ve IV E) III ve IV

31. Türkiye’nin bazı alanlarındaki eğimli yamaçlarda ormanlar toprağı tutar ve toprağı bol miktarda organik madde sağlar. Bu yamaçlardaki organik maddelerin ayrışmasıyla oluşan organik asitler, ayrışma olayının artmasına yardımcı olur. Ayrıca yağış miktarının fazla olması topraktaki yıkanmayı artırarak bitki besin maddelerinin bir bölümünün topraktan uzaklaşmasını sağlar. Bu süreç, asit reaksiyon gösteren organik madde yönünden zengin koyu renkli toprakların oluşmasını sağlar.

Aşağıdakilerin hangisinde bu tür toprakların yaygın olarak görülmesi beklenir?

- A) Kuzey Anadolu Dağlarının kuzeye bakan yamaçlarında
B) Toros Dağlarının İç Anadolu’ya bakan yamaçlarında
C) Batı Anadolu’daki dağların güney yamaçlarında
D) Ergene Havzası’ndaki plato sahalarında
E) Orta Anadolu’nun Tuz Gölü ve çevresindeki çaylak sahalarında

32. Aşağıdaki haritada Türkiye kıyılarına ait üç yer numaralandırılarak gösterilmiştir.



Bu yerlerin kıta sahanlıkları, genişten daraya doğru aşağıdakilerin hangisinde sırasıyla verilmiştir?

- A) I, II, III B) II, I, III C) II, I, I
D) III, I, II E) III, I, I

33. Türkiye’de, birbirine çok yakın alanlarda farklı iklim özellikleri görülebilir. Çevresinden farklı iklim özelliklerinin görüldüğü bu tip alanlara mikroklima adı verilir. Mikroklima alanlarında normal koşullarda o bölgede yetişmesi mümkün olmayan bitkiler yetişebilir. Buna göre;

- I. Iğdır Ovası’nda pamuk yetiştirilmesi,
- II. Çukurova’da mısır yetiştirilmesi,
- III. Çoruh Vadisi’nde zeytin yetiştirilmesi,
- IV. Meriç Vadisi’nde çeltik yetiştirilmesi

uygulamalarından hangileri mikroklimaya örnek gösterilebilir?

- A) I ve II B) I ve III C) II ve III
D) II ve IV E) III ve IV

34. Türkiye’de;

- I. tektonik hareketler sonucunda oluşan çöküntü alanlarında gelişen,
- II. akarsuların taşıdığı alüvyonların deniz kıyısında birikmesiyle oluşan,
- III. kireç taşının çözünmesi sonucunda başlıca karstik süreçlerle şekillenen

ovalar yaygın olarak görülmektedir.

Buna göre I, II ve III numaralı süreçlere bağlı gelişen ovalara ait örnekler aşağıdakilerin hangisinde doğru olarak verilmiştir?

I	II	III
A) Suluova	Çarşamba Ovası	Elmalı Ovası
B) Erzincan Ovası	Niksar Ovası	Antalya Ovası
C) Silifke Ovası	Bafra Ovası	Tefenni Ovası
D) Niksar Ovası	Elmalı Ovası	Çarşamba Ovası
E) Tefenni Ovası	Suluova	Düzce Ovası

35. Yerleşim tarihi açısından öneme sahip aşağıdaki yerler ile buldukları il eşleştirmelerinden hangisi yanlıştır?

- | | |
|-----------------------|-----------------------|
| A) Karain - Antalya | B) Çatalhöyük - Konya |
| C) Alacahöyük - Çorum | D) Hattuşa - Yozgat |
| E) Truva - Çanakkale | |

36. Türkiye’nin yıllık nüfus artış hızında önemli değişiklikler olmuştur. 1960 yılında binde 28 olan artış hızı, 2014 yılında binde 13’e gerilemiştir.

Yıllık nüfus artış hızındaki bu değişime bağlı olarak Türkiye’nin nüfus özellikleriyle ilgili,

- I. Doğum oranları azalmıştır.
- II. Nüfusun cinsiyet oranı değişmiştir.
- III. Toplam nüfus miktarı giderek azalmıştır.

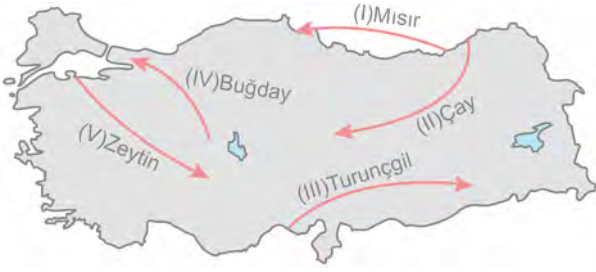
yargılarından hangilerine ulaşılabilir?

- A) Yalnız I B) Yalnız II C) Yalnız III
D) I ve II E) II ve III

37. Aşağıdakilerden hangisi Türkiye’de yoğun iç göç alan kentlerde yaşanan sorunlardan biri değildir?

- A) Çarpık kentleşme
- B) Altyapı yetersizliği
- C) Tüketim hacminin düşmesi
- D) Ulaşım olanaklarının yetersizliği
- E) Gürültü kirliliği

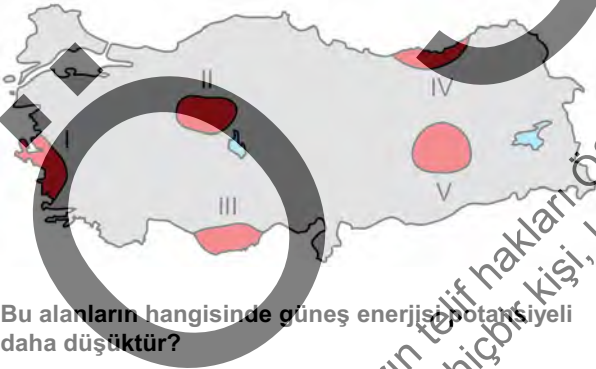
38. Türkiye'de iç ticaretin canlı olmasındaki nedenlerden biri de bölgeler arasındaki doğal şartların farklılığıdır. Bu farklılıklar tarımsal üretime etki etmektedir. Dolayısıyla farklı tarım ürünleri yetiştirilen bölgeler arasında bu ürünlere bağlı ticaret görülmektedir.



Buna göre yukarıdaki haritada ticaret yönü numaralandırılarak oklarla gösterilen ürünlerden hangisinin ticareti beklenmez?

- A) I B) II C) III D) IV E) V

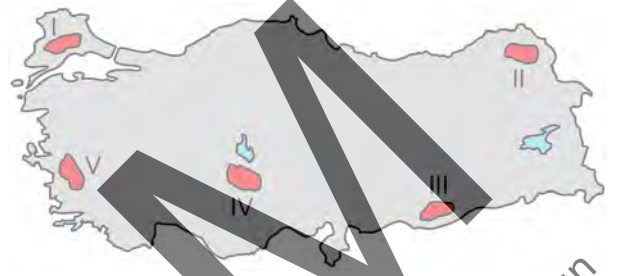
39. Aşağıdaki haritada bazı alanlar numaralandırılarak gösterilmiştir.



Bu alanların hangisinde güneş enerjisi potansiyeli daha düşüktür?

- A) I B) II C) III D) IV E) V

40. Türkiye'de yaz kuraklığının belirgin olduğu alanlarda meraya dayalı büyükbaş hayvan yetiştiriciliğinde et ve süt veriminde görece bir azalma söz konusudur.



Buna göre haritada numaralandırılarak gösterilen alanlardan hangisinin doğal koşulları yukarıda belirtilen hayvancılık faaliyetine daha uygundur?

- A) I B) II C) III D) IV E) V

41. • Tungsten olarak da bilinir.
• Özellikle uzay ve savaş endüstrisinde kullanılmaktadır.
• Metallerden özel sanayi çeliği üretilmektedir.
• Bursa-Uludağ'da rezervleri bulunmaktadır.

Bazı özellikleri verilen bu maden aşağıdakilerden hangisidir?

- A) Molibden B) Manganez C) Nikel
D) Volfram E) Çinko

42. Aşağıdakilerden hangisi Türkiye'deki ham petrol nakil hatlarından biri değildir?

- A) Kerkük - Yumurtalık
- B) Bakü - Tiflis - Ceyhan
- C) Batman - Dört Yol
- D) Bakü - Tiflis - Erzurum
- E) Ceyhan - Kırıkkale

43. Türkiye'de son yıllarda gelişme gösteren turizm türlerinden biri de kongre turizmidir. Kongre turizminin geliştiği yerlerin en önemli özelliği konaklama olanaklarının bolluğu, çeşitliliği ve turistik çekiciliklerin varlığıdır.

Buna göre aşağıdaki illerin hangisinde kongre turizmi daha fazla gelişmiştir?

- A) Antalya
- B) Balıkesir
- C) Sinop
- D) Rize
- E) Mersin

44. Yetiştirme şartları uygun olmasına karşın zeytin üretimi Akdeniz kıyı kuşağında, Batı Anadolu'ya göre daha azdır.

Bu durumun ortaya çıkmasında aşağıdakilerden hangisi etkilidir?

- A) Zeytinyağı fabrikalarının yetersiz olması
- B) Pazarlama olanaklarının yetersiz olması
- C) Fazla gelir getiren ürünlerin tercih ediliyor olması
- D) Kış sıcaklık koşullarının yüksek olması
- E) Mevsimlik iş gücü ihtiyacının fazla olması

45. Aşağıdaki illerden hangisinin komşu ülkelerle sınırı yoktur?

- A) Edirne
- B) Artvin
- C) Kars
- D) Mardin
- E) Siirt

46. 1982 Anayasası'na göre bireysel başvuruları karara bağlamak aşağıdakilerden hangisinin görev ve yetkileri arasındadır?

- A) Anayasa Mahkemesi
- B) Kamu Denetçiliği Kurumu
- C) Devlet Denetleme Kurulu
- D) Türkiye Büyük Millet Meclisi
- E) Cumhurbaşkanlığı

47. 1982 Anayasası'na göre Türk vatandaşlığıyla ilgili aşağıdaki ifadelerden hangisi yanlıştır?

- A) Türk ananın çocuğu Türk'tür.
- B) Türk babanın çocuğu Türk'tür.
- C) Hiçbir Türk, vatana bağlılıkla bağdaşmayan bir eylemde bulunmadıkça vatandaşlıktan çıkarılamaz.
- D) Vatandaşlıktan çıkarmayla ilgili karar ve işlemlere karşı yargı yolu kapalıdır.
- E) Vatandaşlık, kanunun gösterdiği şartlarla kazanılır ve ancak kanunda belirtilen durumlarda kaybedilir.

48. 1982 Anayasası'na göre en son yapılan genel seçimlerde toplam geçerli oyların en az yüzde kaçını tek başına veya birlikte alan siyasi partiler, cumhurbaşkanlığına aday gösterebilirler?
A) 1 B) 3 C) 5 D) 7 E) 10

49. 657 sayılı Devlet Memurları Kanunu'na göre aşağıdakilerden hangisi memurluğu sona erdiren nedenlerden biri değildir?

- A) Memurluktan çekilme
B) Ölüm
C) Memurluktan çıkarılma
D) Görevden uzaklaştırma
E) Emeklilik

50. I. Cumhurbaşkanı
II. Bakanlıklar
III. Kamu tüzel kişileri

1982 Anayasası'na göre yukarıdakilerden hangileri yönetmelik çıkarabilir?

- A) Yalnız I B) Yalnız III C) I ve II
D) II ve III E) I, II ve III

51. 442 sayılı Köy Kanunu'na göre nüfusu en fazla kaçta kadar olan yurlara köy denir?

- A) 500 B) 1.000 C) 1.500 D) 2.000 E) 2.500

52. Aşağıdakilerden hangisi Türk yargı örgütündeki mahkemelerden biri değildir?

- A) İflas mahkemeleri
B) Asliye ticaret mahkemeleri
C) Sulh hukuk mahkemeleri
D) Vergi mahkemeleri
E) Bölge İdare mahkemeleri

53. Adını "Cevdet" olarak değiştirmek isteyen Bahadır, aşağıdaki mercilerin hangisine başvurmalıdır?

- A) Noter B) Cumhuriyet başsavcılığı
C) Nüfus müdürlüğü D) Mahkeme
E) Valilik

54. Sebepsiz zenginleşme
II. Haksız fiil
III. Sözleşme

6098 sayılı Türk Borçlar Kanunu'na göre yukarıdakilerden hangileri borcun kaynakları arasında yer alır?

- A) Yalnız I B) Yalnız II C) I ve III
D) II ve III E) I, II ve III

55. Defnegillerden, Amerika'da yetişen bir ağacın yemişi olan ve armuda benzediği için Türkiye'de Amerikan armudu olarak da bilinen meyve aşağıdakilerden hangisidir?

- A) Avokado B) Mango
C) Ejder meyvesi D) Kumkuat
E) Ananas

56. Mustafa Kemal'in "Gözüm cephede kulağım İnebolu'da." diyerek önemini belirttiği ve Millî Mücadele yıllarında Anadolu'ya silah, cephaneye ve gönüllü kişilerin sevk edildiği güzergâh, aşağıdaki isimlerden hangisi verilerek bir yürüyüş parkuru hâline getirilmiştir?

- A) Gazi Yolu B) İstiklâl Yolu
C) Kurtuluş Yolu D) Türk Yolu
E) Mücadele Yolu

57. Çanakkale savaşlarında attığı top mermisi ile savaşın seyrini değiştiren Seyit Onbaşı'nın vurduğu gemi aşağıdakilerden hangisidir?

- A) Agamemnon B) Inflexible
C) Majestic D) Queen Elizabeth
E) Ocean

58. İspanya'nın Pamplona kentinde her yıl boğaların koşurulduğu ve güreştirildiği, bu nedenle başta hayvan hakları savunucuları olmak üzere birçok kesimden tepki alan festival aşağıdakilerden hangisidir?

- A) La Tomatina B) Capella
C) Las Fallas D) San Fermin
E) Los Mayos

59. Sahip olduğu ileri teknoloji özellikleri nedeniyle 6. nesil olarak adlandırılan ilk Türk sondaj gemisinin adı aşağıdakilerden hangisidir?

- A) Fatih B) Yavuz C) Kıbrıs
D) Atak E) Göktürk

60. Antarktika'ya Bilim Üssü Kurulması Projesi kapsamında Türk ekibinin 2019 yılında kamp kurduğu ada aşağıdakilerden hangisidir?

- A) Elephant B) Horseshoe C) Brabant
D) Darnley E) Lyddan

SINAVDA UYULACAK KURALLAR

1. Sınav salonunda saate entegre kamera ile kayıt yapılıyor ise kamera kayıtlarının incelenmesinden sonra sınav kurallarına uymadığı tespit edilen adayların sınavları, ÖSYM Yönetim Kurulunca geçersiz sayılacaktır.
2. Cep telefonu ile sınava girmek kesinlikle yasaktır. Adayların sınav binasına; her türlü delici ve kesici alet, ateşli silah, çanta, cüzdan, cep telefonu, saat (kol saati ve her türlü saat), anahtarlık, her türlü araç anahtarı, kablosuz iletişim sağlayan bluetooth ve benzeri cihazlar ile; kulaklık, kolye, küpe, yüzük (alyans hariç), bilezik broş ve diğer takılar, her türlü plastik, cam eşya (şeffaf numaralı gözlük hariç), plastik ve metal içerikli eşyalar (başörtü için kullanılan boncuklu/boncuksuz toplu iğne, metal para, anahtarlıksız basit ev anahtarı, ulaşım kartı, basit tokalı kemer, basit tel toka ve basit piercing hariç) banka/kredi kartı vb. kartlarla her türlü elektronik/mekanik cihaz ve her türlü müsvedde kâğıt, defter, kalem, silgi, kalemıraş, kitap, ders notu, sözlük, dergi, gazete ve benzeri yayınlar, cetvel, pergel, açıölçer ve bu gibi araçlarla, yiyecek içecek (şeffaf pet şişe içerisinde bandaj çıkarılmış su hariç), ilaç ve diğer tüketim maddeleri ile gelmeleri yasaktır. Bu tür eşya, araç-gereçlerle sınava girmiş adaylar mutlaka Salon Tutanağı'na yazılacak, bu adayların sınavı geçersiz sayılacaktır. Ancak, ÖSYM Başkanlığı tarafından belirlenen Engelli ve Yedek Sınav Evrakı Yönetim Merkezi (YSYM) binalarında sınava girecek olan engelli adayların sınav giriş belgelerinde yazılı olan araç-gereçler, cihazlar vb. yukarıda belirtilen yasakların kapsamı dışında değerlendirilecektir.
3. Bu sınav için verilen cevaplama süresi **130 dakikadır (2 saat, 10 dakika)**. Sınav başladıktan sonra **ilk 100'e son 15 dakika** içinde adayın sınavdan çıkmasına kesinlikle izin verilmeyecektir. **Bu süreler dışında, cevaplama sınav bitmeden tamamlarsanız cevap kâğıdınızı ve soru kitapçığınızı salon görevlilerine teslim ederek salonu terk edebilirsiniz. Bildirilen sürelere aykırı davranışlardan adayın kendisi sorumludur.**
4. Sınav salonundan ayrılan aday, her ne sebeple olursa olsun, tekrar sınav salonuna alınmayacaktır.
5. Sınav süresince görevlilerle konuşmak, görevlilere soru sormak yasaktır. Aynı şekilde görevlilerle adaylarla yakından ve alçak sesle konuşmaları ayrıca adayların birbirinden kalem, silgi vb. şeyleri istemeleri kesinlikle yasaktır.
6. Sınav sırasında, görevlilerin her türlü uyarısına uymak zorundasınız. Sınavınızın geçersiz sayılması, her şeyden önce, sınav kurallarına uymanıza bağlıdır. Kurallara aykırı davranışta bulunanlar ve yapılacak uyarılara uymayanlar Salon Tutanağı'na yazılacak ve sınavları geçersiz sayılacaktır.
7. Sınav sırasında kopya çeken, çekmeye kalkışan, kopya veren, kopya çekilmesine yardım edenler Salon Tutanağı'na yazılacak ve bu adayların sınavları geçersiz sayılacaktır. Adayların test sorularına verdikleri cevapların dağılımları bilgi işlem yöntemleriyle incelenecek, bu incelemelerden elde edilen bulgular bireysel veya toplu olarak kopya çekildiğini gösterirse kopya eylemine katılan adayın/adayların sınavı geçersiz sayılacak ayrıca bu aday/adaylar 2 yıl boyunca ÖSYM tarafından düzenlenen hiçbir sınavı başvuru yapamaz ve sınavlara giremeyecektir. Sınav görevlileri bir salondaki sınavın, kurallara uygun biçimde yapılmadığını, test sorularına girişiminde bulunulduğunu raporlarında bildirdiği takdirde, ÖSYM bu salonda sınava giren tüm adayların sınavını geçersiz sayabilir.
8. Cevap kâğıdında doldurmanız gereken alanlar bulunacaktır. Bu alanları doldurunuz. Cevap kâğıdınızı başkaları tarafından görülmeyecek şekilde tutmanız gerekmektedir. Cevap kâğıdına yazılacak her türlü yazıda ve yapılacak bütün işaretlemelerde kursun kalem kullanılacaktır. Sınav süresi bittiğinde cevapların, cevap kâğıdına işaretlenmiş olması gerekir. Soru kitapçığına işaretlenen cevaplar geçerli değildir.
9. Soru kitapçığınızı alır almaz kitapçık kapağında bulunan alanları doldurunuz. Size söylendiği zaman sayfaların eksik olup olmadığını, kitapçıkta basım hatalarının bulunup bulunmadığını ve soru kitapçığının her sayfasında basılı bulunan soru kitapçık numarasının, kitapçığının kapağında basılı soru kitapçık numarasıyla aynı olup olmadığını kontrol ediniz. Soru kitapçığının sayfası eksik veya basım hatalıysa değiştirilmesi için salon başkanına başvurunuz. **Size verilen soru kitapçığının numarasını cevap kâğıdınızdaki "Soru Kitapçık Numarası" alanına yazınız ve kodlayınız. Cevap kâğıdınızdaki "Soru Kitapçık Numaramı doğru kodladım." kutucuğunu işaretleyiniz. Soru kitapçığı üzerinde yer alan Soru Kitapçık Numarasını doğru kodladığınızı beyan eden alanı imzalayınız.**
10. Sınav sonunda soru kitapçıkları toplanacak ve ÖSYM'de incelenecektir. Soru kitapçığının sayfalarını koparmayınız. Soru kitapçığının bir sayfası bile eksik çıkarsa sınavınız geçersiz sayılacaktır.
11. Cevap kâğıdına ve soru kitapçığına yazılması ve işaretlenmesi gereken bilgilerde bir eksiklik ve/veya yanlışlık olması hâlinde sınavınızın değerlendirilmesi mümkün değildir, bu husustaki özen yükümlülüğü ve sorumluluk size aittir.
12. Soruları ve/veya bu sorulara verdiğiniz cevapları ayrı bir kâğıda yazıp bu kâğıdı dışarı çıkarmanız kesinlikle yasaktır.
13. **Sınav salonundan ayrılmadan önce, soru kitapçığınızı, cevap kâğıdınızı ve sınava giriş belgenizi salon görevlilerine eksiksiz olarak teslim ediniz. Bu konudaki sorumluluk size aittir.**
14. Sınav süresi salon görevlilerinin "SINAV BAŞLAMIŞTIR" uyarısıyla başlar, "SINAV BİTMİŞTİR" uyarısıyla sona erer.

Bu testlerin her hakkı saklıdır. Hangi amaçla olursa olsun, testlerin tamamının veya bir kısmının Merkezimizin yazılı izni olmadan kopya edilmesi, fotoğrafının çekilmesi, herhangi bir yolla çoğaltılması, yayımlanması ya da kullanılması yasaktır. Bu yasağa uymayanlar gerekli cezai sorumluluğu ve doğacak tüm mali külfeti peşinen kabullenmiş sayılır.

14-07-2019

GENEL YETENEK

1. D
2. A
3. D
4. C
5. D
6. B
7. E
8. B
9. E
10. E
11. A
12. C
13. B
14. E
15. D
16. C
17. C
18. C
19. A
20. D
21. D
22. A
23. C
24. E
25. E
26. B
27. B
28. A
29. E
30. C
31. A
32. A
33. E
34. C
35. A
36. B
37. A
38. D
39. E
40. B
41. D
42. C
43. D
44. C
45. C
46. A
47. B

GENEL YETENEK

48. E
49. D
50. A
51. B
52. B
53. D
54. C
55. E
56. D
57. B
58. E
59. B
60. E

GENEL KÜLTÜR

1. E
2. E
3. D
4. A
5. A
6. C
7. B
8. D
9. B
10. A
11. B
12. B
13. B
14. C
15. E
16. A
17. C
18. D
19. E
20. A
21. D
22. B
23. E
24. C
25. D
26. B
27. C
28. C
29. B
30. A
31. A
32. E
33. B
34. A
35. D
36. A
37. C
38. A
39. D
40. B
41. D
42. D
43. A
44. C
45. E
46. A
47. D

GENEL KÜLTÜR

48. C
49. D
50. E
51. D
52. A
53. D
54. E
55. A
56. B
57. E
58. A
59. A
60. B

ÖSYM

Bu soruların telif hakları ÖSYM'ye aittir. Sorular ÖSYM'nin yazılı izni olmaksızın hiçbir kişi, kurum veya kuruluş tarafından kullanılamaz.