



T.C. Ölçme, Seçme ve Yerleştirme Merkezi

KAMU PERSONEL SEÇME SINAVI LİSANS

GENEL YETENEK TESTİ GENEL KÜLTÜR TESTİ

6 EYLÜL 2020

Bu testlerin her hakkı saklıdır. Hangi amaçla olursa olsun, testlerin tamamının veya bir kısmının Merkezimizin yazılı izni olmadan kopya edilmesi, fotoğrafının çekilmesi, herhangi bir yolla çoğaltılması, yayımlanması ya da kullanılması yasaktır. Bu yasağa uymayanlar gerekli cezai sorumluluğu ve testlerin hazırlanmasındaki mali külfeti peşinen kabullenmiş sayılır.

AÇIKLAMA

1. Bu kitapçıkta toplam **120 soru** bulunmaktadır.
Genel Yetenek Testi: 60 soru
Genel Kültür Testi: 60 soru
2. Bu sınav için verilen cevaplama süresi **120 dakikadır (2 saat, 10 dakika)**.
3. Bu sınav puanlanırken, her testteki doğru cevaplarınızın sayısından yanlış cevaplarınızın sayısının dörtte biri çıkarılacak ve kalan sayı o bölümle ilgili net puanınız olacaktır.
4. Kitapçığın sayfalarındaki boş yerleri müsvedde için kullanabilirsiniz.
5. Cevaplamaya istediğiniz sorudan başlayabilirsiniz. Bir soru ile ilgili cevabınızı cevap kağıdında o soru için ayrılmış olan yere işaretlemeyi unutmayınız.
6. Bu kitapçıkta yer alan her sorunun sadece bir doğru cevabı vardır. Cevap kağıdında bir soru için birden çok cevap yeri işaretlenmişse o soru yanlış cevaplanmış sayılacaktır. İşaretlediğiniz bir cevabı değiştirmek istediğinizde, silme işlemi çok iyi yapmanız gerektiğini unutmayınız.
7. Sınavda uyulacak kurallar bu kitapçığın arka kapağında belirtilmiştir.

1. Bu testte 60 soru vardır.

2. Cevaplarınızı, cevap kâğıdının Genel Yetenek Testi için ayrılan kısmına işaretleyiniz.

1. Kast ve kabile bağılıklarının geniş boyutlarda ve çeşitli düzeylerde görülebildiği Hindistan, ülkenin ---- toplumsal ve kültürel yapısındaki bezdirici düzensizliğe ---- için çok yönlü bir siyasi yapı geliştirmek zorunda kalmıştır.

Bu cümlede boş bırakılan yerlere sırasıyla aşağıdakilerden hangisi getirilmelidir?

- A) karmaşık - çözüm bulabilmek
B) sorunlu - ivme kazandırabilmek
C) katmanlı - katkı sağlayabilmek
D) problemlili - uyum gösterebilmek
E) homojen - son verebilmek

2. İnsanın sadece olumlu özellikleriyle kendini kabullenmesinden daha trajik bir şey yoktur. Trajiktir çünkü çevrenin de farkında olmadan desteklediği bu öz kabul; insanın potansiyeli önünde bir engel, daha iyi bir insana dönüşmek için gerekli olan motivasyonun mutlak yitimidir. Böyle insanların yazgısı narsistik bir patinajdır. Her günü kendini seyretmekle geçiren, her zerresine ve her tavrına hayran yaşayan bir insanın kendini geliştirmek için bir nedeni olmasa gerek.

Bu parçada altı çizili sözle anlatılmak istenen aşağıdakilerden hangisidir?

- A) İnsanların daha fazla kişiyi kendine hayran bırakmak için çabalaması
B) Olumlu yönlerine odaklanan kişilerin kendini kanıtlamaya çalışması
C) Öz sevgisi yüksek insanların yanında saymamak için gayret göstermesi
D) Kendini aşırı beğenen kişilerin gerçeklikle bağının giderek zayıflaması
E) Mükemmel olduğuna inanan insanların yenilik ve değişimden uzaklaşması

3. I. Macera-dram türündeki *Stand By Me* adlı filme kaynaklık eden romanın yazarı, eserde kendi çocukluğundan esinlenmiştir.
II. Korku romanlarıyla tanınan Stephen King'in diğer eserlerinden farklı özellikler taşıyan *The Body* isimli romanı, sinemaya *Stand By Me* adıyla uyarlanmıştır.

Bu iki cümlenin anlamca doğru birleştirilmiş hâli aşağıdakilerden hangisidir?

- A) Korku romanları konusunda önemli bir isim hâline gelen Stephen King'in macera-dram türünde kaleme aldığı ve sinemaya *Stand By Me* adıyla uyarlanan *The Body* isimli romanı, yazarın çocukluğundan izler taşımasıyla diğer eserlerinden ayrılır.
B) Stephen King denilince akla korku romanları gelse de yazarın kendi çocukluğundan izler taşıyan *The Body* isimli romanından sinemaya *Stand By Me* adıyla uyarlanan filmin macera-dram türünde olması eserin, yazarın diğer romanlarından farklı olduğunu göstermektedir.
C) Korku romanı türünün önemli bir temsilcisi sayılan Stephen King, kendi çocukluğundan ilham alarak oluşturduğu *The Body* isimli korku romanının, diğer eserlerinden farklı olarak sinemaya *Stand By Me* adıyla macera-dram türünde uyarlanmasını istemiştir.
D) Okurların, korku romanı türüyle tanıdığı Stephen King'in çeşitli yönleriyle öteki eserlerinden farklılaşan ve ilhamını kendi çocukluk yıllarından aldığı *The Body* isimli romanı, sinemaya *Stand By Me* adıyla macera-dram türünde uyarlanmıştır.
E) Stephen King'in kendi çocukluğunu anlattığı macera-dram türündeki *The Body* adlı romanının sinemaya *Stand By Me* adıyla uyarlanması, onun korku romanı türündeki eserlerinin diğer yazarlarınkinden farklı olduğuna işaret etmektedir.

4. Eskiden, biri kuyuya taş atınca kırk kişi o taşı çıkarmaya uğraşırdı oysa şimdi kuyuya bir taş atıldığında insanlar, kuyuyu taşla doldurmak için âdeta birbiriyle yarışır hâle geldi.

Bu cümlede yakınılan durum aşağıdakilerden hangisidir?

- A) Eskiden olumsuzlukları gidermek için çaba gösterenlerin zamanla duyarsızlaşmasından
B) Zaman geçtikçe başka insanlara karşı beslenen olumsuz duyguların derinleşmesinden
C) İnsanların geçmişte düzeltmeye çalıştıkları olumsuzlukların bugün bir parçası olmalarından
D) Toplumsal değerlerden uzaklaşan bireylerin günümüzde kendilerine yabancılaştırmalarından
E) İnsanların kendileriyle ilgili olmayan durumlara karşı kayıtsızlıklarının giderek artmasından

5. İroni, bireysel veya toplumsal bir konuda üst bakış ve ince alayla bir şeyi över görünüşünde onu gülünçleştirerek anlatmaktır. İroni aracılığıyla yazarlar gerçeğe ayrıca vurgu yapmak için eleştirisini akıcı bir anlatımla ve ima yoluyla dile getirirler. İronide zekâ, yergi ve mizah dolaylı bir bağlam içinde, çarpıcı bir anlatımla sunulur. Geçmişten günümüze birçok yazar ironiden yararlanmış, onun aracılığıyla yapıtların retorik olarak da zengin kılınmıştır.

Bu parçadaki numaralanmış virgüller, işlevleri bakımından gruplandırıldığında hangi ikisi bir grup oluşturur?

- A) I ve II
B) I ve IV
C) II ve III
D) III ve V
E) IV ve V

6. (I) Genç bilim insanı Edmund Halley, 1682'de daha sonra kendi adıyla anılacak olan bir yıldızla tanıştı. (II) İsmi verilmesine neden olan şey, Uzay ile ilgili yaptığı muhteşem keşif değildi. (III) Halley, bu cismin Güneş'in yörüngesinde dönen bir nesne olduğunu ve 75 yılda bir görülebileceğini hesapladı. (IV) Bir sonraki ziyaretin 1758'de olacağını söyledi ve gerçekten de bu gök taşı, o sene insanlar tarafından görüldü. (V) Ne var ki zavallı Edmund, 1742'de öldüğü için, adıyla anılan Halley Kuyruklu Yıldızı'nı tekrar görme şansına sahip olamadı.

Bu parçada numaralanmış cümlelerin hangisinde bir yazım yanlışı yapılmıştır?

- A) I
B) II
C) III
D) IV
E) V

7. Bugün hâlâ daracık sokaklarında çocukların oynadığı, insanların birbirlerinin hayatlarında haberdar olduğu, acıları ve sevinçleri paylaşarak ortak bir belleğe dönüştüren mahallelerin bulunduğu kentler, geleceğe dair umutları diri tutan mekânlar olarak varlığını koruyor. Yıkılmak yerine iyileşmeyi esas alan, nasıl daha iyi var edebileceğine odaklanan bu mahalle kültürü, gelecekte de şehri yaşatabilir olacak.

Bu parçada aşağıdaki ses olaylarından hangisi yoktur?

- A) Ünlü düşmesi
B) Ünsüz benzeşmesi
C) Ünsüz yumuşaması
D) Ünlü daralması
E) Ünlü türemesi

8. Aşağıdaki cümlelerin hangisinde yüklem, belirtili isim tamlamasından oluşmaktadır?

- A) Hayatın nefes kesen zorlu yokuşunu bıkmadan usanmadan tırmanırken çocuk kitaplarıyla ilgilenmek boş bir uğraşıdır.
- B) Doymak bilmeyen iştahlı bir okur olarak geçirdiğim mutlu çocukluğum sözcüklerin büyüüne kapıldığım yıllardır.
- C) Yetişkinlerin unuttukları sahici sadeliğe ulaşabilmelerinin yolu çocuk tecrübesizliğini yeniden deneyimleme hevesidir.
- D) Çarpık modernleşmenin yaşandığı kültür dünyamızın çocuk edebiyatına yansımalarındaki asıl sorun bir ileri iki geri yaşanan gelgitlerdir.
- E) Çocuğun etkin okur kimliği kazanmasında nitelikli çocuk kitapları ile buluşması sürecin en önemli adımıdır.

9. Denizanasının, vücudunda ürettiği bir molekül olan yeşil floresan proteini 238 amino asitten meydana gelmektedir. Bu yapı; başka bir proteine, moleküle veya kimyasal reaksiyona ihtiyaç duymadan etrafına floresan yeşil ışık verir. Bu özelliğinden dolayı moleküler biyoloji, genetik mühendisliği ve biyomedikal alanlarında çalışan araştırmacıların bir hayli ilgisini çekmektedir.

Bu parçada aşağıdakilerden hangisi yoktur?

- A) İsim-fiil grubu B) Zarf-fiil grubu
C) Sıfat-fiil grubu D) Edat grubu
E) Bağlama grubu

10. Ana karakter olarak insanı göremediğimiz anlatılarla karşılaşmamız çok eskiye dayanır. En çok da kadim metinlerde görürüz onları. Çocukken Ezop'un, La Fontaine'in fabllarını dinleyen herkes, laf ebesi horoz ile onu yemek isteyen kurdu, kurnaz tilki ile ağzındaki peyniri kaptıran şaşkın kargayı ve bu hikâyelerdeki diğer birçok kahramanı bilir. Peki, bu karakterler çağdaş metinlerde karşımıza nasıl çıkıyor? Bizi tüm doğallığıyla heyecanlandırabilecek bir tabii karakteri ile karşılaşıyor muyuz?

Bu parçadaki altı çizili sözcüklerden hangisi diğerlerinden farklı bir ek almıştır?

- A) I B) II C) III D) IV E) V

11. İlhan Berk, Türk edebiyatının en etkili şairlerindedir. Hayattayken şiirsel arayışlarından hiç vazgeçmedi, ömrünün son yıllarında bile tekrara düşmedi. Sınırsız bir yenilik ve genişlemeydi onun derdi. Şiirleri, ondandır, hep diri kaldı. Şiir yazma uğraşı bir tutku olarak daima sürdü onda.

Bu parçada numaralanmış sözcüklerden hangisi türü bakımından diğerlerinden farklıdır?

- A) I B) II C) III D) IV E) V

12. Gül, asırlar boyunca birçok kültürde kendine yer bulabilmiş önemli bir metaforudur. Ancak her ulus bu metaforu kendi kültürel değerleri bağlamında yorumlamıştır. Türk edebiyatında şairler gülün cezbedici kokusu ve rengi gibi birçok özelliğiyle sevilen kişi arasında bağlantı kurmuştur. Amerikan edebiyatında ise gül, bir yandan güzel görüntüsü diğer yandan kökünden çürüme özelliğiyle Amerikan aile yapısıyla özdeşleştirilmiştir. Bu aileler, komşularına mutlu olduklarını gösteren bir imaj sergiler ancak aileyi oluşturan öğeler, ailevi ilişkilerin yozlaşması sonucu, yapraklarını döken bir ağaç misali her gün biraz daha eksilmektedir.

Bu parçanın anlatımında aşağıdakilerden hangisi yoktur?

- A) Karşılaştırma B) Açıklama
C) Örneklendirme D) Öyküleme
E) Benzetme

13. (I) Aydınlanma Çağı boyunca şans, sıradan insanların boş inancı olarak görüldü. (II) Bu dönemde şans; bayağılık, akıl dışılık ve bilgisizlikle bir tutuldu. (III) Ancak dünyadaki düzenin her zaman evrensel doğa yasalarına bağlı kalmayabileceğinin anlaşılmasıyla şansa yer açıldı. (IV) Bilginin üstünlüğüne inanan Aydınlanma Çağı insanı, tesadüfü ve kaosu dahi mutlak doğa yasalarıyla açıklayabilirdi. (V) Dünyanın insana gelişigüzel görünmesinin nedeni, şans değil, iç mekanizmasının kaçınılmaz işleyişinin anlaşılabilmesi idi.

Bu parçada numaralandırılmış cümlelerden hangisi düşüncenin akışını bozmaktadır?

- A) I B) II C) III D) IV E) V

14. (I) Duygularımız bize bir şeyin doğru veya yanlış olduğunu söyleyen geri besleme mekanizmalarıdır. (II) Sıcak bir sobaya dokunmanın verdiği acının bir daha sıcak bir şeye dokunmamayı öğretmesi gibi yalnız olmanın verdiği hüznün de bir daha kendimizi o kadar yalnız hissettirecek şeyler yapmamayı öğretir. (III) Hissettiğimiz iyi ve kötü duygular davranışlarımızı yönlendiren biyolojik sinyallerdir. (IV) Olumsuz duygular eyleme geçme çağrısıdır, içimizde bir şeyler yapma duygusu uyandırır. (V) Doğru eylemi yapmanın ödülü olan olumlu duygular; bize ferahlık ve mutluluk verirken akla uygun olmasa da devam etmemizi önerir. (VI) Duyguları aklın önüne geçirmek, yanlış bir eylemmiş gibi görünse de verdiği rahatlık vazgeçilmezdir.

Bu parça iki paragrafa ayrılacak istense ikinci paragraf numaralanmış cümlelerin hangisiyle başlar?

- A) II B) III C) IV D) V E) VI

15. I. Düşünmeye başladığımız zaman kontrolsüz bir şekilde artan eylem alanımızı daraltır ve yapacağımız işleri farkında olmadan biriktirmeye başlarız.
II. İş hayatında öngöremediğimiz bir sorunla karşılaşmamak için her şeyi en ince ayrıntısına kadar düşünür, benzer konuları inceler, karşılaştırırız.
III. Kafamızı kaldırıp önümüzde tamamlanması gereken iş yığınına görünce bir anda ne yapacağımızı şaşırırız çünkü işleri sıraya koymak zorlaşmıştır.
IV. Belli bir düzen izlemeyi bırakıp biriken işleri ya son anda ya da gecikmeli olarak tamamlamaya başlarız ve işi teslim etmenin yarattığı kısa süreli rahatlamalarla avunuruz.
V. Erteleme, stres, sıkıntı, kısa süreli rahatlama şeklinde devam eden bu döngüde hem işe başlamak zorlaşır hem de ilk adımı atamamanın yarattığı stres, kişinin öz güvenini zedeler.

Bu parçada numaralanmış cümlelerin anlamlı bir bütün oluşturabilmesi için hangilerinin birbiriyle yer değiştirmesi gerekir?

- A) I ve II B) I ve V C) II ve IV
D) III ve IV E) III ve V

16. Romantizm, akılcılığa tepki niteliğinde doğmuş bir düşünce akımıdır. Pek çok tepkisel entelektüel akım gibi romantizm de ----. Akılcılık öncelikle kentlerde oluşup kentin damgasını taşıdığından romantikler kenti yapay olarak nitelendirip doğanın sıcaklığına sığındılar. Akılcılık Orta Çağ'ı küçümsemişti, romantikler ise bu dönemi yüceltip akla karşı kırdı bulduklarına inandıkları işlenmemiş insan duygularına ve ahlakına bağlandılar. Neticede iki akım da doğa kavramını değerler listesinin en başına koyuyordu ama doğadan anladıkları şey birbirinin tam karşıtıydı.

Bu parçada boş bırakılan yere düşüncenin akışına göre aşağıdakilerden hangisi getirilmelidir?

- A) karşısında durduğu akımın olumsuz özellikler yanında olumlu özellikler de taşıdığı farkındaydı
- B) insan duyarlılığındaki anlamsız farklılıkların aşıldığına ve tamamen bir kenara bırakıldığına işaret ediyordu
- C) başlangıçta sınırlı sayıda aydının ilgisini çekse de zamanla daha geniş kitleleri etkisi altına almayı başardı
- D) kendi düşünsel gövdesini, karşısında olduğu akımın öne sürdüğü değerleri tersine çevirerek oluşturdu
- E) insan aklının özgürleşmesinde etkisi olan pek çok sanatçı ve düşünürün yoğun emeğiyle geliştirildi

17. Beyin, hiyerarşik bir düzene sahip üç katmandan oluşur. En üstte beyin korteks tabakası bulunur. Daha derin katmanlar ise memeliler ve sürüngenlerle ortak yapısal özellikler taşır. Örneğin insan beyinin en eski kısmı olan R-kompleks sürüngenlerde de beyin büyük bir bölümünü oluşturur. İnsanda bu kısım beyin derinliğinde yer alır, bodruma atılmış eski bir oyuncak gibidir; kendi programlarını bağımsızca uygulayarak davranışlarımızı etkiler. R-kompleks diğer adıyla sürüngen beyin; geçmişten gelen izlerle doludur ve davranışlara o doğrultuda, içgüdüsel ritüellerle yön verir. Yeni ve alışılmamış durumlarla karşılaşıldığında işe yaramaz.

Bu parçadan hareketle R-kompleks ile ilgili aşağıdakilerden hangisine ulaşılabılır?

- A) Özelliğe, zaman-mekân duyusuna ve kararım yeteneğine sahiptir.
- B) Sürüngenlerin davranışlarına benzeyen davranış kalıpları üretir.
- C) Öğrenilmemiş ve programlanmamış davranış dizilerini sağlar.
- D) Otoriteden korkma ve boyun eğme gibi davranışları reddeder.
- E) Algılama, neden-sonuç üretme ve depolama işlevlerini üstlenir.

ÖSYM
Bu soruların telif hakları ÖSYM'ye aittir. Sorular ÖSYM'nin yazılı izni olmaksızın hiçbir kişi, kurum veya kuruluş tarafından kullanılamaz.

18. Müsabakalara yüklenen anlam, bütün uygarlıklarda olağanüstü bir benzerlik gösterir. Bu benzerlik, yarışma ve kazanmaya bağlı mücadele faaliyetinin; insan psikolojisinin derinlerine nasıl kök saldığının kanıtıdır. İlk bakışta, daha iyi olduğunu rakibine kabul ettirme çabası dikkat çekse de her müsabakanın kökeninde oyun vardır: Bir gerilime son veren ve hayatın olağan akışına yabancı olan bir şeyi belirli bir zaman ve mekân içinde, birtakım kurallara uygun biçimde gerçekleştirmeye yönelen bir anlaşma. Başka bir ifadeyle müsabakalar bir bahis, adil bir duruşma veya bir bilmece biçimine bürünse de yapısı itibarıyla bir oyun olarak kalır. Bu oyun olma niteliği de onun bir uygarlığın bütünü içindeki işlevini anlamaya izin veren hareket noktasını oluşturur çünkü kimi toplumlarda oyunun galibi bilge, kimilerinde güçlü kişi, kimilerinde ise en iyi hile yapandır.

Bu parçadan hareketle aşağıdakilerden hangisi söylenebilir?

- A) İkel toplumlarda rekabete yönelik oyunlara herkes katılabildiği için toplumların adalet anlayışı giderek gelişmiştir.
- B) Çeşitli uygarlıklarda, üstünlük kanıtlamak için özünde oyun bulunan farklı niteliklere sahip yarışmalar düzenlenmiştir.
- C) Uygarlıkların ilk aşamalarında güce dayalı yapılan yarışmalar, sonraki zamanlarda bilgiyi temel alarak gerçekleştirilmiştir.
- D) İlk uygarlıklardan bu yana yarışma kurallarının değişmesi, kişilerin ve toplumların kazanma motivasyonunu artırmıştır.
- E) Sıradan kabul edilen durumların oyunlaştırılarak yarışmaya dönüştürülmesi, uygarlıklar için gelişmişlik göstergesidir.

19. Sevgiyi mutlak bir iyilikle, yücelikle birlikte düşünmek gibi evrensel bir hatamız var. Oysa bencil bencilce sever, zalim zalimce. Toni Morrison'ın da dediği gibi sevgi asla sevenden daha iyi değildir.

Bu parçada anlatılmak istenen aşağıdakilerden hangisidir?

- A) Sevginin değişmez yüceliğine inananlar, sevgi karşısında kendini küçültür.
- B) Sevgi, sevme biçimleri birbirine benzeyen iki insan arasında ortaya çıkar.
- C) Seven kişinin sevgisini göstermesi için kendini her yönüyle tanıması gerekir.
- D) Sevenin kimliği ve kişilik özellikleri, kişinin sevgi deneyimini şekillendirir.
- E) Kişi, kendi sevgisinin karşısındakinden daha güçlü olduğu inancındadır.

ÖSYM
Bu soruların telif hakları ÖSYM'ye aittir. Sorular ÖSYM'nin yazılı izni olmaksızın hiçbir kişi, kurum veya kuruluş tarafından kullanılamaz.

20. - 21. soruları aşağıdaki parçaya göre cevaplayınız.

Picasso 1920'lerde kariyerinin önemli bir dönüm noktasını oluşturacak kritik bir adım atar: Eşi benzeri olmadığı düşünülen sanat eserlerini karikatürize etmeye başlar. Karikatür sözcüğü yanlış bir izlenim uyandırmaz. Picasso'nun her biri bir dehayı taklit eden bu yapıtları, basit birer şaka olarak kabul edilemeyecek kadar ustaca yapılmıştır. Picasso'nun, ustalarinkine yakın bir yeteneğe sahip olduğunu kanıtlayan bu eserleri, özgün yapıtlar ölçüsünde doyurucu veya derin kabul edilmemiştir çünkü biçimleriyle içerikleri arasında rahatsız edici bir bölünme vardır. İşte tam da bu yönüyle derin bir alay ögesi taşırlar. Aslında ustalar gibi yapabileceğini bu eserleriyle kanıtlayan ressam, kendi üslubunu belirlemek yerine ustaların hepsine onların kendi tarzlarıyla meydan okumayı seçer. Öte yandan Picasso, döneminde önemli görülüp kültürel bir öge olarak müzelerde sergilenen eserlere verilen değerin ve onur payesinin abartılı olduğunu öne sürer. Bu yapıtları üreten Picasso'nun motivasyonu, resamlara duyduğu saygısızlık veya resim hakkında söylemek istedikleri değil, sanat tarihi hakkında vurgulamak istedikleridir. Henüz kendi eserleri geniş çevrelerce tanınmamış sıradan bir ressamın bile o dönemde önemli görülen eserleri kendi üslubuyla taklit edebilmesine dayanarak şu soruyu sorar: Halktan biri, kralın yaptığına yapabiliyorsa soyluluğun ne anlamı var?

20. Bu parçada altı çizili sözle anlatılmak istenen aşağıdakilerden hangisidir?

- A) Tekrar edilebilir sanatsal üretimin ayrıcalıklı kabul edilmesi beklenemez.
- B) Eserlerin soyluluk göstergesi kabul edilmesi, sanatın gelişmesini engeller.
- C) Müzelerde sergilenen eserler, sanatçılar tarafından üstün olarak değerlendirilir.
- D) Sanatçılar, eserlere üstünlük payesini ancak halkın verebileceğine inanır.
- E) Sıradan birinin anlayamadığı sanat, üstün olarak değerlendirilemez.

21. Bu parçaya göre Picasso ile ilgili aşağıdakilerden hangisi söylenemez?

- A) Kariyerinin bir döneminde geleneksel değerlere ve halk için sanat anlayışına savaş açmıştır.
- B) Karikatürize eserleri, teknik üstünlükten ziyade içerdikleri sanat eleştirisi açısından önemlidir.
- C) Karikatürize eserleriyle pek çok saygın ressama, tarzlarını taklit ederek kafa tutmuştur.
- D) Ressamların eserlerini, sanatçı kimliklerine karşı olumsuz bir tavır beslemeden taklit etmiştir.
- E) Müzelerdeki önemli eserleri taklit ederek bu eserlerin ulaşılabilir olduklarını göstermiştir.

22. - 23. soruları aşağıdaki parçaya göre cevaplayınız.

Gündelik hayatta insanların birbirine duyduğu ihtiyaçların oluşturduğu örgü, onları birbirine bağlar. "Figürasyon" kavramı sosyal anlamdaki bu karşılıklı bağımlılığın yarattığı ilişki kodları, gündelik hayatın işleyiş biçimlerini anlamamıza imkân sağlar. Başka bir ifadeyle gündelik hayat, insanların eylemlerini belirleyen figürasyonlar aracılığıyla yürür ama aynı zamanda figürasyonları oluşturan da insanların eylemleridir. Bu kavramı en iyi anlatan örnek, toplu danslardır. Mazurka, tango veya rock'n roll'u düşünün. Bu danslar sırasında birbirlerine bağımlı insanların oluşturduğu figürasyon imajları, tıpkı kent yaşamını veya aileyi tanımlayan ilişki biçimlerine benzer. Genel ve soyut olarak bir dansın varlığından söz edilebilir ancak hiç kimse, bireylerin dışında var olan bir danstan söz edemez. Bunun yanında bir danstaki aynı figür farklı bireyler tarafından sergilenebilir ancak birbirlerine bağımlı bireylerin oluşturduğu bir yapı olmaksızın dans da var olamaz.

22. Bu parçada "figürasyon" ile ilgili anlatılmak istenen aşağıdakilerden hangisidir?

- A) Bir dansı tanımlayan ve ona niteliğini kazandıran hareketler toplamından ibaret olduğu
- B) Toplumsal yaşamı inşa eden insani eylemlerin görünmeyen boyutlarını oluşturduğu
- C) Toplumsal ihtiyaçların karşılanması amacıyla geliştirilen bireysel imajlara karşılık geldiği
- D) Bireyler arasındaki karşılıklı etkileşimleri resmeden imgeler olarak düşünülebileceği
- E) Bireylerin toplum içinde üstlendikleri rollerin bir eleştirisi olarak değerlendirilebileceği

23. Bu parçaya göre figürasyonların hangi özelliği gündelik hayatın anlaşılmasına imkân sağlamaktadır?

- A) İnsanın, eylemlerini tek başına gerçekleştirmedeğini varsayması
- B) Bireylerin toplumsal yaşama gereksinimlerinin nedenini göstermesi
- C) Küçük ve büyük toplumsal birliklerin oluşumuna vurgu yapması
- D) Günlük yaşamın akışında insan ilişkilerindeki değişime odaklanması
- E) Sosyal alanda insan eylemlerinin hem belirleyicisi hem sonucu olması

Bu soruların telif hakları ÖSYM'ye aittir. Sorular ÖSYM'nin yazılı izni olmaksızın hiçbir kişi, kurum veya kuruluş tarafından kullanılamaz.

24. - 26. soruları aşağıdaki parçaya göre cevaplayınız.

Tarihte ilk defa Sümerler mal veya hizmet karşılığında, takas dışında, sabit ve değerli bir nesne olması gerektiğine inanarak arpayı kullanmışlardır. Örneğin birkaç et parçası için birkaç kiloluk arpa ödemişlerdi. Arpayı bugünkü paranın niteliğinde kullanmaya insanları yönlendirmek ilk başlarda zor olsa da zamanla arpanın kullanımı giderek yaygınlık kazandı. Ancak arpayı hem depolamak hem de bir yerden bir yere götürmek zor olduğundan insanlar yeni arayışlara yöneldi, bu da paranın gelişiminde bir kırılma noktası oldu. Yaklaşık MÖ 3000'de para olarak Mezopotamya'da gümüş şekel kullanılmaya başlandı. Sonra hepimizin bildiği üzere Lidyalılar, ön yüzünde kraliyet armaları bulunan ilk madeni parayı bastı. Lidyalılardan bugüne birçok şey değişti ancak insanların paraya karşı duydukları koşulsuz güven hep aynı kaldı. Öyle ki karşılığında sadece bir avuç banknot alacaklarını bile bile limon satmaya, üç yaramaz çocuğa bakıcılık yapmaya ve hatta bereketli bir tarlayı gözden çıkarmaya razı oldular. Uzun vadeli politik, toplumsal ve ekonomik ilişkiler ağı sonucunda para; gündelik hayatın vazgeçilmez bir gerçeği hâline geldi. Çünkü insanlar, kollektif imgelem ve varsayımın icatlarına inanmanın getirdiği konfor ve iktidarı arzuladı.

24. Bu parçada altı çizili sözle anlatılmak istenen aşağıdakilerden hangisidir?

- A) Birer toplumsal sözleşmeye dönüşen buluşların insana bağışladığı düşünülen güç ve rahatlık
- B) Sosyal bir varlık olarak insanın aidiyet ve mülkiyet ihtiyaçlarını tatmin etmeye yönelik sistem
- C) Dünyadaki ekonomik düzeni kolay bir şekilde sürdürmeyi sağlayan pratik ve güvenli anlaşma biçimi
- D) Finans ilişkilerini birbirine bağlayan ortaya çıkabilecek sorunları hızla çözen hayalî ve kânci sözleşme
- E) Ortak yaşamın ekonomik boyutunu soyutluk ve karmaşadan kurtaran somutlaştırma girişimi

25. Bu parçaya göre paranın tarihsel serüveninde aşağıdakilerden hangisinin bir rolü olmamıştır?

- A) Pratik muhafaza edilmesi
- B) Kolay taşınabilir olması
- C) Ortak bir güven duyulması
- D) Dayanıklı materyalin kullanılması
- E) Ticari açıdan önemli görülmesi

26. Bu parçada parayla ilgili aşağıdakilerden hangisine değinilmıştır?

- A) Banknot şeklinde kullanılmaya başlandığı zamana
- B) Kimi toplumlarda saygınlık göstergesi olarak kabul edildiğine
- C) Yaşam için mülhak gerekli bir araç olarak benimsendiğine
- D) Alternatifi olmayacak bir sistem bulmanın zorluğuna
- E) Maddî değerinin belirlenmesinde ticari unsurların rolüne

27. - 30. soruları aşağıdaki bilgilere göre birbirinden bağımsız olarak cevaplayınız.

Alp, Buket, Caner, Duygu, Emin, Funda ve Gamze adlı hastalar; hâlsizlik, mide ağrısı ve uykusuzluk şikâyetleriyle aile hekimine belli bir sırada muayene olmuşlardır. Hastaların şikâyetleri ve muayene olma sıralarına ilişkin kimi bilgiler şu şekildedir:

- Her hastanın sadece bir şikâyeti vardır.
- Hastalardan üçünün hâlsizlik, ikisinin uykusuzluk şikâyeti vardır.
- Mide ağrısı şikâyeti olan Gamze, ikinci sırada muayene olmuştur.
- Beşinci ve altıncı sırada muayene olan hastaların şikâyetleri aynıdır.
- Caner'den hemen önce Alp, hemen sonra Funda muayene olmuştur ve üçünün de şikâyeti birbirinden farklıdır.
- Funda'nın şikâyeti uykusuzluktur.
- Buket ve Emin art arda muayene olmuştur.

27. Buna göre;

- Alp,
- Duygu,
- Emin

adlı hastalardan hangilerinin muayene sırası kesin olarak bilinmektedir?

- A) Yalnız I B) Yalnız II C) Yalnız III
D) I ve II E) I ve III

28. Buna göre;

- Alp,
- Buket,
- Caner

adlı hastalardan hangilerinin şikâyeti uykusuzluk olabilir?

- A) Yalnız I B) Yalnız II C) I ve III
D) II ve III E) I, II ve III

29. Aşağıdaki sıralarda muayene olan hastalardan hangilerinin şikâyetleri kesin olarak aynıdır?

- A) Birinci ve ikinci B) Birinci ve yedinci
C) İkinci ve üçüncü D) Üçüncü ve beşinci
E) Üçüncü ve yedinci

30. Tüm hastaların şikâyetlerinin ve muayene sıralarının tam olarak belirlenebilmesi için aşağıdakilerden hangisinin bilinmesi yeterlidir?

- A) Buket'in Emin'den sonra muayene olduğunun
B) Duygu'nun Caner'den önce muayene olduğunun
C) Alp ve Gamze'nin şikâyetlerinin aynı olduğunun
D) Buket ve Funda'nın şikâyetlerinin farklı olduğunun
E) Caner ve Emin'in şikâyetlerinin aynı olduğunun

$$31. \frac{1}{\left(8 - \frac{37}{8}\right)} \cdot \frac{9}{2}$$

işleminin sonucu kaçtır?

- A) $\frac{1}{3}$ B) $\frac{2}{3}$ C) $\frac{4}{3}$ D) $\frac{5}{3}$ E) $\frac{7}{3}$

$$32. \frac{12^8 - 24^6}{48^4}$$

işleminin sonucu kaçtır?

- A) 27 B) 32 C) 36 D) 45 E) 50

$$33. \frac{\sqrt{40} - \sqrt{14,4}}{\sqrt{1,6}}$$

işleminin sonucu kaçtır?

- A) 2 B) 3 C) 4 D) 5 E) 6

$$34. \frac{5 \cdot 5! - 4 \cdot 4!}{3 \cdot 3! - 2 \cdot 2!}$$

işleminin sonucu kaçtır?

- A) 28 B) 32 C) 36 D) 40 E) 44

ÖSYM

Bu soruların telif hakları ÖSYM'ye aittir. Sorular ÖSYM'nin yazılı izni olmaksızın hiçbir kişi, kurum veya kuruluş tarafından kullanılamaz.

$$\begin{array}{r}
 AAA5 \\
 4BB \\
 + \quad C3 \\
 \hline
 6104
 \end{array}$$

35. olduğuna göre, $A \cdot B \cdot C$ çarpımı kaçtır?
 A) 120 B) 150 C) 180 D) 210 E) 240

36. a pozitif bir tam sayı olmak üzere,

$$\frac{6a + 18}{a}$$

ifadesi bir tek doğal sayıya eşittir.

Buna göre, bu koşulu sağlayan a değerlerinin toplamı kaçtır?

- A) 20 B) 22 C) 24 D) 26 E) 28

$$\begin{aligned}
 37. \quad a &= 3^8 \\
 b &= 4^7 \\
 c &= 5^6
 \end{aligned}$$

olduğuna göre, aşağıdaki sıralamalardan hangisi doğrudur?

- A) $a < b < c$ B) $a < c < b$
 C) $b < c < a$ D) $c < a < b$
 E) $c < b < a$

38. x gerçe sayı için

$$1 < 2x < 7 < 5$$

olduğuna göre, $1 - 3x$ ifadesinin alabileceği tam sayı değerlerinin toplamı kaçtır?

- A) 27 B) 29 C) 31 D) 33 E) 35

39. x ve y gerçel sayıları için

$$2^x = 4^y$$

$$2^{x+1} + 4^{y+1} = 96$$

olduğuna göre, $x + y$ toplamı kaçtır?

- A) 3 B) 4 C) 6 D) 9 E) 12

40. Birbirinden farklı pozitif x ve y gerçel sayıları için

$$\frac{x^2 - y^2}{\sqrt{x} - \sqrt{y}} = 40$$

$$x + y = 10$$

olduğuna göre, $x \cdot y$ çarpımı kaçtır?

- A) 9 B) 10 C) 12 D) 14 E) 15

41. x bir tam sayı olmak üzere,

$$\frac{1}{3} < \frac{|x| - x}{32} < \frac{1}{2}$$

eşitsizliğini sağlayan x değerlerinin toplamı kaçtır?

- A) -11 B) -13 C) -15 D) -17 E) -19

42. x bir tam sayı olmak üzere,

$$|2x^2 - 5x - 7|$$

ifadesi bir asal sayıya eşittir.

Buna göre, x alabileceği değerlerin toplamı kaçtır?

- A) 2 B) 4 C) 6 D) 8 E) 10

ÖSYM

Bu soruların telif hakları ÖSYM'ye aittir. Sorular ÖSYM'nin yazılı izni olmaksızın hiçbir kişi, kurum veya kuruluş tarafından kullanılamaz.

43. Gerçel sayılar kümesi üzerinde bir f fonksiyonu

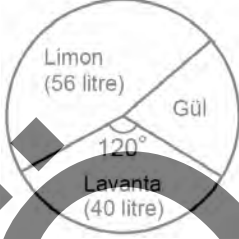
$$f(x) = 3x - 4$$

biçiminde tanımlanıyor.

$(f \circ f)(a) = 5 \cdot f(a)$ olduğuna göre, a gerçel sayısı kaçtır?

- A) $\frac{1}{2}$ B) $\frac{2}{3}$ C) $\frac{3}{4}$ D) $\frac{4}{5}$ E) $\frac{5}{6}$

44. Kolonya satılan bir dükkânda, bir hafta boyunca satılan limon, lavanta ve gül kolonyalarından bazılarının miktarları aşağıdaki dairesel grafikte gösterilmiştir.



Buna göre, yukarıdaki grafikte gül kolonyasına karşılık gelen daire diliminin merkez açısının ölçüsü kaç derecedir?

- A) 72 B) 69 C) 66 D) 63 E) 60

45. İki basamaklı AB doğal sayısı için aşağıdaki dört maddeden üçünün doğru birinin yanlış olduğu biliniyor.

- Asal bölen sayısı 2'dir.
- 15'e kalansız olarak bölünür.
- 39 katının asal bölenlerinin sayısı 4'tür.
- 40 katının asal bölenlerinin sayısı 4'tür.

Buna göre, $A + B$ toplamı kaçtır?

- A) 11 B) 12 C) 13 D) 14 E) 15

46. Her birinde iki ya da üç kişinin çalıştığı ofislerden oluşan bir iş yerinde başlangıçta, üç kişinin çalıştığı ofis sayısı iki kişinin çalıştığı ofis sayısından 9 fazladır. Bu iş yerinde yapılan 5 yeni ofise, üç kişinin çalıştığı ofislerin 10 tanesinden birer kişi alınıp ikiyeşerli olarak yerleştiriliyor. Son durumda, iki kişinin çalıştığı ofis sayısı üç kişinin çalıştığı ofis sayısının 2 katı oluyor.

Buna göre, bu iş yerindeki ofislerde toplam kaç kişi çalışmaktadır?

- A) 91 B) 97 C) 102 D) 105 E) 112

47. Üniversite sınavına hazırlanan Kadir, geçmiş yılların sınavlarını bir dosyada toplayıp bu dosyayı içi boş olan 4 GB'lık belleğine kaydediyor.

Yakup, Kadir'den bu dosyayı alıp % 25'i dolu olan 16 GB'lık belleğine attığında belleğinin toplamda % 40'ı doluyor.

Buna göre, Kadir kendi belleğine dosyayı kaydettikten sonra belleğinin yüzde kaç dolmuştur?

- A) 55 B) 60 C) 65 D) 70 E) 75

48. A kentinden C kentine tam dolu depoyla sabit hızla yola çıkan bir araç yol üzerindeki B kentine geldiğinde araç bilgisayarı; yakıt deposunun % 50'sinin dolu ve aracın A ve B kentleri arasında 100 km'deki ortalama yakıt tüketiminin 6 litre, araç C kentine vardığıdaysa deponun % 25'inin dolu ve aracın A ve C kentleri arasında 100 km'deki ortalama yakıt tüketiminin 5 litre olduğunu gösteriyor.

Buna göre, aracın B ve C kentleri arasında 100 km'deki ortalama yakıt tüketimi kaç litredir?

- A) 3 B) 3,25 C) 3,5 D) 3,75 E) 4

49. Bir şirkette çalışan 75 yaşındaki Metin Bey ve diğer çalışanların yaşlarının ortalaması 1 Ocak 2019 tarihinde 45 olarak hesaplanmıştır. Metin Bey, 2019 yılının sonunda emekli olup işten ayrıldıktan sonra bu şirkette çalışanların yaş ortalaması 1 Ocak 2020 tarihinde yine 45 olarak hesaplanmıştır.

Metin Bey'den başka işten ayrılan veya işe yeni alınan biri olmadığına göre, 1 Ocak 2019 tarihinde bu şirketteki toplam çalışan sayısı kaçtır?

- A) 25 B) 28 C) 31 D) 34 E) 37

50. Bir telefon uygulaması üzerinden sipariş alan bir restoranda yalnızca pide çeşitleri, kebab çeşitleri ve içecek servisi yapılmaktadır. Bu uygulama üzerinden bir gün boyunca birer kez sipariş veren toplam 125 kişinin 47'sinin siparişinde pide ve içecek, 74'ünün siparişinde kebab ve içecek bulunmaktadır. Ayrıca, yalnızca içecek siparişi veren kimsenin olmadığı ve pideyle beraber kebab da sipariş eden herkesin içecek de sipariş ettiği bilinmektedir.

Yalnızca pide veya yalnızca kebab sipariş eden toplam 34 kişi olduğuna göre, hem pide hem kebab sipariş eden toplam kaç kişi vardır?

- A) 30 B) 32 C) 34 D) 35 E) 37

YAYIN

Bu soruların telif hakları ÖSYM'ye aittir. Sorular ÖSYM'nin yazılı izni olmaksızın hiçbir kişi, kurum veya kuruluş tarafından kullanılamaz.

51. Bir öğretmen, yapacağı final sınavını anlattığı 10 konudan rastgele 2'sini seçerek hazırlayacağını sınıfına söylemiştir. Bu sınıftaki öğrencilerden biri olan Figen, yeterli zamanı olmadığından bu 10 konudan 7'sine çalışmıştır.

Figen, sınava girmeden önce arkadaşlarına en büyük korkusunun sınavdaki tüm soruların çalışmadığı yerlerden gelmesi olduğunu söylemiştir.

Buna göre, Figen'in korktuğunun başına gelmesi olasılığı kaçtır?

- A) $\frac{1}{3}$ B) $\frac{1}{5}$ C) $\frac{1}{9}$ D) $\frac{1}{10}$ E) $\frac{1}{15}$

52. - 53. soruları aşağıdaki bilgilere göre birbirinden bağımsız olarak cevaplayınız.

Bir torbada 1'den 35'e kadar olan doğal sayılarla numaralandırılmış 35 top bulunmaktadır. Bu torbadan, çekilen top tekrar torbaya atılmamak şartıyla, 6 top çekiliyor. Çekilen topların numaraları, numaralar arasında boşluk kalmayacak şekilde topların çekiliş sırasına göre bir kâğıda yan yana yazılıyor.

Örneğin çekilen 6 top sırasıyla 5, 12, 23, 32, 18 ve 34 numaralı toplar ise kâğıda 51223321834 sayısı yazılıyor.

52. Toplar çekildikten sonra kâğıda 252232252 sayısı yazıldığına göre, çekilen topların numaraları toplamı kaçtır?

- A) 80 B) 84 C) 88 D) 92 E) 96

53. Toplar çekildikten sonra kâğıda 12222253AB2 sayısı yazılıyor.

A + B = 8 olduğuna göre, A · B çarpımı kaçtır?

- A) 0 B) 7 C) 12 D) 15 E) 16

54. - 56. soruları aşağıdaki bilgilere göre birbirinden bağımsız olarak cevaplayınız.

Bir doğal sayının en soldaki rakamı siliniyor ve kalan sayı, rakamlarının yerleri değiştirilmeden silinen rakama bölünüyor. Bu bölme işleminden elde edilen bölüm, o doğal sayının sıkıştırılması olarak tanımlanıyor.

Örneğin 232 sayısı sıkıştırıldığında 16, 2009 sayısı sıkıştırıldığında ise 4 elde ediliyor.

$$\begin{array}{r|l} 32 & 2 \\ - 32 & \\ \hline 0 & \end{array} \quad \begin{array}{r|l} 9 & 2 \\ - 8 & \\ \hline 1 & \end{array}$$

54. 6147 sayısı sıkıştırıldığında aşağıdaki sayılardan hangisi elde edilir?
A) 14 B) 17 C) 24 D) 27 E) 31

55. Üç basamaklı 2A9 sayısı sıkıştırıldığında iki basamaklı 4A sayısı elde ediliyor.

Buna göre, A kaçtır?

- A) 5 B) 6 C) 7 D) 8 E) 9

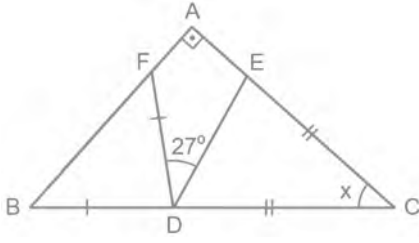
56. Sıkıştırıldığında 21 elde edilen kaç tane üç basamaklı doğal sayı vardır?

- A) 8 B) 10 C) 12 D) 15 E) 16

ÖSYM

Bu soruların telif hakları ÖSYM'ye aittir. Sorular ÖSYM'nin yazılı izni olmaksızın hiçbir kişi, kurum veya kuruluş tarafından kullanılamaz.

57.



ABC dik üçgen

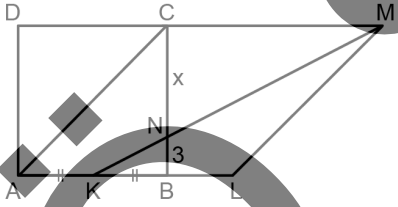
 $AB \perp AC$ $|BD| = |FD|$ $|CD| = |CE|$ $m(\widehat{FDE}) = 27^\circ$ $m(\widehat{ECD}) = x$

Şekilde verilen D, E ve F noktaları ABC üçgeninin kenarları üzerindedir.

Buna göre, x kaç derecedir?

- A) 40 B) 42 C) 44 D) 46 E) 48

58.



ABCD kare

ALMC eşkenar

dörtgen

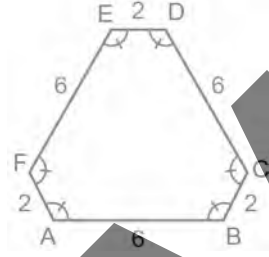
A, K, B, L doğrusal

 $BC \cap KM = \{N\}$ $|AK| = |KB|$ $|BN| = 3$ birim $|CN| = x$

Yukarıdaki verilere göre, x kaç birimdir?

- A) $3\sqrt{2}$ B) $4\sqrt{2}$ C) $5\sqrt{2}$ D) $6\sqrt{2}$ E) $7\sqrt{2}$

59.



ABCDEF altıgen

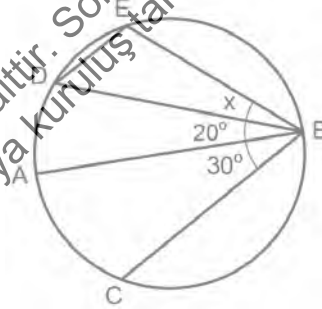
 $|AB| = 6$ birim $|BC| = 2$ birim $|CD| = 6$ birim $|DE| = 2$ birim $|EF| = 6$ birim $|FA| = 2$ birim

Şekilde verilen altıgenin iç açlarının ölçüsü birbirine eşittir.

Buna göre, altıgenin alanı kaç birimkaredir?

- A) $21\sqrt{3}$ B) $22\sqrt{3}$ C) $23\sqrt{3}$ D) $24\sqrt{3}$ E) $25\sqrt{3}$

60.

 $[AB]$ çaplı çember $[DE] \parallel [BC]$ $m(\widehat{ABD}) = 20^\circ$ $m(\widehat{CBA}) = 30^\circ$ $m(\widehat{DBE}) = x$

Şekilde verilen C, D ve E noktaları çemberin üzerindedir.

Buna göre, x kaç derecedir?

- A) 10 B) 15 C) 20 D) 25 E) 30

1. Bu testte 60 soru vardır.

2. Cevaplarınızı, cevap kâğıdının Genel Kültür Testi için ayrılan kısmına işaretleyiniz.

1. İslamiyet öncesi Türk devletlerinde kullanılan bazı terimler ile bunların günümüzdeki karşılıkları arasında yapılan aşağıdaki eşleştirmelerden hangisi yanlıştır?

- A) İlig - Hükümdar
- B) Kün - Halk
- C) Oğuş - Aile
- D) Ayukı - Yargıç
- E) Örgin - Taht

2. Türkiye Selçuklu Devleti'nin başkenti İznik'in Haçlı Ordusu tarafından ele geçirilmesi üzerine başkent Konya'ya taşınması, aşağıdaki hükümdarların hangisi döneminde gerçekleşmiştir?

- A) I. Kılıç Arslan
- B) I. Mesut
- C) I. Alâeddin Keykubat
- D) I. Gıyaseddin Keyhüsrev
- E) I. İzzettin Keykavus

3. Türk-İslam devletlerinde ülke ve devlet yönetimi hakkında yöneticilere bilgi ve öğüt veren eserler aşağıdakilerden hangisiyle adlandırılır?

- A) Mülkname
- B) Siyasetname
- C) Seyahatname
- D) İcazetname
- E) Menakıbnâme

4. Osmanlı Devleti'nin Rumeli'deki fetihlerinde uç beyleri önemli rol oynamışlardır. Başlangıçta uçlardaki askerî ve idari örgütlenmede Mihaloğulları, Turahanoğulları ve Evrenosoğulları gibi aileler etkiliyken II. Murat ve Fatih Sultan Mehmet dönemlerinde sarayda yetişen kullardan seçilenler de uçlarda yöneticiliğe atanmışlardır.

Bu durum, dükkate alındığında aşağıdakilerden hangisi soylenemez?

- A) Osmanlı Devleti'nde devşirme sisteminin uygulandığı
- B) Uçlardaki kuvvetlerin sınırların genişlemesinde etkili olduğu
- C) Devletin merkezî yapısının güçlendirilmeye çalışıldığı
- D) Devlet teşkilatlanmasında zamanla değişiklikler olduğu
- E) Kulların merkezî yönetimdeki etkisinin azaldığı

Bu soruların telif hakları ÖSYM'ye aittir. Sorular ÖSYM'nin yazılı izni olmaksızın hiçbir kişi, kurum veya kuruluş tarafından kopya edilemez.

5. Osmanlı Devleti'nin ilk yıllarında, fetihleri özendirme için fethedilen bölgenin zaman zaman fetheden komutanlara verilmesi aşağıdakilerden hangisiyle ilişkilidir?

- A) Kılıç hakkı B) İltizam sistemi
C) Gedik hakkı D) Millet sistemi
E) Culüs bahşişi

6. Osmanlı Devleti'nde yerleşim merkezlerini birbirine bağlayan yollar üzerinde bulunan ve hem askerî hem de ticari amaçla kullanılan yapı türü aşağıdakilerden hangisidir?

- A) Bedesten B) Kervansaray
C) Arasta D) İmaret
E) Kapan

7. XVI. yüzyılın sonlarından itibaren görülen askerî dönüşümler ve değişen savaş teknolojisi sonucunda ateşli silahların kullanımının artmasıyla timarlı sipahilerin önemi azalmış ve ücretli askerler ön plana çıkmıştır.

Bu gelişmeler, aşağıdakilerden hangisine neden olmuştur?

- A) İltizam sisteminin yaygınlaşmasına
B) Sekban askerlerin sayısının azalmasına
C) Âyanların nüfuzunun kırılmasına
D) Sadaret makamının önem kazanmasına
E) Salyanesiz eyalet sayısının artmasına

8. III. Selim, saltanatının ilk günlerinde devlet adamlarından, yerli ve yabancı uzmanlardan ülkenin içinde bulunduğu durum ve yapılacaklar hakkında layihalar istedi. Askerî, siyasi, idari, iktisadi vb. konuları kapsayan layihaları inceledikten sonra ilk olarak Meclis-i Meşveret adıyla, eyaletlerden gelen temsilcilerin de katıldığı büyük bir danışma meclisi oluşturdu. Ardından pek çok alanda yenilik gerçekleştirdi.

Buna göre aşağıdakilerden hangisinin, III. Selim'in amaç ve eylemlerinden biri olduğu söylenemez?

- A) Köklü islahat hareketlerine girişmek
B) Devlet işlerinde istişareye önem vermek
C) Taşranın isteklerini dikkate almak
D) Orduda düzenlemeler yapmak
E) Meşrutî idareye geçmek

9. Tekel usulünün kaldırılan ve gümrük oranlarını düşüren bu antlaşmanın uygulanması, Avrupa konsoloslarının gösterdikleri ilgiye ve büyük devletlerin Osmanlı Devleti'ne uyguladıkları baskıya atfedilir. Bu görüş, sebep ve neticeyi birbirine karıştırmaktadır. Zira serbest ticaret bu dönemde iyice ilerlemişti. Aslında antlaşma serbest ticareti başlatmamış, sadece onaylamıştır.

Bu antlaşma aşağıdakilerden hangisidir?

- A) Küçük Kaynarca B) Berlin
C) Ayastefanos D) Baltalimanı
E) Hünkar İskelesi

10. Bilhassa XIX. yüzyılda savařlara baęlı olarak Balkanlar, Kırım ve Kafkaslar'dan Anadolu topraklarına birçok göç meydana geldi. Bu durum karşısında göçmenlerin durumunu incelemek, onları düzenli şekilde yerleřtirmek ve ihtiyaçlarını gidermek amacıyla bir kurul oluřturuldu.

Oluřturulan bu kurul ařaęıdakilerden hangisidir?

- A) Dârüleytam
- B) Hilal-i Ahmer Cemiyeti
- C) İřkân-ı Muhacirin Komisyonu
- D) Sevk ve İřkân Komisyonu
- E) Rumeli Müfettiřlięi

11. Ařaęıdaki olaylardan hangisi Resneli Niyazi ile Enver Bey'in "Hürriyet Kahramanları" olarak adlandırılmasına neden olmuřtur?

- A) Kutulamare'de İngilizlere karşı zafer kazanılması
- B) Meřruti yönetimin tekrar ilan edilmesi
- C) 31 Mart Ayaklanması'nın bastırılması
- D) Babali Baskını'nın gerçekteřmesi
- E) II. Balkan Savařında Edirne ve Kırklareli'nin geri alınması

12. Trablusgarp Savařı sırasında İtalya'nın, On İki Ada'yı iřgal ederek;

- I. Osmanlı Devleti'nin yardım göndermesini önlemek,
- II. Osmanlı Hükümetini barıřa zorlamak,
- III. On İki Ada'nın Yunanistan'a verilmesini saęlamak

durumlarından hangilerini amaçladıęı söylenebilir?

- A) Yalnız I
- B) Yalnız III
- C) I ve II
- D) II ve III
- E) I, II ve III

13. Mustafa Kemal'in takma ismiyle, gönüllü olarak katıldıęı savař ařaęıdakilerden hangisidir?

- A) Çanakkale Savařı
- B) I. Balkan Savařı
- C) Kurtuluř Savařı
- D) Trablusgarp Savařı
- E) II. Balkan Savařı

14. Ařaęıdakilerden hangisi, 30 Ekim 1918 tarihinde Osmanlı Devleti ile İtilaf Devletleri arasında imzalanan Mondros Mütarekesi'nde yer alan konulardan biri deęildir?

- A) Boęazlar
- B) Demir yolları
- C) Stratejik bölgeler
- D) Savař esirleri
- E) Osmanlı borçları

Bu soruların telif hakları ÖSYM'ye aittir. Sorular ÖSYM'nin yazılı izni olmaksızın hiçbir kiři, kurum veya kuruluş tarafından kullanılamaz.

15. Aşağıdakilerden hangisi Heyet-i Temsiliyenin yetkili olduğu dönemde gerçekleşen olaylardan biri değildir?

- A) Hıyanet-i Vataniye Kanunu'nun kabul edilmesi
- B) Sivas'ta Komutanlar Toplantısı'nın yapılması
- C) Amasya Protokolleri'nin imzalanması
- D) Ali Fuat Paşa'nın Batı Cephesi'nde görevlendirilmesi
- E) Ankara'nın Millî Mücadele'nin merkezi olarak seçilmesi

16. 16 Mart 1920'de İstanbul'un İtilaf Devletleri tarafından işgal edilmesi üzerine Ankara'ya gelen Mebusan Meclisi başkanı aşağıdakilerden hangisidir?

- A) Rauf Bey
- B) Celalettin Arif Bey
- C) Yunus Nadi Bey
- D) Cafer Tayyar Paşa
- E) Ali Fuat Paşa

17. Aşağıdakilerden hangisi, Millî Mücadele Dönemi'nde Batı Cephesi'ne cephane taşımak için oluşturulan ve "İstiklal Yolu" olarak adlandırılan güzergâh üzerinde yer almaz?

- A) Çankırı
- B) İnebolu
- C) Kastamonu
- D) Iğaz
- E) Eskişehir

18. 16 Temmuz 1921'de toplanan Maarif Kongresi ile ilgili olarak *Hâkimiyet-i Milliye* gazetesinde "Mustafa Kemal Paşa, Üçüncü Yunan Taarruzu'nun en ateşli zamanında muallim ordusunun gelecek vazifesiyle meşgul oluyor..." şeklinde bir yazı yer almaktadır.

Bu yazıda adı geçen "Üçüncü Yunan Taarruzu" aşağıdakilerden hangisidir?

- A) Gediz Taarruzu
- B) Birinci İnönü Savaşı
- C) İkinci İnönü Savaşı
- D) Kütahya-Eskişehir Savaşı
- E) Büyük Taarruz

19. Lozan Görüşmelerinde ele alınan;

- I. Musul,
- II. Hatai,
- III. Boğazlar

bu üçünden hangileri, daha sonra Türkiye'nin isteği doğrultusunda çözümlenmiştir?

- A) Yalnız I
- B) Yalnız II
- C) I ve III
- D) II ve III
- E) I, II ve III

20. TBMM tarafından Osmanlı ailesine mensup kişilerin yurt dışına çıkarılmaları kararı, aşağıdaki gelişmelerden hangisine bağlı olarak alınmıştır?

- A) Saltanatın kaldırılması
- B) Lozan Antlaşması'nın imzalanması
- C) Halifeliğin kaldırılması
- D) Cumhuriyet'in ilan edilmesi
- E) Ankara'nın başkent olması

21. Aşağıdakilerden hangisi, 1924 Anayasası'na sonraki yıllarda eklenen konulardan biridir?

- A) Egemenliğin millete ait olduğunun vurgulanması
- B) Ankara'nın başkent olduğunun belirtilmesi
- C) Türkçenin resmî dil olarak kabul edilmesi
- D) Kadınlara seçme ve seçilme hakkı verilmesi
- E) Türk vatandaşlığı tanımının yapılması

22. Yeni Türk Devleti'nin 1923-1930 yılları arasındaki iktisat politikasını araştıran bir öğrencinin, aşağıdaki gelişmelerden hangisini bu döneme örnek göstermesi beklenemez?

- A) Kaptaj Kanunu'nun yürürlüğe girmesi
- B) Teşvik-i Sanayi Kanunu'nun kabul edilmesi
- C) Kapitülasyonların kaldırılması
- D) Türkiye İş Bankasının kurulması
- E) I. Beş Yıllık Sanayi Planı'nın uygulanması

23. Atatürk'ün altı ilkesiyle ilgili aşağıdakilerden hangisi söylenemez?

- A) Atatürk'ün *Nutuk* adlı eserinde ilkelerin tamamı kapsamlı bir şekilde anlatılmıştır.
- B) Cumhuriyet Halk Fırkasının 1931 yılındaki kurultayında parti programına alınmıştır.
- C) 5 Şubat 1937 tarihinde Anayasa'da yapılan değişiklikle devletin nitelikleri olarak sıralanmıştır.
- D) İlkelerin bir kısmı, Fransız İhtilali sonucu ortaya çıkan düşünce akımlarından etkilenmiştir.
- E) Dönemin ihtiyaçları doğrultusunda oluşturulmuştur.

24. İngiltere, Montrö Boğazlar Sözleşmesi'nin imzalanması sürecinde Türkiye'yi desteklemiştir.

İngiltere'nin bu tutumunda, aşağıdakilerden hangisinin etkili olduğu söylenemez?

- A) Avrupa'da Alman ve İtalyan tehdidinin artmasının
- B) Türkiye ile birlikte Akdeniz Paktında yer almasının
- C) Türkiye'nin Milletler Cemiyetine üye olmasının
- D) Bozkurt-Lotus Davası'nı Türkiye'nin kazanmasının
- E) Türkiye'nin anti-revizyonist bir politika izlemesinin

25. 1955 yılında kurulan Bağdat Paktından, askerî darbeye bağlı yönetim değişikliği sonucunda çekilen devlet aşağıdakilerden hangisidir?

- A) Irak
- B) İran
- C) Pakistan
- D) Suriye
- E) Afganistan

26. Amerika Birleşik Devletleri, aşağıdaki gelişmelerin hangisinin bir sonucu olarak 1975-1978 yılları arasında Türkiye'ye ambargo uygulamıştır?

- A) Küba Krizi
B) Vietnam Savaşı
C) Kıbrıs Barış Harekâtı
D) 6-7 Eylül Olayları
E) 12 Mart Muhtırası

27. Aşağıdakilerden hangisi Türkiye'de 12 Eylül 1980 sonrasında yaşanan gelişmelerden biridir?

- A) Devlet Planlama Teşkilatının oluşturulması
B) Yükseköğretim Kurulunun kurulması
C) Ekonomide 24 Ocak Kararları'nın alınması
D) Cumhuriyet Senatosunun faaliyete geçmesi
E) 12 Temmuz Beyannamesi'nin yayınlanması

28. Aşağıdakilerin hangisinde 21 Haziran'da belirtilen doğrultuda hareket edildiğinde hem gündüz süresi uzar hem de yerel saat daha geri olur?

- A) İzmir'den Van'a
B) Sinop'tan Muğla'ya
C) Adana'dan Edirne'ye
D) Antalya'dan Ardahan'a
E) Samsun'dan Adıyaman'a

29. I. İstanbul ve Çanakkale boğazları
II. Kuzey Anadolu ve Toros dağları
III. Çukurova, Bafra ve Çarşamba deltaları

Yukarıdakilerden hangilerinin oluşumunda orojenik hareketler etkili olmuştur?

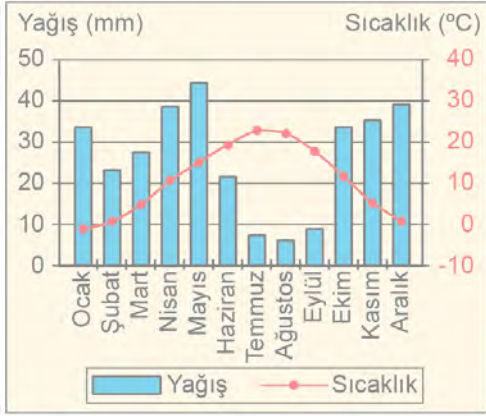
- A) Yalnız I
B) Yalnız II
C) Yalnız III
D) I ve II
E) II ve III

30. Volkanik faaliyet sonucu yüzeye çıkan lavlardan oluşan arazinin akarsular tarafından aşındırılmasıyla lav platoları oluşur.

Aşağıdaki platolardan hangisi bu tür oluşum özelliğine sahiptir?

- A) Çatalca-Kocaeli
B) Cihanbeyli
C) Haymana
D) Taşeli
E) Erzurum-Kars

31. Aşağıda, bir il merkezine ait aylık ortalama yağış ve sıcaklık grafiği verilmiştir.



Grafikteki bilgiler dikkate alındığında bu il merkezinin aşağıdakilerden hangisi olduğu söylenebilir?

- A) Adana B) Trabzon C) Konya
D) Erzurum E) Diyarbakır
32. Bir araştırmacı gözlem yaptığı sahada zakkum, defne, sandal, funda, menengiç, keçiboynuzu, pırnal meşesi gibi bitkilere rastlamıştır.



Buna göre araştırmacının gözlem yaptığı saha haritada numaralandırılan alanların hangisinde yer alır?

- A) I B) II C) III D) IV E) V

33. Aşağıdaki illerin hangisinde jips karstına ait yer şekilleri daha yaygındır?

- A) Yozgat B) Diyarbakır C) Giresun
D) Kastamonu E) Sivas

34. Türkiye'de kepir veya taş doğuran toprak olarak da bilinen vertisoller sınırlı alanlarda görülür.



Haritada numaralandırılan alanlardan hangisi bu toprakların yaygın olarak görüldüğü yerler arasında bulunur?

- A) I B) II C) III D) IV E) V

35. Türkiye'nin 1927-2017 yılları arasındaki nüfusu incelendiğinde yıllık nüfus artış hızının en düşük olduğu dönemin 1940-1945 yılları arasında olduğu görülür.

Bu durum üzerinde aşağıdakilerden hangisinin etkisi daha fazla olmuştur?

- A) Seferberlik ilan edilerek asker sayısının artırılması
B) Ülke genelinde ekonomik sorunların yaşanması
C) Ülke dışına göçlerin yaşanması
D) Uygulanan nüfus politikaları
E) Eğitim seviyesinin yükselmesi

36. Aşağıdaki haritada bazı alanlar numaralandırılarak gösterilmiştir.



Bu alanlardan hangileri, diğerlerine göre daha fazla göç veren yerler durumundadır?

- A) I ve II B) I ve IV C) II ve III
D) III ve V E) IV ve V
37. Türkiye'nin Karadeniz kıyı kuşağında, dağınık yerleşmeye neden olan faktörlerle ilgili aşağıdakilerden hangisi söylenemez?
- A) Su kaynaklarının fazla ve yaygın olması
B) Eğim değerlerinin yüksek olması
C) Platoların geniş yer kaplaması
D) Arazinin akarsularla parçalanmış olması
E) Dağlık ve engebeli arazi yapısı

38. Türkiye'de su ürünleri avcılığı ve yetiştiriciliğiyle ilgili aşağıdakilerden hangisi söylenemez?

- A) Su ürünleri üretimi içerisinde balık en fazla paya sahiptir.
B) Dalyan balıkçılığı açık ve derin denizlerde yapılmaktadır.
C) Balık avcılığı çoğunlukla Türk karasularında yapılmaktadır.
D) Denizlerdeki kirlilik balıkçılığı olumsuz etkilemektedir.
E) Su ürünleri tüketiminin çoğunluğu ülke içinde gerçekleşmektedir.

39. Türkiye'de çay tarımı ekonomik anlamda Doğu Karadeniz kıyı kuşağında yapılabilmektedir.

Bu durum;

- I. iklim koşulları,
II. toprak özellikleri,
III. su kaynakları

faktörlerinden hangileriyle doğrudan ilişkilidir?

- A) Yalnız I B) Yalnız II C) Yalnız III
D) I ve II E) II ve III

Bu soruların telif hakları ÖSYM'ye aittir. Sorular ÖSYM'nin yazılı izni olmaksızın hiçbir kişi, kurum veya kuruluş tarafından kullanılamaz.

40. Türkiye’de kıyı turizmi sezonunun en uzun olduğu alan Akdeniz kıyılarıdır.

Bu durumun temel nedeni aşağıdakilerden hangisidir?

- A) Güneşli gün sayısının fazla olması
B) Geniş kumsalların varlığı
C) Tarihi ve doğal güzelliklerin yer alması
D) Ulaşım ve konaklama imkânlarının gelişmişliği
E) Uzun kıyı şeridine sahip olması

41. Türkiye’de pamuk üretiminin coğrafi dağılışı üzerinde aşağıdakilerden hangisinin etkisi daha fazladır?

- A) Sıcaklık B) Nüfus C) Ulaştırma
D) Yükselti E) Sanayi

42. Tiftik keçisinin ekonomik değeri oldukça yüksektir. Günümüzde eskiye oranla Türkiye’deki sayısı azalmış olan bu keçi türü esas olarak tiftiği için beslenmektedir.



Bu alanların hangilerinde tiftik keçisi yetiştiriciliği daha yoğundur?

- A) I ve II B) I ve III C) II ve III
D) II ve IV E) III ve IV

43. Aşağıdaki haritada bazı alanlar numaralandırılarak gösterilmiştir.



Bu alanların hangisinde tarıma dayalı sanayi faaliyetleri diğerlerine göre daha fazla gelişmiştir?

- A) I B) II C) III D) IV E) V

44. Aşağıdaki haritada bazı alanlar numaralandırılarak gösterilmiştir.



Bu alanların hangisinde demir yolu ulaşımı bulunmamaktadır?

- A) I B) II C) III D) IV E) V
45. Aşağıdaki yerleşmelerden hangisi Türkiye'nin önemli taş kömürü yataklarının bulunduğu alanda yer alır?
- A) Soma B) Elbistan C) Kozlu
D) Tunçbilek E) Yatağan

46. Adalet bakanı, aşağıdakilerden hangisinin başkanıdır?
- A) Hâkimler ve Savcılar Kurulu
B) Türkiye Büyük Millet Meclisi Adalet Komisyonu
C) Yüksek Seçim Kurulu
D) Türkiye Büyük Millet Meclisi Anayasa Komisyonu
E) Devlet Denetleme Kurulu

47. 1982 Anayasası'nda güvence altına alınan temel hak ve özgürlüklerden; aşağıdakilerin hangisi kapsamındaki herhangi birinin kamu gücü tarafından ihlal edildiği iddiasıyla, Anayasa Mahkemesine bireysel başvuruda bulunulabilir?

- A) Uluslararası Adalet Divanı Statüsü
B) Birleşmiş Milletler İnsan Hakları Evrensel Beyannamesi
C) Birleşmiş Milletler Antlaşması
D) Avrupa İnsan Hakları Sözleşmesi
E) Avrupa Birliği Antlaşması

48. 1982 Anayasası'na göre aşağıdakilerden hangisi cumhurbaşkanının görev ve yetkilerinden biri değildir?

- A) Gerekli gördüğü takdirde, yasama yılının ilk günü Türkiye Büyük Millet Meclisinde açılış konuşmasını yapmak
B) Millî güvenlik politikalarını belirlemek ve gerekli tedbirleri almak
C) Uluslararası antlaşmaları onaylamak ve yayımlamak
D) Kanunların Anayasa'ya şekil veya esas bakımından aykırılığı gerekçesiyle Anayasa Mahkemesinde iptal davası açmak
E) Genel af ilan edilmesine karar vermek

49. 657 sayılı Devlet Memurları Kanunu'na göre, aşağıdakilerden hangisi devlet memurlarına verilecek disiplin cezalarından biridir?

- A) İdari para cezası B) Aylıktan kesme
C) Disiplin hapsi D) İdari tedbir
E) Görevden uzaklaştırma

50. Aşağıdakilerden hangisinin seçiminde, siyasi partilerden aday olunamaz?

- A) Belde belediye başkanlığı
B) İl genel meclisi üyeliği
C) Büyükşehir ilçe belediye meclisi üyeliği
D) Mahalle muhtarlığı ve ihtiyar heyeti üyeliği
E) İl belediye başkanlığı

51. Türkiye'de bazı şehirlerde belediye otobüsleriyle, belirli hallerde 24 saat sefer yapılarak toplu taşıma hizmeti sunuluyor.

Bu durum, kamu hizmetlerine egemen olan aşağıdaki ilkelerin hangisiyle ilişkilidir?

- A) Tarafsızlık B) Meccanilik
C) Süreklilik D) Eşitlik
E) Uyarlama

52. I. İstinaf
II. Temyiz
III. İlk itiraz

Yukarıdakilerin hangileri hukuk yargılamasında, üst derece veya yüksek mahkemede başvurulabilecek kanun yolları arasında yer alır?

- A) Yalnız I B) Yalnız II C) I ve II
D) I ve III E) II ve III

53. Aşağıdakilerden hangisi ana ve babanın, ergin olmayan çocuklarının şahsı ve malları üzerinde sahip oldukları bir yetkidir?

- A) Vasilik B) Velayet
C) Kayımlık D) Kamu vesayeti
E) Özel vesayet

54. 6098 sayılı Türk Borçlar Kanunu'na göre, aşağıdakilerden hangisi sözleşmenin kesin hükümsüzlüğü sonucunu doğuran nedenlerden biri değildir?

- A) Sözleşmenin kanunun emredici hükümlerine aykırı olması
B) Sözleşmenin kişilik haklarına aykırı olması
C) Sözleşme konusunun başlangıçtan itibaren objektif ve sürekli olarak imkânsız olması
D) Sözleşmenin kamu düzenine aykırı olması
E) Sözleşme bedelinin borçlu tarafından ödenmemiş olması

55. 1945'te Nobel Ödülü'nü Howard Florey ile paylaşan ve penisilini keşfeden bilim insanı aşağıdakilerden hangisidir?

- A) Albert Einstein B) William Harvey
C) Enrico Fermi D) Alexander Fleming
E) Michael Faraday

56. "Milletlerin kaderi yaşadıkları coğrafyanın etkisindedir. Coğrafyası müsait olmayan, medeni etkileşim ve yayılma alanı bulamayan milletler; medeniyetsiz, geri ve cüce kalırlar." sözleriyle bilinen ve *Mukaddime* adlı eseriyle tanınan bilim insanı aşağıdakilerden hangisidir?

- A) Farabi B) Gazali
C) İbn Haldun D) İbn Rüşd
E) İbn Sina

57. 2007'de kanunla kurulup 2009'da faaliyetlerine başlayan, Türkiye'nin tanıtımı amacıyla kültür, sanat faaliyetleri yürütüp bu konuda bilimsel çalışmalarını destekleyen ve yurt dışında kurduğu merkezlerde yabancılara Türkçe öğretimi çalışmaları yapan kurum aşağıdakilerden hangisidir?

- A) Türk Dünyası Araştırma Vakfı
B) Yunus Emre Enstitüsü
C) Uluslararası Türk Kültür Teşkilatı
D) Yurtdışı Türkler ve Akraba Topluluklar Başkanlığı
E) Türk İşbirliği ve Koordinasyon Ajansı Başkanlığı

58. Türk Edebiyatı'nda şiirin edebî ve estetik boyutunu öne çıkaran *Ağrı, Kar ve Fahriye Abla* adlı şiirleriyle bilinen şair aşağıdakilerden hangisidir?

- A) Cahit Sıtkı Tarancı
B) Ahmet Kutsi Tecer
C) Ahmet Muhip Dıranas
D) Necip Fazıl Kısakürek
E) Faruk Nafiz Çamlıbel

59. UNESCO Yaratıcı Şehirler Ağı Programı, çeşitli bölgelerden, farklı gelir seviyeleri, kapasite ve nüfusa sahip şehirleri yaratıcı endüstriler alanında çalışmak üzere bir araya getiren bir girişimdir. Yaratıcı Şehirler Ağı yedi tema etrafında şekillendirilmiştir. Bu temalar; edebiyat, film, müzik, zanaat ve halk sanatları, tasarım, gastronomi ve medya sanatları olarak belirlenmiştir.

Bu programa müzik alanında 2019 yılında dâhil edilen şehir aşağıdakilerden hangisidir?

- A) Kırşehir B) Edirne C) Nevşehir
D) Şanlıurfa E) Eskişehir

60. Osman Hamdi Bey tarafından 1880 yılında yapılan ve 2019 yılında Londra'daki bir müzayedede 6 milyon sterlinin üzerinde bir fiyata satılarak en pahalı Türk tablolarından biri olan eser aşağıdakilerden hangisidir?

- A) Kaplumbağa Terbiyecisi
- B) Beyaz Vazoda Çiçekler
- C) İki Genç Kızın Türbe Ziyareti
- D) İstanbul Kadını
- E) Kur'an Okuyan Kız

Ö

ÖSYM

Bu soruların telif hakları ÖSYM'ye aittir. Sorular ÖSYM'nin yazılı izni olmaksızın hiçbir kişi, kurum veya kuruluş tarafından kullanılamaz.

SINAVDA UYULACAK KURALLAR

1. Sınav salonunda saate entegre kamera ile kayıt yapılıyor ise kamera kayıtlarının incelenmesinden sonra sınav kurallarına uymadığı tespit edilen adayların sınavları, ÖSYM Yönetim Kurulunca geçersiz sayılacaktır.
2. Cep telefonu ile sınava girmek kesinlikle yasaktır. Adayların sınav binasına; her türlü delici ve kesici alet, ateşli silah, çanta, cüzdan, cep telefonu, saat (kol saati ve her türlü saat), anahtarlık, her türlü araç anahtarı, kablosuz iletişim sağlayan bluetooth ve benzeri cihazlar ile; kulaklık, kolye, küpe, yüzük (alyans hariç), bilezik broş ve diğer takılar, her türlü plastik, cam eşya (şeffaf/numaralı gözlük hariç), plastik ve metal içerikli eşyalar (başörtü için kullanılan boncuklu/boncuksuz toplu iğne, para, anahtarlıksız basit anahtar, ulaşım kartı, basit tokalı kemer, basit tel toka ve basit piercing (taşsız, metal top veya sivri uçlu) hariç) banka/kredi kartı vb. kartlarla, her türlü elektronik/mekanik cihaz ve her türlü müsvedde kâğıt, defter, kalem, silgi, kalemtraş, kitap, ders notu, sözlük, dergi, gazete ve benzeri yayınlar, cetvel, pergel, açılöçer ve bu gibi araçlarla, yiyecek içecek (şeffaf pet şişe içerisinde bandajı çıkarılmış su hariç), ilaç ve diğer tüketim maddeleri ile gelmeleri yasaktır. Bu tür eşya, araç-gereçlerle sınava girmiş adaylar mutlaka Salon Tutanağı'na yazılacak, bu adayların sınavı geçersiz sayılacaktır. Ancak, ÖSYM Başkanlığı tarafından belirlenen Engelli ve Yedek Sınav Evrakı Yönetim Merkezi (YSYM) binalarında sınava girecek olan engelli adayların sınav giriş belgelerinde yazılı olan araç-gereçler, cihazlar vb. yukarıda belirtilen yasakların kapsamı dışında değerlendirilecektir.
3. Bu sınav için verilen cevaplama süresi **130 dakikadır (2 saat, 10 dakika)**. Sınav başladıktan sonra **ilk 95 dakika** içinde adayın sınavdan çıkmasına kesinlikle izin verilmeyecektir. **Bu süreler dışında, cevaplama süresi bitmeden tamamlarsanız cevap kâğıdınızı ve soru kitapçığınızı salon görevlilerine teslim ederek salonu terk edebilirsiniz. Bildirilen sürele aykırı davranışlardan adayın kendisi sorumludur.**
4. Sınav salonundan ayrılan aday, her ne sebeple olursa olsun, tekrar sınav salonuna alınmayacaktır.
5. Sınav süresince görevlilerle konuşmak, görevlilere soru sormak yasaktır. Aynı şekilde görevlilerin de adaylarla yakından ve alçak sesle konuşmaları ayrıca adayların birbirinden kalem, silgi vb. şeyleri istemeleri kesinlikle yasaktır.
6. Sınav sırasında, görevlilerin her türlü uyarısına uymak zorundasınız. Sınavınızın geçmesi sayılabilecek, her şeyden önce, sınav kurallarına uymanıza bağlıdır. Kurallara aykırı davranışta bulunanlar ve yapılabilecek uyarılara uymayanlar Salon Tutanağı'na yazılacak ve sınavları geçersiz sayılacaktır.
7. Sınav sırasında kopya çeken, çekmeye kalkışan, kopya veren, kopya çekilmesine yardım edenler Salon Tutanağı'na yazılacak ve bu adayların sınavları geçersiz sayılacaktır. Adayların test sorularına verdikleri cevapların dağılımları bilgi işlem yöntemleriyle incelenecek, bu incelemelerden elde edilen bulgular bireysel veya toplu olarak kopya çekildiğini gösterirse kopya eylemine katılan adayın/adayların sınavı geçersiz sayılacak ayrıca bu aday/adaylar 2 yıl boyunca ÖSYM tarafından düzenlenen hiçbir sınavı başvuru yapamazlar ve sınava giremeyecektir. Sınav görevlileri bir salondaki sınavın, kurallara uygun biçimde yapılmadığını, test sorularına girişiminde bulunulduğunu raporlarında bildirdiği takdirde, ÖSYM bu salonda sınava giren tüm adayların sınavını geçersiz sayabilir.
8. Cevap kâğıdında doldurmanız gereken alanlar bulunacaktır. Bu alanları doldurunuz. Cevap kâğıdınızı başkaları tarafından görülmeyecek şekilde tutmanız gerekmektedir. Cevap kâğıdına yazılacak her türlü yazıda ve yapılacak bütün işaretlemelerde kursun kalem kullanılacaktır. Sınav süresi bittiğinde cevapların, cevap kâğıdına işaretlenmiş olması gerekir. Soru kitapçığına işaretlenen cevaplar geçerli değildir.
9. Soru kitapçığınızı alır almaz kitapçık kapağında bulunan alanları doldurunuz. Size söylendiği zaman sayfaların eksik olup olmadığını, kitapçıkta basım hatalarının bulunup bulunmadığını ve soru kitapçığının her sayfasında basılı bulunan soru kitapçık numarasının, kitapçığının kapağında basılı soru kitapçık numarasıyla aynı olup olmadığını kontrol ediniz. Soru kitapçığının sayfası eksik veya basım hatalıysa değiştirilmesi için salon başkanına başvurunuz. **Size verilen soru kitapçığının numarasını cevap kâğıdınızdaki "Soru Kitapçık Numarası" alanına yazınız ve kodlayınız. Cevap kâğıdınızdaki "Soru Kitapçık Numaramı doğru kodladım." kutucuğunu işaretleyiniz. Soru kitapçığı üzerinde yer alan Soru Kitapçık Numarasını doğru kodladığınızı beyan eden alanı imzalayınız.**
10. Sınav sonunda soru kitapçıkları toplanacak ve ÖSYM'de incelenecektir. Soru kitapçığının sayfalarını koparmayınız. Soru kitapçığının bir sayfası bile eksik çıkarsa sınavınız geçersiz sayılacaktır.
11. Cevap kâğıdına ve soru kitapçığına yazılması ve işaretlenmesi gereken bilgilerde bir eksiklik ve/veya yanlışlık olması hâlinde sınavınızın değerlendirilmesi mümkün değildir, bu husustaki özen yükümlülüğü ve sorumluluk size aittir.
12. Soruları ve/veya bu sorulara verdiğiniz cevapları ayrı bir kâğıda yazıp bu kâğıdı dışarı çıkarmanız kesinlikle yasaktır.
13. **Sınav salonundan ayrılmadan önce, soru kitapçığınızı, cevap kâğıdınızı ve sınava giriş belgenizi salon görevlilerine eksiksiz olarak teslim ediniz. Bu konudaki sorumluluk size aittir.**
14. Sınav süresi salon görevlilerinin "SINAV BAŞLAMIŞTIR" uyarısıyla başlar, "SINAV BİTMİŞTİR" uyarısıyla sona erer.

Bu testlerin her hakkı saklıdır. Hangi amaçla olursa olsun, testlerin tamamının veya bir kısmının Merkezimizin yazılı izni olmadan kopya edilmesi, fotoğrafının çekilmesi, herhangi bir yolla çoğaltılması, yayımlanması ya da kullanılması yasaktır. Bu yasağa uymayanlar gerekli cezai sorumluluğu ve doğacak tüm mali külfeti peşinen kabullenmiş sayılır.

2020 KAMU PERSONEL SEÇME SINAVI (GENEL YETENEK-GENEL KÜLTÜR, EĞİTİM BİLİMLERİ)-PS

2020-KPSS LİSANS (GY-GK, EĞİTİM BİLİMLERİ)

06-09-2020

GENEL YETENEK

1. A
2. E
3. D
4. C
5. A
6. B
7. D
8. E
9. A
10. E
11. C
12. D
13. C
14. B
15. A
16. D
17. C
18. B
19. D
20. A
21. A
22. D
23. E
24. A
25. D
26. C
27. D
28. B
29. B
30. E
31. C
32. D
33. A
34. C
35. E
36. D
37. B
38. E
39. C
40. A
41. B
42. A
43. B
44. A
45. D
46. E
47. B

GENEL YETENEK

48. D
49. C
50. A
51. E
52. A
53. D
54. C
55. E
56. B
57. B
58. D
59. B
60. C

GENEL KÜLTÜR

1. D
2. A
3. B
4. E
5. A
6. B
7. A
8. E
9. D
10. C
11. B
12. C
13. D
14. E
15. A
16. B
17. E
18. D
19. D
20. C
21. D
22. B
23. A
24. D
25. A
26. C
27. B
28. C
29. B
30. E
31. C
32. C
33. E
34. A
35. A
36. D
37. C
38. B
39. D
40. A
41. A
42. D
43. C
44. B
45. C
46. A
47. D

GENEL KÜLTÜR

48. E
49. B
50. D
51. C
52. C
53. B
54. E
55. D
56. C
57. B
58. A
59. A
60. E

ÖSYM

Bu soruların telif hakları ÖSYM'ye aittir. Sorular ÖSYM'nin yazılı izni olmaksızın hiçbir kişi, kurum veya kuruluş tarafından kullanılamaz.