



T.C. Ölçme, Seçme ve Yerleştirme Merkezi

**KAMU PERSONEL SEÇME SINAVI
A GRUBU VE ÖĞRETMENLİK**

**GENEL YETENEK TESTİ
GENEL KÜLTÜR TESTİ**

1 AĞUSTOS 2021

Bu testlerin her hakkı saklıdır. Hangi amaçla olursa olsun, testlerin tamamının veya bir kısmının Merkezimizin yazılı izni olmadan kopya edilmesi, fotoğrafının çekilmesi, herhangi bir yolla çoğaltılması, yayımlanması ya da kullanılması yasaktır. Bu yasağa uymayanlar gerekli cezai sorumluluğu ve testlerin hazırlanmasındaki mali külfeti peşinen kabullenmiş sayılır.

AÇIKLAMA

1. Bu kitapçıkta toplam **120 soru** bulunmaktadır.
Genel Yetenek Testi: 60 soru
Genel Kültür Testi: 60 soru
2. Bu sınav için verilen cevaplama süresi **120 dakikadır (2 saat, 10 dakika)**.
3. Bu testler puanlanırken, her testteki doğru cevaplarınızın sayısından yanlış cevaplarınızın sayısının dörtte biri çıkarılacak ve kalan sayı o bölümle ilgili net puanınız olacaktır.
4. Kitapçığın sayfalarındaki boş yerleri müsvedde için kullanabilirsiniz.
5. Cevaplamaya istediğiniz sorudan başlayabilirsiniz. Bir soru ile ilgili cevabınızı cevap kağıdında o soru için ayrılmış olan yere işaretlemeyi unutmayınız.
6. Bu kitapçıkta yer alan her sorunun sadece bir doğru cevabı vardır. Cevap kağıdında bir soru için birden çok cevap yeri işaretlenmişse o soru yanlış cevaplanmış sayılacaktır. İşaretlediğiniz bir cevabı değiştirmek istediğinizde, silme işlemi çok iyi yapmanız gerektiğini unutmayınız.
7. Sınavda uyulacak kurallar bu kitapçığın arka kapağında belirtilmiştir.

1. Bu testte 60 soru vardır.

2. Cevaplarınızı, cevap kâğıdının Genel Yetenek Testi için ayrılan kısmına işaretleyiniz.

1. Herhangi bir konuda fikir sahibi olmaya cesaret edememek, görüşlerini kesin ve somut bilgilerle ya da güvendikleri başka kalemlerin sözleriyle desteklemeden rahata erememek; gençlerden ziyade deneyimli yazarların problemidir. Yıllar içinde inşa ettikleri üne leke sürmemek için bu yazarlar, argularını tırnak içine almadan ifade etmekten kaçınırlar.

Bu parçada altı çizili sözle deneyimli yazarlar hakkında anlatılmak istenen aşağıdakilerden hangisidir?

- A) Fikir ayrılığı yaşadıklarında kendi düşüncelerini savunmaktan çekinmeleri
- B) Düşüncelerini kendilerine özgü bir şekilde belirtmekten uzak durmaları
- C) Belli görüşlerin doğruluğunu kanıtlama konusunda isteksiz davranmaları
- D) Başkalarının düşüncelerini eleştirmede kendilerini yetersiz hissetmeleri
- E) Benimsedikleri görüşlere dayanak bulma konusunda gönülsüz davranmaları

2. Yazar; güçlü gözlem kabiliyeti sayesinde hikâyelerine incelikli tespitler ----, anlatının kılcal damarları hâlini alan bu ---- hikâyelerini daha gerçekçi kılıyordu.

Bu cümlede boş bırakılan yerlere sırasıyla aşağıdakilerden hangisi getirilmelidir?

- A) yerleştiriyor - işlevsel ayrıntılar
- B) sağlıyor - sezgisel bakış açıları
- C) serpiştiriyor - bütünlüyci kavramlar
- D) gizliyor - bağımsız öğeler
- E) konumlandırıyor - ipucu içeren bilgiler

3. Suyu kimin keşfettiğini bilmiyorum ama keşfedenin bir balık olmadığından eminim.

Aşağıdakilerden hangisi bu cümleyle anlamca aynı doğrultudadır?

- A) Bilim insanları, sorunların kaynağını bilmeseler de ait oldukları toplumdaki hareketle araştırma yapar.
- B) Sanatçının herkese hitap eden bir eser yazabilmesi için öncelikle konuyu içselleştirmesi gerekir.
- C) Nasıl üretildiğini bilmeseler de teknolojinin içine doğan çocuklar için teknoloji vazgeçilmezdir.
- D) Kişiler, gündelik yaşamda iç dünyalarının ziyade başkalarının duygularına odaklanır.
- E) Toplumlarda, kaynağını kontrol edemedikleri değişimlere direnmek yerine uyum sağlamayı tercih eder.

4. (I) Minyatür terimi, genel anlamıyla çok ince işlenmiş küçük boyutlu resimler ve bu tarz resimlerin üretildiği sanat dalı için kullanılır. (II) Minyatür kelimesinin Latince "kırmızı ile boyamak" anlamına gelen "miniare" kelimesinden türemiş olduğu ve daha sonra Fransızcaya "miniature" biçiminde geçtiği düşünülmektedir. (III) Osmanlı kaynaklarında ise bu sözcüğün yerine "tasvir" veya "nakış" sözcüklerinin tercih edildiği görülür. (IV) Farklı adlarla anılan minyatür sanatının en önemli özelliklerinden biri, anlatılmak istenen konunun eksiksiz bir şekilde aktarılmasıdır. (V) Minyatür sanatında uzaklık, boy gibi perspektifle ilgili özelliklerin kullanılmaması da bundandır.

Bu parçada numaralanmış cümlelerle ilgili aşağıdakilerden hangisi yanlıştır?

- A) I. cümlede minyatür kavramının kapsamına değinilmektedir.
B) II. cümlede minyatür sözcüğünün kökenine dair açıklamalarda bulunulmaktadır.
C) III. cümlede minyatüre karşılık gelen farklı sözcüklerden bahsedilmektedir.
D) IV. cümlede minyatür sanatının işlediği konular hakkında bilgi verilmektedir.
E) V. cümlede görselliğe dair bazı özelliklerin minyatürlerde yansıtılmadığından söz edilmektedir.

5. Aşağıdaki cümlelerin hangisinde büyük harflerin kullanımıyla ilgili bir yazım yanlışı vardır?

- A) Mahmut Hoca, *Hababam Sınıfı* romanının unutulmaz karakterlerindedir.
B) Fatih Sultan Mehmet Köprüsü, Boğaz üzerinde bir gerdanlık gibi durmaktadır.
C) Doğu ve Batı medeniyetleri arasında dünya görüşü bakımından bir fark vardır.
D) Ramazan bayramı mistik bir tema olarak şiirimizde hep vardır.
E) Kaplumbağa Terbiyecisi tablosu Türk resminde önemli bir yere sahiptir.

6. Aşağıdaki cümlelerin hangisinde noktalama yanlışı yapılmıştır?

- A) Yunus Emre, *Divan*'ında Türkçenin anlatım zenginliğini ortaya koymuştur.
B) O; romanlardan *Huzur*'u, şiirlerden ise *Kaldırımlar*'ı öğrencilerine tavsiye ederdi.
C) Hem bu işten bir pay istiyor, hem de kendine verince almıyordu.
D) Tarihin her döneminde yeni nesil; farklı, sabırsız, aceleci olarak nitelendirilmiştir.
E) Bu sonuç, katılımcıların 1/3'ünün yeni müzik türlerine ilimlı yaklaştığını göstermektedir.

7. Gözlerden uzak küçük su kaynakları pek çok balık türü için yaşam alanlarının insanlar tarafından kirletildiği büyük nehirlerle kıyasla daha güvenli yerlerdir. Ancak şu günlerde bu akarsularda yaşayan binlerce balık bir başka korkunç neditle karşı karşıya: istilacı türler.

Bu parçada numaralanmış sözcüklerden hangisi yazım bakımından diğerlerinden farklıdır?

- A) I B) II C) III D) IV E) V

8. Ortalık iyiden iyiye ışığınca ufacak bir kaya kovuğu buldular ve oraya sığındılar. Ayakta durmuşlardı, ikisi de çok üşüyordu. Saçlarının ucundan hâlâ yağmur altında yürüyor gibi sular damlıyordu.

Bu parçada aşağıdaki ses olaylarından hangisi yoktur?

- A) Ünsüz benzeşmesi
B) Ünlü türemesi
C) Ünsüz düşmesi
D) Ünsüz yumuşaması
E) Ünlü daralması

9. Canlı türlerinin hızlı bir şekilde yok olmaya başlaması,

insanlığı tehdit eden en önemli sorunlardan biri.

Yapılan bir araştırmaya göre türlerin yok oluş hızı,
geçtiğimiz yüzyıl boyunca yüz kat kadar artmış.

Bu durum; tür kayıplarını önlemeye yönelik projeleri,
önemli bir çevre koruma hedefi hâline getirmiştir.

Koruma stratejilerinin tespiti ise araştırma yöntemi
belirleme konusunda araştırmacıları zorlamaktadır.

Bu parçada numaralanmış sözcüklerin hangisi diğerlerinden farklı bir çekim eki almıştır?

- A) I B) II C) III D) IV

10. Aşağıdaki cümlelerden hangisinin öznesi, sıfat tamlamasından oluşmaktadır?

- A) Kitaplardan öğrenilenlerle kendine bir dünya kurmak, onun içinde yaşayabilmek demektir.
B) Babamın verdiği parayla köşe başındaki butikten yeni bir takım satın aldım.
C) İnsana bir alışkanlık edindirmeye çalışmak, zannedildiği kadar kolay bir iş değildir.
D) Çocukluğundan kalma anılarında hayal meyal hatırladığı bir bahçe vardı.
E) Dolu yüzünden vişne ağaçlarının çiçekleri döküldüğü için dallarda meyve yoktu.

11. İnsanların, başlarına gelen iyi veya kötü her olayı

Olympos Dağı'ndaki insan görünümlü mitolojik tanrılara

bağladığı dönemde doğan Thales; mitolojiden doğa

bilimlerine geçişin ilk adımlarını atar. Thales; olayların

sebeplerini Olympos'ta değil, doğada arayarak tarihe

geçer. Döneminde yadırgansa da akla ve somut

gözleme dayandırdığı fikirleri, pozitif bilimlerin

atası olarak görüldüğünü sağlar.

Bu parçada numaralanmış fiilimsiler tür bakımından ikişerli gruplandırıldığında hangisi dışarıda kalır?

- A) I B) II C) III D) IV E) V

12. I. Böbrek taşı sorununu insanların yaklaşık yüzde onluk kısmı hayatında en az bir kez yaşıyor.
- II. Görülme sıklığı da her geçen yıl artıyor ve taşlar vücuttan dışarı atılırken şiddetli ağrılara sebep oluyor.
- III. Hatta bilim insanları, artan hava sıcaklıkları sebebiyle insan vücudunun daha fazla suya ihtiyaç duyacağından bu rahatsızlığın görülme oranının gelecekte yükseleceğini düşünüyor.
- IV. Küçük veya büyük tüm böbrek taşlarının oluşum sebeplerinin başında yeterince sıvı tüketmemek geliyor.
- V. Çünkü bunların en küçükleri bile hareket ederken böbrek dokularına zarar veriyor.

Bu parçada numaralanmış cümlelerin anlamlı bir bütün oluşturabilmesi için hangilerinin birbiriyle yer değiştirmesi gerekir?

- A) I ile II B) I ile IV C) II ile III
D) III ile V E) IV ile V

13. Tarihî çeşmeler zamanın gözleridir. Geçmişten geleceğe bakan insan gibidir. Su kemerlerinin aksine hiç ummadığınız bir köşe başında bile tarihin şahitleri olarak karşınıza dikilir. Çeşmelerin önünden geçenler bu dünyadan göçüp gider ama onlar, şairin de dediği gibi "ölümsüz uygarlığın ölümsüz kitabeleri"dir. Musluklarından su yerine hayat akar. Temel malzemesi taş değil, insanı yaşama bağlayan saf ve katıksız sevgidir.

Bu parçanın anlatımında aşağıdakilerden hangisi yoktur?

- A) Kişileştirme B) Alıntılama
C) Karşılaştırma D) Benzetme
E) Örneklendirme

14. (I) İlk insan topluluklarındaki simgesel düşünce hakkında en fazla çalışmanın yürütüldüğü disiplin, gün yüzüne çıkardığı somut kanıtlarla arkeolojidir. (II) Ne var ki arkeoloji elde ettiği maddi bulguları kendi yöntemleriyle yorumlamakta yetersiz kalır. (III) Simgelere dair çalışmalara yakından bakıldığında bu eksikliğini, farklı alanların yöntem ve tekniklerinden faydalanarak gidermeye çalıştığı görülür. (IV) Nitekim birçok nitelikli arkeolojik çalışma, etnografiya karşılaştırmalarına ve sosyal antropoloji kuramlarına yaslanır. (V) Zaten simgesel düşüncenin doğuşunu sosyal antropoloji açıklayamazsa hangi disiplin açıklayabilir ki?

Bu parçada numaralanmış cümlelerden hangisi düşüncenin akışını bozmaktadır?

- A) I B) II C) III D) IV E) V

15. (I) Küresel ısınma nedeniyle 1970'ye kadar gün geçtikçe ısınırken yazlar daha uzun ve sıcak, kışlar daha kısa ve ılıman hale geliyor. (II) Maşumacılar, bu ısınmanın yol açacağı muhtemel mevsim değişimleri ile ilgili tahminlerde bulunuyor. (III) Küresel ısınmayı engellemek için çaba gösterilmezse 2100'e geldiğinde Kuzey Yarım Küre'de senenin altı ayında yaz mevsimi yaşanacağını belirtiyorlar. (IV) Mevsim değişimlerinin çevre ve sağlık açısından önemli sonuçları olduğu biliniyor. (V) Kuşların göç düzenleri değişiyor, bitkiler farklı zamanlarda çiçek açmaya başlıyor, yalancı baharlar ve geç gelen kar fırtınaları filizlenen ekinlere zarar veriyor. (VI) Yaşanan değişiklikler sonucunda insanlar alerjik polene daha çok maruz kalıyor ve artan sıcaklarla beraber hastalık taşıyıcı sivrisinekler giderek daha kuzeye yayılıyor.

Bu parça iki paragrafa ayrılmak istense ikinci paragraf numaralanmış cümlelerin hangisiyle başlar?

- A) II B) III C) IV D) V E) VI

16. Bu sorunuza şöyle cevap vermek isterim: Günümüzde yanlış telaffuz edilen sözcüklerden biri "dahi"dir. Bu kelimeyi çoğunlukla "dâhi" şeklinde söylüyoruz. Hâlbuki bu sözcüğün ilk hecesi kısa, ikinci hecesi uzun okunmalı. Biz "dahi" ile "dâhi"yi karıştırırsak çoğu zaman anlatmak istediğimiz konuyu yanlış ifade ederiz. Örneğin onun bile gelmediğini söylemeye çalışırken "O dâhi gelmedi." dersek karşımızdakinde gelmeyen bir "dâhi" yani üstün bir kişi olduğu düşüncesi uyanır.

Bu parça aşağıdaki sorulardan hangisine cevap olarak söylenmiştir?

- A) Doğru telaffuz için dil bilimsel açıdan nasıl bir yol izlenmelidir?
- B) Bir dilde kelimelerin telaffuzu üzerinde neden önemle durulmalıdır?
- C) Aynı kelimelerin farklı dillerdeki telaffuzları neden değişim gösterir?
- D) Yabancı dillerden alınan kelimelerin telaffuzuna dikkat etmek neden önemlidir?
- E) Bilinmeyen kelimelerin kullanılması anlatımda nasıl bir anlam karışıklığına yol açar?

17. Robert Browning tarafından şiir olarak yorumlanan ve 1888'de kitaplaştırılan *Fareli Köyün Kavalcısı*, pek çok masal gibi mutlu sonla bitse de aslında trajik bir olay hakkındadır. Masal, 1284 yılında Almanya'nın Hameln şehrine gelen rengârenk elbiseli ve kaval çalan bir adamın bilinmeyen bir sebeple 130 çocuğu şehirden götürmesini anlatır. Bu olayla ilgili en eski belgede "Çocuklarımız ayrılalı on yıl oldu." yazmaktadır. Ayrıca şehirdeki bir vitray da bu olayın gerçekten yaşandığına dair bir kanıttır. Vitrayda kaval çalan adam renkli, çocuklar ise beyaz kıyafetler içinde betimlenir. Araştırmacılar, masal ve vitrayı XIII. yüzyılın başlarında gerçekleşen 20.000 kişilik Çocuk Haçlı Seferi ile ilişkilendirir. Çocukların bu sefere katıldıkları ve kaval çalan kişinin de bir asker toplama görevlisi olduğu düşünülmektedir.

Bu parçadan aşağıdakilerin hangisine ulaşılabılır?

- A) Bazı edebî türlerin anlatımı, zaman içinde değişiklik göstermiştir.
- B) Bazı masal karakterleri, tarihteki belgelerde farklı tasvir edilmiştir.
- C) Tarihte yaşanmış bir olay, farklı edebî türlere kaynaklık etmiştir.
- D) Çocukların anlatıldığı edebî türler, daha çok ilgi görmüştür.
- E) Bazı masaların yayımlanması için uzun bir süre geçmesi gerekmiştir.

18. *Bilişsel Psikoloji Uygulamaları* adlı dergide yayımlanan bir çalışma kapsamında katılımcılara sıkıcı sayılabilecek bir konuşma kaydı dinletilmiş. Bu sırada katılımcıların yalnızca bir kısmından kaydı dinlerken kâğıda bir şeyler karalamaları istenmiş. Daha sonra katılımcılara kayıttaki konuşmada geçen kişi ve mekânların isimleri sorulmuş. Araştırma sonucunda kayıt sırasında kâğıda bir şeyler çizenlerin, çizmeyenlere göre yüzde yirmi dokuz daha fazla bilgi hatırladığı belirlenmiş. Çalışma, dinlerken karalama yapmanın kişinin ilgisini çekmeyen bir konuya odaklanmasını kolaylaştırdığını göstermiş.

Aşağıdakilerden hangisi bu parçadaki araştırma sonucunu destekler niteliktedir?

- A) Not tutmak, kişilerin uzun bir konuya odaklanması ve ana noktaları yakalamasında önemli bir rol oynar.
- B) Sıkılmaya başladığında monotonluğu kırarak basit bir aktivite, insanın konuya yeniden yoğunlaşmasını sağlar.
- C) Zihnin karmaşık yapısını anlamak için yürütülen çalışmalar kişilerin farklı uyarlardan etkilendiğini gösterir.
- D) Dikkat dağınıklığının önlenmesi için kişiyi etkileyecek çevresel uyaranların en aza indirilmesi gerekir.
- E) Konunun içeriğine önceden hâkim olmak, kişilerin odaklanma süresini önemli ölçüde artırır.

19. Ennion, Roma'nın en ünlü cam ustası olarak I. yüzyılın cam işçiliğine damgasını vurmuştur. Kalıba üfleme tekniği ile üretilen ve kendi adını taşıyan eserleriyle tanınmıştır. Bu eserler; kabartma sarmaşık desenleriyle süslü küçük testiler, kulplu kâseler ve fincanlardır. Ennion, adını Grekçe veya Latince harflerle camların üzerine kabartma olarak bir imza niteliğinde işlemiştir. Onun imzasını taşıyan eserler, bugün dünyanın saygın müzelerinde sergileniyor. Mesela İstanbul Arkeoloji Müzesinde bu ünlü camların üç adet açık mavi örneği kırık parçalar hâlinde bulunuyor. Yaklaşık 6 santimetre yüksekliğe sahip bu parçalar, bitkisel süslemeler içermekte ve bunların arasında Grekçe harflerle "Ennion yaptı." yazmaktadır.

Bu parçada Ennion'un eserleriyle ilgili aşağıdakilerin hangisine değinilmemiştir?

- A) Hangi teknikle üretildiğine
- B) Ne tür eşyalardan oluştuğuna
- C) Ne tür süslemeler içerdiğine
- D) Döneminde kimlerin ilgisini çektiğine
- E) Sanatçısından nasıl bir iz taşıdığına

ÖSYM
Bu soruların telif hakları ÖSYM'ye aittir. Sorular ÖSYM'nin yazılı izni olmaksızın hiçbir kişi, kurum veya kuruluş tarafından kullanılamaz.

20-21. soruları aşağıdaki parçaya göre cevaplayınız.

Clickbait; insanları çevrim içi metinleri okumaya, görüntülemeye ve dinlemeye ikna etmek için tasarlanmış köprü metin veya küçük resim bağlantısı kullanan haber görünümü reklam biçimidir. Türkçeye "tık tuzağı", "tık yemi", "kapan manşet" gibi ifadelerle çevrilen bu tür reklamlarda okurun, haber başlığına sürekli tıklaması gerekir fakat tatmin edecek bir haber bilgisine ulaşması mümkün olmaz. Clickbait içerikli haberlerde habercilik prensiplerine uymayan farklı yöntemler kullanılır. Haberin konusundan uzaklaşarak önemsiz bir detay üzerinde yoğunlaşma, temanın dışına çıkarak abartılı bir başlık kullanma, haber içeriğine uygun olmayan görselleri yerleştirme gibi okuru aldatma şekilleri bulunur. Yaygın olarak kullanılan, ünlem ve soru işareti içeren ilgi çekici clickbait başlıkları şöyledir: "Buna inanamayacaksınız!", "Bunları biliyor musunuz?", "Pişman olmayacaksınız!"... Okura, doğru haber sunmak yerine daha fazla tık almak uğruna haber başlığında yapılan clickbait uygulamaları olumsuz bir habercilik yöntemi olarak kabul edilir. Bu tür haberlerde klasik haber geleneğinden farklı olarak merakına yenilen okur, reklam tüketim kapanına girer.

20. Bu parçada "clickbait" ile ilgili aşağıdakilerin hangisine değinilmemiştir?

- A) Üslubunun yalın olmasına
- B) Noktalama işaretlerinden yararlanmasına
- C) Ayrıntıyı odağa almasına
- D) Yanıltıcı görsellerle desteklenmesine
- E) Öğrenme isteğini harekete geçirmesine

21. Bu parçadan aşağıdakilerin hangisine ulaşılabilir?

- A) Sanal ortamda habercilik yöntemleri geliştirilirken klasik haber geleneğinden yararlanıldığına
- B) Tüketimi artırmak için habercilik ilkelerinin ihlal edildiğine
- C) Sanal ortamda ticari ürünlerin insanları yanıltacak biçimde tanıtıldığına
- D) Clickbait tasarımcılarının, gündemdeki ilgi çekici olayları içerik olarak kullandığına
- E) Clickbait uygulamalarının, toplumun her kesiminden insanın dikkatini çektiğine

Bu soruların telif hakları ÖSYM'ye aittir. Sorular ÖSYM'nin yazılı izni olmaksızın hiçbir kişi, kurum veya kuruluş tarafından kullanılamaz.

22-23. soruları aşağıdaki parçaya göre cevaplayınız.

Uzun süredir yayın hayatına devam eden bir sanat dergisinin yayın kurulu; 2018'e kadar "direnmek", "tanık olmak", "mucize" gibi bilindik ve çarpıcı bir başlık seçerek bu başlık çerçevesinde yayımlanacak sayının yazılarını oluşturmuyordu. Kurul; 2018'de ise yayımlanacak sayının temasına, görece deneysel bir şekilde yaklaşmayı tercih etti. "Dünyayı anlatmak, yeni dünyalar yaratmak için diller bitmez tükenmez bir kaynak olsa da bizi sessiz bırakan yapıtlar, manzaralar ve durumlar vardır. Bunları ifade edecek sözcükleri bulamayız ama deneriz hiç değilse. Bazen kekeleriz, bazen de bunu ifade edecek bir sözcük yok deyip susarız. İfade edecek sözcük bulunamaz mı sahiden?" sözleriyle başladıkları bu yolculukta oluşturdukları ilk sözcük "Akdeniz-lemek" oldu. Yayın kurulu, bulunduğu bu sözcüğe "Akdeniz kıyılarına derin bir bağlılık duymak ve kendini orada evinde hissetmek", "bir kültürden diğerine geçiş yapmak" gibi yeni anlamlar yükledi. Dergi, "Akdenizlemek" kelimesi için belirlenen bu farklı ve yeni anlamlardan hiçbirini sabitlemeyi amaçlamıyor. Hatta okur, sanatçı ve düşünürlerle yapılan söyleşilerde sözcüğün anlamları yeniden sorgulanıyor.

22. Bu parçada sözü edilen dergi ile ilgili aşağıdakilerden hangisi söylenemez?

- A) Yayın kurulu, Akdenizlemek sözcüğüne duyguları ve düşünceleri ön plana çıkaran anlamlar yüklemiştir.
- B) 2018 yılından önce tercih ettiği başlıkları, ilgi ve dikkat çekici olan sözcüklerden seçmiştir.
- C) Akdenizlemek sözcüğünün anlamlarının, güncellenebilir olduğunu savunan bir yayın politikası yürütmektedir.
- D) 2018'de yayın kurulu, derginin temasını belirlerken az bilinen konuları gündeme taşımayı hedeflemiştir.
- E) Yayın kurulu, mevcut söz dağarcığının düşüncelerin anlatımına yeterli gelmeyebileceğine inanmaktadır.

23. Bu parçada sözü edilen derginin 2018 yılından sonra gerçekleştirdiği deneysel çalışma aşağıdakilerden hangisidir?

- A) Kelime hazinesini türetilen yeni sözcüklerle sürekli zenginleştirmek
- B) Sözcüklerin bilinen anlamları yerine daha az bilinen anlamlarını seçmek
- C) Türetilen bir sözcüğe farklı anlamlar bulma çabasında olmak
- D) Sözcüğün bilinen anlamı yerine bulunan yeni anlamını öncelemek
- E) Söz dağarcığında yer alan sözcükleri özgün bağlamlarda kullanmak

24-26. soruları aşağıdaki parçaya göre cevaplayınız.

Edebî türler; doğar, gelişir, ölür ve ölenlerden geriye *İlyada* ve *Binbir Gece Masalları* gibi zamanla klasikleşenler kalır. Her çağın da kendi klasiklerini belirlemek için özellikle öne çıkardığı edebî türler vardır. Örneğin Goethe'nin "insanlığın evrensel mülkü" dediği şiir artık her kıtada geri çekilmiştir. Günümüzde; isyanın, umudun ve aşkın edebiyatını temsil eden şiirin yerini alan roman, yüzlerce sayfayı bulan hacmine rağmen boş zamanı gittikçe azalan insanların hayatında daha çok kabul görmüştür. Bunun başlıca nedeni; romanın tanımlanamayan sınırlarının kendinden önceki bütün edebiyat türlerini hatta felsefe, psikoloji, tarih, sosyoloji gibi farklı alanları içermesi gücüdür. Ayrıca metinler arasılık, türler arasılık ve başka olanaklar da romanın esneyip zenginleşmesini sağlayan araçlardır. Dünyanın bütün söz üretimleri romanın içine doğru akarken roman da genişleşip coğrafi ve kültürel düzlemde bütün dünyaya yayılır. Her tür anlatı ve söylem, kara deliğe benzeyen romanın içine çekilip yoğrulur.

24. Bu parçaya göre aşağıdakilerden hangisi söylenebilir?

- A) *İlyada* ve *Binbir Gece Masalları*, kendi dönemlerinde öne çıkmıştır.
- B) Goethe, şiiri dünya çapında bir edebî tür olarak tanımlamıştır.
- C) İnsanlar, yoğun uğraşları arasında edebiyata vakit ayırmakta zorlanır.
- D) Günümüzde insanlar, farklı disiplinlerle ilgilenmekten keyif alır.
- E) Klasik eserlerin yerini günümüzde popüler türler almıştır.

25. Bu parçada altı çizili sözle anlatılmak istenen aşağıdakilerden hangisidir?

- A) Disiplinlere eşit ölçüde yer verdiği
- B) Yeni edebî türleri ortaya çıkardığı
- C) Kimi disiplinlerin imkânlarını kısıtladığı
- D) Farklı edebî türleri alıp yorumladığı
- E) Bazı edebî türleri yok ettiği

26. Bu parçadan aşağıdakilerin hangisine ulaşılamaz?

- A) Günümüz romanlarında duygusal konular geri planda tutulur.
- B) Edebî metinlerin benimsenmesi, hacim dışındaki ölçülerle belirlenir.
- C) Edebî türlerin gördüğü ileri zaman içinde değişiklik gösterir.
- D) Farklı disiplinlerin içermesi, roman türünün anlatımını genişletir.
- E) Klasikler edebiyat alanında yaşanan değişimlere rağmen varlığını sürdürür.

27-30. soruları aşağıdaki bilgilere göre birbirinden bağımsız olarak cevaplayınız.

Bir okulun A ve B şubelerinde öğrenim gören Nil, Orhan, Pelin, Reyhan ve Serhat adlı öğrencilerden Edison, Gutenberg ve Tesla adlı mucitlerin hayatları hakkında bilgi toplamaları istenmiştir. Öğrencilerin şubelerine ve seçtikleri mucitlere ilişkin kimi bilgiler şu şekildedir:

- Her bir öğrenci, sadece bir mucit seçmiştir.
- A şubesinde toplam üç öğrenci bulunmaktadır.
- Edison ve Tesla'yı ikişer öğrenci seçmiştir.
- Reyhan'ın seçtiği mucit, Tesla'dır.
- Farklı şubelerdeki Nil ve Serhat'ın seçtiği mucitler aynıdır.
- Orhan ve Pelin, aynı şubede öğrenim görmektedir.

27. Buna göre;

- Pelin,
- Reyhan,
- Serhat

adlı öğrencilerden hangileri A şubesinde öğrenim görüyor olabilir?

- A) Yalnız I B) Yalnız II C) Yalnız III
D) I ve II E) I ve III

28. Buna göre;

- Nil,
- Orhan,
- Pelin

adlı öğrencilerden hangilerinin seçtiği mucit kesin olarak bilinmektedir?

- A) Yalnız I B) Yalnız II C) Yalnız III
D) I ve II E) II ve III

29. Aşağıdakilerden hangisi yanlıştır?

- A) A şubesinden bir öğrenci Edison'u seçmiştir.
B) A şubesinden bir öğrenci Gutenberg'i seçmiştir.
C) A şubesinden bir öğrenci Tesla'yı seçmiştir.
D) B şubesinden bir öğrenci Edison'u seçmiştir.
E) B şubesinden bir öğrenci Gutenberg'i seçmiştir.

30. Tüm öğrencilerin seçtikleri mucit ve öğrenim gördükleri şubenin tam olarak belirlenebilmesi için aşağıdakilerden hangisinin bilinmesi yeterlidir?

- A) Serhat'ın öğrenim gördüğü şube ile Pelin'in seçtiği mucidin
B) Reyhan'ın öğrenim gördüğü şube ile Orhan'ın seçtiği mucidin
C) Pelin'in öğrenim gördüğü şube ile Nil'in seçtiği mucidin
D) Orhan'ın öğrenim gördüğü şube ile Pelin'in seçtiği mucidin
E) Nil'in öğrenim gördüğü şube ile Serhat'ın seçtiği mucidin

$$31. \frac{\left(7 + \frac{6}{7}\right)\left(5 - \frac{4}{5}\right)}{\left(3 + \frac{2}{3}\right)}$$

işleminin sonucu kaçtır?

- A) 5 B) 6 C) 7 D) 8 E) 9

$$32. \frac{4^3 + 4^4 + 4^5}{2^6 + 2^7 + 2^8}$$

işleminin sonucu kaçtır?

- A) 2 B) 3 C) 4 D) 8 E) 9

$$33. \frac{\frac{1}{\sqrt{7}} + \frac{\sqrt{63}}{7}}{\sqrt{28}}$$

işleminin sonucu kaçtır?

- A) 1 B) 3 C) 5

D) $\frac{2}{7}$ E) $\frac{1}{4}$

$$34. \frac{1,2}{7} \cdot \left(\frac{2}{15} - \frac{1,5}{2}\right)$$

işleminin sonucu kaçtır?

- A) 0,1 B) 0,2 C) 0,3
D) 0,4 E) 0,5

ÖSYM

Bu soruların telif hakları ÖSYM'ye aittir. Sorular ÖSYM'nin yazılı izni olmaksızın hiçbir kişi, kurum veya kuruluş tarafından kullanılamaz.

35. A ve B birer rakam olmak üzere,

$$\begin{array}{r} AB4 \\ - AB \\ \hline BAB \end{array}$$

olduğuna göre, A + B toplamı kaçtır?

- A) 9 B) 11 C) 13 D) 15 E) 17

36. x, y ve z gerçel sayıları için

$$x = y - 2z$$

$$y = -3z$$

$$3z = 2(y - x) + 1$$

olduğuna göre, x + y + z toplamı kaçtır?

- A) 7 B) 9 C) 11 D) 13 E) 15

37. a ve b birbirinden farklı rakamlar olmak üzere,

$$\frac{2^a \cdot 3^b}{a} = 2^5 \cdot 3^8$$

eşitliği veriliyor.

Buna göre, a + b toplamı kaçtır?

- A) 11 B) 12 C) 13 D) 14 E) 15

38. a ve b gerçel sayıları için

$$|a| = a + 2 = \frac{a}{-b}$$

olduğuna göre, a + b toplamı kaçtır?

- A) $\frac{1}{2}$ B) $\frac{2}{3}$ C) $\frac{3}{4}$
D) 1 E) 2

ÖSYM

Bu soruların telif hakları ÖSYM'ye aittir. Sorular ÖSYM'nin yazılı izni olmaksızın hiçbir kişi, kurum veya kuruluş tarafından kullanılamaz.

39. a, b, c ve d pozitif tam sayılar olmak üzere;
 $a \cdot (b + c)$ ifadesi bir tek sayıya, $a \cdot (b + d)$ ifadesi bir çift sayıya eşittir.

Buna göre,

- I. $b \cdot (c + d)$
- II. $c \cdot (d + a)$
- III. $d \cdot (a + b)$

ifadelerinden hangileri her zaman bir çift sayıya eşittir?

- A) Yalnız I
- B) Yalnız II
- C) Yalnız III
- D) I ve II
- E) II ve III

40. A, B ve C kümeleri ile ilgili

$$(A \cap B) \subset C \subset A$$

$$s(A \setminus B) = s(A \cap B) = s(B \setminus C)$$

$$s(B) = 6$$

olduğu biliniyor.

Buna göre, $A \cup B \cup C$ birleşim kümesinin eleman sayısı kaçtır?

- A) 8
- B) 9
- C) 12
- D) 15
- E) 16

41. a, b ve c birbirinden farklı negatif tam sayılar olmak üzere,

$$\frac{a}{42} < \frac{b}{7} < \frac{c}{12}$$

eşitsizliği sağlanmaktadır.

Buna göre, a'nın alabileceği en büyük değer kaçtır?

- A) -5
- B) -8
- C) -10
- D) -13
- E) -15

42. Gerçek sayılar kümesi üzerinde tanımlı f ve g fonksiyonları için

$$f(3 + 2x) = g(2 + x)$$

eşitliği sağlanmaktadır.

Buna göre, $f(a) = (g \circ g)(a)$ eşitliğini sağlayan a gerçel sayısı kaçtır?

- A) 1
- B) 2
- C) 3
- D) 4
- E) 5

43. İki basamaklı AB doğal sayısı rakamları toplamının 5 katına, üç basamaklı CAB doğal sayısı ise rakamları toplamının 43 katına eşittir.

Buna göre, A + B + C toplamı kaçtır?

- A) 12 B) 15 C) 16 D) 18 E) 21

44. Elinde belirli sayılarda 2, 3 ve 5 litrelik üç çeşit kova bulunan Dilara, bu kovaların her birini birer kez su ile tam doldurarak başlangıçta boş olan su deposuna aktardığında depo tam dolmakta ve su artmamaktadır. Dilara, bu işlem için

- 2 litrelik kovaları kullanmasaydı diğer kova çeşitlerinden fazladan birer tane kovayı,
- 3 litrelik kovaları kullanmasaydı diğer kova çeşitlerinden fazladan üçer tane kovayı,
- 5 litrelik kovaları kullanmasaydı diğer kova çeşitlerinden fazladan sekiz tane kovayı

su ile tam doldurup depoya aktarması gerekecekti.

Buna göre, tam dolu su deposunda bulunan su miktarı kaç litredir?

- A) 62 B) 65 C) 69 D) 74 E) 80

45. Burak, uzunlukları metre cinsinden birer tam sayı olan aynı uzunlukta iki ip alıyor. Bu iki ipten birini uzunlukları 1, 2 ve 3 sayılarıyla doğru orantılı olacak biçimde üç parçaya; diğerini ise uzunlukları 2, 5 ve 7 sayılarıyla doğru orantılı olacak biçimde üç parçaya ayırıyor.

Bu altı ip parçasının her birinin uzunluğu metre cinsinden tam sayı olduğuna göre, en kısa ip parçasının uzunluğu en az kaç metredir?

- A) 4 B) 5 C) 6 D) 8 E) 9

46. Bir spor okuluna kayıtlı 80 sporçunun tamamı, aşağıda verilen kurallara göre dört gruba ayrılmıştır.

- Her bir grupta en az 12 en çok 25 sporcu vardır.
- Her bir sporcu sadece bir grupta yer almaktadır.

Bu gruplardan birinde bulunan Erhan; kendi bulunduğu grup dışındaki üç gruptan seçilen farklı iki gruptaki sporcu sayılarının oranlarını $\frac{2}{3}$, $\frac{3}{4}$ ve $\frac{8}{9}$ olarak hesaplamıştır.

Buna göre, Erhan'ın bulunduğu gruptaki toplam sporcu sayısı kaçtır?

- A) 16 B) 18 C) 20 D) 22 E) 24

Bu soruların telif hakları ÖSYM'ye aittir. Sorular ÖSYM'nin yazılı izni olmaksızın hiçbir kişi, kurum veya kuruluş tarafından kullanılamaz.

47. Yeni açılan bir çiçekçide, iki çeşit toprak eşit ağırlıktaki paketlerde satılmaktadır. Bu iki çeşit toprak paketinden birinin ağırlığının % 1'i gübre, diğerinin ağırlığının % 25'i gübredir.

Bu çiçekçide birinci gün bu iki çeşit toprak paketinden eşit sayılarda satılmıştır. İkinci gün ise sadece, ağırlığının % 25'i gübre olan toprak paketlerinden satılmıştır. Bu iki günün her birinde, satılan toprak paketlerindeki toplam gübre miktarı birbirine eşittir.

Buna göre; ikinci gün satılan toplam toprak paketi sayısı, birinci gün satılan toplam toprak paketi sayısına göre yüzde kaç azalmıştır?

- A) 32 B) 36 C) 40 D) 44 E) 48

48. İki çocuklu bir ailede; anne ile büyük çocuğun bugünkü yaşları toplamı, küçük çocuğun bugünkü yaşının 3 katına eşittir. Çocukların bugünkü yaşları toplamının 67, anne ile küçük çocuğun bugünkü yaşları toplamının 93 olduğu bilinmektedir.

Buna göre, annenin bugünkü yaşı kaçtır?

- A) 60 B) 61 C) 62 D) 63 E) 64

49. Doğrusal bir yolda aynı anda sabit hızlarla A kentinden B kentine doğru harekete başlayan iki araçtan birinin B kentine 200 kilometre yolu kaldığında diğerinin 100 kilometre yolu kalmıştır. Hızlı olan araç B kentine vardığında ise, diğer aracın B kentine 120 kilometre yolu kalmıştır.

Buna göre, A ve B kentleri arasındaki bu yolun uzunluğu kaç kilometredir?

- A) 600 B) 700 C) 800
D) 900 E) 1000

50. Bir doğal sayının rakamları toplamı ile rakamları çarpımı birbirine eşitse, o doğal sayıya işlemel sabit sayı denir. Beş basamaklı 11ABC doğal sayısı ile üç basamaklı ABC doğal sayısı birer işlemel sabit sayıdır.

Buna göre, C kaçtır?

- A) 4 B) 3 C) 5 D) 7 E) 9

ÖSYM

Bu soruların telif hakları ÖSYM'ye aittir. Sorular ÖSYM'nin yazılı izni olmaksızın hiçbir kişi, kurum veya kuruluş tarafından kullanılamaz.

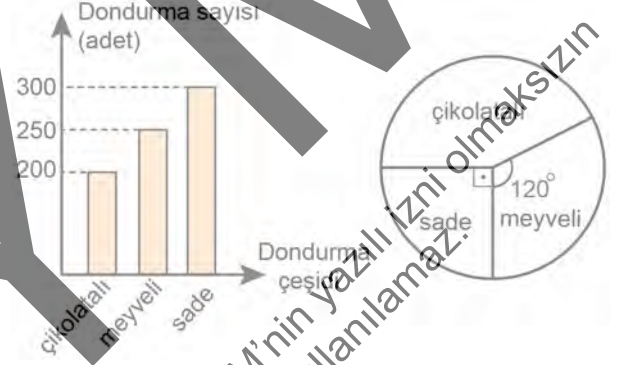
51. Aynı düğüne davetli olan Ayça ve Burcu isimli iki arkadaş, bu düğünde giyecekleri elbiseleri almak için farklı mağazalara gitmiştir. Ayça'nın gittiği mağazada 6 farklı elbise modeli, Burcu'nun gittiği mağazada ise bu 6 farklı elbise modeline ek olarak 4 farklı elbise modeli daha bulunmaktadır. Ayça ve Burcu, gittikleri bu mağazalardan rastgele birer elbise modeli seçmiştir.

Buna göre, Ayça ve Burcu'nun seçtikleri elbise modellerinin farklı olma olasılığı kaçtır?

- A) $\frac{1}{5}$ B) $\frac{3}{5}$ C) $\frac{4}{5}$ D) $\frac{7}{10}$ E) $\frac{9}{10}$

52-53. soruları aşağıdaki bilgilere göre birbirinden bağımsız olarak cevaplayınız.

Bir markette bir dondurma markasına ait çikolatalı, meyveli ve sade olmak üzere üç çeşit dondurma satılmaktadır. Aşağıda, belirli bir haftanın başında bu markette bulunan bu üç çeşit dondurmanın sayılarıyla ilgili bilgiler sütun grafiğinde, belirlenen bu haftanın sonunda markette kalan bu üç çeşit dondurmanın sayıca dağılımı ise daire grafiğinde gösterilmiştir.



52. Belirlenen haftanın sonunda kalan bu üç çeşit dondurmanın toplam sayısının, bu hafta boyunca satılan bu üç çeşit dondurmanın toplam sayısına oranı $\frac{2}{3}$ 'tür.

Buna göre, bu hafta boyunca çikolatalı dondurma çeşidinden kaç adet satılmıştır?

- A) 45 B) 50 C) 60 D) 75 E) 80

53. Belirlenen hafta boyunca; çikolatalı ve meyveli dondurma çeşitlerinden toplam 180 adet satılmıştır.

Buna göre, belirlenen haftanın sonunda kalan sade dondurma çeşidinin sayısı kaçtır?

- A) 60 B) 75 C) 90

- D) 105 E) 120

54-56. soruları aşağıdaki bilgilere göre birbirinden bağımsız olarak cevaplayınız.

3'ü mavi 7'si beyaz olan 10 tane düzgün altıgenden oluşan aşağıdaki şekilde, birer kenarları ortak olan altıgenlere komşu altıgenler denir.



1'den 9'a kadar olan tam sayılardan 7 tanesi beyaz altıgenlere her bir altıgende farklı bir sayı olacak biçimde yazılacaktır. Sonra her bir mavi altıgene, kendisiyle komşu olan beyaz altıgenlerdeki sayıların toplamı yazılacaktır.

Örnek:



54.



Yukarıdaki şekle göre, $x + y$ toplamı kaçtır?

- A) 24 B) 26 C) 28 D) 29 E) 30

55.



Yukarıdaki şekle göre, $a + b + c$ toplamı kaçtır?

- A) 17 B) 18 C) 20 D) 21 E) 22

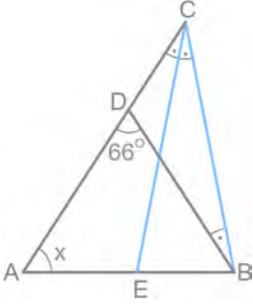
56.



Yukarıdaki şekle göre, x kaçtır?

- A) 1 B) 2 C) 3 D) 4 E) 5

57.



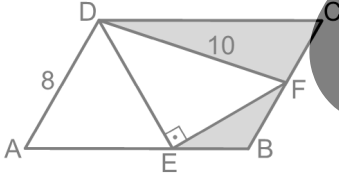
ABC üçgen
 $|BC| = |EC|$
 $m(\widehat{ADB}) = 66^\circ$
 $m(\widehat{ACE}) = m(\widehat{ECB}) = m(\widehat{CBD})$
 $m(\widehat{BAC}) = x$

Şekilde verilen D ve E noktaları ABC üçgeninin kenarları üzerindedir.

Buna göre, x kaç derecedir?

- A) 66 B) 65 C) 60 D) 57 E) 55

58.

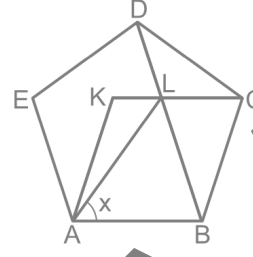


ABCD paralelkenar
 AED eşkenar üçgen
 $E \in [AB], F \in [BC]$
 $DE \perp EF$
 $|AD| = 8$ birim
 $|DF| = 10$ birim

Yukarıdaki verilere göre, boyalı bölgelerin alanları toplamı kaç birimkaredir?

- A) $16\sqrt{3}$ B) $18\sqrt{3}$ C) $20\sqrt{3}$
 D) $22\sqrt{3}$ E) $24\sqrt{3}$

59.

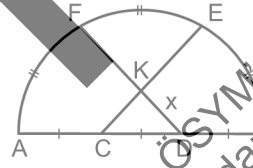


ABCDE düzgün beşgen
 ABCK eşkenar dörtgen
 $BD \cap CK = \{L\}$
 $m(\widehat{LAB}) = x$

Yukarıdaki verilere göre, x kaç derecedir?

- A) 48 B) 51 C) 54 D) 57 E) 60

60.



A, B, C doğrusal
 $E \cap F = \{K\}$
 $|AC| = |CD| = |DB| = 20$ birim
 $|KD| = x$

Şekilde E ve F noktaları AB çaplı yarım çemberin üzerindedir. Ayrıca BE, EF ve FA yaylarının uzunlukları eşittir.

Buna göre, x kaç birimdir?

- A) $\sqrt{13}$ B) $3\sqrt{13}$ C) $4\sqrt{13}$
 D) $5\sqrt{13}$ E) $6\sqrt{13}$

Bu soruların telif hakları ÖSYM'ye aittir. Sorular ÖSYM'nin yazılı izni olmaksızın hiçbir kişi, kurum veya kuruluş tarafından kullanılamaz.

1. Bu testte 60 soru vardır.

2. Cevaplarınızı, cevap kâğıdının Genel Kültür Testi için ayrılan kısmına işaretleyiniz.

1. Türk tarihinde önemli bir yere sahip olan Orhun Kitabeleri;

- I. Kül Tigin,
- II. Bilge Kağan,
- III. Yuluğ Tigin

adlı devlet adamlarından hangileri adına dikilmiştir?

- A) Yalnız I
- B) Yalnız III
- C) I ve II
- D) II ve III
- E) I, II ve III

2. Karahanlılar Dönemi'nde kaleme alınmış olup, dört karakter üzerinden adalet, iktidar, akıl ve akıbet olmak üzere başlıca dört insani yetenek ile devlet yönetimine ilişkin ilkelerin anlatıldığı eser aşağıdakilerden hangisidir?

- A) Kutadgu Bilig
- B) Atabetü'l-Hakayık
- C) Divanü Lügati't-Türk
- D) Divan-ı Hikmet
- E) Muhakemetü'l-Lügateyn

3. Türkiye Selçukluları; XIII. yüzyılın başlarında Antalya, Sinop, Alanya ve Suğdak'ı hakimiyeti altına almıştır. Ayrıca bu dönemde ele geçirilen liman kentlerine ulaşan yollarda kervansaraylar inşa etmiştir.

Bu politikayla Türkiye Selçukluları'nın aşağıdakilerden hangisini amaçladığı söylenemez?

- A) Doğu Akdeniz'de siyasi ve ekonomik üstünlük sağlamak
- B) Yabancıların Akdeniz ve Karadeniz'deki ticari faaliyetlerine son vermek
- C) Zengin liman kentlerinin gelirinden yararlanmak
- D) Anadolu ticaretine ve ticari yollarına hakim olmak
- E) Liman kentlerini ele geçerek Bizans ekonomisini zayıflatmak

4. Osmanlı Tımar sisteminde dirliklerle ilgili olan "kılıç" tabiri aşağıdakilerin hangisinde doğru olarak açıklanmıştır?

- A) Beylerbeylerinin tasarruf ettikleri miri gelirler
- B) Tımar sahiplerinin yetiştirdikleri askerler
- C) Sipahiye başlangıçta tahsis edilen dirlik
- D) Yararlılık gösteren sipahiye sağlanan gelir artışı
- E) Hanedan üyelerine tahsis edilen dirlikler

5. Osmanlı Devleti tarafından gönderilen elçilerin; görevlendirildikleri bölgenin siyasi, askerî, ekonomik ve kültürel yapısına dair gözlemlerini aktardıkları raporların genel adı aşağıdakilerden hangisidir?

- A) Sefaretname B) Seyahatname
C) Siyasetname D) Surname
E) Ahidname

6. Aşağıdakilerden hangisi II. Mehmet'in bilim ve eğitim alanındaki uygulamalarından biri değildir?

- A) Müslüman ve Hristiyan bilginleri sarayında toplaması
B) Felsefe ve din konularında serbest tartışma ortamı oluşturması
C) Doğu ve Batı dillerinde yazılmış kitapları tercüme ettirmesi
D) Sahn-ı Seman Medresesinde pozitif bilimlere de yer verdirmesi
E) Avrupa tarzında ilk eğitim kurumlarını oluşturması

7. Osmanlı Devleti'nin Klasik Dönemi'nde vergilendirilebilir nüfus ve gelir kaynaklarını tespit edebilmek amacıyla gerçekleştirilen sayım işlemine verilen ad aşağıdakilerden hangisidir?

- A) Esham B) Malikâne C) Tahiri
D) Mukataa E) İltizam

8. • Memlük Devleti yıkılarak Suriye, Filistin, Lübnan, Mısır ve Hicaz bölgeleri Osmanlı topraklarına katıldı.
• Doğu Akdeniz'den geçen Baharat Yolu'nun denetimi Osmanlı Devleti'ne geçti.
• Doğu Anadolu'daki Safevi etkisi kırıldı.

Bu gelişmeler aşağıdaki padişahların hangisi döneminde gerçekleşmiştir?

- A) Fatih Sultan Mehmet
B) Yavuz Sultan Selim
C) Kanuni Sultan Süleyman
D) II. Bayezid
E) II. Selim

9. Kanuni Sultan Süleyman, Bender Kalesi'ndeki 1538 tarihli yazıtta "Ben Tanrı'nın kulu, bu dünyanın sultanıyım. Tanrı'nın inayetiyle ümmet-i Muhammed'in başındayım. Adıta Mekke ve Medine'de hutbe okunan Süleyman'ın ben. Ben Bağdat'ta şah, Bizans diyarında kayzer, Mısır'da sultanım. Donanmalarını Akdeniz, Magrip ve Hind'e yollayan sultanım. Macar taht ve tacını aları ve onları bir kuluna bağışlayan sultan benim." ifadelerini yazdırmıştır.

Kanuni Sultan Süleyman'ın bu ifadesinden aşağıdakilerin hangisi çıkarılamaz?

- A) Deniz hâkimiyetine önem verdiği
B) Bir dünya devleti yönettiği
C) Hristiyan dünyasını hâkimiyeti altına aldığı
D) İslam dünyasında önder olduğu
E) Devletin sınırlarını genişlettiği

10. Aşağıdakilerden hangisi Osmanlı Devleti'nde yenileşme döneminde Batı etkisi altında düzenlenen askerî kurumlardan biri değildir?

- A) Hendesehane
- B) Topçu Ocağı
- C) Mühendishane-i Berri-i Hümayun
- D) Eşkinici Ocağı
- E) Sekban-ı Cedid Ocağı

11. Lale Devri'nde yapılan yeniliklerden bazıları şunlardır:

- İlk Türk matbaası açılmıştır.
- Yeni okul ve kütüphaneler kurulmuştur.
- Tercüme ve bilim heyetleri oluşturulmuştur.
- İlk kez çiçek aşısı uygulanmıştır.

Buna göre Lale Devri ile ilgili aşağıdakilerin hangisine ulaşılmaz?

- A) Kültür hayatının canlandığına
- B) Batı etkisinin arttığına
- C) Koruyucu sağlık hizmetlerinin başladığına
- D) Ahalinin yönetime katıldığına
- E) Eğitime önem verildiğine

12. Âyanlar ve eyalet valilerinin padişaha bağlılıklarını bildirdiği, Padişahın da eyaletlere adil ve eşit vergiler salmayı taahhüt ettiği belge aşağıdakilerden hangisidir?

- A) Tanzimat Fermanı
- B) Arazi Kanunnamesi
- C) Vilayet Nizamnamesi
- D) Sened-i İttifak
- E) Mecelle

13. Birinci Balkan Savaşı sırasında Enver Paşa önderliğindeki bazı İttihatçıların, hükümet binasını basarak Sadrazam Kamil Paşa'yı zorla istifa ettirdiği olay aşağıdakilerden hangisidir?

- A) Çırağan Vakası
- B) 31 Mart Olayı
- C) Babıali Baskını
- D) Kuleli Vakası
- E) Vakası Hayriye

14. Mustafa Kemal Paşa'nın Erzurum Kongresi öncesinde verdiği kararla "Sineyimillete Dönüş" olarak nitelediği durum aşağıdakilerden hangisidir?

- A) Resmî görevinden ve askerlikten istifa etmesi
- B) Büyük Millet Meclisi Başkanlığına getirilmesi
- C) Tekâlif-i Millîye Emirleri'ni yayımlaması
- D) Başkumandanlık görevini üstlenmesi
- E) Bandırma Vapuru ile Samsun'a ayak basması

Bu soruların telif hakları ÖSYM'ye aittir. Sorular ÖSYM'nin yazılı izni olmaksızın hiçbir kişi, kurum veya kuruluş tarafından kullanılamaz.

15. Aşağıdakilerden hangisi Kurtuluş Savaşı yıllarında kurulan İstiklal Mahkemelerinin yargılama alanı dışındadır?

- A) Düşman ordusundan alınan esirler
- B) İç ayaklanmalara katılanlar
- C) Casusluk yapanlar
- D) TBMM'nin otoritesine karşı çıkanlar
- E) Asker kaçakları

16. Aşağıdakilerden hangisi, Millî Mücadele yıllarında işgallere karşı örgütlenmede etkili olan yerel halk kahramanlarından biri değildir?

- A) Demirci Mehmet Efe
- B) Anzavur Ahmet
- C) İpsiz Recep
- D) Yörük Ali Efe
- E) Şahin Bey

17. Erzurum ve Sivas kongrelerinde "Kuvayımillîye'yi amil ve millî iradeyi hâkim kılmak esastır." şeklinde karar alınmıştır.

Aşağıdakilerden hangisi bu kararın bir sonucu değildir?

- A) Birinci TBMM'nin toplanması
- B) 1921 Teşkilat-ı Esasiye Kanunu'nun kabul edilmesi
- C) Halkçılık Beyannamesi'nin yayımlanması
- D) Saltanatın kaldırılması
- E) Heyet-i Nasihaların oluşturulması

18. Yunan ordusunun Sakarya'ya kadar ilerlemesiyle paniğe kapılan İstanbul Hükümeti'nin Donanma Bakanı Salih Paşa, aracılar vasıtasıyla Mustafa Kemal Paşa'ya İngiltere ile bir anlaşmaya varılmasını önererek İngiltere'ye karşı belirsiz bir süre direnmenin tehlikeli olacağı ve bir felakete yol açacağı uyarısında bulunmuştur. Sakarya Zaferi'nden sonra Mustafa Kemal Paşa, Salih Paşa'nın çevrede dolaşan söylentilerden etkilenecek olayları doğru değerlendiremeyecek bir duruma geldiğini öne sürmüştür. Emperyalist bir politika takip eden İngiltere'nin Türkiye ile kolay anlaşmayacağını belirtmiştir.

Buna göre aşağıdakilerden hangisi söylenemez?

- A) İngiliz Hükümeti'nin, İstanbul ve Anadolu'daki gelişmeleri izlediği
- B) İstanbul'daki bazı yöneticilerin teslimiyetçi ve uzlaşmacı siyaseti benimsediği
- C) TBMM Hükümeti ile İstanbul Hükümeti arasında iletişimin bulunduğu
- D) Sakarya Savaşı'nın Anadolu hareketi için önemli olduğu
- E) İstanbul Hükümeti'nin Yunanlıları durdurma konusunda Ankara'ya güvendiği

19. Aşağıdakilerden hangisi 20 Kasım 1922'de toplanan Lozan Konferansı'nın 4 Şubat 1923'te kesintiye uğramasına yol açan konulardan biri değildir?

- A) Irak sınırı
- B) Tamirat bedeli
- C) Kapitülasyonlar
- D) Mübadele
- E) Boğazlar

20. Yakın Dönem Türkiye tarihiyle ilgili aşağıdaki gelişmelerin hangisinde neden-sonuç ilişkisi kurulamaz?

- A) İstanbul Hükûmetinin Lozan Konferansı'na davet edilmesi - Saltanatın kaldırılması
- B) Şeyh Said Ayaklanması - Takrir-i Sükûn Kanunu'nun kabul edilmesi
- C) İstanbul'un resmen işgali - Büyük Millet Meclisinin açılması
- D) Mustafa Kemal'e suikast girişimi - Serbest Cumhuriyet Fırkasının kapanması
- E) Halifeliğin kaldırılması - Osmanlı hanedanı üyelerinin ülke dışına çıkarılması

21. Aşağıdakilerden hangisi Cumhuriyet Dönemi'nde hukuk alanında yapılan yeniliklerden biri değildir?

- A) Ülkede tek hukuk sistemine geçilmesi
- B) Batıdan laik ve çağdaş kanunların alınması
- C) Şer'îye ve Evkaf Vekâletinin kaldırılması
- D) Ankara Hukuk Mektebinin açılması
- E) Aile Hukuku Kararnamesi'nin çıkarılması

22. Aşağıdakilerden hangisi milliyetçilik ilkesiyle doğrudan ilişkilidir?

- A) Efendi, Bey, Paşa Gibi Lakap ve Unvanların Kaldırılmasına Dair Kanun'un çıkarılması
- B) Bazı Kisvelerin Giyilmeyeceğine Dair Kanun'un kabulü
- C) Birinci Beş Yıllık Sanayi Planı'nın uygulanması
- D) Şer'îye ve Evkaf Vekâletinin kaldırılması
- E) Türk Parasını Koruma Kanunu'nun yayımlanması

23. Elif, Atatürk Dönemi'nde madencilik ve şerhi işlerini yönetmek amacıyla kurulmuş olan kuruluşlar üzerine bir ödev hazırlamaktadır.

Aşağıdakilerden hangisi Elif'in hazırlayacağı ödevde yer almalıdır?

- A) Sümerbank
- B) İş Bankası
- C) Etibank
- D) Tiraat Bankası
- E) Denizbank

24. 1934'te kurulan Balkan Antantı'na Türkiye'nin tüm girişimlerine rağmen Bulgaristan katılmamıştır.

Türkiye'nin, Balkan Antantı'na Bulgaristan'ın da katılmasını istemesinde;

- I. Balkanlarda kalıcı barışı sağlamak,
- II. Yunan-Bulgar anlaşmazlığından yararlanmak,
- III. Bulgaristan'ın İtalya ile yakınlaşmasını önlemek

amaçlarından hangileri etkili olmuştur?

- A) Yalnız I
- B) Yalnız III
- C) I ve II
- D) I ve III
- E) II ve III

25. Aşağıdakilerden hangisi, Birinci Dünya Savaşı ve İkinci Dünya Savaşı'nın ortak noktalarından biri değildir?

- A) Almanya, her iki savaştan da yenik çıkmıştır.
- B) Her iki savaş sonrasında uluslararası örgütler kurulmuştur.
- C) Fransa ve İngiltere, her iki savaşta müttefik olmuşlardır.
- D) ABD, her iki savaşa da sonradan katılmıştır.
- E) Japonya, her iki savaşta da galip tarafta yer almıştır.

26. Aysun, İkinci Dünya Savaşı yıllarında Türkiye'deki politik gelişmelerle ilgili bir ödev hazırlamaktadır.

Aşağıdakilerden hangisi Aysun'un yararlanabileceği eserler arasındadır?

- A) Türkiye'de Millî Şef Dönemi
- B) Üçüncü Meşrutiyet
- C) Tek Adam
- D) İnkılap ve Kadro
- E) Türkiye'de Kongre İktidarları

27. 1950'lerde başlayan Kıbrıs Sorunu'nu tetikleyen ve Kıbrıs'ın Yunanistan'a katılmasını hedefleyen Enosis düşüncesini hayata geçirmek için Kıbrıs'ta terör faaliyetlerinde bulunan örgüt aşağıdakilerden hangisidir?

- A) EOKA
- B) Mavri Mira
- C) Pontus
- D) Etnik-i Eterya
- E) ASALA

28. Türkiye'de güneşin doğuş ve batış saatleri yaz ile kış mevsimlerinde değişiklik gösterir. Ortalama güneşlenme süresi kış aylarında daha kısa iken yaz aylarında daha uzundur.

Bu süre farkının temel nedeni aşağıdakilerden hangisidir?

- A) Yükselti
- B) Göreceli konum
- C) Bakı faktörü
- D) Mutlak konum
- E) Ülkenin sınırları

29. Kuzey Anadolu Fay Kuşağı, Doğu Anadolu'da Karlıova yakınlarından başlayıp Ege Denizi'ne kadar ulaşmaktadır.

Aşağıdaki illerden hangisi bu fay kuşağı üzerinde yer almaz?

- A) Bolu
- B) Tokat
- C) Yalova
- D) Elazığ
- E) Erzincan

30. Türkiye'nin bazı yüksek dağlarında buzul aşındırması ve biriktirmesi sonucunda oluşmuş yer şekillerine yaygın olarak rastlanır.



Haritada numaralandırılan alanların hangilerinde bu yer şekilleri daha fazla görülür?

- A) I ve II B) I ve III C) II ve IV
D) III ve V E) IV ve V

31. I. Tektonik hareketler
II. Volkanik faaliyetler
III. Kimyasal ayrışma
IV. Kayaç türü

Türkiye'de dağların geniş alanlar kaplamasında yukarıdakilerden hangileri daha fazla etkili olmuştur?

- A) I ve II B) I ve III C) II ve III
D) II ve IV E) III ve IV

32. Vejetasyon dönemi, bitkilerin uykularından uyandıkları ve yaşam faaliyetlerini gerçekleştirdikleri dönemdir. Sıcaklıklar belli bir eşiği aştığında vejetasyon dönemi başlamakta, bu eşiğin altına düştüğünde ise sona ermektedir.

Aşağıdaki platoların hangisinde bu dönem daha kısadır?

- A) Cihanbeyli B) Şanlıurfa
C) Erzurum-Kars D) Kırşehir
E) Çatalca-Kocaeli

33. Aşağıdaki haritada bazı alanlar numaralandırılarak gösterilmiştir.



Bu alanların hangisinde Dalmaçya tipi kıyılar görülmektedir?

- A) I B) II C) III D) IV E) V

34. Kurak ve yarı kurak bölgelerdeki kapalı havza tabanlarında sığ göller oluşmaktadır. Yağışlı dönemlerde bu göllerin alanı genişlemekte ve derinliği artmaktadır. Şiddetli kurak dönemlerde ise göller tamamen kuruyabilmektedir. Kendine has ekosisteme sahip olan bu göller, aynı zamanda önemli sulak alanlardır.

Aşağıdaki göllerden hangisi bu türden bir oluşum gösterir?

- A) Seyfe (Kırşehir)
- B) Abant (Bolu)
- C) Tortum (Erzurum)
- D) Büyükçekmece (İstanbul)
- E) Eğirdir (Isparta)

35. Türkiye'de 1927'deki ilk nüfus sayımından günümüze kadar nüfus miktarı sürekli bir artış göstermiştir.

Bu durumun ortaya çıkmasında;

- I. eğitime büyük yatırımların yapılması,
- II. doğurganlık oranının yüksek olması,
- III. genç nüfus miktarının fazla olması,
- IV. şehirli nüfus miktarının devamlı artması

faktörlerinden hangileri daha fazla etkili olmuştur?

- A) I ve II
- B) I ve III
- C) II ve III
- D) II ve IV
- E) III ve IV

- 36. I. Nüfus artış hızının yüksek olması
- II. Nüfus dağılışının düzensiz olması
- III. Çarpık kentleşmenin yaygın olması

Yukarıdakilerden hangileri, Türkiye'de kırsal kesimden kentlere olan göçün sonuçlarındandır?

- A) Yalnız I
- B) Yalnız II
- C) Yalnız III
- D) I ve II
- E) II ve III

37. Türkiye'nin bazı alanlarında kırsal yerleşmelerin dağılık dokulu olduğu görülür.

Bu yerleşmelerin oluşumunda;

- I. arazinin engebeli olması,
- II. tarım topraklarının verimsiz olması,
- III. tarım alanlarının parçalanması,
- IV. arazinin kıyıya yakın olması

faktörlerinden hangileri etkilidir?

- A) I ve II
- B) I ve III
- C) II ve III
- D) II ve IV
- E) III ve IV

Bu soruların telif hakları ÖSYM'ye aittir. Sorular ÖSYM'nin yazılı izni olmaksızın hiçbir kişi, kurum veya kuruluş tarafından kullanılamaz.

38. Türkiye, eski dünya karaları olarak bilinen Asya, Afrika ve Avrupa ana karalarının birbirine en fazla yaklaştıkları bir konumda bulunur.

Buna göre;

- I. ulaşım güzergâhları,
- II. balık avlanma alanları,
- III. sanayi üretiminde çeşitlilik

unsurlarından hangileri Türkiye için avantaj oluşturur?

- A) Yalnız I B) Yalnız II C) Yalnız III
D) I ve II E) I ve III

39. Türkiye’de kullanılan önemli enerji kaynaklarından biri de linyittir. 1990’lı yıllarda 50-60 milyon ton civarında olan yıllık üretim miktarı; 2000 yılı ile birlikte 65 milyon tona yükselmiş, 2004 yılında ise 44 milyon tona düşmüştür.

2004 yılında linyit üretimindeki bu azalmanın nedeni aşağıdakilerden hangisidir?

- A) Linyit çıkarım maliyetlerinin yükselmesi
B) Taş kömürü üretiminin artması
C) Linyit arama faaliyetlerinin gerilemesi
D) Termik santrallerde doğal gazın tercih edilmesi
E) Rüzgâr santrallerinin yaygınlaşması

40. Türkiye’de tıbbi ve aromatik bitkilerin yetiştiriciliği geçmişten bu yana yapılmakla birlikte son yıllarda bu konuda çeşitli gelişmeler yaşanmıştır. Bunlardan biri de gül yağı elde etmede kullanılan yağ gülü yetiştiriciliğidir.

Aşağıdaki illerin hangisinde ekonomik anlamda bu tür gül üretimi yapılmaz?

- A) Isparta B) Denizli C) Burdur
D) Afyonkarahisar E) Bartın

41. Türkiye ile komşu ülkeler arasında bulunan sınırlar, farklı doğal unsurlara göre belirlenmiştir. Bu sınırların bazılarında dağlar, bazılarında ise akarsular sınır çizgisini belirleyen doğal unsurdur.

Buna göre Aras Nehri aşağıdaki ülkelerden hangisi ile Türkiye arasındaki bu çizgiyi belirler?

- A) İran B) Gürcistan C) Ermenistan
D) Irak E) Suriye

Aşağıdaki haritada bazı alanlar numaralandırılarak gösterilmiştir.



Bu alanların hangisinde bilinen önemli uranyum ve toryum rezervleri bulunur?

- A) I B) II C) III D) IV E) V

Bu soruların telif hakları ÖSYM'ye aittir. Sorular ÖSYM'nin yazılı izni olmaksızın hiçbir kişi, kurum veya kuruluş tarafından kullanılmamalıdır.

43. Türkiye’de bazı illerde mobilya sanayisi gelişmiştir. Bu illerde üretilen ürünler, yurt içi ihtiyacını karşılamanın yanı sıra yurt dışına da ihraç edilmektedir.

Aşağıdakilerden hangisi bu illerden biri değildir?

- A) Afyonkarahisar B) Ankara C) Bursa
D) Kayseri E) İzmir

44. Kasımiye Medresesi, Deyrulzafaran Manastırı ve Zeynel Abidin Türbesi gibi yapılar başta olmak üzere pek çok kültürel çekiciliğin bulunduğu il, Türkiye’deki turizmin çeşitlenmesine ve yaygınlaşmasına örnek oluşturmaktadır.

Bu yapılara sahip olan il aşağıdakilerden hangisidir?

- A) Diyarbakır B) Mardin C) Şanlıurfa
D) Hatay E) Adıyaman

45. Yeryüzü koşullarının elverişli olmadığı deniz yakınlarındaki kimi alanlarda denize dolgu yapılarak havalimanı inşa edilmektedir.

Aşağıdakilerden hangisi bu şekilde inşa edilmiş havalimanlarından biridir?

- A) Antalya Havalimanı
B) Ordu-Giresun Havalimanı
C) Dalaman Havalimanı
D) İzmir Adnan Menderes Havalimanı
E) Sinop Havalimanı

46. 1982 Anayasası’na göre milletlerarası antlaşmaların onaylanmasını uygun bulma görev ve yetkisi aşağıdakilerden hangisine aittir?

- A) Anayasa Mahkemesi
B) Millî Güvenlik Kurulu
C) Türkiye Büyük Millet Meclisi
D) Dışişleri Bakanlığı
E) Adalet Bakanlığı

47. Cumhurbaşkanı tarafından bakan olarak atanan bir milletvekili, kural olarak atarılmasını takip eden gün Türkiye Büyük Millet Meclisinde aşağıdakilerden hangisini yapar?

- A) Yasama dokunuşmazlığından feragat ettiğini duyurur.
B) Güven mektubu sunar.
C) Kendisi için yapılan güven oylamasına katılır.
D) Andicmeyi icra eder.
E) Milletvekilliğinden istifa ettiğine dair dilekçeyi okur.

48. 1982 Anayasası’na göre aşağıdaki temel hak ve ödevlerden hangisi herkese değil, yalnızca Türk vatandaşlarına tanınmıştır?

- A) Kamu hizmetlerine girme hakkı
B) Vergi ödevi
C) Sosyal güvenlik hakkı
D) Toplantı ve gösteri yürüyüşü düzenleme hakkı
E) Dernek kurma hürriyeti

49. 657 sayılı Devlet Memurları Kanunu'na göre aday olarak atanmış devlet memurunun, asgari ve azami adaylık süresiyle ilgili aşağıdakilerden hangisi doğrudur?

	Asgari süresi	Azami süresi
A)	6 ay	1 yıl
B)	6 ay	2 yıl
C)	1 yıl	2 yıl
D)	1 yıl	3 yıl
E)	2 yıl	3 yıl

50. İl genel meclisi, aşağıdakilerden hangisinin karar organıdır?

- A) İl genel idaresi
- B) İl özel idaresi
- C) İl idare kurulu
- D) İl idare şube başkanlıkları
- E) İl müdürlükleri

51. Nüfus koşulunu sağlayan bir il belediyesi, aşağıdakilerin hangisiyle büyükşehir belediyesine dönüştürülebilir?

- A) Cumhurbaşkanlığı kararıyla
- B) Kanunla
- C) İçişleri Bakanlığı kararıyla
- D) İl idare kurulu kararıyla
- E) Yönetmelikle

52. Biri diğerinden veya ortak kökten gelen kişiler arasında kan hısımlığı bulunur.

Buna göre bir kişi, kural olarak aşağıdakilerden hangisiyle kan hısımlığı değildir?

- A) Eşiyle
- B) Kardeşiyle
- C) Teyzesiyle
- D) Torunuyla
- E) Kuzeniyle

53. 4721 sayılı Türk Medeni Kanunu'na göre gerçek veya tüzel en az 7 kişinin; kazanç paylaşma dışında belirli ve ortak bir amacı gerçekleştirmek üzere, bilgi ve çalışmalarını sürekli olarak birleştirmek yoluyla oluşturdukları tüzel kişiliğe sahip kişi topluluğu aşağıdakilerden hangisidir?

- A) Limitet şirket
- B) Konfederasyon
- C) Federasyon
- D) Dernek
- E) Vakıf

Bu soruların telif hakları ÖSYM'ye aittir. Sorular ÖSYM'nin yazılı izni olmaksızın hiçbir kişi, kurum veya kuruluş tarafından kullanılamaz.

54. Mahkemelerin verdiği kararların kesinleşmeden önce denetlenmesini sağlamak amacıyla üst veya yüksek mahkemeye yapılan başvuru, aşağıdakilerin hangisiyle adlandırılır?

- A) Tahkim
B) Kanun yolu
C) Delil tespiti
D) Ön inceleme
E) Islah

55. Sinema oyuncusu olarak *Ağaçlar Ayakta Ölüyor* (1964) ve *İsyancılar* (1966) filmlerindeki rolleriyle Antalya Altın Portakal Film Festivali'nde En İyi Yardımcı Kadın Oyuncu Ödülü'nü almıştır. 1995 yılında Kültür Bakanlığınca tiyatro sanatına olan katkılarından dolayı "Onur Ödülü"ne layık görülmüştür. *Ben Anadolu, Hep Aşk Vardı, Tanrılar ve İnsanlar* gibi tiyatro oyunlarının yanında yüzü aşkın oyunda da rol alan sanatçı 2019 yılında vefat etmiştir.

Hakkında bilgi verilen bu sanatçı aşağıdakilerden hangisidir?

- A) Çolpan İlhan
B) Tomris İncir
C) Suna Pekuysal
D) Yıldız Kenter
E) Gülrüz Sururi

56. Birçok tarihçi tarafından Rönesans'ı simgeleyen evrensel deha olarak görülen ve insan anatomisine ilişkin son derece ayrıntılı çizimlerini *Codex Atlanticus (Codice Atlantico)* adlı eserinde toplamış olan bilim insanı aşağıdakilerden hangisidir?

- A) Tycho Brahe
B) Galilei Galileo
C) Johannes Kepler
D) Leonardo Da Vinci
E) Isaac Newton

57. *Frankfurt Seyahatnamesi, Bize Göre ve Göl Saatleri* adlı eserlerin yazarı olan edebiyatçı aşağıdakilerden hangisidir?

- A) Ahmet Rasim
B) Tevfik Fikret
C) Ahmet Haşim
D) Namık Kemal
E) Yahya Kemal Beyatlı

58. "Termessos Antik Kenti" aşağıdaki illerin hangisinde bulunur?

- A) İzmir
B) Aydın
C) Antalya
D) Muğla
E) Mardin

59. 2021 yılında ABD Havacılık ve Uzay Ajansı (NASA) tarafından düzenlenen "Dünya Turnuvası" adlı fotoğraf yarışmasında, Astronot Kate Rubins tarafından çekilen ve birinci olan fotoğraf aşağıdaki göllerden hangisine aittir?

- A) Salda
B) Meke
C) Sera
D) Van
E) Abant

60. 2021 yılında Azerbaycan'da düzenlenen Aerobik Jimnastik Dünya Şampiyonası'nda, altın madalya kazanan Türk millî sporcu aşağıdakilerden hangisidir?

- A) İrem Yaman
- B) Çağla Büyükkakçay
- C) Yasemin Ecem Anagöz
- D) Ayşe Begüm Onbaşı
- E) Aslı Çakır Alptekin

ÖSYM

Bu soruların telif hakları ÖSYM'ye aittir. Sorular ÖSYM'nin yazılı izni olmaksızın hiçbir kişi, kurum veya kuruluş tarafından kullanılamaz.

SINAVDA UYULACAK KURALLAR

1. Sınav salonunda saate entegre kamera ile kayıt yapılıyor ise kamera kayıtlarının incelenmesinden sonra sınav kurallarına uymadığı tespit edilen adayların sınavları, ÖSYM Yönetim Kurulunca geçersiz sayılacaktır.
2. Cep telefonu ile sınava girmek kesinlikle yasaktır. Adayların sınav binasına; her türlü delici ve kesici alet, ateşli silah, çanta, cüzdan, cep telefonu, saat (kol saati ve her türlü saat), anahtarlık, her türlü araç anahtarı, kablosuz iletişim sağlayan bluetooth ve benzeri cihazlar ile; kulaklık, kolye, küpe, yüzük (alyans hariç), bilezik broş ve diğer takılar, her türlü plastik, cam eşya (şeffaf/numaralı gözlük hariç), plastik ve metal içerikli eşyalar (başörtü için kullanılan boncuklu/boncuksuz toplu iğne, para, anahtarlıksız basit anahtar, ulaşım kartı, basit tokalı kemer, basit tel toka ve basit piercing (taşsız, metal top veya sivri uçlu) hariç) banka/kredi kartı vb. kartlarla, her türlü elektronik/mekanik cihaz ve her türlü müsvedde kâğıt, defter, kalem, silgi, kalemtraş, kitap, ders notu, sözlük, dergi, gazete ve benzeri yayınlar, cetvel, pergel, açılöçer ve bu gibi araçlarla, yiyecek içecek (şeffaf pet şişe içerisinde bandajı çıkarılmış su hariç), ilaç ve diğer tüketim maddeleri ile gelmeleri yasaktır. Bu tür eşya, araç-gereçlerle sınava girmiş adaylar mutlaka Salon Tutanağı'na yazılacak, bu adayların sınavı geçersiz sayılacaktır. Ancak, ÖSYM Başkanlığı tarafından belirlenen Engelli ve Yedek Sınav Evrakı Yönetim Merkezi (YSYM) binalarında sınava girecek olan engelli adayların sınav giriş belgelerinde yazılı olan araç-gereçler, cihazlar vb. yukarıda belirtilen yasakların kapsamı dışında değerlendirilecektir.
3. Bu sınav için verilen cevaplama süresi **130 dakikadır (2 saat, 10 dakika)**. Sınav başladıktan sonra **ilk 10 dakika** içinde adayın sınavdan çıkmasına kesinlikle izin verilmeyecektir. **Bu süre dışında, cevaplama sınav bitmeden tamamlarsanız cevap kâğıdınızı ve soru kitapçığınızı salon görevlilerine teslim ederek salonu terk edebilirsiniz. Bildirilen sürele aykırı davranışlardan adayın kendisi sorumludur.**
4. Sınav salonundan ayrılan aday, her ne sebeple olursa olsun, tekrar sınav salonuna alınmayacaktır.
5. Sınav süresince görevlilerle konuşmak, görevlilere soru sormak yasaktır. Aynı şekilde görevlilerin de adaylarla yakından ve alçak sesle konuşmaları ayrıca adayların birbirinden kalem, silgi vb. şeyleri istemeleri kesinlikle yasaktır.
6. Sınav sırasında, görevlilerin her türlü uyarısına uymak zorundasınız. Sınavınızın geçersiz sayılması, her şeyden önce, sınav kurallarına uymanıza bağlıdır. Kurallara aykırı davranışta bulunanlar ve yapılabilecek uyarılara uymayanlar Salon Tutanağı'na yazılacak ve sınavları geçersiz sayılacaktır.
7. Sınav sırasında kopya çeken, çekmeye kalkışan, kopya veren, kopya çekilmesine yardım edenler Salon Tutanağı'na yazılacak ve bu adayların sınavları geçersiz sayılacaktır. Adayların test sorularına verdikleri cevapların dağılımları bilgi işlem yöntemleriyle incelenecek, bu incelemelerden elde edilen bulgular bireysel veya toplu olarak kopya çekildiğini gösterirse kopya eylemine katılan adayın/adayların sınavı geçersiz sayılacak ayrıca bu aday/adaylar 2 yıl boyunca ÖSYM tarafından düzenlenen hiçbir sınava başvuru yapamazlar ve sınava giremeyecektir. Sınav görevlileri bir salondaki sınavın, kurallara uygun biçimde yapılmadığını, test sorularına girişimde bulunulduğunu raporlarında bildirdiği takdirde, ÖSYM bu salonda sınava giren tüm adayların sınavını geçersiz sayabilir.
8. Cevap kâğıdında doldurmanız gereken alanlar bulunmamaktadır. Bu alanları doldurunuz. Cevap kâğıdınızı başkaları tarafından görülmeyecek şekilde tutmanız gerekmektedir. Cevap kâğıdına yazılacak her türlü yazıda ve yapılacak bütün işaretlemelerde kursun kalem kullanılacaktır. Sınav süresi bittiğinde cevapların, cevap kâğıdına işaretlenmiş olması gerekir. Soru kitapçığına işaretlenen cevaplar geçerli değildir.
9. Soru kitapçığınızı alır almaz kitapçık kapağında bulunan alanları doldurunuz. Size söylendiği zaman sayfaların eksik olup olmadığını, kitapçıkta basım hatalarının bulunup bulunmadığını ve soru kitapçığının her sayfasında basılı bulunan soru kitapçık numarasının, kitapçığının kapağında basılı soru kitapçık numarasıyla aynı olup olmadığını kontrol ediniz. Soru kitapçığının sayfası eksik veya basım hatalıysa değiştirilmesi için salon başkanına başvurunuz. **Size verilen soru kitapçığının numarasını cevap kâğıdınızdaki "Soru Kitapçık Numarası" alanına yazınız ve kodlayınız. Cevap kâğıdınızdaki "Soru kitapçık numaramı doğru kodladım." kutucuğunu işaretleyiniz. Soru kitapçığı üzerinde yer alan Soru Kitapçık Numarasını doğru kodladığınızı beyan eden alanı imzalayınız.**
10. Sınav sonunda soru kitapçıkları toplanacak ve ÖSYM'de incelenecektir. Soru kitapçığının sayfalarını koparmayınız. Soru kitapçığının bir sayfası bile eksik çıkarsa sınavınız geçersiz sayılacaktır.
11. Cevap kâğıdına ve soru kitapçığına yazılması ve işaretlenmesi gereken bilgilerde bir eksiklik ve/veya yanlışlık olması hâlinde sınavınızın değerlendirilmesi mümkün değildir, bu husustaki özen yükümlülüğü ve sorumluluk size aittir.
12. Soruları ve/veya bu sorulara verdiğiniz cevapları ayrı bir kâğıda yazıp bu kâğıdı dışarı çıkarmanız kesinlikle yasaktır.
13. **Sınav salonundan ayrılmadan önce, soru kitapçığınızı, cevap kâğıdınızı ve sınava giriş belgenizi salon görevlilerine eksiksiz olarak teslim ediniz. Bu konudaki sorumluluk size aittir.**
14. Sınav süresi salon görevlilerinin "SINAV BAŞLAMIŞTIR" uyarısıyla başlar, "SINAV BİTMİŞTİR" uyarısıyla sona erer.

Bu testlerin her hakkı saklıdır. Hangi amaçla olursa olsun, testlerin tamamının veya bir kısmının Merkezimizin yazılı izni olmadan kopya edilmesi, fotoğrafının çekilmesi, herhangi bir yolla çoğaltılması, yayımlanması ya da kullanılması yasaktır. Bu yasağa uymayanlar gerekli cezai sorumluluğu ve doğacak tüm mali külfeti peşinen kabullenmiş sayılır.

KAMU PERSONEL SEÇME SINAVI
A GRUBU VE ÖĞRETMENLİK
01.08.2021

GENEL YETENEK

1. B
2. A
3. C
4. D
5. D
6. C
7. B
8. B
9. A
10. D
11. C
12. D
13. E
14. E
15. C
16. B
17. C
18. B
19. D
20. A
21. B
22. D
23. C
24. B
25. D
26. A
27. E
28. A
29. E
30. A
31. E
32. B
33. D
34. A
35. D
36. A
37. E
38. A
39. C
40. B
41. D
42. E
43. B
44. C
45. C
46. D
47. E
48. B
49. A
50. B
51. E
52. D
53. C
54. C
55. B
56. C
57. D
58. A
59. C
60. C

GENEL KÜLTÜR

1. C
2. A
3. B
4. C
5. A
6. E
7. C
8. B
9. C
10. B
11. D
12. D
13. C
14. A
15. A
16. B
17. E
18. E
19. D
20. D
21. E
22. B
23. C
24. D
25. E
26. A
27. A
28. D
29. D
30. E
31. A
32. C
33. C
34. A
35. C
36. E
37. B
38. A
39. D
40. E
41. C
42. D
43. A
44. B
45. B
46. C
47. D
48. A
49. C
50. B
51. B
52. A
53. D
54. B
55. D
56. D
57. C
58. D
59. D
60. D

ÖSYM

Bu soruların telif hakları ÖSYM'ye aittir. Sorular ÖSYM'nin yazılı izni olmaksızın hiçbir kişi, kurum veya kuruluş tarafından kullanılamaz.