



T.C. Ölçme, Seçme ve Yerleştirme Merkezi

**MİLLİ SAVUNMA ÜNİVERSİTESİ  
ASKERİ ÖĞRENCİ ADAY BELİRLEME SINAVI  
(2023-MSÜ)**

2 NİSAN 2023

*Bu testlerin her hakkı saklıdır. Hangi amaçla olursa olsun, testlerin tamamının veya bir kısmının Merkezimizin yazılı izni olmadan kopya edilmesi, fotoğrafının çekilmesi, herhangi bir yolla çoğaltılması, yayımlanması ya da kullanılması yasaktır. Bu yasağa uymayanlar gerekli cezai sorumluluğu ve testlerin hazırlanmasındaki mali külfeti peşinen kabullenmiş sayılır.*

## DİKKAT!

Din Kültürü ve Ahlak Bilgisi dersini yasal olarak almak zorunda olan adaylar ve İmam Hatip Okulları öğrencileri/mezunları, Sosyal Bilimler Testinin ilk 20 sorusunu cevaplamakla yükümlüdür. Bu adaylar 21-25. soruları cevaplamayacaklardır. Bu adaylar 21-25. sorularda işaretleme yapmış olsalar bile bu cevapları değerlendirmeye alınmayacaktır.

Din Kültürü ve Ahlak Bilgisi dersini yasal olarak almak zorunda olmayan veya farklı müfredat ile alan adaylar 16-20. soruların hiçbirini cevaplama dan 21-25. soruları cevaplayacaklardır. Bu adaylar 16-20. sorularda işaretleme yapmış olsalar bile bu cevapları değerlendirmeye alınmayacaktır.

## AÇIKLAMA

1. Bu kitapçıkta toplam **125 soru** bulunmaktadır.  
Türkçe Testi: 40 soru  
Sosyal Bilimler Testi: 25 soru  
Temel Matematik Testi: 40 soru  
Fen Bilimleri Testi: 20 soru
2. Bu sınav için verilen cevaplama süresi **165 dakikadır (2 saat 45 dakika)**.
3. Bu sınav puanlanırken her testteki doğru cevaplarınızın sayısından yanlış cevaplarınızın sayısının dörtte biri çıkarılacak ve kalan sayı o bölümle ilgili ham puanınız olacaktır.
4. Kitapçığın sayfalarındaki boş yerleri müsvedde için kullanabilirsiniz.
5. Cevaplamaya istediğiniz sorudan başlayabilirsiniz. Bir soru ile ilgili cevabınızı, cevap kâğıdında o soru için ayrılmış olan yere işaretlemeyi unutmayınız.
6. Bu kitapçıkta yer alan her sorunun sadece bir doğru cevabı vardır. Cevap kâğıdında bir soru için birden çok cevap yeri işaretlenmişse o soru yanlış cevaplanmış sayılacaktır. İşaretlediğiniz bir cevabı değiştirmek istediğinizde silme işlemini çok iyi yapmanız gerektiğini unutmayınız.
7. Sınavda uyulacak kurallar bu kitapçığın arka kapağında belirtilmiştir.

1. Bu testte 40 soru vardır.

2. Cevaplarınızı, cevap kâğıdının Türkçe Testi için ayrılan kısmına işaretleyiniz.

1.

3.

2.

4.

**ÖSYM**  
Bu soruların telif hakları ÖSYM'ye aittir. Sorular ÖSYM'nin yazılı izni olmaksızın hiçbir kişi, kurum veya kuruluş tarafından kullanılamaz.

5. (I) Osmanlı Devleti'nde katı kurallara bağlı bulunan esnafılıkta mesleğe girişin ilk aşaması "peştamal kuşanmak"tı. (II) Ustasından mesleğin inceliklerini öğrenip hüner göstermesi hâlinde çırağın beline bir peştamal bağlanırdı. (III) Çıracılık diploması yerine geçen ve "şed" denen bu peştamalı, dualarla kuşanan çırak artık kalfa sayılırdı. (IV) Kalfa olmuş çırak, ustasıyla beraber aynı dükkânda çalışmaya devam edebileceği gibi kendi dükkânını da açabilirdi. (V) Bu durumda "çırak çıkarma" denen, dualar ve sınavdan oluşan ikinci bir tören yapılır, kalfa bu sınavı da verdikten sonra kendi dükkânında çalışmaya başlardı.

**Bu parçada numaralanmış cümlelerle ilgili aşağıdakilerden hangisi yanlıştır?**

- A) I. cümlede esnafılık tarihiyle ilgili bir uygulama karşılaştırmadan yararlanılarak verilmiştir.
- B) II. cümlede çıracılıkta peştamal kuşanmanın şartından bahsedilmiştir.
- C) III. cümlede bir çırağın kalfalığa yükseldiğini gösteren sembole değinilmiştir.
- D) IV. cümlede kalfaların mesleki açıdan karar verme yetisine sahip olduğundan söz edilmiştir.
- E) V. cümlede kalfalık sürecinde de belirli ritüellerin mevcut olduğuna işaret edilmiştir.

**DOĞRU CEVAP: A**

6.

7.

ÖSYM

Bu soruların telif hakları ÖSYM'ye aittir. Sorular ÖSYM'nin yazılı izni olmaksızın hiçbir kişi, kurum veya kuruluş tarafından kullanılamaz.

8.

11. (I) Bilim insanları, kutup bölgelerinde eriyen buzulları yeniden dondurmanın bir yolunu bulduklarını açıkladı. (II) Bu yönteme göre mikroskopik aerosoller, jetler yardımıyla yeryüzünden 13 km yükseklikteki atmosfere bırakılacak. (III) Kutup bölgelerinin üstünü örten bu aerosoller, güneş ışınlarından gelen radyasyonu uzaya geri dağıtarak ısınmayı engelleyebilecek. (IV) Böylelikle buzul erimesinin engellenmesiyle deniz seviyesinin yükselmesinin önüne geçilecek. (V) Araştırmacılar bu çalışmanın küresel ısınmanın yan etkilerinden yalnızca bir tanesine çare olacağını söylüyor.

**Bu parçada numaralanmış cümlelerin hangisinde fiilimsi yoktur?**

- A) I B) II C) III D) IV E) V

**DOĞRU CEVAP: B**

9.

12.

10.

**ÖSYM**

Bu soruların telif hakları ÖSYM'ye aittir. Sorular ÖSYM'nin yazılı izni olmaksızın hiçbir kişi, kurum veya kuruluş tarafından kullanılamaz.

13.

15.

14.

16.

# ÖSYM

Bu soruların telif hakları ÖSYM'ye aittir. Sorular ÖSYM'nin yazılı izni olmaksızın hiçbir kişi, kurum veya kuruluş tarafından kullanılamaz.

17.

19. (I) Gözümüzün ön kısmında saat camına benzeyen dayanıklı bir tabaka vardır. (II) Kornea adı verilen bu saydam ve eğimli tabaka, kalkan gibi gözü koruyor ve ışığı kırarak gözün odaklanmasını sağlıyor. (III) Korneadan kırılarak geçen ışık; büyüyüp küçülebilen göz bebeğinden şekil değiştirebilen merceğe, oradan da ışığa duyarlı hücrelerin bulunduğu retinaya ulaşıyor. (IV) Gözün odaklama kuvvetinin yaklaşık %70'ini sağlayan korneada sıra dışı bir şekilde hiç kan damarı bulunmaması uzun süredir araştırmacıların dikkatini çekiyor. (V) Harvard Üniversitesinde bu konuda yıllardır çalışan bir ekip, şeffaf olması gereken korneada kan damarlarının oluşmasının nasıl engellendiğini ortaya çıkardı. (VI) Tıp alanındaki saygın bir akademik dergide yayımladıkları araştırmaya göre damar oluşumunu durduran temel etken, korneanın üst tabakasında çok miktarda bulunan VEGFR-3 adlı protein.

**Bu parça iki paragrafa ayrılmak istense ikinci paragraf numaralanmış cümlelerin hangisiyle başlar?**

- A) II B) III C) IV D) V E) VI

18.

**DOĞRU CEVAP: C**

20.

**ÖSYM**  
Bu soruların telif hakları ÖSYM'ye aittir. Sorular ÖSYM'nin yazılı izni olmaksızın hiçbir kişi, kurum veya kuruluş tarafından kullanılamaz.

21.

23.

22.

24.

# ÖSYM

Bu soruların telif hakları ÖSYM'ye aittir. Sorular ÖSYM'nin yazılı izni olmaksızın hiçbir kişi, kurum veya kuruluş tarafından kullanılamaz.



25.

27.

26.

28.

# ÖSYM

Bu soruların telif hakları ÖSYM'ye aittir. Sorular ÖSYM'nin yazılı izni olmaksızın hiçbir kişi, kurum veya kuruluş tarafından kullanılamaz.

29.

30.

# ÖSYM

Bu soruların telif hakları ÖSYM'ye aittir. Sorular ÖSYM'nin yazılı izni olmaksızın hiçbir kişi, kurum veya kuruluş tarafından kullanılamaz.

31. İtalyan ressam Leonardo da Vinci'nin *Bir Ayının Başı* adlı çizimi, Londra'daki bir müzayedede yaklaşık 104 milyon liralık rekor bir fiyata alıcı buldu. Eseri satışı koyan kurum, çizimin usta sanatçının özel koleksiyonunda bulunan yalnızca birkaç eserinden biri olduğunu duyurdu. 7x7 cm boyutlarında ve uçuk pembe, bej kâğıt üzerine gümüş nokta tekniği kullanılarak oluşturulmuş çizim 500 yıldan daha eski olma özelliği taşıyor. Bu resim, da Vinci'nin 1480'lerin başlarına kadar uzanan küçük ölçekli hayvan çizimleri arasında yer alıyor.

**Bu parçada *Bir Ayının Başı* adlı eserle ilgili aşağıdakilerin hangisine değinilmemiştir?**

- A) Ressamın kişisel koleksiyonunda neden yer aldığına
- B) Ressamın hangi tür eserleri arasına girdiğine
- C) Geçmişinin ne kadar önceye dayandığına
- D) Resmedilmesinde nasıl bir yöntem kullanıldığına
- E) Piyasa değerinin ne kadar olduğuna

**DOĞRU CEVAP: A**

32.

33.

**ÖSYM**  
Bu soruların telif hakları ÖSYM'ye aittir. Sorular ÖSYM'nin yazılı izni olmaksızın hiçbir kişi, kurum veya kuruluş tarafından kullanılamaz.

34.

# ÖSYM

Bu soruların telif hakları ÖSYM'ye aittir. Sorular ÖSYM'nin yazılı izni olmaksızın hiçbir kişi, kurum veya kuruluş tarafından kullanılamaz.

35 - 36. soruları aşağıdaki parçaya göre cevaplayınız.

36.

35.

ÖSYM

Bu soruların telif hakları ÖSYM'ye aittir. Sorular ÖSYM'nin yazılı izni olmaksızın hiçbir kişi, kurum veya kuruluş tarafından kullanılamaz.

37 - 38. soruları aşağıdaki parçaya göre cevaplayınız.

38.

37.

ÖSYM

Bu soruların telif hakları ÖSYM'ye aittir. Sorular ÖSYM'nin yazılı izni olmaksızın hiçbir kişi, kurum veya kuruluş tarafından kullanılamaz.

39 - 40. soruları aşağıdaki parçaya göre cevaplayınız.

40.

39.

# ÖSYM

Bu soruların telif hakları ÖSYM'ye aittir. Sorular ÖSYM'nin yazılı izni olmaksızın hiçbir kişi, kurum veya kuruluş tarafından kullanılamaz.

1. Bu testte sırasıyla, Tarih (1-5), Coğrafya (6-10), Felsefe (11-15), Din Kültürü ve Ahlak Bilgisi (16-20), Din Kültürü ve Ahlak Bilgisi dersini yasal olarak almak zorunda olmayan veya farklı müfredat ile alanlar için Felsefe (21-25) alanlarına ait toplam 25 soru vardır.

2. Cevaplarınızı, cevap kâğıdının Sosyal Bilimler Testi için ayrılan kısmına işaretleyiniz.

1.

3. Osmanlı Devleti'nde XVI. yüzyılda yeni fethedilen bir bölgede, merkezden gönderilen görevliler fethedilen yerin nüfus ve gelir kaynaklarını tespit etmişlerdir. Sonraki yıllarda bu bölgedeki timarlı sipahiler Müslüman ve gayrimüslim köylülerin yetiştirdiği ürünün belirli bir kısmını vergi olarak toplamışlardır. Bazı yerlerin gelirleri ise mescit ve medrese gibi sosyal kurumların masraflarına tahsis edilmiştir.

**Bu parçada Osmanlı Devleti'ndeki idari, sosyal ve mali uygulamaların hangisinden bahsedilmemiştir?**

- A) Tahrir B) Öşür C) Haraç  
D) İltizam E) Vakıf

**DOĞRU CEVAP: D**

4.

2.

**ÖSYM**  
Bu soruların telif hakları ÖSYM'ye aittir. Sorular ÖSYM'nin yazılı izni olmaksızın hiçbir kişi, kurum veya kuruluş tarafından kullanılamaz.



5.

7.

6.

# ÖSYM

Bu soruların telif hakları ÖSYM'ye aittir. Sorular ÖSYM'nin yazılı izni olmaksızın hiçbir kişi, kurum veya kuruluş tarafından kullanılamaz.

8.

10.

11.

9. Aşağıdaki kriterlerden hangisine göre oluşturulan bölge sınırının diğerlerinden daha uzun sürede değişmesi beklenir?

- A) Ekonomik faaliyet türü      B) Kentsel yerleşim alanı  
C) Nüfus miktarı                  D) Alpin çayır alanı  
E) Tarım alanı

**DOĞRU CEVAP: D**

12.

14.

13.

15. Aydınlanmanın akı öncelleyen yaklaşımı sonrasında varoluşçuluk ses yükselterek: Modern çağın insanı! Çok şey kazandın ama her şeyi yitirme tehlikesi içindesin. Bütün evreni ele geçirmenin sevinci içindesin ama kendi kendini yitirmek üzeresin. Gerçi dev tekniğin içinde kendine verimli bir güçlenme aracı elde ettin ama sonra kaygılı bir korkuya kapıldın. Atomun sırlarını çözdün ama kendine yabancılaştın. Modern çağın insanı, senin çok şeyini aldılar ama bir tanesinin alınmasına izin verme: Kendi gerçek varoluşun. Yaşamını yeniden kendi eline al, kolektif yaşamının yürüyen şeridi üzerine bir paket gibi bırakılmaya razı olma.

**Bu parçada varoluşçuluk insanlara aşağıdakilerden hangisini öğütlemektedir?**

- A) Sınırlı ve sonlu bir yaşamda anlam aramayı bırak.
- B) Kendi yaşamına kendin biçim ver.
- C) Belirlenmiş doğana uygun olarak yaşa.
- D) Yaradılış amacına uy ki mutsuz olma.
- E) Var olan her şey ile birlikte var olabileceğini unutma.

**DOĞRU CEVAP: B**

16 - 20. soruları Din Kültürü ve Ahlak Bilgisi dersini yasal olarak almak zorunda olanlar ve İmam Hatip Okulları öğrencileri/mezunları cevaplayacaktır.

16.

18.

17.

# ÖSYM

Bu soruların telif hakları ÖSYM'ye aittir. Sorular ÖSYM'nin yazılı izni olmaksızın hiçbir kişi, kurum veya kuruluş tarafından kullanılamaz.

19.

21 - 25. soruları Din Kültürü ve Ahlak Bilgisi dersini yasal olarak almak zorunda olmayan veya farklı müfredat ile alanlar cevaplayacaktır.

21.

20.

22.

**ÖSYM**

Bu soruların telif hakları ÖSYM'ye aittir. Sorular ÖSYM'nin yazılı izni olmaksızın hiçbir kişi, kurum veya kuruluş tarafından kullanılamaz.

23.

25.

24.

# ÖSYM

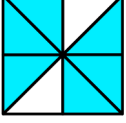
Bu soruların telif hakları ÖSYM'ye aittir. Sorular ÖSYM'nin yazılı izni olmaksızın hiçbir kişi, kurum veya kuruluş tarafından kullanılamaz.

1. Bu testte 40 soru vardır.

2. Cevaplarınızı, cevap kâğıdının Temel Matematik Testi için ayrılan kısmına işaretleyiniz.

1. Eş parçalara ayrılmış olan aşağıdaki şekillerin hangisinde boyalı parçaların temsil ettiği kesir diğerlerinden farklıdır?


A)



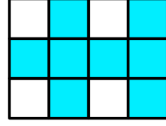
B)



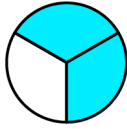
C)



D)



E)



DOĞRU CEVAP: A

2.

3. Bir musluktan her 2 saniyede 1 damla su boş akmaktadır. Su israfını engellemek için su damlatan bu musluğun önüne başlangıçta boş olan 60 litrelik bir kap konuluyor.

Buna göre, bu kabın tamamen dolması kaç dakika sürer?

(20 damla su = 1 ml, 1 litre = 1000 ml)

A)  $2 \times 10^4$ B)  $4 \times 10^4$ C)  $2 \times 10^5$ D)  $8 \times 10^5$ E)  $4 \times 10^6$ 

DOĞRU CEVAP: B

4.

Bu soruların telif hakları ÖSYM'ye aittir. Sorular ÖSYM'nin yazılı izni olmaksızın hiçbir kişi, kurum veya kuruluş tarafından kullanılamaz.

5.

7.

6.

# ÖSYM

Bu soruların telif hakları ÖSYM'ye aittir. Sorular ÖSYM'nin yazılı izni olmaksızın hiçbir kişi, kurum veya kuruluş tarafından kullanılamaz.



8.

10.

9.

11.

# ÖSYM

Bu soruların telif hakları ÖSYM'ye aittir. Sorular ÖSYM'nin yazılı izni olmaksızın hiçbir kişi, kurum veya kuruluş tarafından kullanılamaz.

12.

14.

13.

15.

# ÖSYM

Bu soruların telif hakları ÖSYM'ye aittir. Sorular ÖSYM'nin yazılı izni olmaksızın hiçbir kişi, kurum veya kuruluş tarafından kullanılamaz.

16.

18.

17.

19.

# ÖSYM

Bu soruların telif hakları ÖSYM'ye aittir. Sorular ÖSYM'nin yazılı izni olmaksızın hiçbir kişi, kurum veya kuruluş tarafından kullanılamaz.

20.

21. İmza günü için yayınevinden mesaj yoluyla belirli sayıda kitap istemeyi planlayan bir yazar, mesajında kitap sayısını yazarken yanlışlıkla birler basamağını yazmayı unutuyor. Yayınevi yazarın bu mesajında yazdığı sayıda kitabı yazara gönderiyor ve yazar gelen kitap sayısının istediğinden 194 adet eksik olduğunu görüyor.

**Buna göre, yazarın imza günü için başlangıçta istemeyi planladığı kitap sayısının basamaklarındaki rakamların toplamı kaçtır?**

- A) 7      B) 8      C) 9      D) 10      E) 11

**DOĞRU CEVAP: B**

22.

23.

Bu soruların telif hakları ÖSYM'ye aittir. Sorular ÖSYM'nin yazılı izni olmaksızın hiçbir kişi, kurum veya kuruluş tarafından kullanılamaz.

24.

26.

25.

27.

**ÖSYM**

Bu soruların telif hakları ÖSYM'ye aittir. Sorular ÖSYM'nin yazılı izni olmaksızın hiçbir kişi, kurum veya kuruluş tarafından kullanılamaz.

28.

30.

29.

31.

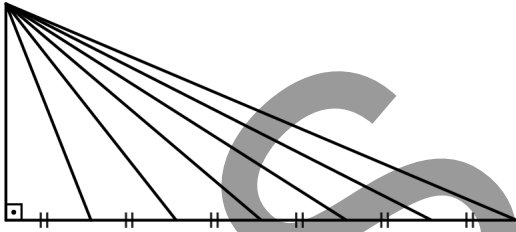
**ÖSYM**

Bu soruların telif hakları ÖSYM'ye aittir. Sorular ÖSYM'nin yazılı izni olmaksızın hiçbir kişi, kurum veya kuruluş tarafından kullanılamaz.

32.

34.

33. En kısa kenar uzunlukları birbirlerine eşit olan altı üçgen şekildeki gibi birleştirilerek büyük bir dik üçgen elde ediliyor.



Bu altı üçgenden her birinin en uzun kenarlarının uzunluklarının birim cinsinden değerleri bir kâğıda yazılıyor.

**Kâğıda yazılan 6 sayıdan en küçük ikisi sırasıyla 13 ve 14 olduğuna göre, bu 6 sayının en büyüğü kaçtır?**

- A) 18      B) 19      C) 20      D) 21      E) 22

**DOĞRU CEVAP: E**

35.

36.

38.

37.

# ÖSYM

Bu soruların telif hakları ÖSYM'ye aittir. Sorular ÖSYM'nin yazılı izni olmaksızın hiçbir kişi, kurum veya kuruluş tarafından kullanılamaz.

39.



40.

# ÖSYM

Bu soruların telif hakları ÖSYM'ye aittir. Sorular ÖSYM'nin yazılı izni olmaksızın hiçbir kişi, kurum veya kuruluş tarafından kullanılamaz.

1. Bu testte sırasıyla, Fizik (1-7), Kimya (8-14), Biyoloji (15-20) alanlarına ait toplam 20 soru vardır.
2. Cevaplarınızı, cevap kâğıdının Fen Bilimleri Testi için ayrılan kısmına işaretleyiniz.

1.

3.

2.

# ÖSYM

Bu soruların telif hakları ÖSYM'ye aittir. Sorular ÖSYM'nin yazılı izni olmaksızın hiçbir kişi, kurum veya kuruluş tarafından kullanılamaz.

4.

6.

5.

# ÖSYM

Bu soruların telif hakları ÖSYM'ye aittir. Sorular ÖSYM'nin yazılı izni olmaksızın hiçbir kişi, kurum veya kuruluş tarafından kullanılamaz.

7.

9.  ${}_5\text{B}$ ,  ${}_{13}\text{Al}$  ve  ${}_{17}\text{Cl}$  elementlerinin periyodik sistemdeki yerleri ve sınıflandırılmalarıyla ilgili aşağıdaki ifadelerden hangisi doğrudur?

- A) Al ve B elementleri aynı grupta bulunur.
- B) B elementi 3. periyotta bulunur.
- C) Al ve Cl elementleri aynı grupta bulunur.
- D) Al elementi ametal olarak sınıflandırılır.
- E) Cl elementi metal olarak sınıflandırılır.

**DOĞRU CEVAP: A**

8.

10.

**ÖSYM**

Bu soruların telif hakları ÖSYM'ye aittir. Sorular ÖSYM'nin yazılı izni olmaksızın hiçbir kişi, kurum veya kuruluş tarafından kullanılamaz.

11.

13.

12.

14.

ÖSYM

Bu soruların telif hakları ÖSYM'ye aittir. Sorular ÖSYM'nin yazılı izni olmaksızın hiçbir kişi, kurum veya kuruluş tarafından kullanılamaz.

15.

17.

16. Hücrelerde bulunan;

- I. protein,
- II. nükleik asit,
- III. karbonhidrat,
- IV. lipit

organik bileşiklerinden hangileri doğrudan genetik şifreye göre sentezlenir?

- A) Yalnız I      B) I ve II      C) II ve III  
D) III ve IV      E) I, III ve IV

**DOĞRU CEVAP: B**

18.

**ÖSYM**

Bu soruların telif hakları ÖSYM'ye aittir. Sorular ÖSYM'nin yazılı izni olmaksızın hiçbir kişi, kurum veya kuruluş tarafından kullanılamaz.

19.

20.

# ÖSYM

Bu soruların telif hakları ÖSYM'ye aittir. Sorular ÖSYM'nin yazılı izni olmaksızın hiçbir kişi, kurum veya kuruluş tarafından kullanılamaz.

## SINAVDA UYULACAK KURALLAR

1. Sınav salonunda saate entegre kamera ile kayıt yapılıyor ise kamera kayıtlarının incelenmesinden sonra sınav kurallarına uymadığı tespit edilen adayların sınavları, ÖSYM Yönetim Kurulunca geçersiz sayılacaktır.
2. **Cep telefonu ile sınava girmek kesinlikle yasaktır.** Adayların sınav binasına; her türlü delici ve kesici alet, ateşli silah, çanta, cüzdan, cep telefonu, her türlü saat, anahtarlık, her türlü araç anahtarı, kablosuz iletişim sağlayan bluetooth ve benzeri cihazlar ile; kulaklık, kolye, küpe, yüzük (**alyans hariç**), bilezik, broş ve diğer takılar, her türlü plastik, cam eşya (**şeffaf/numaralı gözlük hariç**), plastik ve metal içerikli eşyalar (**başörtü için kullanılan boncuklu/boncuksuz toplu iğne, para, anahtarlıksız basit anahtar, ulaşım kartı, basit tokalı kemer, basit tel toka ve basit piercing hariç**), banka/kredi kartı v.b. kartlarla, her türlü elektronik/mekanik cihaz ve her türlü müsvedde kâğıt, defter, kalem, silgi, kalemıraş, kitap, ders notu, sözlük, dergi, gazete ve benzeri yayınlar, cetvel, pergel, açölçer ve bu gibi araçlarla, yiyecek içecek (**şeffaf pet şişe içerisinde bandajı çıkarılmış su hariç**), ilaç ve diğer tüketim maddeleri ile gelmeleri kesinlikle yasaktır. Bu tür eşya, araç-gereçlerle sınava girmiş adaylar mutlaka Salon Tutanağı'na yazılacak, bu adayların sınavı geçersiz sayılacaktır. **Ancak, ÖSYM Başkanlığı tarafından belirlenen Engelli ve Yedek Sınav Evrakı Yönetim Merkezi (YSYM) binalarında sınava girecek olan engelli adayların sınava giriş belgelerinde yazılı olan araç-gereçler, cihazlar vb. yukarıda belirtilen yasakların kapsamı dışında değerlendirilecektir.**
3. Bu sınav için verilen cevaplama süresi **165 dakikadır (2 saat 45 dakika)**. Sınav başladıktan sonra **ilk 120** ve **son 15** dakika içinde adayın sınavdan çıkmasına kesinlikle izin verilmeyecektir. **Bu süreler dışında, cevaplama sınav bitmeden tamamlarsanız cevap kâğıdınızı ve soru kitapçığınızı salon görevlilerine teslim ederek salonu terk edebilirsiniz. Bildirilen sürelerle aykırı davranışlardan adayın kendisi sorumludur.**
4. **Sınav salonundan ayrılan aday, her ne sebeple olursa olsun, tekrar sınav salonuna alınmayacaktır.**
5. Sınav süresince görevlilerle konuşmak, görevlilere soru sormak yasaktır. Aynı şekilde görevlilerin de adaylarla yakından ve alçak sesle konuşmaları ayrıca adayların birbirinden kalem, silgi vb. şeyleri istemeleri kesinlikle yasaktır.
6. Sınav sırasında, görevlilerin her türlü uyarısına uymak zorundasınız. Sınavınızın geçerli sayılması, her şeyden önce, sınav kurallarına uymaya bağlıdır. Kurallara aykırı davranışta bulunanlar ve yapılacak uyarılara uymayanlar Salon Tutanağı'na yazılacak ve sınavları geçersiz sayılacaktır.
7. Sınav sırasında kopya çeken, çekmeye kalkışan, kopya veren, kopya çekilmesine yardım edenler Salon Tutanağı'na yazılacak ve bu adayların sınavları geçersiz sayılacaktır. Adayların test sorularına verdikleri cevapların dağılımları bilgi işlem yöntemleriyle incelenecek, bu incelemelerden elde edilen bulgular bireysel veya toplu olarak kopya çekildiğini gösterirse kopya eylemine katılan adayın/adayların sınavı geçersiz sayılacak ayrıca bu aday/adaylar 2 yıl boyunca ÖSYM tarafından düzenlenen hiçbir sınava başvuru yapamayacak ve sınava giremeyecektir. Sınav görevlileri bir salondaki sınavın, kurallara uygun biçimde yapılmadığını, toplu kopya girişiminde bulunulduğunu raporlarında bildirdiği takdirde, ÖSYM bu salonda sınava giren tüm adayların sınavını geçersiz sayabilir.
8. Cevap kâğıdında doldurmanız gereken alanlar bulunmaktadır. Bu alanları doldurunuz. Cevap kâğıdınıza başkaları tarafından görülmeyecek şekilde tutmanız gerekmektedir. Cevap kâğıdına yazılacak her türlü yazıda ve yapılacak bütün işaretlemelerde kurşun kalem kullanılacaktır. Sınav süresi bittiğinde cevapların, cevap kâğıdına işaretlenmiş olması gerekir. Soru kitapçığına işaretlenen cevaplar geçerli değildir.
9. Soru kitapçığınızı alır almaz kitapçık kapağında bulunan alanları doldurunuz. Size söylendiği zaman sayfaların eksik olup olmadığını, kitapçıkta basım hatalarının bulunup bulunmadığını ve soru kitapçığının her sayfasında basılı bulunan soru kitapçık numarasının, kitapçığın ön kapağında basılı soru kitapçık numarasıyla aynı olup olmadığını kontrol ediniz. Soru kitapçığının sayfası eksik veya basım hatalıysa değiştirilmesi için salon başkanına başvurunuz. **Size verilen soru kitapçığının numarasını cevap kâğıdınızdaki "Soru Kitapçık Numarası" alanına yazınız ve kodlayınız. Cevap kâğıdınızdaki "Soru kitapçık numaramı doğru kodladım." kutucuğunu işaretleyiniz. Soru kitapçığı üzerinde yer alan Soru Kitapçık Numarasını doğru kodladığınızı beyan eden alanı imzalayınız.**
10. Sınav sonunda soru kitapçıkları toplanacak ve ÖSYM'de incelenecektir. Soru kitapçığının sayfalarını koparmayınız. Soru kitapçığının bir sayfası bile eksik çıkarsa sınavınız geçersiz sayılacaktır.
11. Cevap kâğıdına ve soru kitapçığına yazılması ve işaretlenmesi gereken bilgilerde bir eksiklik ve/veya yanlışlık olması hâlinde sınavınızın değerlendirilmesi mümkün değildir, bu husustaki özen yükümlülüğü ve sorumluluk size aittir.
12. Soruları ve/veya bu sorulara verdiğiniz cevapları ayrı bir kâğıda yazıp bu kâğıdı dışarı çıkarmanız kesinlikle yasaktır.
13. **Sınav salonundan ayrılmadan önce, soru kitapçığınızı, cevap kâğıdınızı ve sınava giriş belgenizi salon görevlilerine eksiksiz olarak teslim ediniz. Bu konudaki sorumluluk size aittir.**
14. Sınav süresi salon görevlilerinin "SINAV BAŞLAMIŞTIR" uyarısıyla başlar, "SINAV BİTMİŞTİR" uyarısıyla sona erer.

*Bu testlerin her hakkı saklıdır. Hangi amaçla olursa olsun, testlerin tamamının veya bir kısmının Merkezimizin yazılı izni olmadan kopya edilmesi, fotoğrafının çekilmesi, herhangi bir yolla çoğaltılması, yayımlanması ya da kullanılması yasaktır. Bu yasağa uymayanlar gerekli cezai sorumluluğu ve doğacak tüm mali külfeti peşinen kabullenmiş sayılır.*