

Bu testte 60 soru vardır.

1. Yazarın romanlarındaki karakterler, doğallıkları ve gerçekçilikleriyle eserlere canlılık katıyor. Farklı yörelere ait dilleri anlatımı çekici kılmaya büyük katkı sağlıyor. Kahramanlarla o kadar iç içeyim ki aynaya her baktığımda onlardan birini görmüş gibi hissediyordum kendimi.

**Yukarıdaki parçada geçen altı çizili sözcüklerle anlatılmak istenen aşağıdakilerden hangisidir?**

- A) Eserlerde kullanılan dil anlatımı zenginleştirmiştir.  
B) Kahramanların fiziksel özellikleri eserlerde başarıyla yansıtılmıştır.  
C) Romanlardaki karakterler, gerçek hayattaki kişiler arasından seçilmiştir.  
D) Romanların kahramanlarıyla normal insanlar arasında benzerlikler bulunmaktadır.  
E) Romanların konusu günlük hayattan seçilmektedir.

2. Usta yazar kaleminin kudretini, kendi hayal dünyasının denizlerinde gezen bir geminin kaptanı olmasından almaktadır.

**Aşağıdakilerden hangisi bu cümlede anlatılmak istenene anlamca en yakındır?**

- A) Yazar, aynı zamanda gemi kaptanlığı yapmaktadır.  
B) Yazar eserlerindeki başarıyı, kendi hayal dünyasını eserlerine başarıyla aktarmasından almaktadır.  
C) Yazar, eserlerini sadece kendi hayal dünyasından esinlenerek oluşturmaktadır.  
D) Usta yazar eserlerinde deniz seyahatlerinden bahsetmektedir.  
E) Yazarın ustalığı, eserlerinde denizden sıklıkla bahsetmesinden kaynaklanmaktadır.

3. I. El elin eşeğini türkü söyleyerek arar.  
II. El elden üstündür.  
III. Ağır yongayı yel kaldırmaz.  
IV. Körle yatan şaşkı kalkar.  
V. Her koyun kendi bacağında asılır.

**Yukarıdaki atasözlerinden hangileri anlamca birbirine en yakındır?**

- A) I ve II      B) II ve III      C) III ve IV  
D) III ve V      E) I ve V

4. Birçok ülke aydınlatma teknikleri üzerine --- sürdürüyor. Bunun temel nedeni aydınlatma için yapılan --- ciddi rakamlara ulaşmasıdır.

**Bu cümlede boş bırakılan yerlere sırasıyla aşağıdakilerden hangisi getirilmelidir?**

- A) düzenli çalışmayı – elektriğin  
B) araştırmayı – yöntemlerin  
C) çalışmayı – harcamaların  
D) tartışmayı – masrafların  
E) düşünmeyi – masrafların

5. I. bölgenin büyük bir bölümüne hakim oldu.  
II. Asya'ya hükmetmeye çalışan Japonya  
III. Amerika ve Pasifik Okyanusu'ndaki Avrupalı devletlerin  
IV. 1937'den beri Çin'le savaşan ve  
V. topraklarına saldırdı ve kısa sürede

**Yukarıdaki sözler anlamlı ve kurallı bir cümle oluşturacak biçimde sıralandığında hangisi baştan üçüncü olur?**

- A) I      B) II      C) III      D) IV      E) V

6. Türkiye'nin 3. ve İstanbul'un en büyük camisi olan Süleymaniye Camii, Mimar Sinan'ın en görkemli eserlerinden biridir.

**Bu cümleden, aşağıdakilerin hangisine kesin olarak ulaşılabılır?**

- A) Türkiye'nin en büyük camilerini Mimar Sinan yapmıştır.  
B) İstanbul'da başka büyük cami yoktur.  
C) Mimar Sinan'ın en büyük eseri, Süleymaniye Camii'dir.  
D) Türkiye'nin en büyük camisi İstanbul'un dışındadır.  
E) Bütün büyük camiler, Osmanlı Dönemi'nde yapılmıştır.

7. Bu sezon 16 maçtır kaybetmeyen Real Madrid, bu karşılaşmada da sahadan galibiyetle ayrılarak La Liga'da ilk 16 maçta son 4 yılın en yüksek üçüncü puanına ulaşmış oldu.

**Bu cümleden, aşağıdakilerin hangisine kesin olarak ulaşılabılır?**

- A) Real Madrid oynadığı tüm maçları kazanmıştır.  
B) Real Madrid La Liga'da lider konumundadır.  
C) Son dört yılın üçünde Real Madrid şampiyon olmuştur.  
D) Bu sezon Real Madrid'den daha başarılı takımlar da vardır.  
E) La Liga'da bu sezon en az 17 maç oynanmıştır.

8. (I) Çatalhöyük, Orta Anadolu'da, günümüzden 9 bin yıl önce yerleşim yeri olmuş, çok geniş bir Neolitik Çağ ve Kalkolitik Çağ yerleşim yeridir. (II) Günümüz Konya şehrinin 52 km güneydoğusunda, Hasandağ'ının yaklaşık olarak 136 km uzağında, Konya Ovası'na hâkim buğdaylık arazide bulunmaktadır. (III) Yapılan araştırmalarda yerleşimde 8 binin üzerinde insan yaşadığı düşünülmektedir. (IV) Dünyanın en eski yerleşimlerinden biri olan bu yerleşimin sakinleri, ilk tarımcı topluluklardan da biridir. (V) İnsanlık tarihine ışık tutan bu özellikleriyle Çatalhöyük, UNESCO tarafından 2012 yılında Dünya Miras Listesi'ne dahil edilmiştir.

**Bu parçadaki numaralanmış cümlelerle ilgili olarak aşağıdakilerden hangisi yanlıştır?**

- A) I. cümlede, açıklamaya yer verilmiştir.  
B) II. cümlede, jeopolitik konuma yer verilmiştir.  
C) III. cümlede, bir olasılıktan söz edilmektedir.  
D) IV. cümlede, karşılaştırmaya yer verilmiştir.  
E) V. cümlede, çıkarım yapılmıştır.

9. İnsanlık tarihinin en eski çağlarına ait bu yapının keşfedilmesinin ardından o dönemlerdeki şiddet olaylarını etkileyen faktörlere ışık tutacak nitelikte kalıntılara rastlanmıştır.

**Bu parçada aşağıdaki ses olaylarından hangisi yoktur?**

- A) Ünsüz türemesi  
B) Ünsüz değişimine aykırı sözcük  
C) Ünsüz benzeşmesi  
D) Ünsüz yumuşaması  
E) Ünlü düşmesi

10. Yurtiçinde ve yurtdışında faaliyet gösteren özel kanalların hergün yayımladıkları haber programları artık eskisi kadar izlenmiyor. Bunun yanı sıra İngilizce'nin telafuzunda yaşanan sıkıntılarda pekçok kanalın tercih edilmemesinde önyargı oluşturuyor.

**Bu parçada kaç tane yazım yanlışı yapılmıştır?**

- A) 7 B) 8 C) 9 D) 10 E) 11

11. Yağmurlu bir sonbahar akşamı ( ) Mağazalar kapalı, sokaklar bomboş ( ) Cemre ( ) Ahmet ( ) Nazlı ve Selim'in arkasından hızlı adımlarla yürüyerek onlara yetişmeye çalışırken bir ses duydu: Eyvah, telefonum yok ( )

**Bu parçada ayraçlarla ( ) belirtilen yerlere aşağıdakilerin hangisinde verilen noktalama işaretleri sırasıyla getirilmelidir?**

- A) (.) (.) (.) (.) (.)  
B) (.) (...) (.) (.) (!)  
C) (...) (...) (.) (.) (!)  
D) (.) (...) (.) (;) (.)  
E) (...) (.) (;) (.) (!)

12. (I) Ayşe Kulin, 1997'de yayımlanan ve Aylin Devri- mel'in hayatını konu alan *Adı: Aylin* adlı kitabı ile, İstanbul İletişim Fakültesi tarafından yılın yazarı seçildi. (II) 1998 yılında *Geniş Zamanlar* adlı öykü kitabı, 1999'da İletişim Fakültesi tarafından yılın romanı seçilmiş olan *SevdaLinka* ve 2000'de yine bir biyografik roman olan ve Füreye Koral'ın hayatını aktardığı *Füreye* yayımlandı. (III) Üslubundaki akıcılık ve yalınlıkla büyük övgü alan yazarın öykü ve kitapları postmodern roman anlayışının Türkiye'de de ilgi görmesine olanak sağladı. (IV) Hayatının büyük bir bölümünü ailesiyle birlikte İstanbul'un farklı semtlerinde, çeşitli zorluklar içinde geçirdi. (V) 2001 yılında yayımlanan *Köprü* isimli romanı ile Türkiye'nin doğu illerinde yaşanan dramın kökenleri ve Cumhuriyet tarihi içindeki nedenlerini ele aldı.

**Bu parçadaki numaralanmış cümlelerden hangisi, düşüncenin akışını bozmaktadır?**

- A) I B) II C) III D) IV E) V

13. Günümüz konuşma dilinin, İngilizce sokak jargonuna (argo) olan özentisi her geçen gün artıyor. Alt yazılı filmlerde kullanılan argo sözcükler adeta konuşma dilimizi yavaş yavaş esir alıyor. Yaş grubu 5-15 arası çocuklar ve gençler Türk dil bilincinden her geçen gün uzaklaşıyor. İnternet üzerinden oynanan canlı oyunlar gençlerimizi resmî dilimizden uzaklaştırmaya, onları Türkçeden soğutmaya devam ediyor. İlgililerin bu konuya en kısa sürede çözüm bulması gerektiğini düşünüyorum. Aksi takdirde dilimiz bu durumdan çok daha ciddi zararlar görecektir.

**Bu parçada aşağıdakilerden hangisine değinilmemiştir?**

- A) Yabancı kökenli sözcükler dilimize yerleşmeye başlamıştır.  
B) İngilizcenin kötü etkilerinden sadece genç yaşta-kiler etkilenmektedir.  
C) Yabancı filmlerin alt yazılı versiyonları konuşma dilimize zarar vermektedir.  
D) İnternette oynanan oyunlar, gençlerimizin dille arasını açmaktadır.  
E) Yetkililer dille ilgili gerekli önlemleri almakta du-yarsız kalmaktadır.

14. Türk dilinin değişmez unsurlarından biri olan atasözlerinin söyleyişi belli değildir. Genel kural niteliği taşıyan, uzun deneyim ve gözlemler sonucu oluşan, yerine göre öğüt veren atasözlerinin, hayatımızın çeşitli dönemlerinde, farklı durumları anlatmak için kullanıldığını görmekteyiz. Atasözlerimizin oluşmasını, dilden dile dolaşmasını ve günümüze kadar ulaşmasını sağlayan tüm Türk dil fabrikası işçilerine yürekten teşekkür etmek istiyorum.

**Bu parçanın anlatımıyla ilgili olarak aşağıdakilerden hangisi söylenemez?**

- A) Atasözlerinin kullanım alanından bahsedilmektedir.
- B) Doğrudan anlatıma başvurulmuştur.
- C) Atasözlerinin nasıl oluştuğu anlatılmıştır.
- D) Açıklamadan yararlanılmıştır.
- E) Genel anlamda bir beğeni söz konusudur.

15. Bahçe kapısının gıcirtısını duyduğumda odamda uzanmış uyumaya çalışıyordum. Gecenin bu saatinde evimizin bahçesine kim girebilirdi ki? Korkmaya başlamıştım. Annemler tatile gideli 3 gün olmuştu ve ben koca evde tek başımdaydım. Hemen kalkıp üst kattaki tüm ışıkları tek tek yakmaya başladım. Camdan aşağı bakmaya çekiniyordum. "Ya hırsızsa?" diye sormaktan alamıyordum kendimi. Polisi mi arasam çılgılık mı atsam, diye sordum kendi kendime. Işıkları yaktıktan sonra ayak sesleri duydum. Sesler hızla uzaklaşıyordu. Sanırım hırsızdı ama kaçmıştı.

**Bu parçanın anlatımıyla ilgili olarak aşağıdakilerden hangisi çıkarılamaz?**

- A) Betimlemelere yer verilmiştir.
- B) Anlatanın duygusu yansıtılmıştır.
- C) Ad aktarması yapılmıştır.
- D) Olaylar oluş sırasına göre verilmiştir.
- E) Farklı duyulara ait özellikler aktarılmıştır.

16. **Aşağıdakilerin hangisinde bir isim tamlaması, bir sıfat-fil grubunun içinde yer almamıştır?**

- A) Karla kaplanmış dağ yamaçlarından inen kayakçıları izlemek çok zevkliydi.
- B) Her kış olduğu gibi bu kış da beklenmedik trafik kazaları yaşanacaktır.
- C) Bizim oraların toprak kokan köy havası bir başkadır.
- D) Seni son gördüğümde cebinde karnını doyurmayaya yetecek ekmek parası bile yoktu.
- E) Çiçeklerle bezenmiş mis kokulu bahçemizde dolaşmak bana hep huzur vermiştir.

17. (I) Sabah uyanır uyanmaz perdeyi açıp dışarı baktım. (II) Bütün kış karın yağmasını beklemiştim ve nihayet beklediğim an gelmişti. (III) Hemen hazırlanıp dışarı çıkmak istiyordum ama annem izin vermedi. (IV) Önce kahvaltımı yapmamı sonra da sıkı sıkı giyinmemi istiyordu. (V) Karın bembeyaz görüntüsü beni o kadar etkilemiş ve sevindirmişti ki büyülenmiş gibi hissediyordum kendimi, bembeyaz bir büyü hem de.

**Bu parçadaki numaralanmış cümlelerle ilgili olarak aşağıda verilenlerden hangisi yanlıştır?**

- A) I. cümlede, bağ-fil eki almış sözcük vardır.
- B) II. cümle, bağımlı sıralı cümledir.
- C) III. cümle, bağlı cümledir.
- D) IV. cümlede, niteleyici sözlere yer verilmiştir.
- E) V. cümlede, araya sıfat girmiş belirtili ad tamlaması vardır.

18. Hiçbir şeyde gözüm yok

I II

Sen yanımda ol yeter

Kapkaralık odama

III

Mehtap gibi doğ yeter

IV

**Bu dizelerde yer alan numaralanmış sözcüklerin türleri aşağıdakilerin hangisinde sırasıyla doğru olarak verilmiştir?**

- A) Sıfat – isim – sıfat – edat  
B) İsim – zamir – sıfat – edat  
C) Sıfat – isim – isim – edat  
D) Sıfat – zamir – isim – edat  
E) İsim – sıfat – isim – zarf

19. Saatlerdir bilgisayarın başında oturan Ali amcasına bir şeyler anlatmaya çalışıyordu.

**Bu cümledeki anlatım bozukluğunun nedeni aşağıdakilerden hangisidir?**

- A) Anlam belirsizliği  
B) Tamlama yanlışı  
C) Çatı uyumsuzluğu  
D) Nesne eksikliği  
E) Özne - yüklem uyumsuzluğu

20. El ele tutuşup, yoksul bir kentin kapısını çaldık. Kar taneleri düşüyordu şehrin üzerine. Çabukça bu kentin çocuklarını bulduk. İçlerinden biri "Ben karı severim." dedi. "Ama keşke yaz günleri yağsa şehrimize. Gelirken soğuğu beraberinde getirmese." Önce şaşırarak bunları duyunca. Sonra karşımızdaki solgun yüze bir daha baktık. İnce gömleğine, yıpranmış, yırtılmış pantolonuna ve hiç ayakkabı giymemiş, kışa rağmen terlikli ayaklarına... Üşüyordu ama kara olan sevgisini de ondan uzaklaşarak geçirmek istemiyordu. Arkadaş olma derdi. Dost olmak, sevinmek mutlu olmak her bir kar tanesiyle kucaklaşarak...

**Bu parçanın anlatımıyla ilgili olarak aşağıdakilerden hangisi söylenemez?**

- A) Betimlemelere yer verilmiştir.  
B) Öyküleyici anlayım ön plandadır.  
C) Ara sözlere yer verilmiştir.  
D) Niteleyici sözcüklere yer verilmiştir.  
E) Kişileştirmeye başvurulmuştur.

21. Öykülerimi yazarken hiçbir gücün etkisi altında kalmam. Özgün olayım da kimse benim gibi yazmasın diye bir uğraşım da yoktur aslında. İnsanlar kurduğum cümleleri beğensin, beni takdir etsin, ödüller versin diye yazmam onları. Önce yüreğim kıpırdar kelimelerin verdiği heyecanla. Sonra zihnimde canlanın hissettiklerim. Kalbimle beynim hükmeder, kalemime. Hayal eder, gözlerimin önüne getirir ve resmederim kalp atışlarımı. Sözcük ressamıyım ben. İlham perilerinden fırça ödünç alan bir sözcük ressamı...

**Bu sözler aşağıdaki sorulardan hangisine karşılık söylenmiş olabilir?**

- A) Size göre iyi bir öykü yazarı nasıl olmalıdır?  
B) Öykülerinizi oluştururken nelerden ilham alırsınız?  
C) Öykülerinizle yaşamınız arasında bir bağlantı var mı?  
D) Başarılı öyküler yazmanın zorlukları nelerdir?  
E) Bize yararlığınızdan bahseder misiniz?



22. Yazmak zor iş bence. Kelimeleri, zincirin halkaları gibi birbirine bağlamak, onları ayrılmaz bütün haline getirmek, her yiğidin harcı değildir. Sadece akıldan geçenleri yazmak değildir. (I) Okuyanların da gönüllerine girebilmek, onlar gibi nefes almak, heyecanlanmak, sinirlenmek gerekir bazen. (II) Acılarına ortak olmaktır aslında, gurbetine yoldaş, dertlerine sırdaş, sevinçlerine arkadaş olmaktır. (III) Girsin de anlasın yazarken neler çektiğini, ne hissettiğini. (IV) Coşkun akan derelere, yağın kara, geçit vermez dağlara, senin gibi baksın. (V) Gülün kokusunu senden alsın herkes ve şükretsin Allah'a hâlâ nefes alabildiği için.

**Bu parçadaki numaralanmış cümlelerin hangisinden sonra düşüncenin akışına göre "Açık kapı bırakmaktır yazmak, birileri girsin diye." cümlesi getirilmelidir?**

- A) I      B) II      C) III      D) IV      E) V

23. (I) Mimikler insanların psikolojik, sosyolojik, ekonomik veya kültürel anlamda ne durumda olduklarının en belirgin göstergelerinden biridir. (II) Örneğin dünyanın neresine giderseniz gidin üzgün bir insanı yüzünden anlayabilirsiniz. (III) Kültürler, diller, dinler vs. farklı olsa da üzüntünün etkisi tüm insanlarda benzer özellikler gösterir. (IV) Sebebi ne olursa olsun üzüntü denen hissi yaşayan insanlar ilk başta bunu mimiklerinde belli ederler. (V) Kimi hislerini saklamaya çalışır, kimi yüzünü saklar kimi de hıçkırığa hıçkırığa ağlar. (VI) Ancak her ne olursa olsun insanoğlu hislerini yüzünde belli etmekten kurtulamamıştır, kurtulamaz da.

**Bu parçadaki numaralanmış cümlelerden hangisi, kendinden önceki yargının gerekçesidir?**

- A) II      B) III      C) IV      D) V      E) VI

**24. – 25. soruları aşağıdaki parçaya göre cevaplayınız.**

(I) Kapadokya Bölgesi, doğa ve tarihin bütünleştiği bir yerdir. (II) Coğrafi olaylar peribacalarını oluştururken tarihi süreçte insanlar da bu peribacalarının içine ev, kilise oymuş; bunları fresklerle süsleyerek binlerce yıllık medeniyetin izlerini günümüze taşımışlardır. (III) Bugün kullanılan Kapadokya adı, Pers dilinde "Güzel Atlar Ülkesi" anlamına gelir. (IV) Kayalara oyulan evler ve kiliseler, bölgeyi Roma İmparatorluğu'nun baskısından kaçan Hristiyanlar için devasa bir sığınak haline getirmiştir. (V) Tarih boyunca ticaret kolonilerini barındıran, ülkeler arasında ticari ve sosyal bir köprü kuran Kapadokya, İpek Yolu'nun da en önemli kavşaklarından biridir.

**24. Bu parçadaki numaralanmış cümlelerden hangisi düşüncenin akışını bozmaktadır?**

- A) I      B) II      C) III      D) IV      E) V

**25. Bu parçadaki numaralanmış cümlelerden hangisinde neden-sonuç ilişkisi vardır?**

- A) I      B) II      C) III      D) IV      E) V

**26. – 27. soruları aşağıdaki parçaya göre cevaplayınız.**

(I) Telekinezi, maddeler üzerinde düşünce gücüyle etki yapma olarak tanımlanır. (II) Telekinezinin gerçekliğine dair hiçbir bilimsel kanıt yoktur. (III) Bilim adamları tarafından yeterince kontrollü ve tekrarlanabilir olmamaları nedeniyle eleştirilen telekinezi deneyleri, bazı konularda yanlısamalara neden olmuştur. (IV) Bu yanlısamalar deneyi yürütenlerin telekineziye duyduğu inançla doğrudan orantılıdır. (V) Fiziksel medyumluk yeteneğine sahip bir insan tarafından eşyaların el veya bilinen araçların yardımı olmaksızın uzaktan hareket ettirilebilme yetisi pek çok kesim tarafından reddedilmiş, telekinezinin şeytan işi olduğu ve insanları dini inançlardan sapıtacağı düşüncesi öne sürülmüştür. (VI) Bu durum farklı bilimsel ve etnik topluluklar arasında çatışmalara neden olmuştur.

**26. Bu parçanın anlatımıyla ilgili olarak aşağıdakilerden hangisi çıkarılamaz?**

- A) Karşılaştırmadan verilerden yararlanılmıştır.  
B) Açıklama anlatım biçimi tercih edilmiştir.  
C) Birbirine bağlı durumlardan söz edilmiştir.  
D) Bir görüşün yanlışlığı ortaya konmuştur.  
E) Bir kavramın farklı tanımlarına yer verilmiştir.

**27. Bu parçadaki numaralanmış cümlelerden hangisi kendinden önceki cümlenin nedenidir?**

- A) II B) III C) IV D) V E) VI

**28. – 30. soruları aşağıdaki bilgilere göre cevaplayınız.**

Ayça, Berk, Cenk, Derya, Emine ve Hale bir mağazaya gidip 2 pantolon, 4 ayakkabı, 4 çanta ve 1 kaban almışlardır. Bu kişilerin her biri birer pantolon veya ayakkabı almıştır.

Bu kişilerin yaptığı alışverişlerle ilgili şu bilgiler bilinmektedir:

- Hale, yalnız bir ürün almıştır.
- Bayanların hepsi ayakkabı almış, fakat pantolon almamıştır.
- Pantolon alanlar, kaban almamıştır.
- Ayça, Derya ve Hale kaban almamıştır.
- Emine sadece iki ürün almıştır.

**28. Aşağıdaki kişilerden hangisi ayakkabı ve çantayı kesin olarak almıştır?**

- A) Berk B) Cenk C) Emine  
D) Derya E) Hale

**29. Aşağıdakilerden hangisinin pantolon aldığı kesindir?**

- A) Berk B) Derya C) Emine  
D) Hale E) Ayça

**30. Verilen bilgilere göre aşağıdakilerden hangisi kesinlikle doğrudur?**

- A) Pantolon alanlardan birisi çanta da almıştır.  
B) Berk ayakkabı almıştır.  
C) Emine çanta almıştır.  
D) Emine ve Hale ikisi de çanta almıştır.  
E) Ayça ve Hale'den biri çanta aldıysa diğeri ayakkabı almıştır.

31.  $\left(\frac{1}{2} + \frac{1}{3}\right) - \left(\frac{1}{2} - \frac{1}{3}\right)$   
 $\left(\frac{3}{4} - \frac{1}{3}\right) - \left(\frac{2}{3} + \frac{3}{4}\right)$

işleminin sonucu nedir?

- A)  $-\frac{9}{8}$       B)  $-\frac{8}{9}$       C)  $-\frac{3}{4}$   
 D)  $-\frac{2}{3}$       E)  $-\frac{1}{4}$

32.  $(2^3 - 3^2)^3 : \frac{1}{(-2^4)}$

işleminin sonucu kaçtır?

- A) 2      B) 4      C) 8      D) 12      E) 16

33.  $x^2 < x$

$x.z < 0$

$x.y < x.z$

olduğuna göre, aşağıdaki sıralamalardan hangisi doğrudur?

- A)  $y < z < x$       B)  $y < x < z$       C)  $x < y < z$   
 D)  $x < z < y$       E)  $z < x < y$

34.  $\sqrt{\frac{4! + 5!}{6!}}$

işleminin sonucu kaçtır?

- A)  $\frac{1}{\sqrt{10}}$       B)  $\sqrt{5}$       C)  $\frac{1}{\sqrt{2}}$   
 D)  $\frac{1}{\sqrt{5}}$       E)  $\sqrt{10}$

35.  $\frac{x}{3} = \frac{y}{5} = \frac{z}{6}$  ve  $3x - y = 24$

olduğuna göre, z kaçtır?

- A) 12      B) 18      C) 24      D) 30      E) 36

36. x pozitif tam sayıdır.

OKEK(x, 12) = OKEK(3, x) eşitliği veriliyor.

Buna göre, x'in alabileceği değerler toplamı kaçtır?

- A) 18      B) 21      C) 24      D) 27      E) 30



37.  $x < 0 < y < z$  olmak üzere,

$$|x - y| - |y - z| - |z - x|$$

ifadesi aşağıdakilerden hangisine eşit olur?

- A) x                      B) y                      C) z  
D)  $2y - 2z$             E)  $x + y - z$

38. a ve b birer tam sayıdır.

$$b \neq 0 \text{ ve } \frac{a}{b} = 5$$

olduğuna göre, aşağıdakilerden hangisi her zaman doğrudur?

- A) a, 15 ile bölünür.  
B) b, 5 ile bölünür.  
C) a, tek sayıdır.  
D) a, 5 ile bölünür.  
E) b tek sayıdır.

39.  $\frac{3^{x+2}}{6 \cdot 3^x - 3^{x+1}}$

işleminin sonucu kaçtır?

- A) 3    B) 2    C)  $\frac{3}{2}$     D)  $\frac{1}{2}$     E)  $-\frac{3}{2}$

40.  $25^3 \cdot 24^2$  çarpımı kaç basamaklı bir sayıdır?

- A) 9    B) 8    C) 7    D) 6    E) 5

41. – 43. soruları aşağıdaki bilgilere göre birbirinden bağımsız olarak cevaplayınız.

Hasan Öğretmen matematik dersinde tahtaya şöyle bir yazı yazmıştır:

“Asal bölenlerinin toplamı asal sayı olan pozitif tam sayılara **toplamasal sayı** denir. Örneğin, 88 sayısı bir toplamasal sayıdır. Çünkü asal bölenleri 2 ve 11’dir ve bu sayıların toplamı olan 13 asal sayıdır.”

41. Buna göre, aşağıdakilerden hangisi bir toplamasal sayıdır?

- A) 15    B) 18    C) 21    D) 30    E) 42

42. Aşağıdakilerden hangisi bir toplamasal sayı değildir?

- A) 40                      B) 68                      C) 80  
D) 114                    E) 116

43. I. İki basamaklı en küçük toplamasal sayı 10’dur.  
II. İki basamaklı en büyük toplamasal sayı 99’dur.  
III. Üç basamaklı en küçük toplamasal sayı 102’dir.

Yukarıdaki ifadelerden hangileri doğrudur?

- A) Yalnız I                      B) Yalnız II                      C) I ve II  
D) I ve III                      E) II ve III

44. Bir kuru yemişçi, içerisinde A, B ve C kuru yemişlerinin bulunacağı 7 kg'lık bir karışım yapmak istiyor. Bu karışımı;

$$\frac{A}{B} = \frac{1}{6}$$

$$\frac{B}{C} = \frac{4}{7}$$

oranlarında hazırlayacaktır.

**Buna göre, karışımında kaç gram B kuru yemişinden bulunur?**

- A) 1800      B) 2100      C) 2160  
D) 2400      E) 2700

45. 78 paket, 3'lük, 4'lük ve 5'lik gruplara ayrılarak her paketten en az bir tane olmak üzere paketlenmiştir.

**Buna göre, en az kaç paket yapılmıştır?**

- A) 17      B) 18      C) 19      D) 20      E) 22

46. Bir dershanedeki öğrenciler ALES ve YDS'den en az birine girmektedir. Bu öğrencilerin %75'i ALES, %45'i YDS'ye girecektir.

**Buna göre, öğrencilerden yalnız ALES'e girecekler tüm öğrencilerin yüzde kaçındır?**

- A) 40      B) 45      C) 50      D) 55      E) 60

**47. ve 48. soruları aşağıdaki bilgilere göre cevaplayınız.**

17'den küçük toplamları 50 olan dört tane birbirinden farklı pozitif tam sayı seçiliyor.

47. **Aşağıdakilerden hangisi seçilen sayılardan biri olamaz?**

- A) 4      B) 5      C) 6      D) 7      E) 8

48. **Seçilen sayılardan en büyüğü 14 olduğuna göre, en küçük sayı en çok kaçtır?**

- A) 8      B) 9      C) 10      D) 11      E) 12

49. 30 soruluk bir yarışmada her doğru cevap için yarışmacıya 10 puan veriliyor, her yanlış cevap için yarışmacıdan 5 puan geri alınıyor.

**Soruların tümüne cevap veren Murat, bu yarışmadan 150 puan aldığına göre, kaç soruyu yanlış cevaplamıştır?**

- A) 5      B) 6      C) 8      D) 10      E) 15

50. 5 farklı renkte olan boncuklar bir ipe sırayla 5 beyaz, 4 yeşil, 3 mavi, 3 sarı ve 6 kırmızı şeklinde diziliyor.

**Boncuklar bu şekilde dizilmeye devam edilirse 325. boncuğun rengi ne olur?**

- A) Beyaz      B) Yeşil      C) Mavi  
D) Sarı      E) Kırmızı

51. – 54. soruları aşağıdaki bilgilere göre cevaplayınız.

1	2	3	4	1. satır
5	6	7	8	2. satır
9	10	11	12	3. satır
1. sütun	2. sütun	3. sütun	4. sütun	

Yukarıda üzerinde 1'den 12'ye kadar numaralanmış kartların arka kısmında her kartta bir resim olacak şekilde birbirine eş ikişer resim bulunmaktadır. Bu kartlar hakkında şunlar bilinmektedir.

- Aynı resimlere sahip kartlar aynı satır veya aynı sütunda değildir.
- 1 numaralı kartla aynı resme sahip kart, 2. satır veya 2. sütunda değildir.
- 6 numaralı kartla aynı resme sahip kartın numarası iki basamaklı bir sayıdır.
- 3 numaralı kartla aynı resme sahip kartın numarası asal bir sayıdır.

51. 12 numaralı kartla aynı resme sahip kartın numarası aşağıdakilerden hangisi olabilir?

- A) 2 B) 3 C) 5 D) 6 E) 7

52. 5 numaralı kartla aynı resme sahip kartın numarası aşağıdakilerden hangisidir?

- A) 2 B) 3 C) 4 D) 11 E) 12

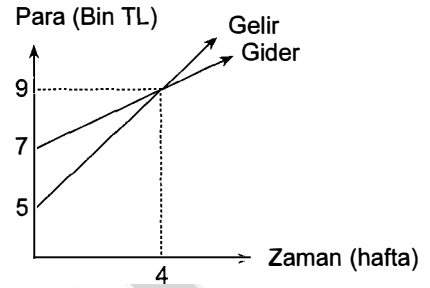
53. 9 numaralı kartla aynı resme sahip kartın numarası aşağıdakilerden hangisi olabilir?

- A) 1 B) 2 C) 3 D) 5 E) 10

54. 8 numaralı kartla aynı resme sahip kartın numarası 9 olduğuna göre, 2 numaralı kartın eşi aşağıdakilerden hangisi olur?

- A) 12 B) 9 C) 7 D) 5 E) 4

55. ve 56. soruları aşağıdaki bilgilere göre cevaplayınız.



Yukarıdaki grafik, bir şirketin gelir ve gideri arasındaki ilişkinin haftalara göre değişimini göstermektedir.

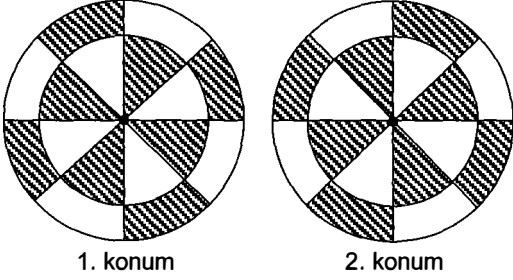
55. Verilen grafiğe göre, bu şirketin kaçınıcı haftanın sonunda kârı 8 bin TL olur?

- A) 20 B) 18 C) 16 D) 14 E) 12

56. Verilen grafiğe göre, bu şirketin kaçınıcı haftada gideri 19 bin TL'ye ulaşır?

- A) 6 B) 12 C) 18 D) 20 E) 24

57.



1. konum

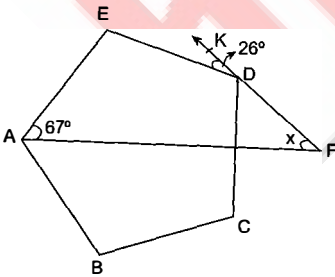
2. konum

Merkezi etrafında dönebilen yukarıdaki dairesel çark, 1. konumdayken döndürülerek 2. konuma getirilmiştir.

**Buna göre, çarka uygulanan döndürme işlemi aşağıdakilerden hangisi olamaz?**

- A) Saat yönünde  $45^\circ$
- B) Saat yönünde  $90^\circ$
- C) Saat yönünde  $135^\circ$
- D) Saat yönünün tersinde  $225^\circ$
- E) Saat yönünün tersinde  $315^\circ$

58.

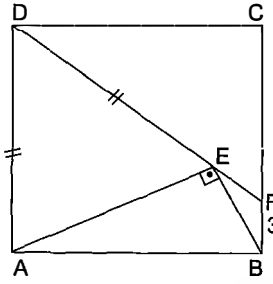


ABCDE düzgün beşgen  
 $m(\widehat{EAF}) = 67^\circ$   
 $m(\widehat{EDK}) = 26^\circ$

**olduğuna göre,  $m(\widehat{AFK}) = x$  kaç derecedir?**

- A) 31
- B) 33
- C) 35
- D) 37
- E) 39

59.



ABCD kare

$$m(\widehat{AEB}) = 90^\circ$$

$$|AD| = |ED|$$

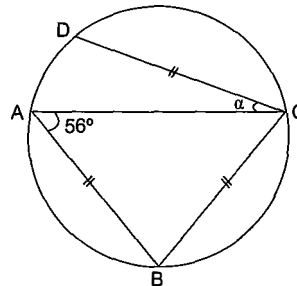
$$|BF| = 3 \text{ br}$$

**olduğuna göre,  $|DF|$  kaç br'dir?**

- A) 9
- B) 12
- C) 15
- D) 18
- E) 20

kısayol yayıncılık

60.



Şekildeki çemberde

$$|DC| = |CB| = |AB|$$

$$m(\widehat{BAC}) = 56^\circ$$

**olduğuna göre,  $m(\widehat{ACD}) = \alpha$  kaç derecedir?**

- A) 8
- B) 10
- C) 12
- D) 14
- E) 24

Bu testte 60 soru vardır.

1. **Kutluk Kağan'ın Çinlilere karşı "Ulusal Kurtuluş Savaşı"nı başlatarak II. Köktürk Devleti'ni kurmasının aşağıdaki devlet adamlarımızdan hangisini etkilediği söylenebilir?**

- A) I. Alaaddin Keykubat
- B) Orhan Bey
- C) Fatih Sultan Mehmet
- D) Mustafa Kemal Atatürk
- E) Mustafa İsmet İnönü

2. **Aşağıdakilerden hangisi Büyük Selçuklu Devleti'nin birçok şehirde medrese açma gerekçe ve amaçları arasında yer almaz?**

- A) Devletin nitelikli memur ihtiyacını karşılamak
- B) Kaliteli din adamı ihtiyacını karşılamak
- C) Batınilerin yıkıcı propagandasını etkisiz hale getirmek
- D) Türkçeyi eğitim ve bilim dili hâline getirmek
- E) Toplum ve devlete yararlı bireyler yetiştirmek

3. – Kendi adına ilk kez para bastıran yöneticileri Ahmet Gazi'dir.  
– Paralarının üzerinde Grekçe yazılar vardır.  
– Tokat ve Niksar Yağlıbasan Medreseleri, Kayseri Ulu Camii önemli eserleridir.

**Yukarıda bazı özellikleri verilen ilk dönem Anadolu Türk Beyliği Aşağıdakilerden hangisidir?**

- A) Danişmentliler
- B) Artuklular
- C) Saltuklular
- D) Mengüçekler
- E) Çaka (Çakan) Beyliği

4. **Aşağıdakilerden hangisi Osmanlı Devleti Dönemi'nde ortaya çıkan ilk dini - siyasi isyan özelliği gösteren gelişmedir?**

- A) Şehzade Mustafa Olayı
- B) Şeyh Bedrettin İsyanı
- C) Kalender Çelebi İsyanı
- D) Bozoklu Celal İsyanı
- E) 31 Mart Vakası

5. **XVIII. yüzyılda Osmanlı Devleti'nde mali kaynak yaratabilmek için vergilerin artırılması;**

- I. ulema,
- II. reaya,
- III. yeniçeri

**kesimlerinden hangilerinin isyan çıkartmasında etkili olmuştur?**

- A) Yalnız I
- B) Yalnız II
- C) Yalnız III
- D) I ve II
- E) I, II ve III

6. **Prens Potemki'nin "Doğu Sistemi'nin Büyük Planı" adını verdiği Osmanlı Devleti'nin yıkma projesi aşağıdakilerden hangisidir?**

- A) Grek Projesi
- B) Dakya Projesi
- C) Meternik Sistemi
- D) Restorasyon Dönemi
- E) Megola İdea Projesi



7. II. Mahmut'un yabancı ülkelerin konsolosluklarının oluşturduğu Beratlı Tüccarlar'ın etkisini kırmak ve Müslüman tüccarların desteklenmesini sağlamak için kurduğu teşkilat aşağıdakilerden hangisidir?

- A) Derbent Teşkilatı
- B) Hayriye Tüccarları Teşkilatı
- C) Lonca Teşkilatı
- D) Duyunu Umumiye Teşkilatı
- E) Avarız Vakıfları

8. Osmanlılarda tüccarların mallarını ulaştıracağı yerlere ulaştırmak için kurulan teşkilat aşağıdakilerden hangisidir?

- A) Mekkari Taifesi
- B) İcazetname
- C) Haşiyeyitecrit
- D) Beytülmal Emni
- E) Kapan Hanı

9. Aşağıdaki kadınlardan hangisi Osmanlı Dönemi basın yayın hayatının içinde yer almamıştır?

- A) Fatma Aliye
- B) Emine Sermiye
- C) Şair Nigar
- D) Fatma Kevser
- E) Afife Jale

10. Aşağıdakilerden hangisi Coğrafi Keşifler sonrası Avrupa'da etkili olmaya başlayan yeni bir ekonomik model olan "merkantalizm" in özelliklerinden biri değildir?

- A) Dış satımı desteklemek
- B) Daha çok altın ve gümüşe sahip olmak
- C) Daha çok paraya sahip olmak
- D) İç ve dış ticarete önem vermek
- E) Ekonomide korumacı olmamak

11. Aşağıdaki eşleştirmelerden hangisi yanlıştır?

- A) Senediittifak → Padişahın yetkilerinin kısıtlandığı ilk belge
- B) Tanzimat Fermanı → Kanun üstünlüğünün ilk kez kabul edilmesi
- C) İslahat Fermanı → Müslüman halkın azınlıklardan üstünlüğünün kabul edilmesi
- D) Kanunuesasi → Osmanlı Devleti'nin ilk anayasası
- E) Mecelle → Ahmet Cevdet Paşa'nın hazırladığı medeni kanun

12. XX. yüzyılda Osmanlı Devleti ile ilgili olarak aşağıdakilerden hangisinde I.'de verilenin II.'de verilene ortam hazırladığı savunulamaz?

I	II
A) Trablusgarp Savaşı'nın başlaması	Kuzey Afrika'daki son Osmanlı toprağının elden çıkması
B) I. Balkan Savaşı'nın kaybedilmesi	Osmanlı Devleti'nin Makedonya'daki topraklarını kaybetmesi
C) Babıali Baskını'nın yaşanması	İttihat ve Terakkicilerin hükûmeti ele geçirmesi
D) Kafkas Cephesi'nde Rus-Ermeni iş birliğinin yaşanması	1915 Tehcir uygulamasının yapılması
E) Mondros Ateşkes Antlaşması'nın imzalanması	Musul'un İngiliz yönetimiindeki Irak'a bırakılması

13. Sovyet Rusya'nın I. Dünya Savaşı'ndan çekilmesiyle Bolşevik Hükûmeti 22 Aralık 1917'de Brest Litovsk Barış Görüşmeleri'ni başlatmıştır.

**Brest Litovsk Görüşmeleri'ne;**

- I. Osmanlı Devleti,
- II. Almanya,
- III. Japonya

**gibi devletlerden hangileri katılmamıştır?**

- A) Yalnız I      B) Yalnız II      C) Yalnız III  
D) I ve II      E) II ve III

14. Osmanlı Devleti'nde 1878 ile 1908 yılları arası İstibdat Dönemi olarak adlandırılır.

**Aşağıdakilerden hangisi İstibdat Dönemi'nin özelliklerinden biri değildir?**

- A) Hamidiye Alayları oluşturulmuştur.  
B) Sanayi Mektebi Nefise açılmıştır.  
C) Mecelle uygulamaya konmuştur.  
D) Muharrem Kararnamesi yayınlanmıştır.  
E) Birden fazla siyasi parti kurulmuştur.

15. **Aşağıdaki il grubundan hangileri Mondros Ateşkes Antlaşması'nda geçen "Vilayetsitte" illerindendir?**

- A) Diyarbakır - Elazığ - Erzurum - Van - Bitlis - Sivas  
B) Yozgat - Tokat - Çorum - Çankırı - Amasya - Sivas  
C) Adana - Mersin - Tunceli - Antalya - Hatay - Antep  
D) Maraş - Urfa - Mardin - Muş - Siirt - Bingöl  
E) İzmir - Aydın - Muğla - Manisa - Balıkesir - Bursa

16. Erzurum Kongresi'nde "Millî Meclis'in derhâl toplanması ve hükûmet işlerinin meclisin denetimi altında yürütülmesine çalışılacaktır." kararı yer almıştır.

**Buna göre;**

- I. Millî egemenlik anlayışıyla hareket edilmiştir.
- II. İstanbul Hükûmeti'nin padişah etkisinden kurtulması amaçlanmıştır.
- III. Saltanat sisteminin halifelikten ayrılmasına çalışılmıştır.

**yargılarından hangileri savunulabilir?**

- A) Yalnız I      B) Yalnız II      C) Yalnız III  
D) I ve II      E) II ve III

17. Aşağıdakilerden hangisinde TBMM'nin açılmasıyla oluşturulan yeni Türkiye'nin ilk hükümetinde yer alan kişi - görev ilişkisi yanlış eşleştirilmiştir?

Kişi	Görev
A) Mustafa Fehmi Bey	Şerhiye Vekili
B) Bekir Sami Bey	Hariciye Vekili
C) İsmail Fazıl Paşa	Adliye Vekili
D) Dr. Rıza Nur Bey	Maarif Vekili
E) Yusuf Kemal Bey	İktisat Vekili

18. 26 Ağustos 1922'de başlayan Büyük Taarruz ile Batı Anadolu'nun Yunan işgalinden kurtulmasından sonra;

- I. Boğazlar,
- II. Doğu Trakya,
- III. İstanbul

gibi yerlerden hangileri Mudanya Mütarekesi sonucunda TBMM'ye bırakılmıştır?

- A) Yalnız I      B) Yalnız II      C) Yalnız III  
D) I ve II      E) I, II ve III

19. J. J. Rousseau'nun "Toplumsal Sözleşme" adlı eserinde "Özgürlükten vazgeçmek, insan olmanın sağladığı hakları ve yüklediği görevleri bırakmaktır." denmiştir.

J. J. Rousseau'nun bu sözü Mustafa Kemal Atatürk'ü;

- I. Türk Kurtuluş Savaşı'nı yapmak,
- II. halk egemenliğini sağlamak,
- III. saltanat ve hilafeti kaldırmak

gibi sonuçlardan hangilerini gerçekleştirmeye sevk etmiştir?

- A) Yalnız I      B) Yalnız II      C) Yalnız III  
D) I ve II      E) I, II ve III

20. Aşağıda verilen amaç - inkılap eşleştirmelerinden hangisi yanlıştır?

Amaç	İnkılap
A) Bilinçli, kültürlü, İslam esaslarını iyi bilen personelin yetiştirilmesi	Diyanet İşleri Başkanlığının kurulması
B) Okuma yazmayı kolaylaştırarak okuma yazma bilenleri artırmak	Harf İnkılabı'nın yapılması
C) Araştıran, sorgulayan bilimsel çalışmaların yapılması	Üniversite reformunun yapılması
D) Türkçenin yabancı dillerin etkisinden çıkartılması	Türk Tarih Kurumunun kurulması
E) Laik eğitim alanında gelişmelerin önündeki engellerin kaldırılması	Medreselerin, tekke ve zaviyelerin kapatılması

21. – Devletin yönetim şekli belirlendi.  
– Devlet başkanlığı sorunu çözüldü.  
– Hükûmet kurma şekli kabine sistemine dönüştürüldü.

**Yukarıdaki gelişmeler aşağıdaki inkılap hareketlerinden hangisinin sonucudur?**

- A) Kabotaj Kanunu'nun kabulü  
B) Cumhuriyetin ilanı  
C) Saltanatın kaldırılması  
D) Hilafetin kaldırılması  
E) Çok partili siyasi hayata geçilmesi

22. I. Yabancı Okullar Sorunu  
II. Suriye sınırı  
III. Musul Sorunu

**Yukarıdaki konulardan hangileri Lozan Antlaşması'nda Türkiye'nin lehine ya da aleykine herhangi bir çözüme kavuşturulamamış ve çözümünü daha sonra ikili görüşmelere bırakılmıştır?**

- A) Yalnız I      B) Yalnız II      C) Yalnız III  
D) II ve III      E) I, II ve III

23. Türkiye aşağıdaki uluslararası kuruluşlardan hangisine Atatürk Dönemi'nde üye olmamıştır?

- A) Nyon Konferansı  
B) Locarno Paketi  
C) Milletler Cemiyeti  
D) Briand-Kellog Paketi  
E) Litvinov Protokolü

24. "Toplumsal barış ve düzen için adaletli bir gelir dağılımı şarttır." diyen bir tarihçinin Atatürk'ün aşağıdaki ilkelerinden hangisinin uygulanmasını tavsiye ettiği söylenebilir?

- A) Cumhuriyetçilik  
B) Halkçılık  
C) Laiklik  
D) Milliyetçilik  
E) Devletçilik

25. Aşağıdakilerden hangisinin cumhuriyetin ilk yıllarında devletçilik ilkesi doğrultusunda yapıldığı söylenemez?

- A) Birinci Beş Yıllık Kalkınma Planı'nın hazırlanması  
B) Kabotaj Kanunu çıkartılarak yabancılardan limanların alınması  
C) Genel Borçlar İdaresi'nin kaldırılması  
D) Reji İdaresi'nin kaldırılması  
E) Bütün azınlıkların Türk vatandaşı kabul edilmesi

26. 1933 yılında bazı Türk ressamalar, Türk resim sanatına yeni bir çizgi ve boyut getirmek için "D Grubu"nu kurdular.

**Aşağıdaki ressamalardan hangisi bu grubun içerisinde yer almaz?**

- A) Nurullah Berk
- B) Şeker Ahmet Paşa
- C) Cemal Tollu
- D) Elif Naci
- E) Abidin Dino

27. II. Dünya Savaşı Türkiye'de;

- I. korumacı ekonominin uygulanması,
- II. sıkı fiyat kontrollerinin yapılması,
- III. karaborsacılığın artması

**durumlarından hangilerinin ortaya çıkması ve yayılmasını hızlandırmıştır?**

- A) Yalnız I
- B) Yalnız II
- C) Yalnız III
- D) I ve II
- E) I, II ve III

28. Türkiye'nin matematik konumundan kaynaklanan özellikleriyle ilgili aşağıda verilenlerden hangisi doğrudur?

- A) 21 Haziran'dan sonra gündüzler uzamaya başlar.
- B) Kış mevsiminde kuzeyde gece süreleri daha kısadır.
- C) 21 Mart'ta en kısa gölge boyları ölçülür.
- D) Güneyinde güneşin doğuş süresi daha kısadır.
- E) Yaz mevsiminde II numaralı saat dilimi ulusal saat olarak kullanılır.

29. Türkiye arazisi, engebeli ve farklı yükselti basamaklarına sahip alanlardan oluşan bir görünüme sahiptir.

**Buna göre, aşağıdakilerden hangisi Türkiye'nin arazi yapısından kaynaklanan sonuçlar arasında gösterilemez?**

- A) Akarsuların hidroelektrik potansiyelinin yüksek olması
- B) Kısa mesafelerde büyük iklim farklılıklarının görülmesi
- C) Mevsimlerin belirgin olarak yaşanması
- D) Kara yollarının yapım maliyetinin fazla olması
- E) Aynı enlem üzerinde farklı sıcaklık değerlerinin ölçülmesi

kısayol yayıncılık

30. Yıllık yağış miktarı Antalya'da 1030 mm iken, İzmir'de 700 mm'dir.

**Akdeniz iklim sahasında yer alan bu iki merkezin yağış miktarının farklı olmasında;**

- I. dağların uzanış yönü,
- II. dağların denize göre konumu,
- III. doğal bitki örtüsü

**özelliklerinden hangileri etkili olmuştur?**

- A) Yalnız I
- B) Yalnız II
- C) I ve II
- D) I ve III
- E) II ve III



31. Gelişmişlik düzeyi yetersiz olan yörelerde insanlar kırsal kesimdeki konutların yapımında doğal çevrede bulunan malzemelerden yararlanırlar.

**Buna göre, Batı Karadeniz, Orta Kızılırmak ve Antalya bölümlerinin kırsal alanlarında konut yapımında yaygın olarak kullanılan yapı malzemeleri aşağıdakilerin hangisinde doğru olarak sıralanmıştır?**

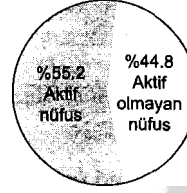
- A) Taş, ahşap, kerpiç
- B) Ahşap, kerpiç, taş
- C) Kerpiç, taş, ahşap
- D) Ahşap, taş, kerpiç
- E) Taş, kerpiç, ahşap

32. Türkiye'de 1950 yılında %30 civarında olan kentleşme oranı, yaşanan iç göç hareketleri sonucu günümüzde %81'ler seviyesine çıkmıştır.

**Türkiye'de hızlı kentleşme sürecinde ortaya çıkan sonuçlar arasında aşağıdakilerden hangisi yoktur?**

- A) Yanlış arazi kullanımı sonucu çevre sorunlarının artması
- B) Kentlerde hizmet kalitesinin azalması
- C) Sanayi kuruluşlarının şehir merkezlerinin içinde kalması
- D) Gecekondu mahallelerinin ortaya çıkması
- E) Doğurganlık oranının ülke genelinde yükselmesi

33. 15-64 yaş grubunda olanlara çalışma çağındaki nüfus denir. Çalışma çağında olup çalışanlara aktif nüfus, çalışmayanlara ise aktif olmayan nüfus denir.



Yandaki grafikte 2000 yılında Türkiye'de 15-64 yaş grubunda aktif ve aktif olmayan nüfus verilmiştir.

**Yalnızca grafikten yararlanarak aşağıdakilerden hangisine ulaşılabilir?**

- A) Aktif nüfus oranı son dönemde azalmıştır.
- B) Aktif olmayan nüfusta ev hanımlarının payı fazladır.
- C) Çalışma çağındaki nüfusun yarısından fazlası çalışmaktadır.
- D) Eğitim süresinin uzaması aktif olmayan nüfusu artırmıştır.
- E) İşsizlik oranı %50'nin üzerindedir.

kısayol yayıncılık

34. Türkiye'de tarımsal faaliyetlerdeki gelişmelere bağlı olarak aşağıdakilerden hangisinde artma olduğu söylenemez?

- A) Gübre kullanımı
- B) Sulanabilen alanlar
- C) Birim alandan elde edilen verim
- D) Tarımda işçi göçleri
- E) Nitelikli tohum kullanımı

35.

I	Zeytin	Ege Bölgesi
II	Pamuk	Akdeniz Bölgesi
III	Mısır	Karadeniz Bölgesi
IV	Pirinç	Marmara Bölgesi

Yukarıdaki tabloda bazı tarım ürünlerinin Türkiye'de en çok yetiştirildiği bölgeler gösterilmiştir.

Tablodaki eşleştirmelerden hangileri **yanlıştır**?

- A) I ve II                      B) I ve IV                      C) II ve III  
 D) II ve IV                      E) III ve IV

36. Aşağıdakilerden hangisi, Marmara Bölgesi'nin tarımsal etkinlikleriyle ilgili doğru bir bilgidir?

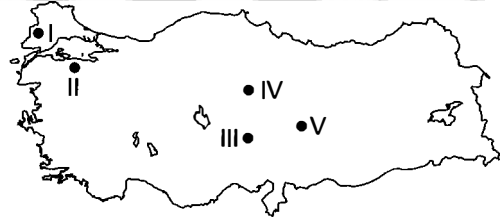
- A) İklimi uygun olduğu için şeker pancarı üretiminde ilk sıradadır.  
 B) Üretimi fazla olduğu için pirincin büyük bölümü yurt dışına satılır.  
 C) Sulama olanaklarının artmasıyla fındık üretimi yaygınlaşmıştır.  
 D) Yer şekillerinin engebeli olması makine kullanımını sınırlandırmıştır.  
 E) Tüketici nüfusu fazla olduğu için mevcut üretim ihtiyacını karşılayamaz.

37. Türkiye'de balıkçılık istenilen düzeyde gelişmemiştir.

**Balıkçılığın yeterince gelişmemesinde aşağıdakilerden hangisinin etkili olduğu söylenemez?**

- A) Yanlış avlanma yöntemleri  
 B) Soğuk hava depolarının yetersizliği  
 C) Bazı dönemlerde avlanma yasağı uygulanması  
 D) Deniz kirliliğinin fazlalığı  
 E) Kıyı balıkçılığının yapılması

38.



Türkiye haritasında numaralarla gösterilen alanların hangilerindeki akarsular hidroelektrik enerjisi üretmeye yeterince uygun **değildir**?

- A) I ve II                      B) I ve V                      C) II ve III  
 D) II ve IV                      E) IV ve V

39. Turizm faaliyetleri doğal ve kültürel olmak üzere iki şekilde gruplandırılır.

**Aşağıda verilen kent ve turizm değerleri eşleştirmelerinden hangisi farklı bir turizm faaliyet grubu içinde yer alır?**

- A) İstanbul - Ayasofya  
 B) Selçuk - Meryem Ana  
 C) Nevşehir - Hacı Bektaş  
 D) Denizli - Pamukkale  
 E) Konya - Mevlana

40. Türkiye’de endüstri kuruluşları büyük oranda ham madde kaynaklarının yakınında ya da ham madde ulaşılabilir alanlarda kurulmuştur.

**Buna göre, aşağıdakilerden hangisinde verilen yerdeki endüstri kolu diğerlerinden farklı bir etmene bağlı olarak gelişmiştir?**

- A) İskenderun’da demir - çelik
- B) Kütahya’da seramik
- C) Kırıkkale’de petrokimya
- D) İstanbul ve çevresinde konfeksiyon
- E) Bursa’da otomotiv

42. Türkiye’nin son 5 yılda dış ticaretindeki toplam ihracat ve ithalat miktarlarını yıllara göre gösteren bir grafikten yararlanarak;

- I. en çok ithal edilen ürün,
- II. son 5 yılda dış ticaretteki değişim,
- III. en çok ihracat yapılan ülke,
- IV. hangi yıllarda dış ticaret açığı verildiği

**bilgilerinden hangilerine ulaşılabilir?**

- A) Yalnız I
- B) Yalnız II
- C) II ve III
- D) II ve IV
- E) III ve IV

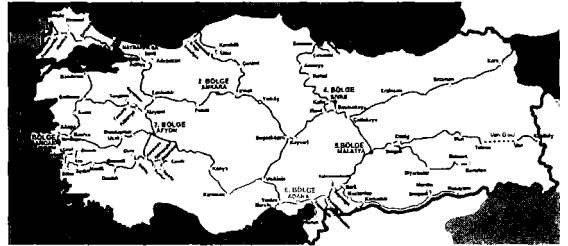
kısayol yayıncılık

41. İstanbul ve İzmir limanları Türkiye’nin en gelişmiş limanları olmakla birlikte İstanbul ithalat, İzmir ise ihracat limanı özelliği taşımaktadır.

**İstanbul Limanının, ithalat limanı özelliği göstermesi aşağıdakilerden hangisiyle açıklanabilir?**

- A) Limanın boşaltma kapasitesinin fazla olması
- B) İstanbul Limanının demir yolu bağlantısının gelişmesi
- C) Tüketim ve dağıtım merkezi konumunda bulunması
- D) İstanbul çevresinde yer şekillerinin daha sade olması
- E) İstanbul Limanında hizmet kalitesinin yüksek olması

43. Aşağıdaki haritada Türkiye’deki demir yolları gösterilmiştir.



**Haritadan yararlanarak aşağıdaki yargılardan hangisine ulaşamaz?**

- A) Ege kıyılarında demir yolları genelde dağların uzanışına paralel göstermektedir.
- B) Bazı limanların demir yolu bağlantısı bulunmaktadır.
- C) İç Anadolu Bölgesi’nin tüm bölümlerinin demir yolu bağlantısı vardır.
- D) Doğu Anadolu Bölgesi’nde iki ayrı demir yolu güzergâhı bulunmaktadır.
- E) Dağların kıyıya paralel uzandığı alanlarda demir yolu ağları daha sıktır.

44. Aşağıdakilerden hangisi Konya Bölümü ile Orta Fırat Bölümü'nün ortak özelliklerinden biri değildir?

- A) En fazla yağışlı kış mevsiminde almaları
- B) Nüfusun su kaynaklarına yakın alanlarda toplanması
- C) Yaz mevsiminde belirgin kuraklık yaşanması
- D) Bitki örtülerinin cılız bozkırlardan oluşması
- E) Tahıl ekim alanlarının yaygın olması

45. Doğu Anadolu Bölgesi'yle ilgili aşağıdaki yargılardan hangisi yanlıştır?

- A) Yıllık sıcaklık farkları diğer bölgelere göre daha fazladır.
- B) Yaz sıcaklıklarının düşük olması sebze üretimini sınırlandırmıştır.
- C) Krom, bakır ve boksit çıkarımında ilk sırada yer alır.
- D) Ulaşımın ve sermaye birikiminin yetersizliği endüstrinin gelişmesini engellemiştir.
- E) Yer şekillerinin engebeli olması gerçek alanı ile iz düşüm alanı arasındaki farkı artırmıştır.

46. Aşağıdakilerden hangisi Mevzu Hukuk'a örnek olamaz?

- A) Tüzükler
- B) Gelenekler
- C) Yönetmelikler
- D) Kanunlar
- E) Kanun Hükmünde Kararnameler

47. 1982 Anayasası'na göre aşağıdakilerden hangisi demokratik devlet ilkesini pekiştiren unsurlardan biri değildir?

- A) Milli egemenlik
- B) Seçimler
- C) Siyasi partiler
- D) Halk oylaması
- E) Vergi adaleti

48. 1961 Anayasası için aşağıdakilerden hangisi söylenemez?

- A) 1924 Anayasası'ndaki "Türkiye Devleti Cumhuriyettir." maddesi değiştirilemez madde olarak kalmıştır.
- B) Parlamenter sisteme ilk kez geçilmiştir.
- C) Cumhurbaşkanlığı Kararnamesi ilk kez anayasada düzenlenmiştir.
- D) Anayasanın ilk kez başlangıç bölümü vardır.
- E) Çift meclisli bir parlamento öngörülmüştür.

49. 1982 Anayasası'na göre, aşağıdakilerden hangisi oy kullanabilir?

- A) Cezaevinde bulunan tutuklular
- B) Akıl hastaları
- C) Askerî öğrenciler
- D) Cezaevinde bulunan, kasti suçlardan 1 yıldan fazla ceza almış hükümlüler
- E) Silah altında bulunan er ve erbaşlar

50. 1982 Anayasası'na göre Türkiye Büyük Millet Meclisi'nin aşağıdaki kurumlardan hangisine üye seçme yetkisi yoktur?

- A) Kamu Denetçiliği Kurumu
- B) Anayasa Mahkemesi
- C) Radyo Televizyon Üst Kurulu
- D) Sayıştay
- E) Hakimler ve Savcılar Yüksek Kurulu

51. Aşağıdakilerden hangisinde hukuk normlar hiyerarşisi doğru verilmiştir?

- A) Kanun, anayasa, tüzük, yönetmelik
- B) Anayasa, kanun, tüzük, yönetmelik
- C) Anayasa, kanun, yönetmelik, tüzük
- D) Anayasa, kanun, genelge, tüzük
- E) Anayasa, yönetmelik, kanun, tüzük

52. I. Serbest kuruluş  
II. Tescil sistemi  
III. İnfisah

Yukarıda verilenlerden hangileri bir tüzel kişiliğin oluşmasında gerekli yöntemler arasında yer alır?

- A) Yalnız I
- B) Yalnız II
- C) Yalnız III
- D) I ve II
- E) I, II ve III

53. Aşağıda verilenlerden hangisi Anayasa Mahkemesiyle ilgili doğru bir özellik değildir?

- A) Üyelerinin görev süresi 12 yıldır.
- B) Üyelerinin 14'ü cumhurbaşkanı tarafından seçilir.
- C) Kendi üyeleri içinden Uyuşmazlık Mahkemesi Başkanı'nı seçer.
- D) Başkanının görev süresi bittiğinde tekrar seçilebilir.
- E) 22 asıl, 12 yedek üyeden oluşur.

54. Mahallî idarelerin seçimleri ne kadar sürede bir yenilenir?

- A) 15 ay
- B) 2 yıl
- C) 5 yıl
- D) 4 yıl
- E) 3 yıl

55. "Türkçülüğün Esasları" adlı eserinde Turancılığı "uzak ideal / mefküre" ilan edip, Türkiye Devleti'nin kuruluşunu esas alan yeni bir milliyetçilik tanımı getiren yazar aşağıdakilerden hangisidir?

- A) Mehmet Emin Yurdakul
- B) Yusuf Akçura
- C) Ahmet Ağaoğlu
- D) Hüseyin Nihat Atsız
- E) Ziya Gökalp



56. "Asrın Projesi" olarak nitelendirilen ülkemizden KKTC'ye denizden askılı boru sistemiyle su taşınması projesi için aktarılacak olan su Türkiye tarafında hangi barajda depolanacaktır?

- A) Deriner Barajı
- B) Adatepe Barajı
- C) Aslantaş Barajı
- D) Alaköprü Barajı
- E) Geçitköy Barajı

59. G-20 dünyanın en büyük ekonomilerine sahip on dokuz ülke ve bir uluslararası kuruluşun oluşmuştur.

Bahsi geçen uluslararası kuruluş aşağıdakilerden hangisidir?

- A) OECD
- B) BM
- C) IBRD
- D) AB
- E) AGİT

57. Türkiye'nin ilk "tropikal kelebek bahçesi" hangi ilimizde açılmıştır?

- A) Isparta
- B) Konya
- C) Nevşehir
- D) Mersin
- E) Antalya

kısayol yayıncılık

58. Birleşmiş Milletler (BM) Genel Kurulu'nda alınan kararla, ilk defa düzenlenecek olan "2016 Dünya İnsani Yardım Zirvesi" nerede yapılacaktır?

- A) Tokyo
- B) Brüksel
- C) İstanbul
- D) Ukrayna
- E) Malta

60. 2015 Cumhurbaşkanlığı Kültür ve Sanat Büyük Ödülleri kapsamında verilen sinema dalındaki ödülle aşağıdaki sanatçılardan hangisi layık görülmüştür?

- A) Zeki Alasya
- B) Kemal Sunal
- C) Kadir İnanır
- D) Münir Özkul
- E) Erol Taş

## GENEL YETENEK

1. Öncüldeki parçada yazarın romanlarındaki kahramanlarla günlük yaşamdaki kahramanların benzer yanlarından bahsedilmiştir. Buna göre A, B, C ve E seçeneklerindeki belirlemeler altı çizili sözlerle anlatılmak istenenlerden herhangi biri olamaz. Yukarıdaki açıklamalar göz önüne alındığında D seçeneğine baktığımızda, parçadaki altı çizili sözlerle anlatılmak istenenin bu seçenekte verildiğini görürüz.

Seçenek	(A)	(B)	(C)	(D)	(E)
Yüzde %	1,17	11,37	34,40	48,69	2,62

2. Öncüldeki cümlede, usta yazar olmanın koşulunun anlatılanlarında kendi hayal dünyasını yine kendi kontrolünde oluşturmaktan geçtiği anlatılmıştır. Bu açıklamaya göre seçeneklere baktığımızda; A, C, D ve E seçeneklerinden herhangi birinin değil, B seçeneğindeki "kendi hayal dünyasını eserlerine başarıyla aktarmasından..." sözlerinin öncüldeki cümleye en yakın anlamlı cümle olduğunu görürüz.

Seçenek	(A)	(B)	(C)	(D)	(E)
Yüzde %	0,29	93,59	5,25	0,29	0

3. I'deki atasözü; bir kimsenin sıkıntısına çare bulacak olan kimse, içinden acı duyarak değil, zevk ve eğlencesinden geri kalmayarak bu işi yapar,

II'deki atasözü; bir konuda çok ileride bulunan kimse, o konunun en ulaşılmazı sayılmaz, mutlaka iyinin de iyisi vardır,

III'teki atasözü; ağırbaşlı kimse ufak tefek olaylar karşısında soğukkanlılığını yitirmez,

IV'teki atasözü; insanlar çeşitli durumlarda istemeseler de birbirlerinden etkilenirler,

V'teki atasözü; herkes kendinden sorumludur, kimse kimsenin işi ile ilgilenmez

anlamlarına gelmektedir. Bu bilgiler ışığında I. ve V. atasözleri anlamca birbirine yakındır.

Seçenek	(A)	(B)	(C)	(D)	(E)
Yüzde %	7	13,99	1,75	10,50	57,43

4. Öncüldeki cümleyi dikkatle okuduğumuzda birçok ülkenin aydınlatma teknikleri üzerine çalışmalar yaptığını ve ciddi miktarlarda giderlerinin olduğunu görürüz. Ayrıca ikinci boşluğun devamındaki "ciddi rakamlara ulaşmasıdır" sözleri de anahtar kelimelerdir. Ciddi rakamlara ulaşmaktan kasıt, yapılan harcamalardır. Onun için cümleyi A, B, D ve E seçeneklerinden herhangi biri değil, C seçeneğindeki sözler tamamlar. D ve E seçeneklerindeki masraf sözcükleri ise etmek yardımcı eylemiyle kullanıldığından cevap olamaz.

Seçenek	(A)	(B)	(C)	(D)	(E)
Yüzde %	0	1,46	86,01	9,04	2,62

5. Verilen sözlerden anlamlı ve kurallı bir cümle oluşturmak için önce yüklemi içinde bulandıran sözler, sonra da diğer sözlerin birbiriyle ve yüklemle olan ilişkisi belirlenmelidir. Buna göre I. öncülün yüklem bulduğu öncül olduğu anlaşılır. Ayrıca tamlama oluşturan IV. ve II. öncüller birbiri ardınca gelmelidir. Bu açıklama doğrultusunda oluşabilecek anlamlı ve kurallı sıralama şöyle olmalıdır: IV – II – III – V – I

Seçenek	(A)	(B)	(C)	(D)	(E)
Yüzde %	0,87	8,45	87,76	0,29	0,87

6. Öncülde verilen cümlede Süleymaniye Camii'nin Türkiye'nin en büyük 3. ve İstanbul'un en büyük camisi olduğundan kesin olarak söz edilmektedir. Verilen diğer bilgilerde bir kesinlik söz konusu değildir. Bu bilgiler ışığında öncüldeki cümleden çıkarılabilecek kesin yargı D seçeneğinde verilmiştir.

Seçenek	(A)	(B)	(C)	(D)	(E)
Yüzde %	1,75	12,54	7,58	76,68	0,58

7. Öncülde verilen cümlede Real Madrid takımının 16 maçtır La Liga'da kaybetmediğinden ve bir maç daha oynadığından bahsedilmiştir. Kaybetmemek demek, futbolda hep kazanmak anlamına gelmez. Berabere kalan takımlar da kaybetmemiş sayılmaktadır. Bu bilgiler ışığında öncüldeki cümleden çıkarılabilecek kesin yargı E seçeneğinde verilmiştir.

Seçenek	(A)	(B)	(C)	(D)	(E)
Yüzde %	17,49	9,33	5,25	17,49	46,65

8. I. cümlede Çatalhöyük'le ilgili bilgi verildiğinden A, II. cümlede bölgenin coğrafi (jeopolitik) konumundan bahsedildiğinden B, IV. cümlede "Dünyanın en eski yerleşimlerinden..." ifadesinde geçen "en" karşılaştırma edatı kullanıldığından D, V. cümlede IV. cümlede verilen nesnel bilgilerle ilgili öznel bir yorum yapıldığından E seçenekleri doğrudur. Ancak C seçeneğinde verilen bilgiler bir olasılık değil, tahmin anlamı içermektedir.

Seçenek	(A)	(B)	(C)	(D)	(E)
Yüzde %	0,29	4,66	9,04	28,86	55,69

9. Parçadaki "yapıt-ın" sözcüğünde ünsüz yumuşamasına aykırılık, "keşif-edilmesinin > keşfedilmesinin" sözünde ünlü düşmesi, "art-ından > ardından" sözcüğünde ünsüz yumuşaması, "nitelik-de > nitelikte" sözcüğünde ünsüz benzeşmesi (sertleşmesi) görülmektedir. Ancak parçada ünsüz türemesine uğramış bir sözcük bulunmamaktadır.

Seçenek	A	B	C	D	E
Yüzde %	51,02	18,08	1,75	9,04	3,50

10. Parçada geçen "yurt içi, yurt dışı, faaliyet, her gün, programları, İngilizcenin, telaffuzunda, sıkıntılar da, pek çok, ön yargı" sözcüklerinin doğru yazımları bu şekilde olmalıdır.

Seçenek	A	B	C	D	E
Yüzde %	25,07	27,11	17,78	7,87	0,58

11. Birinci ayrıca tamamlanmamış bir cümlemin sonunda yer aldığı için üç nokta (...), ikinci ayrıca yargısı tamamlanmış bir cümlemin sonunda yer aldığı için nokta (.), üçüncü ayrıca öznenin kendisine benzeyen diğer unsurlardan ayrılması ve anlam karışıklığını önleyebilmesi için noktalı virgül (;), dördüncü boşluğa eş görevli sözcükleri ayırmak için virgül (,), beşinci boşluğa ise telaş anlamı içeren bir cümlemin sonuna konulması gereken ünlem işareti (!) getirilmelidir.

Seçenek	A	B	C	D	E
Yüzde %	0,58	17,49	46,36	0,87	33,53

12. Öncüldeki parça dikkatle okunduğunda I. – II. – III. ve V. cümlelerde genel olarak Ayşe Kulin'in edebî kişiliğinden bahsedildiği anlaşılmaktadır. IV. cümlede ise Ayşe Kulin'in yaşamından söz edilmiştir. Bu bilgiler ışığında verilen parçada düşüncenin akışını bozan cümle IV. cümledir.

Seçenek	A	B	C	D	E
Yüzde %	0,58	4,66	9,04	83,97	0,87

13. Öncüldeki parçada "... argo sözcükler dilimizi yavaş yavaş esir alıyor." sözleriyle A'ya, "Alt yazılı filmlerde kullanılan argo sözcükler ... esir alıyor." sözleriyle C'ye, "internet üzerinden oynanan online oyunlar gençlerimizi resmî dilimizden uzaklaştırıyor" sözleriyle D'ye, "ilgiliilerin bu konuya en kısa sürede çözüm bulması gerektiğini" sözleriyle E'ye değinilmiştir. Ancak İngilizcenin kötü etkilerinden sadece genç yaştakilerin etkilendiğinden söz edilmemiştir.

Seçenek	A	B	C	D	E
Yüzde %	2,33	52,19	1,75	5,25	36,15

14. Öncüldeki parçada "... farklı durumları anlatmak için kullanıldığını görmekteyiz." sözleriyle A'ya, "... uzun deneyim ve gözlemler sonucu oluşan..." sözleriyle C'ye, atasözlerinin tanımı yapıldığından D'ye, "... tüm Türk dil fabrikası işçilerine teşekkür etmek istiyorum." sözleriyle E'ye değinilmiştir. Ancak başkası tarafından söylenen sözlerin hiç değiştirilmeden aktarıldığı doğrudan anlatım cümlelerine başvurulmamıştır.

Seçenek	A	B	C	D	E
Yüzde %	18,37	28,28	6,71	39,07	5,54

15. Öncüldeki parçada "korkmaya başlamıştım." sözleriyle B'ye, "sesler hızla uzaklaşıyordu." sözleriyle C'ye, olaylar oluş sırasına göre verildiğinden D'ye, "bahçe kapısının gıcirtısını..." ve "camdan aşağı bakmaya çekiniyordum." sözleriyle E'ye ulaşılabilir. Ancak parçada betimleyici unsurlar kullanılmamış, öyküleyici anlatım tercih edilmiştir.

Seçenek	A	B	C	D	E
Yüzde %	20,99	0,58	67,06	2,92	6,12

16. Bir isim tamlamasının, sıfat-fiil eklerinden birini almış ve sıfat görevindeki bir sözcükle nitelenmesi ile oluşan tamlama grubuna sıfat-fiil grubu denir. Verilen cümleler dikkatle incelendiğinde A seçeneğinde "dağ yamaçları" isim tamlaması "kaplanmış" sıfat-fiiliyle, B seçeneğinde "trafik kazaları" isim tamlaması "beklenmedik" sıfat-fiiliyle, C seçeneğinde "köy havası" isim tamlaması "kokan" sıfat-fiiliyle, D seçeneğinde "ekmek parası" isim tamlaması "yetecek" sıfat-fiiliyle nitelenerek sıfat-fiil grubu oluşturmuştur. Ancak E seçeneğinde "mis kokulu bahçemiz" tamlaması bir sıfat tamlamasıdır. Bu nedenle bu cümlede sıfat-fiil grubu bulunmamaktadır.

Seçenek	A	B	C	D	E
Yüzde %	3,50	9,91	4,37	22,74	35,28

17. I. cümlede "uyanır uyanmaz" sözcükleri bağ-fiil eki aldığından A, III. cümle "ama" bağlacıyla bağlandığından C, IV. cümlede geçen "sıkı sıkı" söz grubu (ikileme) önüne geldiği fiilimsiyi nitelendiği için D, V. cümlede ise "kann görüntüsü" belirtilen isim tamlamasının arasına "bembeyaz" nitelene sıfatı girdiğinden E seçenekleri doğrudur. Ancak II. cümle "ve" bağlacıyla bağlanmış bağılı bir cümledir.

Seçenek	A	B	C	D	E
Yüzde %	4,37	23,32	27,41	16,62	0,58

18. "hiçbir" sözcüğü bir ismi niteleyen sözcük olduğundan sıfat, "şey" sözcüğü bir kavram adı olarak kullanıldığından isim, "kapkaranlık" sözcüğü bir ismi niteleyen sözcük olduğundan sıfat, "gibi" sözcüğü ise cümleye benzerlik anlamı kattığından ve tek başına anlamı olmadığından edattır.

Seçenek	A	B	C	D	E
Yüzde %	60,35	27,70	2,33	5,54	0

19. Bir cümlede virgülün kullanılmaması anlam belirsizliğine yol açabilir. Verilen cümlede bir şeyler anlatmaya çalışan kişinin kim olduğu net olarak anlaşılammaktadır. Bu karışıklığı önlemek için "Ali" sözcüğünden sonra virgül kullanılmalı ve bir şeyler anlatmaya çalışan kişinin (özne) Ali olduğu belirtilmelidir. Bu nedenle cümlede anlam belirsizliğinden kaynaklanan bir anlatım bozukluğu vardır.

Seçenek	A	B	C	D	E
Yüzde %	79,01	2,92	0,87	0,29	4,37

20. Öncüldeki parçada "Kar taneleri düşüyordu şehrin üzerine" sözleriyle A'ya, parçanın genelinde bir devinim (hareketlilik) söz konusu olduğundan B'ye, "yoksul bir kent, yırtılmış pantolon" gibi sözlerde geçen niteleyici sözcüklerle D'ye, "dost olmak ... her bir kar tanesiyle..." sözleriyle E'ye ulaşılabilir. Ancak bir ögenin açıklayıcı olan veya cümlede bir görev teşkil etmeyen ara sözlerle yer verilmemiştir.

Seçenek	A	B	C	D	E
Yüzde %	4,37	7,87	63,56	4,66	13,99

21. Öncüldeki parça anlam bütünlüğü dikkate alınarak okunduğunda bir öykü yazarının, yazılarını nasıl oluşturduğundan, yazma amacının ne olduğundan ve kendini sözcük ressamı olarak gördüğünden bahsedildiği anlaşılmaktadır. Bu bilgileri aydınlatacak en doğru ve kapsamlı soru ise E seçeneğinde verilmiştir.

Seçenek	A	B	C	D	E
Yüzde %	0,29	53,06	0,29	0,58	44,31

22. Verilen parça anlam bütünlüğü gözetilerek dikkatle okunduğunda ve soru cümlesinde yerleştirilmesi istenen cümle incelendiğinde, soru kökünde verilen cümlelerin III numaralı yere yerleştirilmesi uygundur. "...birileri girsin diye." şeklinde bitirilen cümleyi destekleyen yargı "Girsin de anlasın..." şeklinde başlayan cümledir. Ancak soru kökünde geçen "hangisinden sonra" ifadesi nedeniyle doğru cevap II. cümleden sonra olmalıdır.

Seçenek	A	B	C	D	E
Yüzde %	2,33	74,93	21,57	0,29	0

23. Bir yargının açıklamasıyla birlikte verildiği veya bir yargının açıklamasının başka bir cümleyle verildiği durumlar gerçekçe bildiren yargılardır. Bu tür yargılarda önce sonuç, sonra neden verilir. Gereksiz yargılar her zaman "çünkü" açıklama bağlacıyla birbirine bağlanmaya uygundur. Bu bilgiler ışığında öncüldeki parça incelendiğinde II. cümlelerin açıklaması III. cümlede yapılmıştır. Bu iki cümle arasında "çünkü" açıklama bağlacı getirilirse anlam bütünlüğü korunmuş olur.

Seçenek	A	B	C	D	E
Yüzde %	16,91	46,94	16,03	6,71	8,75

24. Verilen parça anlam bütünlüğü gözetilerek dikkatle okunduğunda I, II, IV ve V. cümlelerde Kapadokya Bölgesi'nin tarihi gelişiminden ve sosyolojik özelliklerinden bahsedildiği anlaşılmaktadır. Ancak III numaralı cümlede Kapadokya adının Pers dilindeki karşılığı verilmiştir. Bu nedenle III numaralı cümle düşüncenin akışını bozmaktadır.

Seçenek	A	B	C	D	E
Yüzde %	0,58	4,96	88,63	0,87	2,92

25. Neden-sonuç cümlelerinde gerçekleşmiş bir olay ve bu olaya bağlı olarak ortaya çıkan bir sonuç, birlikte verilir. Yargının gerçekleşmesinin bir nedene bağlı olduğu anlatım türüdür. Verilen parça anlam bütünlüğü gözetilerek dikkatle okunduğunda V. cümlede geçen "ülkeler arasında ticari ve sosyal köprü kuran Kapadokya" ifadesi neden, "İpek Yolu'nun da önemli kavşaklarından biridir." ifadesi bu nedene bağlı olarak ortaya çıkan sonuçtur.

Seçenek	A	B	C	D	E
Yüzde %	0	14,58	0,58	65,31	17,49

26. I. cümlede geçen "Telekinezi, maddeler üzerinde düşünce gücüyle etki yapma olarak tanımlanır." cümlesinde bilgi verme amacıyla bir tanım yapıldığından B, III. ve IV. cümlede geçen yargılar birbirleriyle bağlantılı olduğundan C, II. cümlede geçen "Telekinezinin gerçekliğine dair hiçbir bilimsel kanıt yoktur." sözlerinden D, I. ve V. cümlelerde telekinezi kavramının farklı tanımlarına yer verildiğinden E şıklarına ulaşılabilir. Ancak parçanın bütününde karşılaştırmadan yararlanılmamıştır.

Seçenek	<b>A</b>	B	C	D	E
Yüzde %	58,02	0,58	1,46	12,24	21,87

27. III. cümlede verilen "...eleştirilen telekinezi deneyleri, bazı kollarında yanılsamalara neden olmuştur." yargısının ortaya çıkış nedeni IV. cümledeki "Bu yanılsamalar deneyi yürütenlerin telekineziye duyduğu inançla doğrudan orantılıdır." sözleriyle açıklanmıştır.

Seçenek	A	B	<b>C</b>	D	E
Yüzde %	1,46	30,61	34,69	11,95	14,87

28. 29. soruları aşağıdaki analize göre cevaplayınız.

Ayça	Berk	Cenk	Derya	Emine	Hale
Ayakkabı	Pantolon	Pantolon	Ayakkabı	Ayakkabı	Ayakkabı
Çanta	Çanta	Çanta	Çanta	Kaban	-

Verilen bilgilere göre kişilerin ne aldığı görülmektedir.

28. Tablo incelenirse Derya olduğu görülür.

Seçenek	A	B	C	<b>D</b>	E
Yüzde %	1,17	0	10,5	72,59	2,04

29. Tabloya göre Berk'tir.

Seçenek	<b>A</b>	B	C	D	E
Yüzde %	83,67	0,87	0,58	1,17	1,75

30. Verilen bilgilere göre, pantolon alan kişiler aynı zamanda çanta da almıştır.

Seçenek	<b>A</b>	B	C	D	E
Yüzde %	41,11	21,87	5,83	0,58	14,58

31. İfade düzenlenirse

$$\begin{aligned} \left(\frac{1}{2} + \frac{1}{3}\right) - \left(\frac{1}{2} - \frac{1}{3}\right) &= \frac{1}{2} + \frac{1}{3} - \frac{1}{2} + \frac{1}{3} \\ \left(\frac{3}{4} - \frac{1}{3}\right) - \left(\frac{2}{3} + \frac{1}{4}\right) &= \frac{3}{4} - \frac{1}{3} - \frac{2}{3} - \frac{1}{4} \\ &= \frac{2}{3} \cdot (-1) \\ &= -\frac{2}{3} \text{ bulunur.} \end{aligned}$$

Seçenek	A	B	C	<b>D</b>	E
Yüzde %	0,58	2,04	1,46	83,38	1,17

32. Verilen ifade düzenlenirse,

$$\begin{aligned} (2^3 - 3^2)^3 : \frac{1}{(-2^4)} &= (8 - 9)^3 \cdot (-16) \\ &= (-1)^3 \cdot (-16) \\ &= 16 \text{ bulunur.} \end{aligned}$$

Seçenek	A	B	C	D	<b>E</b>
Yüzde %	0,58	0	2,04	0	81,92

33.  $x^2 < x$  olduğuna göre,  $0 < x < 1$  olmalıdır.

O hâlde x pozitifdir.

$x \cdot z < 0$  ise,  $z < 0$  olmalıdır.

$x \cdot y < x \cdot z$  ise,  $x > 0$  olduğundan  $y < z < 0$  olmalıdır.

O hâlde,  $y < z < x$  doğru sıralamadır.

Seçenek	<b>A</b>	B	C	D	E
Yüzde %	53,64	2,33	11,37	6,12	1,46

34. Verilen ifade düzenlenirse,

$$\begin{aligned} \sqrt{\frac{4!+5!}{6!}} &= \sqrt{\frac{24+120}{720}} \\ &= \sqrt{\frac{144}{720}} \\ &= \frac{12}{\sqrt{5}} \\ &= \frac{1}{\sqrt{5}} \text{ bulunur.} \end{aligned}$$

Seçenek	A	B	C	<b>D</b>	E
Yüzde %	0,58	1,46	1,46	69,39	0,58



35.  $\frac{x}{3} = \frac{y}{5} = \frac{z}{6} = k$  denirse,

$x = 3k, y = 5k$  ve  $z = 6k$  olur.

O hâlde,  $3x - y = 24$

$3.3k - 5k = 24$

$4k = 24$

$k = 6$  bulunur.

Bu durumda,  $z = 6k = 6.6 = 36$  olur.

Seçenek	(A)	(B)	(C)	(D)	(E)
Yüzde %	0,87	1,75	2,92	4,08	63,85

36. Verilen ifadelerle göre,

OBE (x,12) = {12, 6, 3, 2, 1}

kümesinin elemanlarından biri olmak zorundadır.

OKEK(3,x) = {3, 6, 9, 12, 15, ...}

kümesinin elemanlarından biri olmak zorundadır. O hâlde x bu kümelerin ortak elemanı olan 3, 6, 12 değerlerini alabilir. Bu değerlerin toplamı ise 21 olacaktır.

Seçenek	(A)	(B)	(C)	(D)	(E)
Yüzde %	2,92	12,24	2,04	0,29	3,79

37.  $x < 0 < y < z$  olmak üzere

$x - y < 0, y - z < 0$  ve  $z - x > 0$  olmalıdır. O hâlde,

$|x - y| - |y - z| - |z - x|$

$= -(x - y) + (y - z) - (z - x)$

$= -x + y + y - z - z + x$

$= 2y - 2z$  bulunur.

Seçenek	(A)	(B)	(C)	(D)	(E)
Yüzde %	1,75	0,87	0,87	63,27	2,62

38.  $\frac{a}{b} = 5$  ise  $a = 5b$  dir.

O hâlde a kesinlikle 5'in katı bir sayıdır.

Seçenek	(A)	(B)	(C)	(D)	(E)
Yüzde %	0,29	2,33	0,58	70,55	0,29

39. Verilen ifade düzenlenirse,

$$\begin{aligned} \frac{3^{x+2}}{6.3^x - 3^{x+1}} &= \frac{3^x.3^2}{6.3^x - 3^x.3} \\ &= \frac{3^x.9}{3^x.(6-3)} \\ &= \frac{9}{3} \\ &= 3 \text{ bulunur.} \end{aligned}$$

Seçenek	(A)	(B)	(C)	(D)	(E)
Yüzde %	69,97	0,87	0,58	1,17	0,29

40. Verilen çarpımı düzenlersek

$$\begin{aligned} 25^3.24^2 &= (5^2)^3.(3.8)^2 \\ &= 5^6.3^2.8^2 \\ &= 5^6.2^6.3^2 \\ &= 9.10^6 \\ &= 9000000 \text{ olur.} \end{aligned}$$

O hâlde verilen sayı 7 basamaklıdır.

Seçenek	(A)	(B)	(C)	(D)	(E)
Yüzde %	2,04	3,50	52,77	8,16	2,04

41. Verilen şıklar incelenirse

$15 = 3.5$  ise  $3 + 5 = 8$  asal değil,

$18 = 2.3^2$  ise  $2 + 3 = 5$  asal,

$21 = 3.7$  ise  $3 + 7 = 10$  asal değil,

$30 = 2.3.5$  ise  $2 + 3 + 5 = 10$  asal değil,

$42 = 2.3.7$  ise  $2 + 3 + 7 = 12$  asal değildir.

Seçenek	(A)	(B)	(C)	(D)	(E)
Yüzde %	1,17	51,02	2,62	9,04	6,41

42.  $40 = 2^3.5$  ise  $2 + 3 = 5$  asal,

$68 = 2^2.17$  ise  $2 + 17 = 19$  asal,

$80 = 2^4.5$  ise  $2 + 5 = 7$  asal,

$114 = 2.3.19$  ise  $2 + 3 + 19 = 24$  asal değil,

$116 = 2^2.29$  ise  $2 + 29 = 31$  asaldır.

Seçenek	(A)	(B)	(C)	(D)	(E)
Yüzde %	2,62	4,96	3,79	39,94	7,29

kısayol yayıncılık

43. I. İki basamaklı en küçük toplamasal 10'dur.

$$(10 = 2.5 \text{ ve } 2 + 5 = 7 \text{ dir.})$$

- II. İki basamaklı en büyük toplamasal sayı 97'dir.

- III. Üç basamaklı en küçük toplamasal sayı 100'dür.

$$(100 = 2^2.5^2 \text{ ise } 2 + 5 = 7 \text{ dir.})$$

Seçenek	A	B	C	D	E
Yüzde %	39,36	2,92	7	12,83	1,46

44. Verilen eşitliklerde B'lerin katsayıları eşitlenirse;

$$\frac{A}{B} = \frac{1}{6} = \frac{2}{12} \quad \frac{B}{C} = \frac{4}{7} = \frac{12}{21}$$

O hâlde; A = 2k, B = 12k ve C = 21k olmalıdır.

$$2k + 12k + 21k = 7000$$

$$35k = 7000$$

$$k = 200 \text{ gr'dır.}$$

$$B \text{ kuru yemişi ise } 12k = 12.200$$

$$= 2400 \text{ gr'dır.}$$

Seçenek	A	B	C	D	E
Yüzde %	0,29	1,75	0,87	49,56	0,58

45. 3, 4 ve 5'lik paket sayısına sırasıyla x, y ve z denirse toplam paket sayısı,

$$3x + 4y + 5z = 78 \text{ olur.}$$

En az paket sayısı için z en büyük değeri almalıdır.

$$x = 3 \text{ ve } y = 1 \text{ seçilirse}$$

$$3.3 + 4.1 + 5.z = 78$$

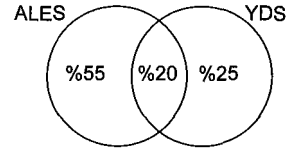
$$5.z = 65$$

$$z = 13 \text{ olur.}$$

O hâlde toplam  $3 + 1 + 13 = 17$  paket vardır.

Seçenek	A	B	C	D	E
Yüzde %	41,4	9,04	2,62	1,75	0,87

46. Verilen ifadeler kümeler ile gösterilirse,



YDS'ye girenler %45 ise, girmeyenler yani sadece ALES'e girenler;  $\%(100 - 45) = \%55$ 'tir.

Seçenek	A	B	C	D	E
Yüzde %	2,33	3,21	1,17	35,57	4,08

47. Seçilen sayıların üç tanesi  $14 + 15 + 16 = 45$  olursa küçük sayı en az 5 olmalıdır.

O hâlde sayılardan biri 4 olamaz.

Seçenek	A	B	C	D	E
Yüzde %	55,39	0,58	1,17	2,33	0,29

48. Seçilen sayılardan biri 14 ise geriye kalan sayıların toplamı,  $50 - 14 = 36$  olur. O hâlde sayılar 11, 12, 13 seçilebilir. Yani en küçük sayı en fazla 11 olabilir.

Seçenek	A	B	C	D	E
Yüzde %	0,87	0,87	2,04	62,1	2,62

49. Yanşmacının x tane yanlış varsa  $30 - x$  tane doğrusu vardır. O hâlde aldığı toplam puan için;

$$10.(30 - x) - 5.x = 150$$

$$300 - 10x - 5x = 150$$

$$15x = 150$$

$$x = 10 \text{ bulunur.}$$

Seçenek	A	B	C	D	E
Yüzde %	2,04	0,58	1,17	60,35	4,96

50. Bu ipe dizilen boncuklar,

$$5 + 4 + 3 + 3 + 6 = 21$$

tanelik bir tekrarlar ile dizilmektedir.

O hâlde;

$$\begin{array}{r} 325 \quad 21 \\ - 21 \quad 15 \\ \hline 115 \\ - 105 \\ \hline 10 \end{array}$$

10 boncuk fazlalık kalır. Bu 10 boncuğun ilk 5'i beyaz, sonraki 4'ü yeşil, kalan boncuk ise mavidir.

Seçenek	(A)	(B)	(C)	(D)	(E)
Yüzde %	4,08	1,46	44,61	4,66	3,50

51.

1	2	3	4
5	8	7	8
9	10	11	12

Yukarıdaki düzeneğe göre 1 numaralı kartla aynı resme sahip kart 11 veya 12 numaralı karttır. 6 numaralı kart da aynı sütunda olduğu için 10 numaralı kartın eşi olamaz. O hâlde 11 veya 12 numaralı kartın eşidir.

Seçenek	(A)	(B)	(C)	(D)	(E)
Yüzde %	0,29	1,17	0,29	54,23	0,58

52. 3 numaralı kart kendisi ile aynı satır ve sütunda bulunan 1, 2, 4, 7, 11 ile eş olamaz. Eşi bir asal numaralı kart ise sadece 5 numara olabilir.

Seçenek	(A)	(B)	(C)	(D)	(E)
Yüzde %	0,29	48,69	2,92	1,46	0,29

53. 9 numaralı kart kendisi ile aynı satır ve sütunda bulunan 1, 5, 10, 11, 12 ile eş olamaz. 5 numaralı kart 3 numaralı kart ile eş olduğuna göre, şıklardan sadece 2 numaralı kart 9 numaralı kartın eşi olabilir.

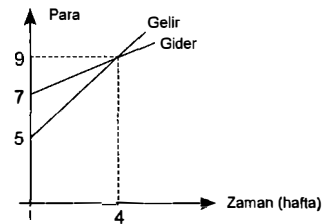
Seçenek	(A)	(B)	(C)	(D)	(E)
Yüzde %	4,08	41,69	4,66	0,87	0,87

54. Verilen bilgilere göre, 12 numaralı kartın eşi 1 veya 6, 9 numaralı kartın eşi 8 numara, 5 numaralı kartın eşi 3 numaradır. 4 numaralı kart ise 2 numara ile aynı satırdadır. 2 numaralı kartın eşi 7 olur.

Seçenek	(A)	(B)	(C)	(D)	(E)
Yüzde %	3,50	2,04	32,94	2,33	1,75

kısayol yayıncılık

55.



Şirket 4 haftada  $9 - 5 = 4$  bin TL gelir sağlarken,  $9 - 7 = 2$  bin TL gider yapmıştır.

O hâlde kârı 4 haftada 2 bin TL'dir. Gelir ve giderin eşitlendiği 4 haftadan sonra şirket,

$$\frac{8}{2} \cdot 4 + 4 = 20. \text{ haftada 8 bin TL kâr yapar.}$$

Seçenek	(A)	(B)	(C)	(D)	(E)
Yüzde %	8,75	0,29	25,36	0,29	2,62

56. Gider 4 haftada 2 bin TL ve başlangıç gideri 7 bin TL'dir.

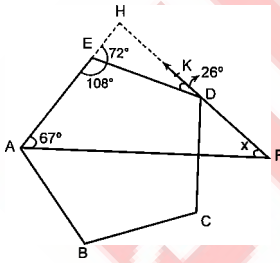
O hâlde  $\left(\frac{19-7}{2}\right) \cdot 4 = 24$ . haftada gider 19 bin TL olur.

Seçenek	(A)	(B)	(C)	(D)	(E)
Yüzde %	0,58	4,08	1,46	4,96	19,24

57. Saat yönünde 90° lik döndürme olmaz.

Seçenek	(A)	(B)	(C)	(D)	(E)
Yüzde %	2,92	36,73	1,75	1,17	3,50

58.



AHF üçgeni birleştirilirse,  $m(\widehat{HED}) = 72^\circ$  olacaktır. HED üçgeninde

$$m(\widehat{EHD}) + 72 + 26 = 180$$

$$m(\widehat{EHD}) = 82^\circ \text{ bulunur.}$$

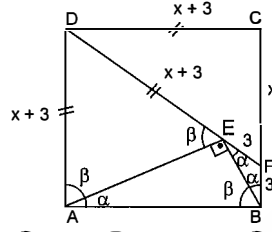
AHF üçgeninde ise

$$67 + 82 + x = 180$$

$$x = 31^\circ \text{ bulunur.}$$

Seçenek	(A)	(B)	(C)	(D)	(E)
Yüzde %	30,61	1,75	0,58	1,46	1,46

59.



$$m(\widehat{DAB}) = m(\widehat{DEA}) = \beta \text{ ve } m(\widehat{EAB}) = \alpha$$

seçilirse  $\alpha + \beta = 90^\circ$  olur.

O hâlde  $m(\widehat{EBA}) = \beta$  ve

$$m(\widehat{EBF}) = m(\widehat{FEB}) = \alpha \text{ olacaktır.}$$

Bu durumda  $|EF| = |FB| = 3$  br olur.  $|CF| = x$  kabul edilirse DCF dik üçgeninde

$$(x + 6)^2 = x^2 + (x + 3)^2$$

$$x^2 + 12x + 36 = x^2 + x^2 + 6x + 9$$

$$x^2 - 6x - 27 = 0$$

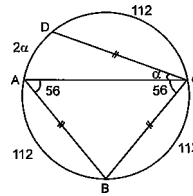
$$(x - 9)(x + 3) = 0$$

$$x = 9 \text{ ve } x = -3 \text{ bulunur.}$$

O hâlde,  $|DF| = x + 6 = 9 + 6 = 15$  br olur.

Seçenek	(A)	(B)	(C)	(D)	(E)
Yüzde %	2,92	2,62	16,91	0,29	0,29

60.



ABC ikizkenar üçgeninde

$$m(\widehat{BAC}) = m(\widehat{BCA}) = 56^\circ \text{ ise}$$

$$m(\widehat{AB}) = m(\widehat{BC}) = m(\widehat{DC}) = 112^\circ \text{ olur.}$$

O hâlde  $112 \cdot 3 + 2\alpha = 360^\circ$

$$2\alpha = 24$$

$$\alpha = 12^\circ \text{ bulunur.}$$

Seçenek	(A)	(B)	(C)	(D)	(E)
Yüzde %	0	0,58	39,65	2,92	1,46

## GENEL KÜLTÜR

1. I. Alaaddin Keykubat, Anadolu Selçuklu Devleti sultanlarından-  
dır. Kurucu bir kişiliği değil, yükseltici bir kişiliği vardır. Anadolu  
Selçukluları onun döneminde yükselme dönemi yaşamıştır.

Orhan Bey, Osmanlı Devleti'nin ikinci sultanıdır. Kurtuluş Savaşı  
değil, yayılma savaşları yapmıştır.

Fatih Sultan Mehmet, Osmanlı Devleti'nin yükselme devrini baş-  
latmıştır. Yayılma savaşları yapmıştır.

Mustafa Kemal Atatürk, işgal edilen ülkeden yeni bir devlet çı-  
karmıştır. Kurtuluş Savaşı yapmıştır. İsmet Paşa onun silah ar-  
kadaşdır.

Seçenek	(A)	(B)	(C)	(D)	(E)
Yüzde %	10,50	2,92	1,17	75,22	0,58

2. Büyük Selçukluların eğitim-öğretim amaçları şunlardır; ▲

- Nitelikli memur ihtiyacını karşılamak
- Din adamı ihtiyacını karşılamak
- Devlete ve topluma yararlı bireyler yetiştirmek
- Batıniler (Hasan Sabbah)'in devleti yıkıcı faaliyetlerine engel  
olmak
- Oğuzların İslami inançlarını pekiştirmek
- Bilim insanı yetiştirmek

Eğitim dili Arapça olduğu için Türkçenin yaygınlaştırılması, bilim  
ve eğitim dili olması söz konusu değildir.

Seçenek	(A)	(B)	(C)	(D)	(E)
Yüzde %	5,54	4,66	21,87	61,81	0,87

3. Verilen özellik ve eserler Danışmentlilere aittir. Sivas merkezli  
kurulan bir beyliktir.

Artuklular; Mardin, Hasankeyf ve Harput bölgesinde kurulmuştur.

Saltuklular; Erzurum merkezli kurulan bir beyliktir.

Mengücekler; Erzincan merkezli kurulan bir beyliktir.

Çaka (Çakan) Beyliği; İzmir ve çevresinde kurulmuş bir beyliktir.

Seçenek	(A)	(B)	(C)	(D)	(E)
Yüzde %	76,09	4,66	4,96	4,08	0,58

4. Şehzade Mustafa Olayı, Çelebi Mehmet'in kardeşi Mustafa'nın  
Bizans'tan aldığı destek ile tahta geçmek için isyan çıkartması-  
dır. Siyasi niteliklidir. (Saltanat kavgası)

Şeyh Bedrettin İsyanı; Fetret Devri karışıklıklarından yararlan-  
mak isteyen Şeyh Bedrettin'in din anlayışını yaymak ve Os-  
manlı tahtını ele geçirmek amaçlı isyandır. (Dinî - siyasi)

Kalender Çelebi İsyanı; Yükselme Dönemi isyanlarından birisi-  
dir.

Bozoklu Celal İsyanı; Yükselme Dönemi isyanıdır. Ekonomik,  
dinî ve siyasi içeriklidir.

31 Mart Vakası; Meşrutî rejime karşı 1909'da çıkan isyandır. Os-  
manlı tarihinde rejime yönelik ilk isyandır.

Seçenek	(A)	(B)	(C)	(D)	(E)
Yüzde %	2,62	76,09	0,87	5,25	3,21

5. Reaya, bir hükümdarın idaresi altında vergi veren halk için kul-  
lanılan deyimdir. Genellikle yetiştirdiği ve ürettiği mallardan vergi  
ödeyen köylüler için kullanılır.

Vergilerin artırılması, reyanın isyan çıkarmasına neden olmuş-  
tur.

Seçenek	(A)	(B)	(C)	(D)	(E)
Yüzde %	0,87	47,52	10,20	9,04	13,99

6. **Grek Projesi:** Rus prensi Potemkin'in "Doğu Sisteminin Büyük  
Planı" adıyla hazırladığı Osmanlı'yı yıkma projesidir. Buna göre  
Türkler Avrupa'dan atılacak, İstanbul merkezli bir Grek devleti  
kurulacaktır.

**Dakya Projesi:** Avusturya ile Rusya arasında Osmanlı toprakla-  
rını paylaşma projesidir. Buna göre; Eflak-Boğdan ve Beserab-  
ya "Dakya" adı ile bir devlet kurulacaktır.

**Meternik Sistemi:** Fransız İhtilali'nden Avrupa'nın monarşik  
devletlerini koruma amaçlı bir projedir. Bozulan Avrupa dengesi-  
ni sağlamak.

**Restorasyon Dönemi:** 1815 Viyana Kongresi sonrası Avrupalı  
devletlerin yapacağı çalışmalaridir.

**Megola İdea Projesi:** Yunanistan'ın sınırlarını Osmanlı (Türki-  
ye) aleyhinde genişletme projesidir.

Seçenek	(A)	(B)	(C)	(D)	(E)
Yüzde %	20,41	8,75	5,54	0,29	23,91

7. **Derbent Teşkilatı:** Osmanlılarda ticaret yollarının güvenliğini sağlamak için kurulmuştur.

**Hayriye Tüccarları:** II. Mahmut'un Beratlı tüccarların etkisini kırmak için kurduğu teşkilattır. Beklenen sonucu vermemiştir.

**Lonca Teşkilatı:** Osmanlılarda esnaf örgütlenmesidir.

**Duyunu Umumiye Teşkilatı:** 1881'de Osmanlı borçlarını almak için yabancıların kurduğu tahsil komisyonudur.

**Avarız Vakıfları:** Osmanlılarda sosyal yardımlar yapmak için kurulan vakıflardır.

Seçenek	(A)	(B)	(C)	(D)	(E)
Yüzde %	10,79	43,44	22,45	1,75	0,58

8. **Mekkari Taifesi:** Klasik Osmanlı ekonomik anlayışında, tüccarın mallarını ulaştıracağı yere ulaştırmak için kurulan teşkilattır.

**İcazename:** Bir öğrenci ya da çırağın aldığı yeterlilik belgesidir.

**Haşiyeyitecrit:** Fatih Dönemi'nde kurulan Sahnıseman Medreselerinde bir bölüm.

**Beytülmal Emini:** Kamu hakkını koruyan görevliler.

**Kapan Hanı:** Her bir cins malın toptan alınıp satıldığı yerdir.

Seçenek	(A)	(B)	(C)	(D)	(E)
Yüzde %	39,07	1,17	6,71	14,29	7,29

9. Osmanlılarda ilk matbaa 1727'de kurulmuştur. 1853 yılında birçok şehirde matbaa açılmıştır.

İlk Türk dergisi 1850'de yayınlanmıştır. (Vakayıttıbbiye)

II. Mahmut Dönemi'nde (Takvimivakayı 1831) çıkarılmıştır.

Fatma Aliye Hanım, Emine Sermiye Hanım, Şair Nigar Hanım, Fatma Hayrünisa Hanım, Fatma Kevser Hanım ve Gülistan İsmet Hanım basın - yayın çalışmalarını yapmıştır.

Afife Jale, ilk Türk Müslüman kadın oyuncudur.

Seçenek	(A)	(B)	(C)	(D)	(E)
Yüzde %	4,37	3,50	0,87	4,37	23,91

10. **Merkantilizm:** Devlet gücünün ve zenginliğin değerli madenlere dayandığını savunan görüştür.

Amerika Kitası'nın keşfi ile bol miktarda altın ve gümüşün Avrupa'ya taşınması ile XVI. yüzyıl ve XVIII. yüzyıl arasında Avrupa devletleri tarafından izlenen model olmuştur.

Merkantilizmin temel ekonomik felsefesi ithalatı kısıtlayıp ihracatı artırarak güçlü ve zengin devlet olmaktır.

Daha fazla paraya sahip olmak, daha çok değerli madene sahip olmak, iç ve dış ticarete önem vermek, ekonomide korumacı olmayı benimser.

Seçenek	(A)	(B)	(C)	(D)	(E)
Yüzde %	4,66	3,50	4,08	2,92	61,81

11. 1808 Senediittifak Sözleşmesi ile padişah ve ayanlar arasında uyulacak kurallar belirlenmiştir. "Padişah ağır vergiler koymayacaktır. Eşit ve adaletli davranacaktır." maddesiyle padişahın yetkileri kısıtlanmıştır.

**Tanzimat Fermanı (1839):** "Herkes kanun önünde eşittir." maddesiyle ilk kez kanun üstünlüğü getirilmiştir.

**Islahat Fermanı (1856):** Azınlıklara Müslümanlar gibi eşit haklar verilmiştir.

**Kanunvesasi (1876):** Osmanlı Devleti'nin ilk anayasası hükümdedir.

**Mecelle:** Ahmet Cevdet Paşa'nın Meşrutiyet yıllarında hazırladığı medeni kanunlardır.

Seçenek	(A)	(B)	(C)	(D)	(E)
Yüzde %	2,62	2,04	82,51	0,58	3,50

12. – 1911 Trablusgarp Savaşı sonucunda Trablusgarp İtalya'nın eline geçmiştir. (Kuzey Afrika'daki son toprak)

– I. Balkan Savaşı sonrası imzalanan Londra Antlaşması'yla Güney Makedonya Yunanistan'a Orta ve Doğu Makedonya Sırbistan'a bırakılmıştır.

– Babıali Baskını ile İttihat ve Terakki Partisi, hükümeti ele geçirmiştir.

– I. Dünya Savaşı'nın başlaması ile Kafkas Cephesi açılmış, bağımsızlık peşinde koşan Ermeniler Ruslara yardım etmiştir. Bölgede güvenliği sağlamak isteyen Osmanlı Hükümeti 1915 yılında "Tehcir = Göç" yasasını çıkartmıştır.

– Musul 1926 Ankara Antlaşması'yla İngilizlere bırakılmıştır.

Seçenek	(A)	(B)	(C)	(D)	(E)
Yüzde %	0,87	7,58	7,58	13,41	49,85



13. Almanya ve Osmanlı Devleti, Çarlık Rusyası'nın karşısında yer almıştır (İttifak Grubu). Japonya ise Çarlık Rusyası'nın yanındaydı (İtilaf Grubu). Dolayısıyla Japonya yer almamıştır.

Seçenek	(A)	(B)	(C)	(D)	(E)
Yüzde %	4,66	1,46	45,48	4,66	16,62

14. İstibdat Dönemi'nde, Ermenilerin çıkardığı isyanları bastırmak amacıyla Hamidiye Alayları kurulmuştur.

- Osman Hamdi Bey tarafından Sanayi Mektebi Nefise (Güzel Sanatlar Okulu) açılmıştır.
- Ahmet Cevdet Paşa'nın hazırladığı Mecelle bu dönemde uygulamaya konmuştur.
- Osmanlı Devleti, dış borçlarını ödeyememesi üzerine 1881'de Muharrem Karamamesi'ni yayınlamıştır.
- Birden fazla siyasi partinin kurulması Kanunuesası'nda yapılan 1909 değişiklikleri ile gerçekleşmiştir.

Seçenek	(A)	(B)	(C)	(D)	(E)
Yüzde %	2,33	3,79	4,66	4,08	57,73

15. Mondros Mütarekesi'nin 24. maddesindeki "Six Armenian Vilayetes = Altı Ermeni Vilayeti"nden kastedilen yerler Van, Bitlis, Erzurum, Diyarbakır, Harput (Elazığ), Sivas vilayetleridir.

Seçenek	(A)	(B)	(C)	(D)	(E)
Yüzde %	83,09	0,87	1,17	3,79	0,58

16. Erzurum Kongresi'nde öncelikle vatanın kurtulması amaçlandığı için saltanat ve hilafetin ayrılması yer almamıştır.

Millî Meclis (Osmanlı Mebusan Meclisi) seçimle oluştuğu için millî egemenlik anlayışıyla hareket edilmesi istenmiştir.

İstanbul Hükümeti'nin padişahın etkisinden çıkıp meclis etkisine girmesiyle yanlış kararlar alması önlenmeye çalışılmıştır.

Seçenek	(A)	(B)	(C)	(D)	(E)
Yüzde %	31,78	5,54	0,58	51,60	2,92

17. Yeni Türkiye'nin ilk hükümeti

- Şeriye Vekili → Mustafa Fehmi Bey (Bursa)
- Müdafaimilliyeye Vekili → Fevzi Paşa (Kozan)
- Hariciye Vekili → Bekir Sami Bey (Tokat)
- Maliye Vekili → Hakkı Behiç Bey (Denizli)
- Nafia Vekili → İsmail Fazıl Paşa (Yozgat)
- İktisat Vekili → Yusuf Kemal Bey (Kastamonu)
- Adliye Vekili → Celaleddin Arif Bey (Erzurum)
- Dahiliye Vekili → Cami Bey (Aydın)
- Maarif Vekili → Dr. Rıza Nur Bey (Sinop)
- Sıhhat ve İctimai Muavenet Vekili → Dr. Adnan Adıvar (İstanbul)
- Erkanı Harbiye Umumiye Vekili → İsmet Bey (Edirne)

Seçenek	(A)	(B)	(C)	(D)	(E)
Yüzde %	4,37	3,21	3,50	3,79	4,08

18. Mudanya Mütarekesi (3 - 11 Ekim 1922)

- Doğu Trakya 15 gün içinde boşaltılacaktır.
- Boğazlar ve İstanbul TBMM yönetimine bırakılacaktır. Barış Antlaşması imzalanana kadar İtilaf Devletleri İstanbul'da kalacaktır.

Seçenek	(A)	(B)	(C)	(D)	(E)
Yüzde %	3,79	20,41	5,25	6,12	34,99

## 19. Atatürk'ü en çok etkileyen şahsiyetler

- Mehmet Emin Yurdakul (milliyetçi ve halkçı görüşleri)
- Ziya Gökalp (milliyetçi görüşleri)
- Namık Kemal (bağımsızlık ve hürriyetçi fikirleri)
- Tevfik Fikret (devrimci, ulusçu ve hümanist görüşleri, Batıcı anlayışı)
- J. J. Rousseau, Voltaire, Montesquieu'nun (millî egemenlik, hukuk devleti, toplumsal dayanışma ve milliyetçi fikirleri)

Seçenek	(A)	(B)	(C)	(D)	(E)
Yüzde %	19,24	1,46	0,29	19,24	53,06

## 20. Türkçenin yabancı dillerin etkisinden çıkartılması, geliştirilerek bilim ve kültür dili hâline getirilmesi için 12 Temmuz 1932'de Türk Dil kurumu kurulmuştur.

Tarih Kurumu (15 Nisan 1931) ise Türk tarihi, Anadolu tarihi araştırmaları yapmak için kurulmuştur.

Seçenek	(A)	(B)	(C)	(D)	(E)
Yüzde %	7,29	5,25	6,12	74,93	0,29

## 21. Kabotaj Kanunu: Türk karasuları ve limanlarında Türk tüccarların serbestçe ticaret yapma hakkını elde etmesiyle sağlanan gelişmedir.

Soruda verilen gelişmeler cumhuriyetin ilanı ile ortaya çıkan sonuçlardır.

Saltanat 1922'de kaldırılmıştır. Cumhuriyetin yolu açılmıştır. Halifelik 1924'te kaldırılmış, sonraki gelişmedir. Çok partili siyasi hayata 1950 seçimleriyle tam geçilmiştir.

Seçenek	(A)	(B)	(C)	(D)	(E)
Yüzde %	0	86,01	4,96	0,58	2,04

## 22. Lozan Barış Görüşmelerinde,

- "Yabancı Okullar, Millî Eğitim Bakanlığı'na bağlı olarak faaliyet gösterecektir." kararı ile bu sorun Türkiye lehine çözülmüştür.
- "Hatay, Suriye'de kalacak fakat oradaki Türklerin özgürlük hakları korunacaktır." maddesi ile Suriye sınırı Türkiye aleyhine çözülmüştür.
- Musul sorunu bu görüşmede çözümlenememiş, "Daha sonra Türkiye ve İngiltere arasında görüşülecektir." kararı alınmıştır.

Seçenek	(A)	(B)	(C)	(D)	(E)
Yüzde %	4,96	5,25	25,66	21,28	15,16

## 23. - Türkiye 1937'de Akdeniz'de İtalya'ya karşı bir emniyet paktı anlaşması olan Nyon Konferansı'na katılmış ve buradaki anlaşmayı imzalamıştır.

- Locarno Paketi, 1925'te İsviçre'de yapılmıştır. Türkiye bu görüşmelere katılmamıştır.
- 1932'de İspanya'nın teklifi ve Yunanistan'ın daveti ile Türkiye, Milletler Cemiyeti'ne üye olmuştur.
- 1929'da Türkiye Briand-Kellogg Paketi'ne üye olmuştur.
- Sovyet Rusya'nın komşuları ile yaptığı barış birliğidir. Türkiye 1929 yılında bu birliğe üye olmuştur.

Seçenek	(A)	(B)	(C)	(D)	(E)
Yüzde %	10,50	8,45	10,20	6,12	5,54

## 24. Halkçılık: Bir ülke sınırları içerisinde yaşayan, o ülkeyi vatan bilen, mutluluk ve mutsuzluğu o ülkenin kaderine bağlayan insanlara, siyasette gelir paylaşımında, devlet ve ulusun imkânlarını kullanmada eşit davranılmasıdır.

Dil, din, mezhep ve ırk ayrımı gözetilmemesi esastır. Sosyal adalet ve fırsat eşitliği şarttır. Bir toplumda sosyal barış ancak eşitlik ve adaletle sağlanabilir.

Seçenek	(A)	(B)	(C)	(D)	(E)
Yüzde %	0,87	69,68	0,29	0,58	23,32

## 25. - Birinci Beş Yıllık Kalkınma Planı ile devlet planlı ekonomiyi geçmek istemiştir. Devlet yatırımları artmıştır.

- Kabotaj Kanunu ile limanlar devletleştirilmiştir.
- Duyunu Umumiye'nin kaldırılması ile yabancı boyunduruktan kurtulmaya çalışılmıştır. (Ekonomik)
- Rejî İdaresi'nin kaldırılması ile üretim ve dağıtım üzerindeki yabancı tekel kaldırılmıştır.
- Azınlıkların Türk vatandaşlığı kabul edilmesi, halkçılıkla ilgilidir. Ayrımcılığın kaldırılması sağlanmıştır.

Seçenek	(A)	(B)	(C)	(D)	(E)
Yüzde %	0,87	1,46	1,17	5,54	72,89

26. D Grubu'nun sanattaki hareket noktası empresyonist (izlenimci) eğilimlerin dışında kalarak Avrupa sanat akımının doğrultusunda giderek (Kübit) anlayışı benimsemişlerdir. Önemli temsilcileri; Nurullah Berk, Abidin Dino, Elif Naci, Cemal Tollu, Zeki Faik İzer, Zühdü Müridoğlu daha sonra Turgut Zaim, Bedri Rahmi Eyüpoğlu'dur.

Şeker Ahmet Paşa; Osmanlı Dönemi (Abdülaziz) Avrupa'ya gönderilen ilk resim sanatçısıdır.

Seçenek	(A)	(B)	(C)	(D)	(E)
Yüzde %	1,46	37,03	0,29	1,17	3,50

27. Türkiye II. Dünya Savaşı'na filen girmese de en çok etkilenen ülkelerden biri olmuştur. Savaş hemen yanı başında yaşanmıştır.

Bu etkileri azaltmak için 18 Ocak 1940'ta çıkan, 1942'de değişikliğe uğrayan "Milli Korunma Kanunu" ile korumacı ekonomi uygulamıştır. Paranın dışarıya çıkmaması, dışarıdan mal gelmemesi için sıkı fiyat kontrolleri yapmıştır.

Karaborsacılık kontrollere rağmen yaygınlaşmıştır.

Seçenek	(A)	(B)	(C)	(D)	(E)
Yüzde %	1,17	0	3,21	10,20	57,73

28. (A) 21 Haziran'da Türkiye'de en uzun gündüz yaşanır. Bu tarihten sonra gündüzler kısalıp, geceler uzamaya başlar.

(B) Türkiye Kuzey Yarım Küre'de yer aldığı için kış mevsiminde kuzeye doğru gidildikçe geceler uzar.

(C) Güneş ışınlarının en büyük açıyla geldiği 21 Haziran'da gölge boyu en kısadır.

(E) Türkiye'de yaz mevsiminde III. saat dilimi (45° Doğu Meridyeni - Iğdır) ulusal saat olarak kullanılır.

Dolayısıyla A, B, C ve E seçenekleri yanlıştır.

(D) Kuzey Yarım Küre'de yer alan Türkiye'nin güneyi Ekvator'a daha yakın olduğu için çizgisel hız (Dünya'nın eksenindeki dönüş hızı) daha fazladır. Dolayısıyla güneşin doğuş ve batış süresi daha kısadır.

Seçenek	(A)	(B)	(C)	(D)	(E)
Yüzde %	7	8,16	10,79	33,53	31,78

29. Türkiye'de eğimin ve ortalama yükseltinin fazla olması hidroelektrik potansiyelini artırır.

Kısa mesafede belirgin yükselti değişiminin olması sıcaklık ve iklim farklılıklarına neden olur.

Engebe durumunun fazla olması yol yapım maliyetlerini artırır.

Ancak mevsimlerin belirgin olarak yaşanması Türkiye'nin Orta Kuşak'ta bulunmasıyla (enlem) ilgilidir.

Seçenek	(A)	(B)	(C)	(D)	(E)
Yüzde %	0,87	1,17	91,25	1,17	3,50

30. Akdeniz ve Ege Bölgesi'ndeki dağlar genel olarak doğu-batı doğrultusunda uzanır. Ancak dağların denize uzanışı farklılık gösterir. Ege'de kıyıya dik, Akdeniz'de ise kıyıya paraleldir. Bu durum nem yüklü havanın Ege Bölgesi'nde iç kesimlere kadar sokulmasına neden olur ve dolayısıyla İzmir'de yağış miktarını düşürür. Ama Akdeniz'de kıydan içeri giremeyen nemli hava yağışını olduğu gibi Antalya'ya bırakır.

Doğal bitki örtüsü yağışın nedeni değil, sonucudur.

Seçenek	(A)	(B)	(C)	(D)	(E)
Yüzde %	6,41	24,20	62,39	1,17	2,62

31. Batı Karadeniz'de; bitki örtüsünün yoğun olmasına bağlı olarak **ahşap**; ağaçtan yoksun, bozkırın hâkim olduğu Orta Kızılırmak'ta **kerpiç**; kalkerin yoğun olduğu Antalya Bölümü'nde ise **taş** konut yapımında yoğun olarak kullanılır.

Seçenek	(A)	(B)	(C)	(D)	(E)
Yüzde %	0,58	67,64	2,04	22,45	2,04

32. Göç hareketleri sonucu ortaya çıkan hızlı kentleşme A, B, C ve D seçeneklerinde verilen olumsuzluklara neden olmuştur. Ancak kent yaşamının zorlukları doğum oranlarının bilakis düşmesine neden olmuştur (çalışma koşulları, stres vs.)

Seçenek	(A)	(B)	(C)	(D)	(E)
Yüzde %	1,46	3,50	1,17	0,29	90,96

- 33.



Grafikte yalnızca 2000 yılına ait aktif olan nüfus (%55,2) ve aktif olmayan nüfus (%44,8) oranları verilmiştir. Dolayısıyla; günümüzdeki değişimiyle ilgili kıyaslama yapmak (A), özelliklerini tespit etmek (B ve C) mümkün değildir. Verilen oranlara göre de işsizlik %50'nin altındadır (E).

Çalışma çağındaki nüfusun yarıdan fazlası iş sahibidir.

Seçenek	(A)	(B)	(C)	(D)	(E)
Yüzde %	1,46	0,58	90,96	1,46	1,75

34. Ülkemizde tarımın gelişip, birim alandan alınan verimin artırılması için gübre kullanımı, sulama, makine kullanımı, kaliteli tohum kullanımı, zirai mücadele ve ilaçlama gibi birçok konuda çalışma yapılmaktadır.

Ancak makine kullanımının artması işçiye olan ihtiyacı azaltmakta, dolayısıyla mevsimlik işçi göçünün de azalmasına neden olmaktadır.

Seçenek	(A)	(B)	(C)	(D)	(E)
Yüzde %	4,96	8,45	6,41	68,80	7

I	Zeytin	Ege Bölgesi
II	Pamuk	Akdeniz Bölgesi
III	Mısır	Karadeniz Bölgesi
IV	Pirinç	Marmara Bölgesi

- I. Zeytin → Ege Bölgesi  
 II. Pamuk → Güneydoğu Anadolu Bölgesi  
 III. Mısır → Akdeniz Bölgesi  
 IV. Pirinç → Marmara Bölgesi

Seçenek	(A)	(B)	(C)	(D)	(E)
Yüzde %	6,41	3,50	54,52	19,53	12,24

36. Şeker pancarında İç Anadolu Bölgesi birinci sıradadır.

Pirinçte ülkemizdeki üretim, tüketimi karşılamadığı için ithal edilir.

Fındıkta yıllık yağış miktarının fazla olması ve kış ılıklığı gerekir.

Türkiye'de yer şekillerinin en sade olduğu bölgedir. Makineli tarım çok gelişmiştir. Dolayısıyla A, B, C ve D seçenekleri yanlıştır.

Marmara Bölgesi'nde nüfusun çok olmasına bağlı olarak üretim tüketimi karşılayamaz ve diğer bölgelerden destek alınır.

Seçenek	(A)	(B)	(C)	(D)	(E)
Yüzde %	2,04	6,12	1,75	2,33	83,09

37. A, B, D ve E seçeneklerinde verilenler ülkemizde balıkçılığın yerterince gelişmemesinin temel nedenlerindedir.

Ancak bazı dönemlerde avlanma yasağı uygulanması balık türlerinin üremesi ve yaşamlarının sürdürülebilirliği için mutlaka yapılmalıdır.

Seçenek	(A)	(B)	(C)	(D)	(E)
Yüzde %	0,58	9,33	72,30	4,37	8,16



38.

Yatak eğiminin fazla olduğu yerlerde, akarsuyun akış hızına bağlı olarak, hidroelektrik enerji potansiyeli yüksek olur.

Buna göre, haritada gösterilen III, IV ve V numaralı alanlar hidroelektrik enerjisi üretmek için uygunken, yer şekillerinin sade, yükseltinin çok az olduğu I ve II'de bundan bahsedilemez.

Seçenek	(A)	(B)	(C)	(D)	(E)
Yüzde %	58,89	2,62	20,41	4,37	4,96

39. Ayasofya, Meryem Ana, Hacı Bektaş ve Mevlana inanç turizmi özelliğindedir.

Pamukkale travertenleri ise, suyun içinde eriyik hâlde bulunan kalkerin tabakalar hâlinde çöküp birikmesiyle oluşan doğal bir oluşumdur.

Seçenek	(A)	(B)	(C)	(D)	(E)
Yüzde %	0,87	4,08	3,50	89,21	0,29

40. A, C, D ve E seçeneklerinde verilen sanayi kollarının o merkezlerde gelişmesinde ulaşım etkilidir. Ama Kütahya'da seramik sanayisinin gelişmesi zengin kil yataklarına sahip olmasıyla yani ham maddenin varlığıyla ilgilidir.

Seçenek	(A)	(B)	(C)	(D)	(E)
Yüzde %	13,12	17,2	20,99	21,57	13,12

41. İstanbul'un ithalat limanı özelliği taşıması; hem nüfusun çok fazla olmasına bağlı olarak tüketimin çok olmasıyla hem de ulaşım ve ticaretin gelişmişliğine bağlı olarak dağıtım merkezi konumunda olmasıyla ilgilidir.

Seçenek	(A)	(B)	(C)	(D)	(E)
Yüzde %	3,79	3,79	82,80	0,58	1,17

42. Yıllara göre ihracat geliri ve ithalat giderini gösteren bir grafikten ticaret yapılan ülke veya ürün bilgisi tespit edilemez. Sadece ithalat ve ihracatın yıllara göre rakamsal değişimi ve dış ticaret açığı ile ilgili bilgiye ulaşılabılır.

Seçenek	(A)	(B)	(C)	(D)	(E)
Yüzde %	0,87	5,25	2,33	85,71	0,29

43.



Harita incelendiğinde A, B, C ve D seçeneklerine ulaşılır. Ancak dağların kıyıya paralel uzandığı Karadeniz ve Akdeniz Bölgesi'nde demir yolu belli merkezler dışında yoktur.

Seçenek	(A)	(B)	(C)	(D)	(E)
Yüzde %	0,58	3,21	8,75	1,75	78,13

44. Konya ve Orta Fırat bölümlerinde karasallık etkilidir. Dolayısıyla; yağışın azlığına bağlı olarak nüfus su kaynaklarına yakın alanlarda yerleşir. Belirgin bir yaz kuraklığı görülür. Bitki örtüsü zayıf ve tahıl tarımı yaygındır.

Ancak Konya Bölümü en çok yağışı ilkbaharda, Orta Fırat ise daha çok kışın alır.

Seçenek	(A)	(B)	(C)	(D)	(E)
Yüzde %	54,81	12,83	2,92	3,50	12,24

45. A, B, D ve E seçeneklerinde verilen özellikler Doğu Anadolu Bölgesi'ne aittir.

Ancak bölge kromda (Guleman - Elazığ) 1. sıradayken, bakır (Karadeniz'den sonra gelir) ve boksitte ise böyle bir özelliğe sahip değildir.

Seçenek	(A)	(B)	(C)	(D)	(E)
Yüzde %	6,41	13,99	67,35	1,46	2,04

46. Mevzu hukuk, bir ülkede yetkili bir makam tarafından konulmuş, yürürlükteki hukuk kurallarının yalnızca yazılı olanlarına verilen isimdir. Gelenekler ise yazılı olmayan hukuk kurallarıdır. Bu nedenle kanunlar, kanun hükmünde kararname, tüzükler, yönetmelikler mevzu hukuk konusu iken gelenekler mevzu hukuk alanına girmez.

Seçenek	(A)	(B)	(C)	(D)	(E)
Yüzde %	0,87	79,88	1,75	1,46	1,46

47. 1982 Anayasası'na göre demokratik devlet ilkesini;

- millî egemenlik,
- seçimler,
- siyasi partiler,
- halk oylaması,
- desteklerken,
- Vergi adaleti ilkesi demokratik devlet ilkesinin değil sosyal devlet ilkesinin bir sonucudur.

Seçenek	(A)	(B)	(C)	(D)	(E)
Yüzde %	15,74	0,58	7,29	2,62	55,69

48. Cumhurbaşkanlığı Kararnamesi 1961 Anayasası'nın değil 1982 Anayasası'nın getirdiği bir yeniliktir. Bu kararname ile Cumhurbaşkanlığı Genel Sekreterliği ve teşkilatı oluşturulmuş olur.

Seçenek	(A)	(B)	(C)	(D)	(E)
Yüzde %	4,66	10,79	11,66	8,45	13,70

49. 1982 Anayasası'na göre oy kullanamayacak olanlar şunlardır:

- TC vatandaşı olmayanlar
- 18 yaşından küçükler
- Kamu hizmetinden yasaklılar
- Kısıtlılar, akıl hastalığı olanlar
- Askerî öğrenciler
- Silah altında bulunan er ve erbaşlar
- Ceza ve tutukevinde bulunan ve kasti suçlardan 1 yıldan fazla ceza almış hükümlüler oy kullanamaz.

Ancak tutuklular ile ceza ve infaz kurumlarında bulunan taksirli suçlardan hükümlü olanlar oy kullanabilir.

Seçenek	(A)	(B)	(C)	(D)	(E)
Yüzde %	46,36	0,87	10,79	11,95	7,29



50. TBMM'nin yaptığı seçimler şunlardır:

- Sayıştay başkan ve üyelerini seçmek
  - Radyo ve Televizyon Üst Kurulu (RTÜK) üyelerini seçmek
  - TBMM Başkanını seçmek
  - Kamu Başdenetçisini seçmek (2010 değişikliği)
  - Anayasa Mahkemesinin 3 üyesini seçmek (2010 değişikliği)
- TBMM'nin Hâkimler ve Savcılar Yüksek Kurulu (HSYK) üyesi seçme hakkı bulunmamaktadır.

Seçenek	(A)	(B)	(C)	(D)	(E)
Yüzde %	6,12	12,54	10,20	4,66	26,24

51. Hukuk normlar hiyerarşisine göre en üst sırada anayasa, sonra kanunlar, kanun hükmünde kararname, uluslararası antlaşmalar, tüzükler ve yönetmelikler yer alır. Anayasada belirtilmemiş olmasına rağmen yönetmeliklerin altında genelge, tamimler ve sirküler de bulunmaktadır.

Yine kanun + KHK + uluslararası antlaşmalar birbirine eşit/denk normlar olarak kabul edilmektedir.

Seçenek	(A)	(B)	(C)	(D)	(E)
Yüzde %	0,87	65,89	17,20	2,92	0,29

52. Bir tüzel kişiliğin oluşmasında serbest kuruluş ve tescil sistemi yer alırken infisah yer almaz.

Bir tüzel kişiliğin mahkeme kararı ile sona ermesine "fesih", kendiliğinden sona ermesine ise "infisah" denir.

Seçenek	(A)	(B)	(C)	(D)	(E)
Yüzde %	1,17	2,92	1,17	9,33	9,62

53. Anayasa Mahkemesi'nin yapısı 2010 değişikliği ile büyük ölçüde değişmiştir.

- Anayasa Mahkemesi üyelerinin görev süresi 12 yıldır. Bu süreyi dolduranlar tekrar seçilemezler. Ayrıca 65 yaşını dolduranlar görev süresine bakılmaksızın emekli edilirler.
- Anayasa Mahkemesi toplam 17 asil üyeden oluşur. Yedek üyelik yoktur. Üyelerinin 14'ü Cumhurbaşkanı tarafından, 3 üye ise TBMM tarafından seçilir.
- Anayasa Mahkemesi üyeleri kendi içinden birini Uyuşmazlık Mahkemesi başkanı olarak seçerler.
- Anayasa Mahkemesi başkanını üyeleri kendi içinden 4 yıllığına seçer. Görev süresi dolan başkan tekrar seçilebilir.
- 22 asil, 12 yedek üyelik Anayasa Mahkemesinin değil, Hakimler ve Savcılar Yüksek Kurulu (HSYK) için geçerlidir.

Seçenek	(A)	(B)	(C)	(D)	(E)
Yüzde %	5,83	8,75	2,33	18,95	8,16

54. Mahalli idarelerin seçimi yani halk arasındaki tabiri ile belediye seçimleri 5 yılda bir yapılır.

**Uyarı:** Milletvekili seçimleri ise 4 yılda bir yapılır.

Seçenek	(A)	(B)	(C)	(D)	(E)
Yüzde %	0,58	1,46	43,44	25,07	1,46

55. İttihat ve Terakki hareketinin ideoloğu olan Ziya Gökalp, Turancı düşüncenin sözcüsü olmuştur. 1920'den itibaren TBMM hükümeti Turancı akıma karşı tavır almıştır. Ziya Gökalp 1923'te yazdığı "Türkçülüğün Esasları" adlı eserinde Turancılığı uzak ideal ilan etmiş, Türkiye Devleti'nin kuruluşunu esas alan yeni bir milliyetçilik tanımı getirmiştir.

Seçenek	(A)	(B)	(C)	(D)	(E)
Yüzde %	35,57	1,17	15,45	2,04	1,75

56. Bu proje aynı zamanda askılı boru sistemiyle deniz geçilerek su aktarılan dünyadaki tek projedir. Anamur Dragon Çayı üzerinde inşa edilen Alaköprü Barajında depolanacak suyun, KKTC'de inşa edilen Geçitköy Barajına aktarılması planlanıyor.

(Bu soru daha önce hiç denenmemiştir.)

Cevap: E

57. 2015 Temmuz ayında Türkiye'nin ilk tropikal kelebek bahçesi, Konya'nın Selçuklu ilçesinde açıldı. 56 futbol sahası büyüklüğünde bir alanı kaplayan bahçe Konya'nın en büyük parkıdır.

(Bu soru daha önce hiç denenmemiştir.)

Cevap: B

58. 26.09.2013'te BM genel kurulunda alınan kararla 2016'da İstanbul'da yapılması öngörülen Dünya İnsani Yardım Zirvesi'nin, uluslararası insani hukuk, insani müdahale ve yardımlar alanında geleceğin gündeminin belirlenmesi ve bu alanlarda uluslararası hukuk ve uygulamayı güçlendirici norm oluşturmaya hedefleniyor.

(Bu soru daha önce hiç denenmemiştir.)

Cevap: C

59. G-20 üyeleri Arjantin, Avustralya, Brezilya, Kanada, Çin, Fransa, Almanya, Hindistan, Endonezya, İtalya, Japonya, Meksika, Rusya, Suudi Arabistan, Güney Afrika, Güney Kore, Türkiye, İngiltere, ABD ve AB Komisyonu.

(Bu soru daha önce hiç denenmemiştir.)

Cevap: D

60. Cumhurbaşkanlığı Kültür ve Sanat Büyük Ödülleri, hizmet ve eserleri ile Türk kültür ve sanat hayatına önemli katkılarda bulunan, Türkiye'nin kültür ve sanatının yücelmesi için çalışan, Türk vatandaşları veya yabancı uyruklu kişi veya kurumları devlet adına onurlandırmak için verilmektedir. 30.10.2015 tarihinde bu kapsamda verilen sinema dalında ki ödüle Münir Özkul layık görülmüştür.

(Bu soru daha önce hiç denenmemiştir.)

Cevap: D