

Bu testte 60 soru vardır.

1. Türk mutfak kültürü belki de dünyadaki en zengin mutfak kültürü. Orta Asya'dan Anadolu'ya, Anadolu'dan Balkanlara ve Orta Doğu'ya kadar tüm damak tatlarını bir potada eritmeyi başarmış engin bir lezzetler manzumesi...

Bu parçadaki altı çizili sözle anlatılmak istenen aşağıdakilerden hangisidir?

- A) Türklerin farklı bir damak tadının olduğu
B) Orta Asya, Balkanlar ve Orta Doğu'da da aynı lezzetlerin sunulduğu
C) Herkese hitap eden lezzetler olduğu
D) Birbirinden farklı birçok lezzetin birleştiği
E) Türk mutfağının kaliteli lezzetlere sahip olduğu

2. Tam 7 bin 107 adadan oluşan bir ülke Filipinler. Ekvator çizgisinde yer alan bu 105 milyon nüfuslu tropik adalar ülkesi, tam anlamıyla turistik bir cazibe merkezi, oldukça da sıcak bir yer. Yine de bu sıcaktan bunaldığınızda volkanik dağlardaki güzelim köylere kaçarak serin bir nefes alabilir, ormanın ve dağların güzelliğiyle büyülenebilirsiniz.

Bu parçada geçen "serin bir nefes almak" sözüyle anlatılmak istenen aşağıdakilerden hangisidir?

- A) Köylerin çok soğuk olduğu
B) Dinlenmek için iyi bir yer olduğu
C) Bunaltıcı sıcaklardan uzak ve dingin bir yer olduğu
D) Filipinler'in iyi bir turizm merkezi olduğu
E) Tropik adanın genelde serin olduğu

3. **Aşağıdaki cümlelerin hangisinde altı çizili sözcükler deyim değildir?**

- A) Doğrucu Davut, ne vardı beni idare etsen?
B) Dedenin de maşallahı var, dokuz yorgan eskitti.
C) Ağabeyini karşısında görünce çocuğun eli ayağına dolaştı.
D) Ha bugün ha yarın diye diye 3 aydır oyalıyor bizi.
E) Söylediklerinden kafam şişti artık, yeter.

4. (I) Bozcaada tarihi ve mitolojik açıdan çok zengin bir coğrafyada yer alıyor. (II) Uzun yıllar süren Osmanlı hâkimiyeti sonrası, 1923 Lozan Antlaşması ile Türkiye Cumhuriyeti'ne bağlanan adada, son 500 yıldır Rumlar ve Türklerin kaynaşmasıyla oluşan kültür sentezi adayı benzersiz kılıyor. (III) Halkı esnek ve modern. (IV) Bağcılık ve şarapçılık geçmişi yüzyıllar öncesine dayanan aile geleneği. (V) Adada bu geleneği hâlen sürdüren altı üretici var. (VI) Adanın neredeyse yarısı bağlarla kaplı.

Bu parçada, I. cümlede öne sürülen düşüncenin açıklaması, numaralanmış cümlelerin hangisinde belirtilmiştir?

- A) II B) III C) IV D) V E) VI

5. (I) "Savaş" her yönüyle insan ve toplum hayatının en büyük sarsıcı unsurlarından biridir. (II) Osmanlı İmparatorluğu'nun yıkılış sürecinde yaşananları daha iyi anlamak için o dönem edebiyatçılarımızın eserlerini yakından incelememiz gerekir. (III) O dönemde eser veren yazarlarımızın büyük bir çoğunluğunun, eserlerinde "savaş" temasını o günün ihtiyaçlarına uygun olarak daha çok kahramanlığa övgü veya düşmana kin güden duygular mahiyetinde kaleme aldığı görülür. (IV) Bu eserlerde idealize edilen Anadolu halkı, büyük bir kahramanlık ve duyarlılık göstererek düşmanı yurdundan kovmuştur. (V) Ancak "savaş" temasının insan hayatı üzerindeki tesirini romanın bir unsuru olarak anlatan ve bize döneminin gerçekleri içinde savaş gerçeğini de yaşatan yazarlarımız maalesef azdır.

Bu parçadaki numaralanmış cümlelerin hangisinde "amaç-sonuç" söz konusudur?

- A) I B) II C) III D) IV E) V

6. Geçmiş çok eskilere dayanan kutnu sanatının, eskiden evlerde bütün aile bireylerinin katılımıyla icra edildiği ve önemli bir geçim kaynağı olduğu söyleniyor fakat gelişen tekstil sanayi bu sanatın sonu olmuş.

Bu cümleden çıkarılabilecek kesin yargı aşağıdakilerden hangisidir?

- A) Kutnu, tek başına yapılabilecek bir sanat değildir.
 B) Bütün aileler bu sanattan geçimlerini sağlamıştır.
 C) Kutnu sanatı yalnızca evlerde icra edilmiştir.
 D) Kutnu sanatı tekstilin gelişmesine fayda sağlamıştır.
 E) Kutnu sanatı artık kimse tarafından yapılmamaktadır.

7. I. Etek Nehri'nin boyunda
 II. hayatının çoğunu Etek
 III. Mahtumkulu, 1733 yılında
 IV. kurulan Hacıgovşan köyünde doğmuş ve
 V. Gürgen civarlarında geçirmiştir.

Yukarıdaki numaralanmış sözler anlamlı ve kurallı bir cümle oluşturacak biçimde sıralandığında hangisi baştan üçüncü olur?

- A) I B) II C) III D) IV E) V

8. (I) Çocuk kitaplarında, yazarın aktarmak istediği "tema" ve çocuklarda geliştirmeyi amaçladığı davranışlar açık seçik belirtilmelidir. (II) Yazarlar, okurlarıyla bir duygu ve düşünce alışverişinde olurken eserlerinde politik ve ideolojik güdümlülüğe yönelmemelidir. (III) Özellikle demokratik ilkelere bağlanma gereğini; aile, yurt, ulus, doğa ve hayvan sevgisini; iyiye, güzele duyarlılığı, kahramanlığa saygıyı, yaşamayı sevmeyi ve yaşama zevkini işlemelidir. (IV) Kitaplarda, evrensel değerlere yer vermek, çocuğun dünya görüşünü genişletmesi açısından çok önemlidir. (V) Öte yandan bu temaların işlenişinde, çocukların gerçekleri de görmesini, anlamasını sağlamak ve bunun dozunu da çok iyi ayarlamak; yazar, ressam, eğitimci, psikolog ve tasarımcının iş birliği yapmasını gerektirir.

Bu parçada numaralanmış cümleler ile ilgili olarak aşağıda verilenlerden hangisi yanlıştır?

- A) I'ncide açıklama yapılmıştır.
 B) II'ncide karşılaştırma yapılmıştır.
 C) III'üncüde içerikten bahsedilmiştir.
 D) IV'üncüde söyleyenin yorumuna yer verilmiştir.
 E) V'incide koşula bağlılık söz konusudur.

9. Tanpınar, varlıkların renklerini, gerçekte olduğu gibi değil, kendine yansıyan renklerle duyar ve gösterir.

I

İşte bu gösterişte önemli bir başarı vardır. Konuyu,

II

kendi ufuklarından görür, onu ayrı bir güzellik sezgi-

III

siyle değiştirerek alır, iç evreninde dönüştürerek,

IV

yepeyeni bir uyum ve resim olarak ortaya koyar.

V

Bu parçadaki numaralanmış sözcüklerden hangisini niteleyen bir söz kullanılmamıştır?

- A) I B) II C) III D) IV E) V

10. İnsanlar çalışmalarının sonuçlarını görmediklerinde mutsuzluğa kapılıyorlar. Heyecanlı gayretlerimizin ardında biraz da kazanacağımız karşılığın hayali yatar. Kaybetme ihtimalini fazla düşünmek tehlikelidir. Ama maddi kazanımları görmek ve manevi kazanımları hayal etmek bize azim ve heyecan kazandırır.

Bu parçadan, aşağıdakilerin hangisi çıkarılabilir?

- A) Çabaların meyvesini almak çalışma isteğimizi artırır.
B) Her zaman çabalarımızın karşılığını alamayız.
C) Bir işi severek yapmamız önemlidir.
D) Kaybedeceğimizi düşünmek kaybetmemize neden olur.
E) Çalışmamızdaki amaç, maddi kazanım sağlamaktır.

11. **Aşağıdaki cümlelerin hangisinde bir anlatım bozukluğu vardır?**

- A) Kalabalıktan göz gözü görmüyor ama herkes hâ-
linden memnun.
B) Mahallenin serserileri camı duvarı indirmiş dün
gece.
C) Zoru görünce çil yavrusu gibi dağıldılar.
D) Annesinin el emeği, göz nuruyla işlediği oyaları
atıp yakmasın mı?
E) Zavallının bu dünyada senden başka dayanağı
kalmadı ki!

12. (I) Rus tarihi açısından 19. asır; kültür, sanat ve edebiyat hareketlerinin gelişmesine paralel olarak modernleşme ve Batılılaşma idealinin yerini Panslavizm'e bıraktığı bir yüzyıldır. (II) Yayımcı Katkov, şair Aleksey Khamyakov, Danilevski ve Dostoyevski gibi pek çok Rus aydını ve yazarı Panslavizm'in tesiriyle Türk düşmanlığı yaparken sadece Tolstoy, Turgenyev ve Granovsky kendilerini bu cereyana kaptırmazlar. (III) Dostoyevski'nin milliyetçiliğinde ve Türk düşmanlığında ailesinin, beslendiği sosyokültürel ortamın ve devrin siyasî şartlarının büyük etkisi vardır. (IV) Daha önce Çar'a karşı olduğu için Sibirya'ya sürülen ve hayatı boyunca Hristiyanlık teolojisini sorgulayan Dostoyevski'nin, 1870'lerden sonra Çar taraftarı, ateşli bir Panslavist ve Ortodoks inancının müdafii olarak karşımıza çıkması devrin konjonktürel ortamıyla ilgilidir. (V) Dostoyevski'nin Petersburg'taki Askerî Mühendislik Okulu'nda okuması -ki bu okul genellikle milliyetçi Rus aydınları yetiştirmekteydi- ve kuvvetli bir Rus milliyetçisi ve Türk düşmanı olan Puşkin hayranlığı da onun Panslavist yanını besleyen kaynaklardır.

Bu parçada numaralanmış cümlelerin hangisinde "karşılaştırma" vardır?

- A) I B) II C) III D) IV E) V

13. (I) Manyetik pusula icat edildiğinden beri esasta değişmediği için ilginç aletlerden biridir. (II) Tabi ki zaman içerisinde geliştirilmiş, daha dayanıklı ve kesin hâle getirilmiştir; ne var ki temel konsept, yüzlerce yıl önceki gibi duruyor. (III) Pusulanın ilk olarak ne zaman icat edildiğine dair bazı karışıklıklar olsa da antik Çin kaynakları 2. yüzyıla kadar manyetik iğnelerin varlığından bahsetmektedir. (IV) Pusulalar birçok farklı seviye ve tasarıma sahiptir. (V) Yürüyüşler için kullanılacak basit bir pusula 10-15 lira arasında olacaktır ve bu da tipik hobi yürüyüşleri için ihtiyacı karşılar niteliktedir. (VI). Ne var ki pusula fiyatları aletin yapımına ve yapabileceklerine bağlı olarak yüzlerce liraya kadar çıkabilir. (VII) Ayrıca, yürüyüşçüler için tasarlanmış kol saati biçiminde pusulalar da mevcut ve genelde bunların fiyatları 150 lira civarındadır.

Yukarıdaki paragraf iki parçaya ayrılmak istenirse ikinci paragraf numaralandırılmış cümlelerden hangisi ile başlamalıdır?

- A) III B) IV C) V D) VI E) VII

14. (I) Türk edebiyatında Batılı anlamdaki ilk öyküler Tanzimat Dönemi'nde yazıldı. (II) İlk öykü yazarları, Ahmet Mithat, Emin Nihat, Sami Paşazade Sezai ve Nabizade Nazım'dır. (III) Türk öykücülüğünü yetkinliğe kavuşturan yazar ise Halit Ziya Uşaklıgil olmuştur. (IV) Edebiyatıcedide Dönemi'nde öykü türünde yalın diliyle dikkat çeken Uşaklıgil, titiz gözlemciliğiyle gerçekçi öykü geleneğini başlatan yazardır. (V) Bu dönemin diğer yazarları Hüseyin Rahmi Gürpınar, Mehmet Rauf, Hüseyin Cahit Yalçın ve Ahmet Hikmet Müftüoğlu idi. (VI) Meşrutiyet'in ilanıdan sonra gelişen yeni edebiyat akımıyla birlikte öyküde toplumsal ve siyasi sorunlar işlenmeye başlandı. (VII) Türkçede yabancı sözcüklerin temizlenmesi, yazında konuşma dilinin hâkim olması, taşra yaşamının gerçekçi bir üslupla edebiyata taşınması gibi özelliklerle bilinen bu dönemde Ömer Seyfettin, Türk öykücülüğünde yeni bir çıkış açtı.

Bu parça iki paragrafa ayrılmak istenirse ikinci paragraf hangi cümleyle başlar?

- A) II B) III C) IV D) V E) VI

15. Postmodernizmdeki "post" eki "sonra" anlamına gelmekle birlikte modernizmden devam eden, ondan kaynaklanan ve sorunsallaştırılması ve aşılmaya çalışılması anlamlarına gelir.

Bu cümledeki anlatım bozukluğu aşağıdaki değişikliklerin hangisiyle giderilebilir?

- A) "postmodernizmdeki" sözcüğü yerine "postmodernizm akımındaki" sözü getirilerek
B) "ondan" sözcüğü cümleden çıkarılarak
C) "sorunsallaştırılması" sözcüğünden önce "onun" sözcüğü getirilerek
D) "aşılmaya" sözcüğünden önceki "ve" sözcüğü cümleden çıkarılarak
E) "birlikte" sözcüğü yerine "beraber" sözcüğü getirilerek

16. Edebiyat elbette evrenseldir, ama aidiyeti dille sağla-

nan bir evrenseldir bu. Bir edebiyat yapıtı hangi dile yazılmışsa o dilin malıdır. Türkçe, Emre'den beri-

edebiyat dilidir. Türkçeyi yetersiz bulanlar bence kendilerinin Türkçedeki yetersizliklerine kılıf uydurmaya çalışıyorlar. Almanya'da ikinci, üçüncü kuşak-

tan gelen yazarlar epeydir Almanca yazıyorlar. Yazdıkları, hangi edebiyatın ürünü sayılıyor?

Bu parçadaki numaralanmış noktalama işaretlerinden hangisi yanlış kullanılmıştır?

- A) I B) II C) III D) IV E) V

17. Aşağıdaki cümlelerin hangisinde yazım yanlışı vardır?

- A) Yazdıklarımı ne yazık ki Türkçe konusunda zaten duyarlı olanlar okuyor ve okudukça Türkçenin geleceği konusundaki endişeleri daha da artırıyor.
- B) Anadillerini doğru dürüst öğrenmeden İngilizce ile karşılaşan çocuklar, bu dilin Türkçeden üstün olduğuna inandırıldılar.
- C) Eski edebiyatçılarımızın dile gösterdiği özen, artık günümüzde söz konusu değil.
- D) Birtakım çırpıştırmaların roman ya da öykü diye yayımlanması maalesef edebiyatımızda da bir çeşit kirlilik yaratıyor.
- E) Benim Türkçe konusundaki uğraşım, adını "globalizm" diye değiştirmiş olan emperyalizme karşı bir savaşımdır.

18. Aşağıdaki cümlelerden hangisinin yüklemde çatı özellikleri aranmaz?

- A) Babası vefat ettiğinden beri ağzını bıçak açmıyordu.
- B) Bebeğin doğması evdeki herkesi sevindirdi.
- C) Hayattan istediği, mutluluk ve başarıydı.
- D) Her zaman gittiğimiz kütüphane dün kapatılmış.
- E) Elindeki çiçekleri heyecanla genç kıza uzattı.

19. 16. yüzyılda ellerinde sazlarla diyar diyar dolaşan, nerede bir güzel görse ona âşık olan ve şiirler söyleyen şairler, ordularda, kışlalarda, hudut boylarında boy gösteren âşıklar eski halk geleneğini sürdürmüşler ve "Âşık Edebiyatı" denen edebiyatı yaşatmışlardır.

Bu cümledeki altı çizili sözcüklerin türleri aşağıdakilerden hangisinde sırasıyla, doğru olarak verilmiştir?

- A) Sıfat, fiilimsi, sıfat
- B) İsim, edat, sıfat
- C) Zamir, sıfat, sıfat
- D) İsim, fiilimsi, sıfat
- E) Sıfat, isim, sıfat

20. (I) "Günah, dünyada ilk kez Adem ve Havva'nın kötü istençleri ve özgür seçimleri sonucu, Tanrı'nın buyruklarına uymamaları ile ortaya çıktı." diyordu Augustinus. (II) Adem ve Havva'nın Tanrı katından düşmesiyle düştü insanlık. (III) İnsan doğası bu yüzden kalıtsal olarak kötüdür. (IV) Kötülük, adeta genetik şifrelerimizin bir parçası olarak kuşaktan kuşağa geçmektedir. (V) Tanrı insanları cezalandırarak gerçekleri görmelerini istiyor. (VI) Kötülükten kurtulmak için aklımızı ve bütün ruhsal enerjimizi Tanrı'ya yöneltmeliyiz.

Bu parçada düşüncenin akışını bozan cümle aşağıdakilerden hangisidir?

- A) II B) III C) IV D) V E) VI

21. ve 22. soruları aşağıdaki parçaya göre cevaplayınız.

Sedef dediğimiz, aslında hepimizin bildiği deniz yumuşakçalarının kabuklarıdır. Sedefin, bir ustanın eli aracılığıyla süsleme sanatına kattığı değer keşfi çok eski tarihlere dayanıyor. Bu usta, sedef üzerinde, sedef kullanarak ya da sedefi işleyerek çalışır ve kendisine "sedefkâr" denir. Sedefkârlığın Doğu medeniyetlerinde ortaya çıktığı sanılıyor. Eldeki ilk örnekler Sümer mezar taşlarında rastlanması bu iddiayı güçlendiriyor. Bir diğer sebep de zengin sedef kaynaklarının sıcak deniz yumuşakçalarından sağlanması.

21. Bu parçada yazar, aşağıdakilerin hangisine değinmemiştir?

- A) Sedefin ne olduğuna
- B) Sedefkârlığın nerede ortaya çıktığına
- C) Sedefin nereden sağlandığına
- D) Sedefin yalnızca ustalar tarafından yapılabildiğine
- E) Sedefin süsleme sanatına önem kazandırdığına

22. Bu parçanın anlatımında aşağıdakilerin hangisinden yararlanılmıştır?

- A) Betimleme
- B) Tanımlama
- C) Öyküleme
- D) Tartışma
- E) Karşılaştırma

23. ve 24. soruları aşağıdaki parçaya göre cevaplayınız.

(I) Halikarnas Balıkçısı'nın sahip olduğu geniş kültür yanında mitolojiye, tarihe, doğaya özellikle ağaçlara ve denize olan düşkünlüğü eserlerinde açıkça görülmektedir. (II) Bu yönüyle denizi konu edinen yazarlar içinde en özgünü olmuştur. (III) Bazı sanatçılar vardır ki hayatları; eserleri kadar ilginç, yaşadıkları çevreye kattıkları değerler açısından örnek şahsiyetlerdir, işte bunlardan biri de Cevat Şakir. (IV) Bir ağacın sürgünleri nasıl yeşertirse bulunduğu toprağı, sürgün edildiği Bodrum'u öyle güzelleştirmişti Cevat Şakir. (V) Sürgün hayatının kaçınılmaz sonuçları olan hüznün, yalnızlık, özlem duygularını bir kenara bırakarak Bodrum'u sevmiş, orayı güzelleştirmeye adanmıştı kendini.

23. Bu parçadan aşağıdakilerin hangisine ulaşamaz?

- A) Cevat Şakir, eserlerinde farklı konulara yer vermiştir.
- B) Cevat Şakir'in ilginç bir hayatı vardır.
- C) Cevat Şakir, Bodrum'da sürgün hayatı yaşamıştır.
- D) Cevat Şakir, en özgün yazardır.
- E) Cevat Şakir, örnek alınabilecek bir insandır.

24. Bu parçada numaralanmış cümleler ile ilgili olarak aşağıda verilenlerden hangisi yanlıştır?

- A) I. cümlede açıklama yapılmıştır.
- B) II. cümlede karşılaştırmaya yer verilmiştir.
- C) III. cümlede yazarın özelliğinden bahsedilmiştir.
- D) IV. cümlede benzetmeye başvurulmuştur.
- E) V. cümlede nesnellik söz konusudur.

25 – 27. soruları aşağıdaki parçaya göre cevaplayınız.

(I) Türkiye’de 80’li yıllara kadar, çoğunlukla gazetecilik mesleğinden gelen ailelerin hâkim olduğu medya sektörü, değişen teknolojik koşullar ve yönetimden kaynaklanan sorunlar sebebiyle, medya dışında faaliyet gösteren büyük sermaye gruplarının yönetimine geçmeye başlamıştır. (II) 1990 yılında ilk özel TV istasyonunun yayına başlaması ve görsel yayıncılıkta devlet tekelinin kırılması ile birlikte, medya sektörü plansız ve kontrolsüz bir büyüme trendine girmiştir. (III) Bu yapı ile 2000-2001 yıllarında yaşanan bankacılık krizine yakalanan medya sektörü, krizden büyük bir yara almıştır. (IV) Bankası batan bazı medya patronları büyük iflaslar yaşamış bunun sonucunda da, medya sektöründe ciddi bir işsizlik dalgası oluşmuştur. (V) Batık bankalarından dolayı bazı medya şirketlerine Tasarruf Mevduatı ve Sigorta Fonu tarafından el konulmuş ve bu süreçle birlikte medya sahipliğinde yeni bir dönem başlamıştır.

kısayol yayıncılık

26. Bu parçadan aşağıda verilenlerden hangisine ulaşılabılır?

- A) İlk özel TV istasyonunun yayına başlaması gazetecilik mesleğine zarar vermiştir.
- B) Tasarruf Mevduatı ve Sigorta Fonu medyanın gelişimini olumsuz etkilemiştir.
- C) Medya patronları aynı zamanda banka sektöründe faaliyet gösterdiklerinden yaşanan mali krizler dolaylı olarak medya sektörünü de etkilemiştir.
- D) Yaşanan finansal krizlerden medya sektörü güçlenerek çıkmıştır.
- E) Yaşanan mali kriz nedeniyle devlet, medya sektöründen çekilmiştir.

27. Bu parçaya göre, medya sektöründe işsizlik yaşanmasının sebebi aşağıdakilerden hangisidir?

- A) Teknolojinin gelişmesiyle birlikte insan gücü ihtiyacının asgariye inmesi
- B) Büyük sermaye gruplarının medya sektöründen çekilerek bankacılık sektörüne ağırlık vermesi
- C) Devletin medya sektöründen desteğini çekmesi sonucu özel sermaye sahiplerinin gerekli istihdamı sağlayamaması
- D) Yaşanan finansal kriz sonucu bankası batan özel medya sahiplerinin şirketlerine TMSF tarafından el konulması
- E) Gazetecilik mesleğinden gelen ailelerin ilerleyen yıllarda medyaya yeterli ilgiyi göstermemesi

25. Bu parçadaki numaralanmış cümlelerin hangisinde neden-sonuç ilişkisi bulunmamaktadır?

- A) I B) II C) III D) IV E) V

28 – 30. soruları aşağıdaki bilgilere göre cevaplayınız.

Ali, Cansu, Burak, Mustafa, Mehmet, Dilek, Gizem ve Ebru isimli yarışmacılar bir yarışmaya başvurmuştur. Yarışma 3'er kişilik iki takım hâlinde oynanacak, yarışmacılar kura ile belirlenecek ve 2 kişi yarışma dışında kalacaktır. Kura için kullanılacak torbada bulunan 8 toptan 3'ü kırmızı, 3'ü sarı ve 2'si beyazdır. Kırmızı topu seçenler kırmızı takıma, sarı topu seçenler sarı takıma geçecek, beyaz topu seçen yarışmacılar ise elenecektir.

- Takımlardan biri 2 kız, 1 erkek; diğeri 2 erkek 1 kız yarışmacıdan oluşmaktadır.
- Kura sonucunda 1 kız ve 1 erkek yarışmacı beyaz topu seçerek elenmiştir.
- Ali ile Cansu aynı renkli topu seçmişlerdir.
- Gizem beyaz topu çekmemiştir.
- Mehmet ve Mustafa'dan biri kırmızı topu çekmiştir.
- Sarı takımda 2 erkek yarışmacı vardır.
- Mehmet ile Cansu aynı takımda değildir.
- Son topu çeken Ebru'nun sarı ya da kırmızı takımdan birine katılması garantidir.
- Mustafa beyaz topu çekmiştir.

29. Buna göre, aşağıdakilerden hangisi yanlıştır?

- A) Ali sarı takımdadır.
- B) Gizem ile Mehmet aynı takımdadır.
- C) Burak kırmızı takımdadır.
- D) Mehmet ile Ebru aynı takımdadır.
- E) Ebru ile Cansu birbirine rakiptir.

28. Buna göre, aşağıdakilerden hangisi sarı ya da kırmızı takımdan birine girememiştir?

- A) Ali
- B) Burak
- C) Ebru
- D) Dilek
- E) Gizem

30. Yarışmadaki takımların kızlar takımı - erkekler takımı şeklinde ayrılması için aşağıdakilerden hangisi tek başına yapılmalıdır?

- A) Ali ile Ebru takımlarını değiştirmelidir.
- B) Burak ile Gizem takımlarını değiştirmelidir.
- C) Mehmet ile Cansu takımlarını değiştirmelidir.
- D) Ali ile Gizem takımlarını değiştirmelidir.
- E) Ebru ile Burak takımlarını değiştirmelidir.

31. a, b, c birer pozitif tam sayı olmak üzere,

$$2.a.b = 36$$

$$b.c = 30$$

olduğuna göre b'nin alabileceği değerler toplamı kaçtır?

- A) 10 B) 11 C) 12 D) 13 E) 15

32. $\frac{0,01+0,02+0,1}{0,11+0,2+0,08}$

işleminin sonucu kaçtır?

- A) $\frac{1}{2}$ B) $\frac{1}{3}$ C) $\frac{1}{4}$ D) $\frac{1}{5}$ E) $\frac{1}{7}$

33. x, y ve z sıfırdan ve birbirinden farklı rakamlar olmak üzere $7x + 3y - 2z$ işleminin en büyük değeri kaçtır?

- A) 79 B) 81 C) 83 D) 85 E) 87

34. x ve y birer tam sayı olmak üzere,

$$x - \frac{5}{y} = 9$$

şartını sağlayan kaç farklı x tam sayısı vardır?

- A) 1 B) 2 C) 3 D) 4 E) 5

35. Ardışık 9 çift sayının toplamı 162 olduğuna göre, en büyük sayı ile en küçük sayının farkı kaçtır?

- A) 12 B) 14 C) 16 D) 18 E) 20

36. $0! + 1! + 2! + 3! + \dots + 9!$

sayısının 5 ile bölümünden kalan kaçtır?

- A) 0 B) 1 C) 2 D) 3 E) 4

37. A, B, ve C birer pozitif tamsayı,

$$\begin{array}{r|l} A & B \\ \hline & 3 \\ \hline \frac{-}{2} & \end{array} \quad \begin{array}{r|l} B & C \\ \hline & 4 \\ \hline \frac{-}{3} & \end{array}$$

olduğuna göre, A'nın en küçük değeri için $A + B + C$ toplamı kaçtır?

- A) 78 B) 82 C) 86 D) 90 E) 94

38. $\left(\frac{2}{3} + \frac{1}{2}\right) - \left(\frac{1}{3} - \frac{1}{2}\right)$
 $\left(\frac{1}{4} + \frac{1}{3}\right) + \left(\frac{1}{6} - \frac{1}{3}\right)$

işleminin sonucu kaçtır?

- A) $\frac{4}{5}$ B) $\frac{8}{5}$ C) $\frac{12}{5}$ D) $\frac{13}{5}$ E) $\frac{16}{5}$

39. $a < 0 < b$ olduğuna göre aşağıdakilerden hangisi **daima** doğrudur?

- A) $a^3 > a.b$ B) $a.b > b^2$ C) $a^2 > b^2$
 D) $\frac{a}{b} > 0$ E) $a^3 < b^2$

40. $a - 2b = 3$ olduğuna göre,

$$\frac{|2b - a|}{|a - 2b|} + |2a + b| - (2b - a) - 1$$

işleminin sonucu kaçtır?

- A) $3a - b$ B) $a + b$ C) $2a - 1$
 D) $2b - 1$ E) $a + b - 1$

41. $\frac{2^{x+1}.4^{x-1}}{2^{2x+1}.4^{x-2}} = 8$

olduğuna göre, x kaçtır?

- A) -2 B) -1 C) 1 D) 2 E) 3

42. $\frac{\sqrt{0,36} - \sqrt{0,16}}{\sqrt{0,01} + \sqrt{0,09}}$

işleminin sonucu kaçtır?

- A) $\frac{1}{2}$ B) $\frac{1}{3}$ C) $\frac{1}{4}$ D) $\frac{1}{5}$ E) 1

43. $\frac{2x^2 + 7x + 6}{x^2 - 4} \cdot \frac{x + 1}{x^2 - x - 2}$

ifadesinin **en sade hâli** aşağıdakilerden hangisidir?

- A) $2x + 3$ B) $x + 1$ C) $x + 2$
 D) $x - 2$ E) $x - 1$

44. $x - 1$ sayısı $y + 2$ sayısı ile doğru, $z - 1$ sayısı ile ters orantılıdır.

$x = 3$, $y = 2$ iken $z = 9$ olduğuna göre,

$x = 2$, $y = 6$ iken z kaçtır?

- A) 29 B) 31 C) 33 D) 35 E) 37

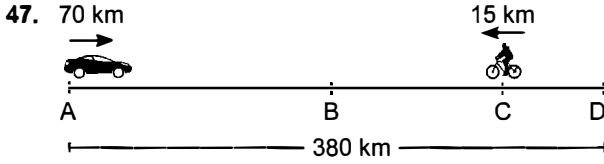
45. Bir okulun merdivenlerini 2'şer ikiler çıkıp 3'er 3'er inen bir öğrenci toplam 40 adım attığına göre bu okulda toplam kaç merdiven vardır?

- A) 36 B) 40 C) 48 D) 54 E) 60

46. Bir baba ile iki çocuğunun yaşları toplamı 38'dir. 6 yıl sonra çocukların yaş oranı $\frac{3}{2}$ olacaktır.

10 yıl sonra baba 40 yaşında olduğuna göre, küçük çocuğun bugünkü yaşı kaçtır?

- A) 2 B) 3 C) 4 D) 5 E) 6



A noktasından hareket eden otomobil 70 km/sa hızla D noktasına doğru ilerlemeye başladığı anda C noktasındaki bisikletli A noktasına doğru 15 km/sa hızla hareketine başlıyor. Otomobil D noktasında ulaştığında hiç durmadan yeniden A noktasına doğru hareket ediyor.

Otomobil, bisikletliyi 8 saat sonra B noktasında yakaladığına göre, |CD| arası kaç km'dir?

- A) 40 B) 50 C) 60 D) 70 E) 80

49. Bir giyim mağazasındaki kıyafetlerin fiyatları aşağıdaki gibidir:

Gömlek	20 TL
Pantolon	40 TL
Etek	25 TL

Mağaza sahibi fiyatları,

- gömlek fiyatlarına %20 zam
- pantolon fiyatlarına %10 indirim
- etek fiyatlarına %10 zam

olacak şekilde değiştiriyor.

Mağazaya gelen bir müşteri 2 etek, 6 pantolon ve 3 gömlek satın alıyor.

Bu durumda bu alışverişin tutarı düzenleme yapılmadan önceki hâline göre nasıl değişir?

- A) 24 TL artar
B) 20 TL artar
C) 12 TL azalır
D) 7 TL azalır
E) 24 TL azalır

50. $f(x) = 2x + 4$, $g(x) = 3x - 1$

$$\frac{f \circ g(x)}{g \circ f(x)} = \frac{2}{5}$$

olduğuna göre, x kaçtır?

- A) $\frac{1}{3}$ B) $\frac{2}{3}$ C) 1 D) $\frac{3}{2}$ E) $\frac{5}{2}$

48. Bir çırak, ustasının yaptığı işi onun 4 katı kadar sürede yapmaktadır. Usta ve çırak bu işi birlikte 4 saatte bitirmektedir.

Buna göre çırak bu işe tek başına pazartesi günü saat 15.00'te başladığına göre işi bitirdiğinde gün ve saat aşağıdakilerden hangisi gibi olur?

- A) Pazartesi 21.00
B) Pazartesi 23.00
C) Salı 03.00
D) Salı 11.00
E) Çarşamba 01.00

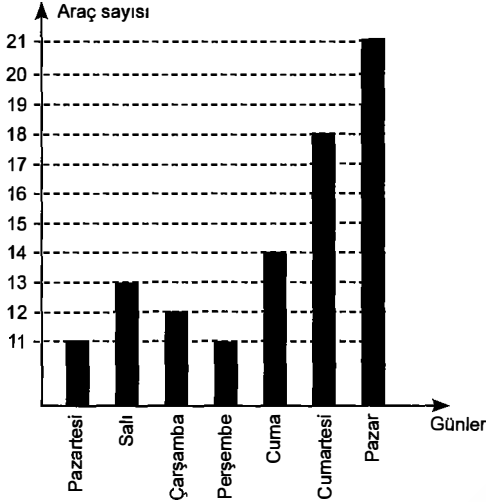
51. Bir sınıfta Matematik ve Fizik derslerinden en az birinden başarılı olan 24 kişi vardır.

Matematikten başarılı olanların, fizikten başarılı olanlara oranı $\frac{4}{3}$, her iki dersten başarılı olanların yalnız fizikten başarı olanlara oranı $\frac{1}{2}$ olduğuna göre, matematikten başarılı olanların sayısı kaçtır?

- A) 12 B) 14 C) 16 D) 18 E) 20

52 - 53. soruları aşağıdaki grafiğe göre cevaplayınız.

Bir oto kiralama firmasının hafta boyunca kiraladığı araç sayısı grafikte gösterilmiştir.



52. Hafta içi kiralanan araç sayısı, tüm kiralanan araç sayısının yüzde kaçtır?

- A) 59 B) 60 C) 61 D) 62 E) 63

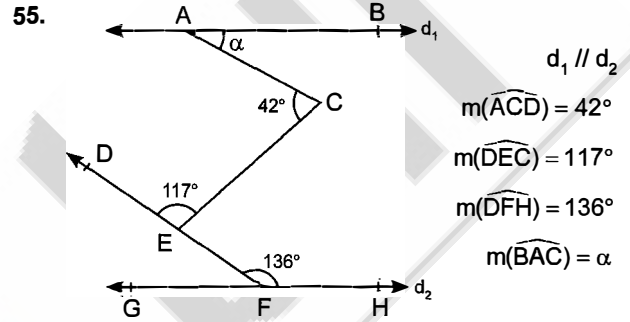
53. Pazar günü kiralanan araç sayısı, çarşamba günü kiralanan araç sayısına göre yüzde kaç artmıştır?

- A) 55 B) 60 C) 65 D) 70 E) 75

54. Sarı ve kırmızı 40 topun bulunduğu bir torbadan rastgele seçilen topun kırmızı olma olasılığı $\frac{3}{8}$ 'dir.

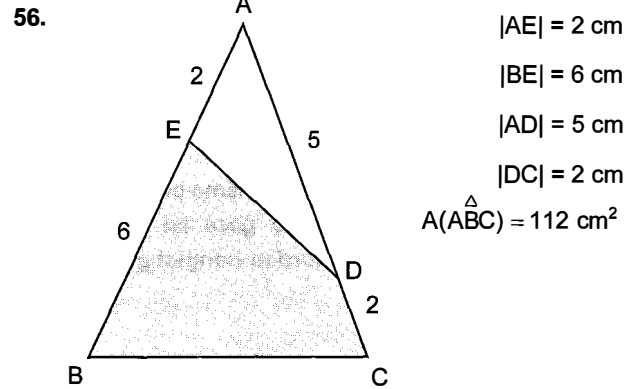
Buna göre, bu torbadan seçilen iki topun da sarı olma olasılığı kaçtır?

- A) $\frac{1}{3}$ B) $\frac{7}{13}$ C) $\frac{9}{13}$ D) $\frac{13}{39}$ E) $\frac{15}{39}$



Şekilde verilenlere göre $m(\widehat{BAC}) = \alpha$ kaç derecedir?

- A) 23 B) 27 C) 30 D) 36 E) 39



Şekilde verilenlere göre BCDE dörtgeninin alanı kaç cm² dir?

- A) 80 B) 86 C) 92 D) 96 E) 100

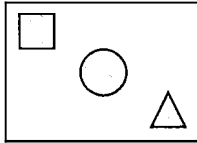
57. (2, 1) noktasının $y = 3$ doğrusuna göre simetriği aşağıdakilerden hangisidir?

- A) (2, 5) B) (-2, 1) C) (-1, 5)
D) (-2, -5) E) (-2, -2)

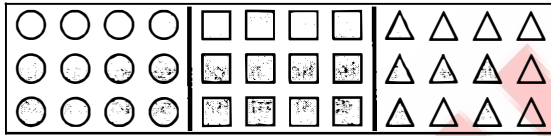
58 - 60. soruları aşağıdaki bilgilere göre cevaplayınız.

Ali, Beren, Cansu, Deniz ve Eylem aşağıdaki gibi bir oyun oynamaktadır.

1. Kademe



2. Kademe



Birinci kademede her yarışmacı panoya bir atış yapacaktır ve vurdukları sembole göre ikinci kademede yarışmaya hak kazanacaklardır. Her yarışmacı birinci kademede vurdukları sembolün olduğu panolara toplam 5 atış yapacaklardır.

İkinci kademede;

- sembolü için 3 puan
□ sembolü için 4 puan
△ sembolü için 5 puan

kazanılmaktadır.

Bütün yarışmacılar birinci kademeyi başarıyla tamamlamış ve sıfır puanla ikinci kademeye başlamışlardır. Birinci kademede yarışmacıların vurdukları semboller aşağıdaki gibidir:

- Ali ○
Beren □
Cansu □
Deniz ○
Eylem △

- Tüm yarışmacılar ikinci kademede toplam 5 atış yapmıştır.
- Ali ikinci kademede toplam 3 isabet sağlamıştır.
- Eylem'in ikinci kademede topladığı puan Ali'nin topladığı puandan daha azdır.
- Cansu yarışmayı en yüksek puanla tamamlamıştır.
- Deniz ile Eylem'in ikinci kademede topladıkları puan, Ali ile Beren'in topladıkları puandan daha fazladır.
- Yarışmayı yalnızca Deniz beşte beş isabetle tamamlamıştır.

58. Verilen bilgilere göre hangi yarışmacının ikinci kademede topladığı puan kesin olarak bilinemez?

- A) Ali B) Beren C) Cansu
D) Deniz E) Eylem

59. Yarışmada en az isabet sağlayan yarışmacının Eylem olduğu bilindiğine göre, aşağıdaki hangi ikilinin toplam puanı en yüksektir?

- A) Ali ile Eylem
B) Ali ile Deniz
C) Cansu ile Eylem
D) Beren ile Deniz
E) Deniz ile Eylem

60. Yarışma sonucunda Ali kaçınıcı olmuştur?

- A) 1. B) 2. C) 3. D) 4. E) 5.

Bu testte 60 soru vardır.

1. Bir sosyal antropoloji uzmanı "Orta Asya Türk kültürünün temeli ilk Türklerin konar-göçer yaşam biçimine göre şekillenmiştir." demektedir.

Buna göre;

- I. at koşum takımları,
- II. kıl çadır,
- III. taştan yapılmış evler

gibi yaşam alan ve malzemelerinden hangilerinin bu tezi desteklediği söylenebilir?

- A) Yalnız I
- B) Yalnız II
- C) Yalnız III
- D) I ve II
- E) I, II ve III

2. **Türk İslam devletlerinde aşağıda verilen divan-görev eşleştirmelerinden hangisi yanlıştır?**

- A) Divanıtuğra – Yazışma işleriyle ilgilenirdi.
- B) Divanıistifa – Maliye işleriyle ilgilenirdi.
- C) Divanıarz – Köylünün ihtiyaçlarıyla ilgilenirdi.
- D) Divanıişraf – Devletin askeri ve hukuki işleri hariç diğer işlerinin denetimini yapardı.
- E) Divanımezalim – Ağır siyasi suçlarla ilgili davalara bakardı.

3. Türkiye Selçuklu Devleti Dönemi'nde Anadolu'da köprüler, hanlar, kervansaraylar, camiler ve yollar yapılmış ve devletin gelirlerinde gözle görülür bir artış meydana gelmiştir.

Türkiye Selçukluları ile ilgili verilen bu durumdan çıkarılabilecek sonuçlar arasında aşağıdakilerden hangisi yer almaz?

- A) Sosyal devlet anlayışının var olduğu
- B) Halifeliğin korunduğu
- C) Ticarete önem verildiği
- D) İslami geleneklere bağlı kalındığı
- E) Mimarinin geliştiği

4. Bir tarihçi "Bu zafer Balkanlarda kesin olarak Türk egemenliğini sağladı. Eflak yeniden Osmanlılara tabi oldu. Haçlılar bir daha Türklere saldırmaya cesaret edemediler. Türkler bu tarihten sonra Balkanlarda taarruza geçtiler." demektedir.

Bu tarihin bahsettiği olay aşağıdakilerden hangisidir?

- A) Edirne - Segedin Antlaşması
- B) İstanbul'un kuşatılması
- C) Varna Savaşı
- D) II. Kosova Savaşı
- E) Kırım'ın fethi

5. **Osmanlı Devleti'nde mücevher, kumaş, ipek ve diğer değerli eşyaların alınıp satıldığı kapalı çarşıya verilen isim aşağıdakilerden hangisidir?**

- A) Beytül Hikme
- B) Bedesten
- C) Karum
- D) Kolozyum
- E) Kurgan

6. **Osmanlı Devleti'nde Arap harfleriyle celi, sülüs, rika gibi birçok üslup kullanılarak yapılan sanat dalı aşağıdaki yerlerden hangisinde icra edilmiştir?**

- A) Meşkhane
- B) Cambazhane
- C) Hattathane
- D) Mehterhane
- E) Şifahane

7. Osmanlı Devleti'nde vilayetten (il) küçük, kazadan (ilçe) büyük yerleşim birimine aşağıdaki isimlerden hangisi verilmiştir?

- A) Beylerbeylik B) Eyalet C) Liva
D) Mezra E) Taşra

8. Osmanlı Devleti Avusturya ile yaptığı 1606 Zivatorok Antlaşması'yla Avusturya arşidükünü Osmanlı padişahına denk saymış ve aldığı yıllık vergiyi kaldırmıştır.

Osmanlı Devleti'nin bu tavizleri vermesinde;

- I. Osmanlı - İran Savaşlarının başlaması,
II. Celali İsyanlarının başlaması,
III. Haçova ve Kanije'de başarılar elde etmesi

gelişmelerinden hangilerinin etkili olduğu savunulabilir?

- A) Yalnız I B) Yalnız II C) Yalnız III
D) I ve II E) I, II ve III

9. Osmanlı Devleti'nde para olarak gümüşten kestirilen "akçe" 17. yüzyıl boyunca kullanılan temel para birimidir. Amerika'nın keşfinden sonra Avrupalıların bol miktarda gümüşü piyasaya sürmesi altın karşısında değerini düşürmüştür.

Bu gelişmeler Osmanlı Devleti'nde aşağıdaki durumlardan hangisinin çıkmasına neden olmuştur?

- A) Akçenin değeri yükselmiştir.
B) Enflasyonun artması sonucu halk fakirleşmiştir.
C) Osmanlı Devleti altın paraya geçmiştir.
D) Üretim artışı yaşanmıştır.
E) Ülkede yabancı para birimi kullanılmaya başlanmıştır.

10. Aşağıdaki gelişmelerden hangisi Lale Devri ıslahatları içerisinde **yer almaz?**

- A) İlk Batılılaşma hareketlerinin başlaması
B) Avrupa'ya ilk kez elçiler gönderilmesi
C) Batı tarzı mimari (barok) usulüyle köşkler ve kasırlar yapılması
D) Resim ve minyatüre önem verilmesi
E) Maliyeyi düzenlemek için denk bütçe çalışmalarının ilk kez uygulanması

11. Mısır Sorunu'nda İngiltere'nin Osmanlı Devleti'ne yardım etme karşılığında;

- I. Kütahya Antlaşması,
II. Balta Limanı Antlaşması,
III. Berlin Antlaşması

gibi antlaşmalardan hangilerini imzalamasıyla Osmanlı tüccarlarının kendi topraklarında İngiliz tüccarları ile rekabet etme şansını ortadan kaldırmıştır?

- A) Yalnız I B) Yalnız II C) Yalnız III
D) I ve II E) II ve III

12. – Osmanlı Devleti bir Avrupa devleti sayılmıştır.
– Rusya'nın Karadeniz ve Balkanlar üzerindeki emelleri bir süre engellenmiştir.
– Osmanlı Devleti'nin toprak bütünlüğü Avrupalı devletlerin güvencesi altına alınmıştır.

Yukarıda bazı özellikleri verilen antlaşma aşağıdakilerden hangisidir?

- A) Hünkar İskelesi Antlaşması
B) Ayestefanos Antlaşması
C) Kütahya Antlaşması
D) Paris Antlaşması
E) Berlin Antlaşması

13. İttihat ve Terakki Cemiyeti tarafından kurulan gizli haber alma teşkilatıdır. I. Dünya Savaşı yıllarında önemli faaliyetlerde bulunmuştur. Üyelerinin birçoğu Kurtuluş Savaşı yıllarında Mustafa Kemal'in yanında yer almıştır. İstanbul'dan Anadolu'ya silah sevkiyatı yapan Mim Mim Grubu bu cemiyetin devamı olarak çalışmıştır.

Yukarıdaki paragrafta bazı özellikleri verilen teşkilat aşağıdakilerden hangisidir?

- A) Teşkilatımahsus
B) Teşkilatıresasiye
C) Heyetitemsilîye
D) Teali İslam
E) Sulh ve Selameti Osmaniye

14. ABD Başkanı Wilson I. Dünya Savaşı'nın sonlarına doğru, savaş sonunda devletlerin uyması gereken kurallar olarak 14 maddelik bir bildiri yayınladı.

Bildiride yayımlanan;

- I. uluslararası antlaşmalar açık yapılacaktır,
II. galip devletler mağlup devletlerden toprak ya da savaş tazminatı almayacaktır,
III. devletler arası barışı sağlamak için bir kurum oluşturulacaktır.

maddelerinden hangilerini İtilaf Devletleri manda ve himaye fikri ile aşmaya çalışmıştır?

- A) Yalnız I B) Yalnız II C) Yalnız III
D) I ve II E) I, II ve III

15. Erzurum Kongresi'nin yapılması kararı;

- I. Şark Vilayetleri Müdafaa-i Hukuk Millîye,
II. Trakya Paşaeli,
III. İzmir Müdafaa-i Hukuk Millîye

cemiyetlerinden hangileri vermiştir?

- A) Yalnız I B) Yalnız II C) Yalnız III
D) I ve II E) I, II ve III

16. Mustafa Kemal Millî Mücadele sürecinde Meclis-i Mebusanın açılması için İstanbul Hükûmeti'ne baskı yapmıştır.

Buna göre Mustafa Kemal;

- I. millî egemenliğin gerçekleşmesi,
II. İstanbul Hükûmeti'nin denetlenmesi,
III. işgalci güçlerin hareket etmemesi

amaçlarından hangilerini gerçekleştirmeye çalışmıştır?

- A) Yalnız I B) Yalnız II C) Yalnız III
D) I ve II E) I, II ve III

17. I. TBMM yeni bir devlet kurmuş ve yeni bir anayasa yapmıştır. Bu yönüyle "Kurucu Meclis" özelliğine sahip olmasına rağmen olası tepkileri dikkate alarak bu ismi kullanmamıştır.

I. TBMM bunun yerine aşağıdaki isimlerden hangisini kullanmıştır?

- A) Olağanüstü Meclis
B) İstiklal Meclisi
C) Kongreler Meclisi
D) Cumhuriyet Meclisi
E) Saltanat Şurası

18. I. Birinci İnönü Savaşı
II. Tekalif-i Milliye Emirleri'nin yayımlanması
III. Mudanya Ateşkesi'nin yapılması
IV. Takrir-i Sükûn Kanunu'nun çıkartılması

Yukarıda verilen olayların kronolojik sıralaması aşağıdakilerden hangisinde doğru verilmiştir?

- A) I - II - III - IV
B) II - III - I - IV
C) III - IV - II - I
D) IV - I - III - II
E) I - IV - III - II

19. Türkiye Cumhuriyeti'nin ilk Cumhurbaşkanı, ilk Meclis Başkanı ve ilk Başbakanı aşağıdakilerden hangisinde doğru verilmiştir?

ilk Cumhurbaşkanı	ilk Meclis Başkanı	ilk Başbakan
----------------------	-----------------------	-----------------

- | | | |
|--------------------|---------------|--------------|
| A) Kazım Karabekir | Celal Bayar | Fuat Köprülü |
| B) Rauf Orbay | Mustafa Kemal | Fevzi Çakmak |
| C) Mustafa Kemal | Fethi Okyar | İsmet İnönü |
| D) Adnan Menderes | Hasan Saka | Naim Takı |
| E) Mustafa Kemal | Fevzi Çakmak | İsmet İnönü |

20. Erzurum Kongresi'nde ve Amasya Görüşmeleri'nde "Hristiyan ahaliye siyasi hâkimiyetimizi ve sosyal dengemizi bozacak ayrıcalıklar verilemez." kararı alınmıştır.

Bu kararın aşağıdaki inkılaplardan hangisiyle bağdaştığı ileri sürülebilir?

- A) Tekke ve zaviyelerin kapatılması
- B) Medeni Kanun'un kabul edilmesi
- C) Hafta tatilinin pazara alınması
- D) Kılık kıyafet düzenlemesi
- E) Ölçü birimlerinin değiştirilmesi

21. Aşağıda verilen inkılaplardan hangisi diğerlerinden sonra gerçekleşmiştir?

- A) Halifeliğin kaldırılması
- B) Tevhid-i Tedrisat Kanunu'nun çıkarılması
- C) Harf inkılabının kabul edilmesi
- D) Medeni Kanun'un kabul edilmesi
- E) Kabotaj Kanunu'nun kabul edilmesi

22. Aşağıdakilerden hangisi Atatürk'ün Ulusçuluk ilkesi doğrultusunda yapılan inkıaplardan biri değildir?

- A) Türk Tarih Kurumunun kurulması
- B) Kabotaj Kanunu'nun çıkartılması
- C) Misak-ı İktisadi'nin yayınlanması
- D) Kapitülasyonların kaldırılması
- E) Şapka İhtisap Kanunu'nun çıkartılması

23. Türkiye Cumhuriyeti Devleti'nin; II. Dünya Savaşı yıllarında, savaşın geniş halk kitleleri üzerindeki etkilerini azaltmak için aşağıdaki uygulamalardan hangisini yaptığı söylenemez?

- A) Savunma giderlerine ayrılan payın azaltılması
- B) Varlık vergisi uygulamasının yapılması
- C) Millî Korunma Kanunu'nun çıkartılması
- D) Narh koyma kararının alınması
- E) Karne sistemine geçilmesi

24. Halkçılık ilkesinin eşitlikçi ve demokratik olma özelliğini;

- I. her türlü ayrımcılığa karşı olması,
- II. herkesin hukuk önünde eşit olması,
- III. egemenliğin kullanılmasında halkın da söz sahibi olması

gibi durumlardan hangileri destekler?

- A) Yalnız I
- B) Yalnız II
- C) Yalnız III
- D) I ve III
- E) I, II ve III

25. Briand - Kellogg Paktı ile;

- I. savunmaya dayanmayan savaşın kanun dışı sayılması,
- II. devletler arası ilişkilerde savaş yerine barışın tercih edilmesi,
- III. savaşın devletler tarafından millî politikalara alet edilmemesi

gibi esaslardan hangileri kabul edilmiştir?

- A) Yalnız I B) Yalnız II C) Yalnız III
D) I ve II E) I, II ve III

26. Sovyetler Birliği, Soğuk Savaş Dönemi'nde komünist rejimleri benimseyen Doğu Avrupa ülkeleri arasında ekonomik yapıları güçlendirmek için;

- I. Truman Doktrini,
- II. Molotof Planı,
- III. Marshall Yardımı

gibi uygulamalardan hangilerini gerçekleştirmeye çalışmıştır?

- A) Yalnız I B) Yalnız II C) Yalnız III
D) I ve II E) I, II ve III

27. Aşağıdakilerden hangisi II. Ulusal Mimarlık Akımı'nın özelliklerini göstermez?

- A) Anıtkabir
B) Bursa Vali Konağı
C) Ankara Saraçoğlu Mahallesi
D) Ankara Lübnan Elçiliği
E) Büyük Tiyatro

28. 21 Haziran'da Türkiye'nin güneyinden kuzeyine gidildikçe;

- I. çizgisel hız,
- II. ortalama sıcaklık,
- III. grup ve tan süresi

özelliklerinden hangilerinde azalma olmaz?

- A) Yalnız II B) Yalnız III C) I ve II
D) I ve III E) II ve III

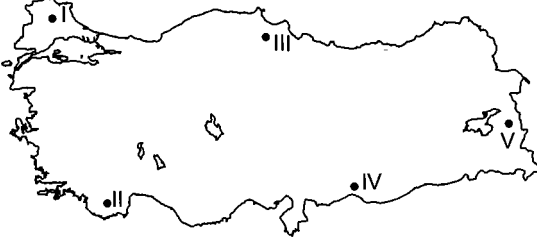
29. Türkiye'nin dağlık ve engebeli olmasıyla ilgili aşağıdaki yargılardan hangisi arasında ilişki kurulamaz?

- A) Akarsuların hidroelektrik potansiyeli yüksektir.
B) Kısa mesafelerde iklim değişiklikleri görülür.
C) I. jeolojik zamanda oluşmuş masif alanları mevcuttur.
D) Kara ve demir yolu yapım maliyetleri yüksektir.
E) Doğu Anadolu Bölgesi'nde karasal iklim hâkimdir.

30. Türkiye'de yer alan aşağıdaki göllerden hangisinin oluşumunda heyelan faaliyetlerinden söz edilebilir?

- A) Çıldır B) Hazar C) Terkos
D) Tuz E) Borabay

31.



Türkiye haritasında gösterilen numaralandırılmış alanlardan hangisinde rüzgâra bağlı erozyon olasılığı **daha yüksektir?**

- A) I B) II C) III D) IV E) V

32. Türkiye'de sıcaklığın dağılışıyla ilgili aşağıdaki ifadelerden hangisi enlem faktörüyle açıklanabilir?

- A) Uşak'tan Erzurum iline ortalama sıcaklıkların azalması
B) Antalya'da yaz sıcaklık ortalamasının Şanlıurfa'dan daha az olması
C) Rize'de kış sıcaklık ortalamasının Bayburt'tan daha fazla olması
D) Balıkesir'deki yaz sıcaklık ortalamasının Kastamonu'dan daha fazla olması
E) Ankara'daki kış sıcaklık ortalamasının Sivas'tan daha az olması

33. Havadaki bağıl nem sıcaklıkla ters orantılıdır.



Buna göre, ocak ayında Türkiye haritasında numaralandırılmış alanların hangisinde bağıl (nisbi) nem miktarı **daha fazladır?**

- A) I B) II C) III D) IV E) V

34. İklim; sıcaklık, basınç - rüzgâr ve nem-yağış özellikleriyle örüntülü bir dinamik bütündür.

Buna göre, Türkiye'de yer alan;

- I. Bursa,
II. Aksaray,
III. Trabzon,
IV. Gaziantep

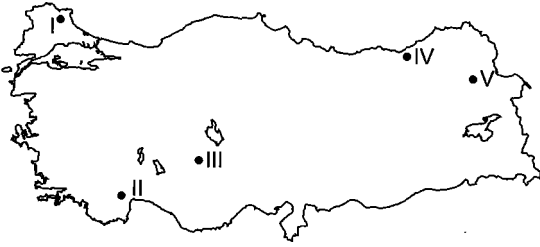
illerinden hangileri aynı iklim bölgesinde yer alabilir?

- A) I ve II B) I ve III C) I ve IV
D) II ve III E) III ve IV

35. Türkiye'nin nüfus özellikleriyle ilgili aşağıdaki yargılardan hangileri **yanlıştır?**

- A) Yağış miktarının yüksek olduğu alanların tamamında ahşap meskenler yaygındır.
B) İç Anadolu Bölgesi'nde toplu yerleşmeler yaygındır.
C) Hakkari ilinde tarımsal nüfus yoğunluğu fazladır.
D) Yayılcılık sezonunun en uzun olduğu bölge Akdeniz'dir.
E) Karadeniz Bölgesi'nde kerpiç evlere de rastlanılır.

36. Mezra; sürekli köy altı yerleşmeleri olan ve öncelikle tarım, bunun yanında hayvancılık faaliyetlerinin de yapıldığı sahalardır.



Buna göre, Türkiye haritasında numaralandırılmış kırsal alanların hangisinde mezralara rastlanma olasılığı daha fazladır?

- A) I B) II C) III D) IV E) V

37. Türkiye'de nüfus artış hızının yüksek olduğu bir yöre ile ilgili;

- I. Aritmetik nüfus yoğunluğu artar.
- II. Şehirleşme oranı artar.
- III. Yöre dışına göç artar.

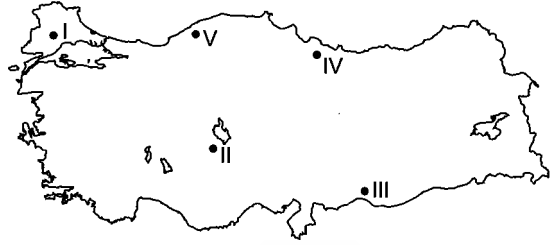
yargılarından hangisi kesinlikle söylenir?

- A) Yalnız I B) Yalnız II C) Yalnız III
 D) I ve II E) I ve III

38. Türkiye'de üretilen aşağıdaki tarım ürünlerinden hangisinin ihracattaki payı daha azdır?

- A) Fındık B) Üzüm C) Kayısı
 D) Turunçgil E) Mısır

- 39.



Türkiye haritasında numaralandırılmış alanların hangisinde kuraklık isteği olan tarım ürünlerinin ekim alanı daha azdır?

- A) I B) II C) III D) IV E) V

40. Türkiye'de kıl keçisinin yoğun olarak yetiştirildiği bir yöreyle ilgili;

- I. dağlık ve engebeli olması,
- II. bitki örtüsünün çayır olması,
- III. yaz kuraklığının belirgin olması

durumlarından hangileri söylenbilir?

- A) Yalnız I B) Yalnız II C) I ve II
 D) I ve III E) II ve III

41. Bir bölgede ormanın kendini yenileyebilme gücü, sıcaklık, nemlilik ve yağış faktörlerine göre farklılıklar gösterir.

Buna göre, Türkiye'de aşağıdaki yörelerin hangisinde ormanın kendini yenileyebilme gücü daha düşüktür?

- A) Giresun B) Menteşe C) Kırklareli
 D) Hatay E) Afyon

42. Türkiye sanayisinde;

- I. sermaye,
- II. ham madde,
- III. iş gücü

faktörlerinden hangilerinin olumsuz etkisinden bahsedilemez?

- A) Yalnız I B) Yalnız II C) Yalnız III
D) I ve II E) I ve III

43. Türkiye'de yer alan aşağıdaki kara yolu tünellerinden hangisi 2014 yılı itibariyle en son açılışı yapılan tüneldir?

- A) Ovit B) Boğsak C) Kop
D) Gülek E) Çubuk

44. Aşağıdakilerden hangisi Doğu Anadolu Bölgesi'nin turizm varlıkları arasında gösterilemez?

- A) Palandöken
B) İshak Paşa Sarayı
C) Ağrı Dağı
D) Malabadi Köprüsü
E) Muradiye Şelalesi

45. Türkiye'de aşağıdaki coğrafi bölümlerden hangisinin demir yolu bağlantısı bulunmamaktadır?

- A) Antalya
B) İç Batı Anadolu
C) Hakkari
D) Yıldız Dağları
E) Orta Fırat

46. Aşağıdakilerden hangisi "mevzu hukuk" içerisinde yer almaz?

- A) Anayasa
B) Yargısal içtihatlar
C) Tüzükler
D) Yönetmelikler
E) Milletlerarası antlaşmalar

47. Aşağıdakilerden hangisi "sınırlı ehliyetsiz" kategorisinde değerlendirilir?

- A) Ayırt etme gücüne sahip kısıtlılar
B) 30 yaşında evli olan kişi
C) Ayırt etme gücüne sahip olmayanlar
D) Yasal danışman atanmış kişiler
E) Ayırt etme gücü olmayan küçükler

48. Aşağıdakilerden hangisi "uyrukluk" ile ilgili **yanlış** bir bilgidir?

- A) Doğumla kazanılan uyrukluğa "asli uyrukluk" denir.
- B) Uyrukluk bağı ile gemi ve uçaklarda devlete bağlanır.
- C) Devlete uyrukluk bağı ile bağlı olan gerçek kişilere "vatandaş" adı verilir.
- D) Uyrukluk sadece gerçek kişiler için söz konusudur.
- E) Kişinin doğumdan sonra kazandığı uyrukluğa "kazanılmış uyrukluk" adı verilir.

50. Aşağıdakilerden hangisi 1924 Anayasası ile ilgili **yanlış** bir bilgidir?

- A) 1924 Anayasası, hürriyetler konusunda, Fransız Devrimi'nden beri süre gelmekte olan "tabii hak" anlayışını kabul etmiştir.
- B) Sert anayasa sistemini benimsemiştir.
- C) Çoğulcu demokrasi anlayışını yansıtır.
- D) Hükümet sistemi; meclis hükümeti ile parlamenter rejim arasında karma bir sistemdir.
- E) Parlamenter sistemin temel özelliklerinden olan hükümetin kolektif sorumluluğu ilkesini kabul etmiştir.

kısayol yayıncılık

49. Gerçek kişiliği sona erdiren "ölüm" ile ilgili aşağıdakilerden hangisi **yanlıştır**?

- A) Ölüm olayları on gün içerisinde nüfus müdürlüğüne bildirilir.
- B) Ölümüne kesin gözle bakılacak bir hâlde kaybolan ve cesedi bulunamayan kişi ölmüş sayılır. Buna "ölüm karinesi" adı verilir.
- C) Birden fazla kişiden hangisinin önce hangisinin sonra öldüğü ispat edilemezse hepsi aynı anda ölmüş sayılır. Buna "birlikte ölüm karinesi" adı verilir.
- D) Ölen bir kişinin kişilik hakları sona ererken malvarlığı hakları kanuni mirasçılara geçer.
- E) Ölüm karinesi adı karine iken birlikte ölüm karinesi kesin karinedir.

51. 1982 Anayasası'na göre meclis çalışmalarına özürsüz ve izinsiz olarak bir ay içinde **en az kaç birleşim günü** katılmayan milletvekilinin milletvekilliğinin düşmesine karar verilir?

- A) 3 birleşim günü
- B) 5 birleşim günü
- C) 7 birleşim günü
- D) 10 birleşim günü
- E) 12 birleşim günü

52. I. TBMM genel seçimlerinden önce, Adalet, İçişleri ve Ulaştırma bakanları çekilir.
II. Geçici Bakanlar Kurulu için güvenoyuna başvurulmaz.
III. Geçici Bakanlar Kurulu, yenilenme kararının Resmî Gazete’de ilanından itibaren 5 gün içinde kurulur.

Yukarıdakilerden hangisi geçici Bakanlar Kurulu hakkında doğru bir bilgidir?

- A) Yalnız I B) Yalnız II C) Yalnız III
D) I ve II E) I, II ve III

53. **Aşağıdakilerden hangisi “hâkimlik teminatı” ile ilgili yanlış bir bilgidir?**

- A) Bir mahkemenin veya kadronun kaldırılması sebebiyle de olsa, aylıklarından ve özlük haklarından yoksun bırakılamaz ancak ödeneklerine el konulabilir.
B) Hâkimlerin görevlerini, herhangi bir baskı ya da tehditle karşılaşmaksızın tam bir serbestlik, tarafsızlık ve huzur ortamı içinde gerçekleştirebilmeleri için öngörülen önlemlerin bütünüdür.
C) Hâkimler azlonulamazlar.
D) Kendileri istemedikçe anayasada gösterilen yaştan önce emekliye sevk edilemezler.
E) Bir mahkemenin veya kadronun kaldırılması sebebiyle de olsa, aylıklarından, ödeneklerinden ve özlük haklarından yoksun bırakılamazlar.

54. **Aşağıdakilerden hangisi bir taşra teşkilatı idaresidir?**

- A) Devlet Denetleme Kurulu
B) İl Özel İdaresi
C) Bucak İdaresi
D) Belediye İdaresi
E) Köy İdaresi

55. **06.11.2015 Paris’te düzenlenen dünyanın en prestijli edebiyat ödülleri arasında kabul edilen “Medicis Yabancı Edebiyat Ödülü”ne , kaçak göçmenleri konu eden “Daha” adlı kitabıyla layık görülen, Türk yazar aşağıdakilerden hangisidir?**

- A) Fatih Erdoğın
B) Miyase Sertbarut
C) Hakan Günday
D) Orhan Pamuk
E) Karin Karakaşlı

56. **Egemenlik yönünden bağımsız, yüz ölçümü bakımından dünyanın en küçük ülkesi aşağıdakilerden hangisidir?**

- A) Nauru B) Monako C) Tuvalu
D) San Marino E) Vatikan

57. "Kanunla kurulan ancak idarenin klasik örgütlenmesi dışında kalan, enerji, sermaye piyasası, bankacılık sektörü, ekonomik ve sosyal alanlarda düzenleme, denetleme, ara buluculuk, yönlendirme gibi yetkilerle donatılmış kamu tüzel kişiliğine, idari ve mali özerkliğe sahip kuruluşlara Bağımsız İdari Otoriteler denmektedir."

Yukarıdaki tanıma göre aşağıdakilerden hangisi bu kuruluşlar arasında yer almaz?

- A) Radyo Televizyon Üst Kurulu
- B) Türkiye Radyo Televizyon Kurumu
- C) Kamu İhale Kurumu
- D) Bilgi Teknolojileri ve İletişim Kurumu
- E) Rekabet Kurumu

59. **Avrupa İnsan Hakları Mahkemesi (AİHM) yargıçlarını seçme yetkisi kime aittir?**

- A) Avrupa Konseyi Bakanlar Komitesi
- B) Avrupa Konseyi Parlamenterler Asamblesi
- C) Avrupa Konseyi Yerel ve Bölgesel Yönetimler Kongresi
- D) Avrupa Konseyi Genel Sekreteri
- E) Avrupa Parlamentosu

kısayol yayıncılık

58. **Avrupa Konseyi Parlamenterler Meclisi üyelerini kim seçer?**

- A) Bakanlar Komitesi
- B) Yerel ve Bölgesel Yönetimler Kongresi
- C) Genel Kurul
- D) Üye ülkelerin kendi parlamentoları
- E) Avrupa Komisyonu

60. **Çevre kirliliğiyle mücadele etmek, küresel ısınmaya karşı alınması gereken önlemleri belirlemek, gelişmekte olan ülkelere çevre politikaları konusunda yardımcı olmak gibi faaliyetlerde bulunan Birleşmiş Milletlere bağlı kuruluş aşağıdakilerden hangisidir?**

- A) UNEP
- B) FAO
- C) UNDP
- D) UNDCP
- E) UNHCR

GENEL YETENEK

1. Parçanın genelinde Türk mutfağının zengin bir mutfak kültürüne sahip olduğu ve farklı tatları birleştirerek birçok lezzeti sunduğundan bahsedilmektedir.

Seçenek	(A)	(B)	(C)	(D)	(E)
Yüzde %	0	0	8,20	86,07	4,92

2. Parçada geçen "serin bir nefes almak" sözüyle anlatılmak istenen bahsedilen yerin serin ve sakin bir yer olduğudur.

Seçenek	(A)	(B)	(C)	(D)	(E)
Yüzde %	1,64	4,92	93,44	0	0

3. "Doğrucu Davut" sözü kalıplaşmış bir sözdür, bir hikâyeden yola çıkılarak söylenmiş bir sözdür fakat deyim olarak kullanılmamaktadır.

Seçenek	(A)	(B)	(C)	(D)	(E)
Yüzde %	18,03	0,82	5,74	71,31	2,46

4. I. cümlede Bozcaada'nın zengin bir coğrafyada yer aldığı söyleniyor. II. cümlede ise bu zengin coğrafyanın kökeninden bahsediliyor.

Seçenek	(A)	(B)	(C)	(D)	(E)
Yüzde %	97,54	0	0	0	1,64

5. II. cümlede bir amaç-sonuç ilişkisi vardır. Yani eserler incelendiğinde Osmanlı'nın yıkılış sürecinin daha iyi anlaşılacağı söylenmiştir.

Seçenek	(A)	(B)	(C)	(D)	(E)
Yüzde %	0,82	86,89	7,38	0,82	0

6. Cümlelerin sonunda tekstil sanayisinin gelişmesiyle sanatın son bulunduğu söylenmiştir dolayısıyla artık bu sanat icra edilmemektedir.

Seçenek	(A)	(B)	(C)	(D)	(E)
Yüzde %	14,75	2,46	5,74	2,46	71,31

7. Cümlelerin doğru sıralaması III-I-IV-II-V şeklinde olmalıdır. Dolayısıyla baştan üçüncü cümle IV numaralı cümledir.

Seçenek	(A)	(B)	(C)	(D)	(E)
Yüzde %	5,74	11,48	0,82	81,97	0

8. I'ncide çocuk kitaplarında yazarın nelere dikkat etmesi gerektiğiyle ilgili açıklama yapılmıştır. II'ncide yazarın ne yapmaması gerektiği söylenmiştir, karşılaştırma yapılmamıştır. III'üncüde çocuk kitaplarında hangi konuların işlenebileceğinden bahsedilmiştir. IV'üncüde "çok önemlidir" ifadesiyle yoruma yer verilmiştir. V'inci cümle ise "gerekir" sözcüğü koşula bağlılık cümlesi olduğunu kanıtlar niteliktedir.

Seçenek	(A)	(B)	(C)	(D)	(E)
Yüzde %	8,20	81,15	0	2,46	8,20

9. I numaralı sözcük "yansıyan" sözcüğüyle, II numaralı sözcük "önemli" sözcüğüyle, IV numaralı sözcük "iç" sözcüğüyle, V numaralı sözcük ise "yepyeni" sözcüğüyle nitelenmiştir. III numaralı sözcük ise "kendi ufuklarından" tamlamasının tamlananıdır.

Seçenek	(A)	(B)	(C)	(D)	(E)
Yüzde %	4,10	0,82	80,33	7,38	1,64

10. Parçanın genelinde, gayretlerimizin sonucunu almak istediğimizden ve bunun da azmimizi artırdığından söz edilmektedir.

Seçenek	(A)	(B)	(C)	(D)	(E)
Yüzde %	85,25	1,64	1,64	8,20	2,46

11. B seçeneğinde deyimın yanlış kullanımından kaynaklanan bir anlatım bozukluğu vardır. Deyimin doğrusu "camı çerçeveyi indirmek" şeklindedir.

Seçenek	(A)	(B)	(C)	(D)	(E)
Yüzde %	23,77	31,97	2,46	22,95	0,82

12. Parçada II numara ile verilen "Yayımcı Katkov, şair Aleksey Khamyakov, Danilevski ve Dostoyevski gibi pek çok Rus aydını ve yazarı Panslavizmin tesiriyle Türk düşmanlığı yaparken sadece Tolstoy, Turgenyev ve Granovsky kendilerini bu cereyana kaptırmazlar." cümlesinde karşılaştırma yapılmıştır.

Seçenek	(A)	(B)	(C)	(D)	(E)
Yüzde %	1,64	88,52	0,82	3,28	1,64

13. Parçanın ilk üç cümlesinde pusula ve tarihi hakkında genel bilgiler verilmiştir. IV numaralı cümleden itibaren ise pusulaların türlerinden ve fiyatlarından bahsedilmeye başlanmıştır.

Seçenek	(A)	(B)	(C)	(D)	(E)
Yüzde %	0	69,67	27,87	0	1,64

14. VI. cümleye kadar Tanzimat Dönemi yazarlarından bahsedilirken VI. cümleden itibaren Meşrutiyet Dönemi yazarlarından bahsedilmeye başlanmıştır. İkinci paragraf VI. cümleyle başlamalıdır.

Seçenek	(A)	(B)	(C)	(D)	(E)
Yüzde %	0	2,46	10,66	0,82	85,25

15. Cümledeki anlatım bozukluğunun giderilebilmesi için "sorunsallaştırılması" sözcüğünden önce "onun" sözcüğünün getirilmesi gerekmektedir.

Seçenek	(A)	(B)	(C)	(D)	(E)
Yüzde %	6,56	0,82	48,36	33,61	5,74

16. B seçeneğinde yer alan "ama, fakat, lakin" gibi bağlaçlardan önce herhangi bir noktalama işareti gelmemelidir.

Seçenek	(A)	(B)	(C)	(D)	(E)
Yüzde %	54,92	2,46	5,74	21,31	4,10

17. "ana dil" sözcüğü ayrı yazılması gereken bir sözcüktür.

Seçenek	(A)	(B)	(C)	(D)	(E)
Yüzde %	12,30	34,43	0,82	27,87	8,20

18. Yüklemler isim olan sözcüklerde çatı özelliği aranmaz. Bir yüklem çatı özelliği taşıması için fiil olması gerekmektedir.

Seçenek	(A)	(B)	(C)	(D)	(E)
Yüzde %	0	0	79,51	6,56	0

19. Cümlede geçen "sazlarla" sözcüğü, isimdir. "söyleyen" sözcüğü sıfat-fiildir (filimsi). "eski" sözcüğü ise sıfattır.

Seçenek	(A)	(B)	(C)	(D)	(E)
Yüzde %	1,64	0,82	0	90,98	0

20. VI. cümleye kadar kötülükten ve Tanrı'nın kötülere cezalandıracağından bahsedilirken VI. cümlede kötülükten nasıl kurtulacağından söz edilmiştir.

Seçenek	(A)	(B)	(C)	(D)	(E)
Yüzde %	19,67	1,64	8,20	61,48	6,56

21. Parçanın ilk cümlesinden A seçeneğine, "Sedefkârlığın Doğu medeniyetlerinde ortaya çıktığı sanılıyor." yargısından B seçeneğine, "Bir diğer sebep de zengin sedef kaynaklarının sıcak deniz yumuşaklarından sağlanması." yargısından C seçeneğine, "Sedefin, bir ustanın eli aracılığıyla süsleme sanatına kattığı değer ..." ifadesinden E seçeneğine ulaşılabilir.

Seçenek	(A)	(B)	(C)	(D)	(E)
Yüzde %	0	0,82	3,28	90,98	3,28

22. Parçada sedefin ve sedefkârlığın tanımı yapılmıştır.

Seçenek	(A)	(B)	(C)	(D)	(E)
Yüzde %	4,92	85,25	4,10	2,46	2,46

23. I. cümleden A seçeneğine, III. cümleden B ve E seçeneğine, V. cümleden C seçeneğine ulaşılabilir. Fakat parçada Cevat Şakir'in denizi konu alan yazarlar arasında en özgün yazar olduğu söylenmiştir, "en özgün yazar" diyerek genelleme yapılması yanlıştır.

Seçenek	(A)	(B)	(C)	(D)	(E)
Yüzde %	32,79	6,56	6,56	35,25	13,93

24. I. cümlede yazarın neleri konu edindiği hakkında açıklama yapılmıştır. II. cümlede "en özgün" ifadesi karşılaştırma yapıldığını göstermektedir. III. cümlede yazarın örnek bir şahsiyet olduğundan bahsedilmiştir. IV. cümlede Cevat Şakir ağaca benzetilmiştir. Ama V. cümlede söyleyenin şahsi düşüncelerine yer verilmiştir. Dolayısıyla öznellik söz konusudur.

Seçenek	(A)	(B)	(C)	(D)	(E)
Yüzde %	2,46	0,82	4,10	0,82	86,89

25. I. cümle; "... sorunlar sebebiyle, medya dışında faaliyet gösteren büyük sermaye gruplarının yönetimine geçmeye başlamıştır." sebep-sonuç cümlesidir.

II. cümle; "... ile birlikte, medya sektörü plansız ve kontrolsüz bir büyüme trendine girmiştir." sebep-sonuç cümlesidir.

IV. cümle; "... bunun sonucunda da, medya sektöründe ciddi bir işsizlik dalgası oluşmuştur." sebep-sonuç cümlesidir.

V. cümle; "Batık bankalarından dolayı bazı medya şirketlerine Tasarruf Mevduatı ve Sigorta Fonu tarafından..." sebep-sonuç cümlesidir.

III. cümlede sebep-sonuç ilişkisi bulunmamaktadır.

Seçenek	(A)	(B)	(C)	(D)	(E)
Yüzde %	1,64	5,74	70,49	0,82	13,93

26. Parçaya göre, C seçeneğinde yer alan "Medya patronları aynı zamanda banka sektöründe faaliyet gösterdiklerinden yaşanan mali krizler dolaylı olarak medya sektörünü de etkilemiştir." cümlesine ulaşılabilir.

Seçenek	(A)	(B)	(C)	(D)	(E)
Yüzde %	9,02	2,46	78,69	3,28	2,46

27. Parçaya göre, yaşanan finansal kriz sonucu bankası batan özel medya sahiplerinin şirketlerine TMSF tarafından el konulması medya sektöründe yaşanan işsizliğin sebebi olarak gösterilebilir.

Seçenek	(A)	(B)	(C)	(D)	(E)
Yüzde %	0,82	4,10	10,66	79,51	1,64

Soruda verilenleri aşağıdaki şekilde tablolaştırabiliriz.

Sarı	Kırmızı	Beyaz
Ali	Mehmet	Mustafa
Cansu	Ebru	Dilek
Burak	Gizem	

28. Tabloda verilene göre Dilek beyaz topu çekerek elenmiştir.

Seçenek	(A)	(B)	(C)	(D)	(E)
Yüzde %	1,64	0,82	0,82	80,33	4,10

29. Tabloya göre Burak sarı takımdadır.

Seçenek	(A)	(B)	(C)	(D)	(E)
Yüzde %	0,82	4,10	81,15	0,82	0,82

30. Tabloya göre Mehmet ile Cansu takımlarını değiştirdiklerinde takımlar "kızlar takımı" ve "erkekler takımı" şeklinde ayrılabilir.

Seçenek	(A)	(B)	(C)	(D)	(E)
Yüzde %	1,64	0	79,51	4,10	0,82

31. b sayısı hem 36'nın hem de 30'un ortak böleni olmalıdır.

$$(30,36)_{\text{obeb}} = 6$$

6'nın pozitif tam bölenleri; 1, 2, 3, 6'dır.

$$1 + 2 + 3 + 6 = 12 \text{ olur.}$$

Seçenek	(A)	(B)	(C)	(D)	(E)
Yüzde %	4,10	11,48	53,28	4,10	0,82

$$32. \frac{0,01+0,02+0,1}{0,11+0,2+0,08} = \frac{\frac{1}{100} + \frac{2}{100} + \frac{10}{100}}{\frac{11}{100} + \frac{20}{100} + \frac{8}{100}} = \frac{\frac{13}{100}}{\frac{39}{100}} = \frac{13}{39} = \frac{1}{3}$$

Seçenek	(A)	(B)	(C)	(D)	(E)
Yüzde %	0	81,97	0	0	0,82

33. $7x + 3y - 2z$ ifadesinin en büyük değeri alabilmesi için x'in en büyük, z'nin en küçük seçilmesi gerekir.

$$x = 9, y = 8 \text{ ve } z = 1 \text{ olarak seçilirse;}$$

$$7.9 + 3.8 - 2.1 = 63 + 24 - 2 = 85 \text{ olarak bulunur.}$$

Seçenek	(A)	(B)	(C)	(D)	(E)
Yüzde %	0	0,82	0,82	68,85	3,28

$$34. x - \frac{5}{y} = 9$$

$$x = 9 + \frac{5}{y} \text{ ifadesini tam sayı yapan 4 farklı y değeri vardır. (1, 5, -1, -5 gibi)}$$

Dolayısıyla 4 farklı x değeri vardır.

Seçenek	(A)	(B)	(C)	(D)	(E)
Yüzde %	1,64	24,59	2,46	31,15	0,82

35. 162'yi 9'a böldüğümüzde ortanca sayıyı buluruz. $\frac{162}{9} = 18$

$$10 \quad 12 \quad 14 \quad 16 \quad 18 \quad 20 \quad 22 \quad 24 \quad 26$$

Ortanca sayı

En büyük sayı ile en küçük sayının farkı

$$26 - 10 = 16$$

Seçenek	(A)	(B)	(C)	(D)	(E)
Yüzde %	0	0,82	74,59	2,46	0

36. Her bir ifadenin 5 ile bölümünden kalanı bulalım.

$$0! = 1 \rightarrow \text{Kalan: 1}$$

$$1! = 1 \rightarrow \text{Kalan: 1}$$

$$2! = 2 \rightarrow \text{Kalan: 2}$$

$$3! = 6 \rightarrow \text{Kalan: 1}$$

$$4! = 24 \rightarrow \text{Kalan: 4}$$

$$5! = 120 \rightarrow \text{Kalan: 0}$$

$$6! = 720 \rightarrow \text{Kalan: 0}$$

$$7! = \dots \rightarrow \text{Kalan: 0}$$

$$8! = \dots \rightarrow \text{Kalan: 0}$$

$$9! = \dots \rightarrow \text{Kalan: 0}$$

$0! + 1! + 2! + \dots + 9!$ ifadesindeki kalanların toplamı

$$1 + 1 + 2 + 1 + 4 = 9$$

9'un 5 ile bölümünden kalan 4 olduğuna göre, $0! + 1! + 2! + \dots + 9!$ ifadesinin 5 ile bölümünden kalan 4'tür.

Seçenek	(A)	(B)	(C)	(D)	(E)
Yüzde %	4,92	2,46	1,64	10,66	48,36

37. A'nın en küçük değeri için B ve C'nin de en küçük değerlerini almak gerekmektedir.

$$\begin{array}{r|l} B & C \\ \hline & 4 \end{array} \text{ ifadesinde kalan 3 olduğundan C, 3'ten büyük olmak zorundadır. 3'ten büyük en küçük tam sayı 4 olarak alınır. O hâlde;}$$

$$B = 4.C + 3 \Rightarrow B = 4.4 + 3 \Rightarrow B = 19$$

B değerini A ifadesinde yerine yazılırsa;

$$\begin{array}{r|l} A & B \\ \hline & 3 \end{array}$$

$$A = 3.B + 2 = 3.19 + 2 = 59$$

$$A + B + C = 59 + 19 + 4 = 82 \text{ olur.}$$

Seçenek	(A)	(B)	(C)	(D)	(E)
Yüzde %	2,46	57,38	0	0	0,82

38. $\left(\frac{2}{3} + \frac{1}{2}\right) - \left(\frac{1}{3} - \frac{1}{2}\right)$
 $\left(\frac{1}{4} + \frac{1}{3}\right) + \left(\frac{1}{6} - \frac{1}{3}\right)$

$$= \frac{2}{3} + \frac{1}{2} - \frac{1}{3} + \frac{1}{2} = \frac{1}{3} + \frac{1}{3} = \frac{2}{3}$$

$$= \frac{1}{4} + \frac{1}{3} + \frac{1}{6} - \frac{1}{3} = \frac{1}{4} + \frac{1}{6}$$

$$= \frac{3}{12} + \frac{2}{12} = \frac{5}{12} \text{ dir.}$$

Seçenek	(A)	(B)	(C)	(D)	(E)
Yüzde %	4,92	2,46	6,56	0,82	70,49

39. A) $a^3 > a.b$

Negatif > Negatif (Kesin bir şey söylenemez.)

Örneğin $a = -2$, $b = 1$ için $-8 > -2$ ifadesi yanlıştır.

B) $ab > b^2$; Negatif > Pozitif (Yanlış)

C) $a^2 > b^2$; Pozitif > Pozitif (Kesin bir şey söylenemez.)

Örneğin $a = -2$, $b = 3$ için $4 > 9$ ifadesi yanlıştır.

D) $\frac{a}{b} > 0$

(Yanlış, sonuç negatif çıkacaktır. $\frac{-}{+} = -$)

E) $a^3 < b^2$ (Doğru); Negatif < Pozitif

Seçenek	(A)	(B)	(C)	(D)	(E)
Yüzde %	0,82	0,82	0,82	0,82	68,85

40. $a - 2b = 3$ ise, $2b - a = -3$ olacaktır.

$$\frac{|2b-a|}{|a-2b|} + |2a+b| - (2b-a) - 1$$

$$\frac{|-3|}{|3|} + 2a+b-2b+a-1 = \frac{3}{3} + 3a-b-1$$

$$= 3a-b$$

Seçenek	(A)	(B)	(C)	(D)	(E)
Yüzde %	44,26	1,64	2,46	0	0

41. $\frac{2^{x+1}.4^{x-1}}{2^{2x+1}.4^{x-2}} = 8$

$$\frac{2^{x+1}.2^{2(x-1)}}{2^{2x+1}.2^{2(x-2)}} = \frac{2^{x+1+2x-2}}{2^{2x+1+2x-4}} = \frac{2^{3x-1}}{2^{4x-3}}$$

$$= 2^{3x-1-4x+3}$$

$$= 2^{2-x}$$

$$2^{2-x} = 8 \Rightarrow 2^{2-x} = 2^3$$

$$\Rightarrow 2-x = 3$$

$$\Rightarrow x = -1$$

Seçenek	(A)	(B)	(C)	(D)	(E)
Yüzde %	5,74	50	2,46	1,64	3,28

42. $\frac{\sqrt{0,36} - \sqrt{0,16}}{\sqrt{0,01} + \sqrt{0,09}} = \frac{0,6 - 0,4}{0,1 + 0,3}$

$$= \frac{0,2}{0,4} = \frac{1}{2}$$

Seçenek	(A)	(B)	(C)	(D)	(E)
Yüzde %	70,49	0	0,82	2,46	3,28

43. $\frac{2x^2 + 7x + 6}{x^2 - 4} \cdot \frac{x+1}{x^2 - x - 2}$

$$\frac{(2x+3)(x+2)}{(x+2)(x-2)} \cdot \frac{x+1}{(x-2)(x+1)}$$

$$= \frac{2x+3}{x-2} \cdot \frac{1}{x-2} = \frac{2x+3}{(x-2)^2}$$

Seçenek	(A)	(B)	(C)	(D)	(E)
Yüzde %	59,02	0	0	0,82	0

44. $\frac{x-1}{y+2} \cdot (z-1) = k$

$x = 3, y = 2, z = 9$ iken

$\frac{(3-1)}{(2+2)} \cdot (9-1) = k$

$k = \frac{2}{4} \cdot 8 \Rightarrow k = 4$

$x = 2, y = 6$ iken

$\frac{(2-1)}{(6+2)} \cdot (z-1) = k$

$\frac{1}{8} \cdot (z-1) = 4$

$z - 1 = 32 \Rightarrow z = 33$

Seçenek	(A)	(B)	(C)	(D)	(E)
Yüzde %	0,82	1,64	31,15	0	2,46

45. Çıkarken atılan adım sayısı: x

İnerken atılan adım sayısı: y

Merdiven sayısı inerken ve çıkarken değişmeyeceğine göre $2x = 3y$ olacaktır.

$x + y = 40$

$x + \frac{2x}{3} = 40$

$\frac{5x}{3} = 40 \Rightarrow x = 24$ adım,

Çıkarken $2 \cdot x$ adım attığından $2 \cdot 24 = 48$ merdiven

Seçenek	(A)	(B)	(C)	(D)	(E)
Yüzde %	0,82	0	53,28	0	1,64

46. Baba 1. çocuk 2. çocuk
 $x \quad y \quad z$

$x + y + z = 38$

6 yıl sonra çocukların yaşları oranı;

$\frac{y+6}{z+6} = \frac{3}{2} \Rightarrow 2y + 12 = 3z + 18$

10 yıl sonra babanın yaşı 40 olacağından, babanın bugünkü yaşı 30'dur.

$x + y + z = 38$

$30 + y + z = 38$

$3 / y + z = 8$

$2y - 3z = 6$

$3y + 3z = 24$

$2y - 3z = 6$

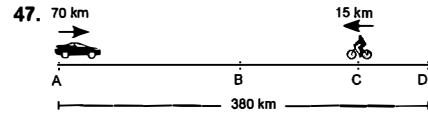
$5y = 30 \Rightarrow y = 6$

$y + z = 8$ olduğundan

$z = 2$ (Küçük çocuğun yaşı)

Seçenek	(A)	(B)	(C)	(D)	(E)
Yüzde %	45,90	0,82	0,82	1,64	5,74

kısayol yayıncılık



Otomobilin 8 saatte toplam aldığı yol:

$380 + |BC| + |CD|$

$X = V \cdot t$

$380 + |BC| + |CD| = 70 \cdot 8$

$|BC| + |CD| = 180$ km

Bisikletli BC yolunu 8 saatte aldığına göre;

$|BC| = 15 \cdot 8 = 120$ km

$|BC| + |CD| = 120 + |CD| = 180$

$|CD| = 60$ km

Seçenek	(A)	(B)	(C)	(D)	(E)
Yüzde %	1,64	1,64	34,43	1,64	0,82

48. Ustanın x saatte bitirdiği işi, çırak 4x saatte bitirir.

Usta bir saatte $\frac{1}{x}$ kadar iş,

Çırak bir saatte $\frac{1}{4x}$ kadar iş yapar.

Birlikte 4 saatte bitirdiklerine göre

$$\left(\frac{1}{x} + \frac{1}{4x}\right) \cdot 4 = 1$$

$$\frac{5}{4x} \cdot 4 = 1 \Rightarrow x = 5$$

Çırak 4x = 4.5 = 20 saatte bitirir.

Pazartesi 15.00'te başladığına göre 20 saat sonra Salı 11.00'de işi bitirir.

Seçenek	(A)	(B)	(C)	(D)	(E)
Yüzde %	0	3,28	0,82	45,90	0

49. Aşağıdaki gibi bir tablo oluşturalım.

	Önce	Sonra	İşlem
Gömlek	20 TL	24 TL	%20 zam
Pantolon	40 TL	36 TL	%10 indirim
Etek	25 TL	27,5 TL	%10 zam

Fiyat değişikliği yapılmadan önce bu alışverişin tutarı (2 etek + 6 pantolon + 3 gömlek)

$$2 \cdot 25 + 6 \cdot 40 + 3 \cdot 20 = 50 + 240 + 60 = 350 \text{ TL}$$

Fiyat değişikliği yapıldıktan sonra bu alışverişin tutarı

$$2 \cdot 27,5 + 6 \cdot 36 + 3 \cdot 24 = 55 + 216 + 72 = 343 \text{ TL}$$

350 - 343 = 7 TL azalır.

Seçenek	(A)	(B)	(C)	(D)	(E)
Yüzde %	0	0	4,10	40,98	0

50. $f(x) = 2x + 4$

$g(x) = 3x - 1$

$$\frac{f \circ g(x)}{g \circ f(x)} = \frac{2(3x-1)+4}{3(2x+4)-1} = \frac{6x-2+4}{6x+12-1}$$

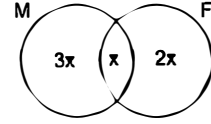
$$= \frac{6x+2}{6x+11} = \frac{2}{5}$$

$$\Rightarrow 30x + 10 = 12x + 22$$

$$\Rightarrow 18x = 12 \Rightarrow x = \frac{2}{3}$$

Seçenek	(A)	(B)	(C)	(D)	(E)
Yüzde %	0	36,89	1,64	3,28	0

51. Dağılımı aşağıdaki gibi gösterebiliriz.



$$3x + x + 2x = 24 \Rightarrow 6x = 24 \Rightarrow x = 4$$

Matematikten başarılı olanlar: 4x = 4.4 = 16 kişi

Seçenek	(A)	(B)	(C)	(D)	(E)
Yüzde %	3,28	0	30,33	2,46	0

52. Hafta içi kiralanan araç sayısı:

$$11 + 13 + 12 + 11 + 14 = 61$$

Bir haftada kiralanan araç sayısı:

$$11 + 13 + 12 + 11 + 14 + 18 + 21 = 100$$

$$\text{Oranlarsak } \frac{61}{100} = \%61$$

Seçenek	(A)	(B)	(C)	(D)	(E)
Yüzde %	0,82	1,64	70,49	0	0,82

53. Pazar günü kiralanan araç sayısı: 21

Çarşamba günü kiralanan araç sayısı: 12

$$12 + 12 \cdot \frac{x}{100} = 21$$

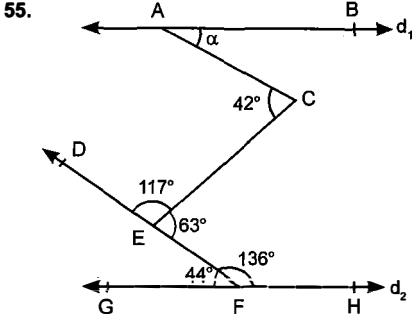
$$\frac{12x}{100} = 9 \Rightarrow x = 75 \Rightarrow \%75 \text{ artmıştır.}$$

Seçenek	(A)	(B)	(C)	(D)	(E)
Yüzde %	1,64	0	0,82	0,82	53,28

54. $40 \cdot \frac{3}{8} = 15$ kırmızı top, 25 sarı top vardır.

$$\frac{\binom{25}{2}}{\binom{40}{2}} = \frac{\frac{25 \cdot 24}{2}}{\frac{40 \cdot 39}{2}} = \frac{25 \cdot 24}{40 \cdot 39} = \frac{15}{39}$$

Seçenek	(A)	(B)	(C)	(D)	(E)
Yüzde %	0	0	0,82	1,64	25,41



$$m(\widehat{CEF}) = 180 - 117 = 63^\circ$$

$$m(\widehat{DFG}) = 180 - 136 = 44^\circ$$

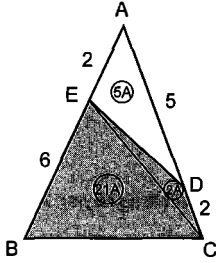
$d_1 \parallel d_2$ olduğundan birbirine bakan açılar toplamı aralarında eşittir.

$$\alpha + 63 = 42 + 44$$

$$\alpha = 23^\circ$$

Seçenek	A	B	C	D	E
Yüzde %	54,10	1,64	0	0	0

56.



$$A(\widehat{AED}) = 5A \text{ ise}$$

$$A(\widehat{ECD}) = 2A \text{ dir.}$$

$$A(\widehat{AEC}) = 7A \text{ ise}$$

$$A(\widehat{ECB}) = 21A \text{ olur.}$$

$$28A = 112 \text{ cm}^2 \text{ ise } A = 4 \text{ cm}^2$$

$$23.A = 23.4 = 92 \text{ cm}^2 \text{ olur.}$$

Seçenek	A	B	C	D	E
Yüzde %	2,46	0	27,87	0,82	0

57. (a, b) noktasının $y = k$ doğrusuna göre simetriği (a, $2k - b$) şeklinde bulunur.

$y = 3$ doğrusuna göre (2, 1) noktasının simetriği (2, $2.3 - 1$) = (2, 5) noktasıdır.

Seçenek	A	B	C	D	E
Yüzde %	31,97	0,82	0	0,82	0,82

Soruda verilenlere göre aşağıdaki tabloyu oluşturursak

	1. kademe	2. kademe
Ali	○ (3 puanlık)	$3 \times 3 = 9$
Beren	□ (4 puanlık)	
Cansu	□ (4 puanlık)	$4 \times 4 = 16$
Deniz	○ (3 puanlık)	$3 \times 5 = 15$
Eylem	△ (5 puanlık)	$5 \times 1 = 5$

58. Verilen bilgilere göre;

Beren 5 isabet yapmış olamaz, çünkü yalnız Deniz beşte beş isabet yapmıştır.

4 isabet de yapmış olamaz, çünkü en yüksek puanı Cansu toplamıştır.

3 isabet de yapmış olamaz, çünkü Deniz ile Eylem'in topladıkları puan Ali ile Beren'in topladıkları puandan fazla olmalıdır.

Bu durumda 1 ya da 2 isabetli atış yapmış olabilir.

Seçenek	A	B	C	D	E
Yüzde %	0	44,26	11,48	2,46	0,82

59. Yarışmada en az isabet sağlayan kişi Eylem olarak verilirse, bu durumda Beren'in en az 2 isabet sağlaması gerekir. ($4 \times 2 = 8$ puan)

$$\text{A seçeneğinde Ali ile Eylem} = 9 + 5 = 14 \text{ puan}$$

$$\text{B seçeneğinde Ali ile Deniz} = 9 + 15 = 24 \text{ puan}$$

$$\text{C seçeneğinde Cansu ile Eylem} = 16 + 5 = 21 \text{ puan}$$

$$\text{D seçeneğinde Beren ile Deniz} = 8 + 15 = 23 \text{ puan}$$

$$\text{E seçeneğinde Deniz ile Eylem} = 15 + 5 = 20 \text{ puan}$$

Sonuç olarak en fazla puanı Ali ile Deniz birlikte toplamıştır.

Seçenek	A	B	C	D	E
Yüzde %	0	40,98	10,66	4,10	0

60. Tablo incelenirse Beren'in Ali'yi geçme ihtimali olmadığından sıralama

Cansu > Deniz > Ali > Beren > Eylem

ya da

Cansu > Deniz > Ali > Eylem > Beren

şeklinde olacaktır.

Her iki durumda da Ali 3. olmuştur.

Seçenek	A	B	C	D	E
Yüzde %	0	1,64	48,36	4,92	2,46

kısayol yayıncılık

GENEL KÜLTÜR

1. İlk Türk toplulukları konar - göçer yaşam biçimini tercih etmişlerdir. Bu nedenle daha çok taşınabilir malzeme ile elde edilen eşyalar ve barınaklar yapmışlardır. Seçeneklerdeki at koşum takımları ve kıl çadırlar taşınabilir özellik taşımaktadır. Taş evler ise yerleşik hayatın bir gerekliliği ve sonucudur.

Seçenek	(A)	(B)	(C)	(D)	(E)
Yüzde %	0,82	10,66	0	87,70	0,82

2. Divanıarz ya da Divanıarz denilen divanda askerî işler görüldü. Başında Emiriazr adı verilen görevli bulunurdu.

Not: Seçeneklerde verilen divan çeşitleri genel kabul görenlerdir. Oysaki bazı Türk İslam devletlerinde çeşitlilikler göstermişlerdir. Hükümdar ve ailesi ile ilgili mali işlere bakan divanlar bazen ayrılmışlardır. Gaznelilerde bu divana divanivekalet denilmiştir.

Seçenek	(A)	(B)	(C)	(D)	(E)
Yüzde %	2,46	9,02	64,75	4,92	4,92

3. Soru kökünde verilen bilgilere göre hanlar, köprüler, kervansaraylar, camiler ve yollar sosyal devletin gereğidir. Kervansaraylar ve hanlar ticaretin gelişmesini de sağlamıştır. Mimari alanda sayılan yapılar gelişme göstermiştir. Camilerin yapılması, çeşitli hayır işlerinin yapılması (sadakaicariye geleneği) İslami geleneğe bağlı kalındığını gösterir. Halifeliğin korunduğuna dair bir bilgi yoktur.

Seçenek	(A)	(B)	(C)	(D)	(E)
Yüzde %	0,82	95,08	1,64	1,64	0

4. Edirne-Segedin Antlaşması (1444) II. Murat Dönemi'nde yapılmıştır. (Osmanlı - Macar Antlaşması) Sırp Krallığı yeniden kurulmuş ancak Osmanlılara vergi verme şartını kabul etmiştir. Antlaşma 10 yıllık yapılmıştır. İstanbul Kuşatması, 1391, 1395 ve 1400 yıllarında Yıldırım Beyazıt Dönemi'nde Osmanlılar tarafından üç defa kuşatılmış ancak alınamamıştır. Varna Savaşı (1444) Edirne-Segedin Antlaşması'nın bozulması üzerine çıkmıştır. Osmanlılar Balkan egemenliğini kuvvetlendirmiştir. II. Kosova Savaşı sonrasında (1448) Balkanlarda Türk egemenliği kesinleşmiştir. Haçlılar taarruzu bırakıp savunmaya çekilmiştir. Kırım'ın fethi (1475) Fatih Dönemi'nde olmuştur.

Seçenek	(A)	(B)	(C)	(D)	(E)
Yüzde %	4,10	0	7,38	63,11	5,74

5. **Beytül Hikme:** Abbasiler Dönemi'nde açılan kütüphane, akademi ve tercüme bürosuna verilen isim

Bedesten: Osmanlılarda çeşitli malların satıldığı kapalı çarşılar

Karum: Kayseri Kültape'de Asurluların açtığı ticaret yerleri

Kolezyum: Romalılar Dönemi'nde gladyatör dövüşlerinin yapıldığı yerler

Kurgan: Eski Türklerde bir tür mezara verilen isim

Seçenek	(A)	(B)	(C)	(D)	(E)
Yüzde %	0,82	88,52	4,92	0,82	0

6. Türklerin İslam'ı kabul etmesiyle başlayan güzel yazı yazma sanatıdır. Hat levhalara yazılıyorsa "sülüs", dini kitaplara yazılıyorsa "nesih" olarak adlandırılmıştır. Hattatların eserlerini icra ettikleri yerlere Hattathane denilmiştir.

Meşkhane: Daha çok müzik işleriyle uğraşanların yeridir.

Cambazhane: Osmanlılarda eğlenme çeşitlerinden biri olan cambazlık (ipte yürüme) cambazhanelerde yapılırdı.

Mehterhane: Mehter askeri, savaşa motive eden bir çalgı ve müzik sistemidir. Osmanlılarda 12 mehter takımı olmuştur. Mehterhane'de eğitim almışlardır.

Şifahane: Hastanelere verilen isimdir.

Seçenek	(A)	(B)	(C)	(D)	(E)
Yüzde %	1,64	0	94,26	0	0

7. Osmanlı Devleti'nin merkez ve taşra yönetim biçimi farklıdır. İstanbul dışındaki yerlere taşra denilmiştir.

Beylerbeyi: Anadolu ve Rumeli diye ikiye ayrılarak 1. Murat ve Yıldırım Beyazıt Dönemi'nde kurulmuştur. Eyaletlerin bağlı oldukları yerlerdir. Başlarında Beylerbeyi denilen idareci bulunurdu.

Eyalet: Birkaç ilin bağlı olduğu şehirlerdir.

Liva: İl ile kaza arasındaki yönetim yeridir.

Mezra: Köy statüsü dışında daha çok hayvancılıkla uğraşanların oluşturdukları birkaç aileden ibaret yerlerdir.

Seçenek	(A)	(B)	(C)	(D)	(E)
Yüzde %	11,48	24,59	33,61	0,82	18,03

8. 1606 Zıtvatorok Antlaşması'yla Osmanlı Devleti Avusturya'dan 1533 İstanbul Antlaşması'yla aldığı siyasi ve ekonomik üstünlüğü kaybetmiştir. Bu durumun temel nedenleri ise Anadolu'da Celali İsyanlarının çıkması ve İran ile girilen savaştır. (1603 - 1611 Osmanlı - İran Savaşları).

Seçenek	(A)	(B)	(C)	(D)	(E)
Yüzde %	9,84	12,30	2,46	54,10	0,82

9. Coğrafi Keşiflerden sonra Avrupa'ya bol miktarda altın ve gümüşün girmesi ve Avrupalıların bunu Osmanlı pazarında kullanması Osmanlı ekonomisini olumsuz etkilemiştir. Akçenin değeri düşmüş, enflasyon artmış, üretim olumsuz etkilenmiş ve düşmüştür. Ticaret yollarının değişmesiyle Osmanlı ekonomisi olumsuz etkilenmiştir. Zenginleşen Avrupalı tüccarlarla Osmanlı tüccarları rekabet edememiştir. Osmanlı ülkesi ancak ham madde pazarı olabilmıştır. Osmanlı Devleti ticareti geliştirmek için Avrupalı devletlere çeşitli kapitülasyonlar vermiş bu durum iç pazarı olumsuz etkilemiştir.

Seçenek	(A)	(B)	(C)	(D)	(E)
Yüzde %	4,10	79,51	9,84	0,82	1,64

10. A, B, C ve D seçeneklerdeki gelişmeler Lale Devri gelişmeleridir. Avrupa'ya ilk kez geçici elçilikler açılmıştır. Yirmi Sekiz Mehmet Çelebi Fransa'ya ilk elçi atanmıştır. Bu dönemde Batı'daki gelişmeler takip edilmek istenmiştir. Batı tarzı mimari eserler ilk kez bu dönemde yapılmıştır. Klasik Dönem mimarisi dışındaki ilk uygulamadır. Resim ve minyatür sanatı çalışmalarını artmıştır. Batılılaşma gereği resim gelişmiştir. Maliyeyi düzenlemek için ilk denk bütçe çalışmasını 17. yüzyıl ıslahatları içinde Tarhuncu Ahmet Paşa yapmıştır.

Seçenek	(A)	(B)	(C)	(D)	(E)
Yüzde %	3,28	1,64	0,82	10,66	78,69

11. Mısır Sorunu Osmanlı Devleti'nin bir iç sorunu iken Hünkar İskelesi Antlaşması ile dış sorun hâline gelmiştir. İngiltere, Rusya'nın Osmanlı Devleti üzerindeki gücünü kırmak için her yolu denemiştir. Osmanlı Devleti ise zamanla İngiltere'nin desteğini almak için birçok taviz vermiştir. 1838 Balta Limanı Ticaret Antlaşması'na göre;

- İngiltere dilediği miktarda ham maddeyi satın alabilecektir.
- İç ticarete yer alacaktır.
- İngilizlerin transit ticaretinden vergi alınmayacaktır.
- İngilizlerden %3 vergi alınacaktır.
- İngilizler en imtiyazlı tüccar olacaktır.

Seçenek	(A)	(B)	(C)	(D)	(E)
Yüzde %	0,82	69,67	1,64	7,38	2,46

12. 1853-1856 Osmanlı-Rus Savaşı'nda İngiltere, Fransa ve Pi-yomente devletleri Osmanlı Devleti'ne yardım etmiş ve Rusları Karadeniz'de yenmişlerdir. İngiltere, Osmanlı Devleti'ni koruma çabalarına girmiştir. Her üç öncüde de verilen sonuçlar 1856'da imzalanan Paris Antlaşması'nın maddeleri arasında yer almaktadır.

Seçenek	(A)	(B)	(C)	(D)	(E)
Yüzde %	9,84	3,28	3,28	68,03	3,28

13. Teşkilatmahsusa 1. Dünya Savaşı yıllarında İttihat ve Terakki tarafından kurulmuştur. Eşref Edip, Mehmet Akif Ersoy gibi şahsiyetler görev almıştır. Kurtuluş Savaşı yıllarında Mim Mim Grubu önemli görevler ifa etmiştir. Teşkilatiasasiye 1921 Anayasası'dır. Heyet-i temsiliye, ilk kez Erzurum Kongresi daha sonra Sivas Kongresi'nde oluşturulmuştur. Teali İslam, Sulh ve Selameti Osmaniye Fırkası zararlı cemiyetlerdendir.

Seçenek	(A)	(B)	(C)	(D)	(E)
Yüzde %	54,92	10,66	13,11	1,64	3,28

14. Wilson Prensiplerinden olan "Galip devletler mağlup devletlerden toprak ve savaş tazminatı almayacaktır.", "manda ve himaye" ve "savaş ödentisi" şeklinde değiştirmişlerdir. Kendi kendini yönetemeyecek devlet ya da toplulukların büyük bir devlet tarafından yönetilmesini benimseyerek uzun süre sömürge ve işgal anlayışlarını devam ettirmişlerdir.

Seçenek	(A)	(B)	(C)	(D)	(E)
Yüzde %	1,64	72,13	1,64	6,56	13,11

kısayol yayıncılık

15. Erzurum Kongresi'nin toplanma kararı Şark Vilayetleri Müdafaa-i hukuku Milliye (Doğu Anadolu Müdafai Hukuk Cemiyeti) tarafından alınmıştır. Trabzon, Erzurum, Bitlis ve Sivas illerini kapsayan bir kongre toplanması istenmiş ve Mustafa Kemal Paşa'da buraya davet edilmiştir. Amacı Pontus Rumları ve Ermenilerle mücadele etmektir. Trakya Paşaeli Cemiyeti; Doğu Trakya'nın Yunanistan'a katılmasını engellemeyi amaçlamıştır. İzmir Müdafaa-i hukuku Milliye Cemiyeti ise İzmir ve çevresinin Yunanlılar ve Rumlar tarafından ele geçirilmesini engellemek istemiştir.

Seçenek	A	B	C	D	E
Yüzde %	63,11	4,10	0,82	9,02	4,10

16. Mustafa Kemal Paşa işgallere karşı Osmanlı padişah ve hükümetinin teslimiyetçi tavrının ancak Mebusan Meclisinin toplanmasıyla kırılacağına inanmıştır. Bu nedenle seçilmiş gelen meclisin millî kararlar alacağına inanmıştır. Bu inancın haklılığı Misakımillî kararları ile görülmüştür. Ayrıca Osmanlı Hükümeti'nin meclis tarafından denetlenmesi, işgal güçlerinin istedikleri gibi karar çıkartmalarını engellemek amacıyla yapılmıştır.

Seçenek	A	B	C	D	E
Yüzde %	12,30	12,30	3,28	31,97	28,69

17. I. TBMM kurucu meclis niteliği taşımasına rağmen tepkilerin çıkarmaması için "Olağanüstü Meclis" ismini kullanmıştır. Cumhuriyet 1923'te ilan edildiği için bu isim daha sonra kullanılmamıştır. Saltanat şurası Osmanlı Dönemi'yle ilgilidir. Padişahın başında bulunduğu bir kuruldur.

Seçenek	A	B	C	D	E
Yüzde %	60,66	18,03	2,46	0,82	10,66

18. Birinci İnönü Savaşı (6 – 10 Ocak 1921)
Tekalif-i Milliye Emirlerinin yayınlanması (8 Ağustos 1921)
Mudanya Ateşkes Antlaşması (11 Ekim 1922)
Tahrir-i Sükün Kanunu'nun çıkartılması (4 Mart 1925)

Seçenek	A	B	C	D	E
Yüzde %	66,39	1,64	0,82	2,46	9,02

19. Cumhuriyet 23 Nisan 1920'de ilan edilmiştir. Mustafa Kemal Paşa ilk Cumhurbaşkanı seçilmiştir. Meclis Hükümet Sistemi'nden Kabine Sistemi'ne geçilmiştir. Meclis ilk başkan olarak Fethi Okyar'ı seçmiştir. Cumhur Reisi ise ilk Başbakan olarak İsmet Paşa'yı atamış ve ondan kabinesini kurmasını istemiştir.

Seçenek	A	B	C	D	E
Yüzde %	0	0	87,70	0	10,66

20. Erzurum Kongresi (23 Temmuz - 7 Ağustos 1919) ve Amasya Görüşmesi'nde (20 - 22 Ekim 1919) "Hristiyan halka siyasi hâkimiyetimizi ve sosyal dengemizi zedeleyici haklar verilemez." (Erzurum Kongresi), "Azınlıklara hâkimiyetimizi bozacak haklar verilmeyecek." (Amasya Görüşmesi) kararları alınmıştır. Bu kararlar Medeni Kanun'da (1926) "Konsolosluk ve patrikhanelerin mahkeme kurma yetkileri kaldırılacaktır." maddesiyle tüm azınlıklar Türk hukuk sistemine tabi olmuştur.

Seçenek	A	B	C	D	E
Yüzde %	23,77	58,20	2,46	8,20	1,64

21. Halifelik 3 Mart 1924'te kaldırılmıştır.
Tevhid-i Tedrisat Kanunu 3 Mart 1924'te çıkartılmıştır.
Harf İnkılabı 1 Kasım 1928'te kabul edilmiştir.
Medeni Kanun 17 Şubat 1926'da kabul edilmiştir.
Kapotaj Kanunu 1 Temmuz 1926'da çıkartılmıştır.

Seçenek	A	B	C	D	E
Yüzde %	4,92	0,82	40,98	5,74	27,87

22. Şapka İhtisap Kanunu (25 Kasım 1925) ile erkeklere şapka giyme mecburiyeti getirilmiştir. Diyanet İşleri Başkanı, Rum Patriği, Ermeni Patriği ve Hahambaşı dışındakilerin ibadethane dışında dinî kıyafetlerle gezmesi ve bu kıyafetleri giymesi yasaklanmıştır. Böylece halk eşit hâle getirilmiştir.

Seçenek	(A)	(B)	(C)	(D)	(E)
Yüzde %	1,64	3,28	0,82	2,46	84,43

23. II. Dünya Savaşı'na filen Türkiye katılmamasına rağmen Almanya'nın Yunanistan'ı işgal ederek sınırlarına dayanması askerî anlamda hazırlığı gerekli kılmıştır. Bu amaçla vergi artırım, ekonomik kısıtlamalar, malın dışarıya çıkmasını önleme ve fiyat artışını engelleme (Narh uygulaması), toprak mahsullerinden vergi alınması gibi uygulamalara gidilmiştir. Savunma giderlerinin artırılması daha çok vergi toplanmasını ve insanların ekonomik kayba uğramasına ayrıca diğer alanlara yatırımların yapılmasına neden olmuştur. Savunma giderleri azaltılmamıştır.

Seçenek	(A)	(B)	(C)	(D)	(E)
Yüzde %	59,84	13,93	0	4,92	5,74

24. Her üç öncülde de ayrımcılığın ve eşitsizliğin giderilmesi verilmiştir. Herkesin egemenliği paylaşma ve hukuk önünde eşit kabul edilmesi, ayrımcılığa tabi tutulmaması halkçılığın demokratik özellik gösterdiğini gösterir. Atatürk halkçılığında din, dil, mezhep, ırk, cinsiyet ayrımı gözetmeden devletin herkese eşit davranması, kanun önünde eşitlik, egemenliğin paylaşılması (eşit bir şekilde) yer almaktadır.

Seçenek	(A)	(B)	(C)	(D)	(E)
Yüzde %	0,82	0,82	0	0	96,72

25. Briand-Kellog Paktı (27 Ağustos 1928) Fransız Dış İşleri Bakanı Aristide Briand ve ABD Dış İşleri Bakanı Kellog'un adlarından oluşmaktadır. 1927'de Briand "savaşın kanun dışı ilan edilmesi" önerisini götürdüğü ABD Dış İşleri Bakanı Kellog "savaşı bir ulusal politika aleti olarak kullanmaktan vazgeçme" politikasıyla destek verdi. Böylece pakıt 1928'de ABD, İngiltere, Fransa, Almanya, İtalya, Japonya, Polonya, Belçika ve Çekoslovakya devletleri kabul ederek onayladılar. Her üç öncül de pakıtın oluşmasının temel fikridir.

Seçenek	(A)	(B)	(C)	(D)	(E)
Yüzde %	0	7,38	0,82	4,92	48,36

26. ABD'nin 1946'dan sonra Sovyet Rusya'nın yayılmasını engellemek için yayılmaya maruz kalan ülkeleri ekonomik yönden koruma ve özgür Avrupa'yı ekonomik yönden kalkındırmayı amaçlamasıyla I. Truman Doktrini (1947) ve Marshall Planı (1947) ortaya çıkmıştır. Sovyet Rusya buna Molotof Planı ile cevap vererek uydularına yardımı amaçlamıştır.

Seçenek	(A)	(B)	(C)	(D)	(E)
Yüzde %	0,82	67,21	5,74	1,64	6,56

27. II. Ulusal Mimarlık Akımı, çağdaş mimarlık işlevlerinde, I. Mimarlık Akımı'ndan etkilenmiştir. I. Ulusal Mimarlık Akımı daha evrensel nitelikteki Osmanlı anıtsal mimarlığından kaynaklanırken II. Ulusal Mimarlık Akımı Anadolu'ya özgün sivil mimarlığın, özellikle de Türk evinin biçim dilinden etkilenmiştir. Dönemin yapılarında daha çok kesme taş kullanılmıştır. Dönemin en önemli eserleri Anıtkabir, İstanbul Fen ve Edebiyat Fakültesi, İstanbul Adalet Sarayı, Bursa Vali Konağı, Büyük Tiyatro, Ankara Saraçoğlu Mahallesi'dir. Ankara Lübnan Elçiliği I. Ulusal Mimarlık Akımı özelliği gösterir.

Seçenek	(A)	(B)	(C)	(D)	(E)
Yüzde %	3,28	6,56	5,74	6,56	3,28

28. Türkiye'de güneyden kuzeye gidildikçe,
I. Çizgisel hız azalır.
II. Ortalama sıcaklık azalır.
III. Grup ve tan süresi ise artar.

Seçenek	(A)	(B)	(C)	(D)	(E)
Yüzde %	6,56	69,67	3,28	11,48	7,38

29. Soruda verilen A, B, D ve E seçenekleri Türkiye'nin dağlık ve engebeli bir ülke olmasıyla ilişkili yargılardır. Ancak (C) I. jeolojik zamanda oluşmuş "masif" alanlarının varlığı Türkiye'nin jeomorfolojik değil jeolojik yapısıyla ilgili bir özelliktir.

Seçenek	(A)	(B)	(C)	(D)	(E)
Yüzde %	0	0,82	72,95	0	24,38

30. Soruda verilen;

- Çıldır, alüvyal set,
- Hazar, tektonik,
- Terkos, kıyı set,
- Tuz, tektonik göllerdir.

Amasya il sınırları içerisinde yer alan Borabay ise heyelan set gölüne örnektir.

Seçenek	(A)	(B)	(C)	(D)	(E)
Yüzde %	16,39	3,28	19,67	5,74	36,07

31. Soruda verilen, (I) Yıldız Dağları, (II) Antalya, (III) Samsun, (V) Van yöreleri, (IV) Şanlıurfa Yöresi'ne göre daha yoğun bitki örtüsüne sahip olduğundan erozyon riski daha azdır.

Seçenek	(A)	(B)	(C)	(D)	(E)
Yüzde %	8,20	5,74	1,64	74,59	4,92

32. Soruda verilen;

- A'da yükselti,
- B'de denizellik,
- C'de denizellik,
- E'de yükselti

faktörleri etkili olmuştur. Ancak (D) her ikisi de deniz kenarında bulunan Balıkesir'deki sıcaklıkların Kastamonu'dan fazla olması enlem yani güneş ışınlarının geliş açısına bağlı oluşan bir durumdur.

Seçenek	(A)	(B)	(C)	(D)	(E)
Yüzde %	12,30	2,46	2,46	61,48	13,93

- 33.



Ocak ayında I, III, IV ve V numaralı alanlardaki ortalama sıcaklık (II) nolu alandan daha fazla olacağından buralardaki bağıl nem miktarı (II) numaralı alandan daha az olacaktır.

Seçenek	(A)	(B)	(C)	(D)	(E)
Yüzde %	5,74	66,39	1,64	13,93	9,02

34. Soruda verilen;

- (I) Bursa'da Akdeniz,
- (II) Aksaray'da karasal,
- (III) Trabzon'da Karadeniz,
- (IV) Gaziantep'te Akdeniz iklim özellikleri görülmektedir.

Dolayısıyla Bursa ve Gaziantep'te Akdeniz iklim özellikleri görüldüğünden sorunun doğru cevabı C seçeneğidir.

Seçenek	(A)	(B)	(C)	(D)	(E)
Yüzde %	22,95	18,85	39,34	3,28	3,28

35. Türkiye nüfusuyla ilgili B, C, D ve E seçeneklerinde verilen bilgiler doğrudur.

A seçeneğinde yer alan yağış miktarının yüksek olduğu alanların tamamında ahşap meskenler var diyemeyiz. Zira bu tip yörelerde taş evlere de rastlanılır.

Seçenek	(A)	(B)	(C)	(D)	(E)
Yüzde %	27,05	1,64	6,56	5,74	55,74

- 36.



Mezraların ülkemizde en yaygın görüldüğü bölge Doğu Anadolu'dur. Dolayısıyla sorunun doğru cevabı (V) numaralı gösterilen Erzurum-Kars Yöresi'dir.

Seçenek	(A)	(B)	(C)	(D)	(E)
Yüzde %	4,92	5,74	25,41	13,93	42,62

37. Soruda verilen II. ve III. yargılara kesinlikle ulaşılar diyemeyiz. Ancak (I) aritmetik nüfus yoğunluğu kesinlikle artar diyebiliriz. Yöre sınırları değişmiyor ve buna karşılık insan sayısı artıyorsa aritmetik nüfus yoğunluğu artar.

Seçenek	A	B	C	D	E
Yüzde %	49,18	1,64	4,10	20,49	18,85

38. Soruda verilen fındık, üzüm, kayısı ve turuncgöğün ihracattaki payı daha çoktur. Ancak mısır ise daha çok ihraç edilen değil, ithal edilen bir tarım ürünüdür.

Seçenek	A	B	C	D	E
Yüzde %	2,46	4,92	5,74	29,51	52,46



(I) Ergene, (II) Tuz Gölü ve çevresi, (III) Şanlıurfa ve (IV) Samsun yöresinde kuraklığa dayanıklı tarım ürünlerinin ekim alanı geniştir.

Ancak (V) Batı Karadeniz dört mevsim yağışlı bir bölüm olduğundan kuraklık isteği olan tarım ürünlerinin yetişme alanı oldukça dardır.

Seçenek	A	B	C	D	E
Yüzde %	1,64	1,64	0,82	54,92	40,16

40. Kıl keçisinin yoğun olarak yetiştirildiği alanlarla ilgili (I) dağlık ve engebeli, (III) yaz kuraklığı belirgindir, ifadeleri söylenebilir. Ancak (II) bitki örtüsü çayırdır, diyemeyiz. Bu tip yörelerde bitki örtüsü ağırlıklı olarak makilere rastlanılır.

Seçenek	A	B	C	D	E
Yüzde %	13,11	1,64	13,93	68,85	1,64

41. Soruda verilen A, B, C ve D seçeneklerinde yer alan yörelerde ormanın kendini yenileyebilme gücü, E seçeneğinde verilen ve karasal iklimin hâkim olduğu Afyon Yöresi'nden daha yüksektir.

Seçenek	A	B	C	D	E
Yüzde %	0,82	1,64	6,56	16,39	72,95

42. Türkiye sanayisinde en büyük problem sermaye eksikliğidir. Bunun yanı sıra bazı madenlerde ham madde sıkıntısı yaşanabilmektedir.

Ancak (III) iş gücü konusunda Türkiye oldukça avantajlı konumda bulunan bir ülkedir.

Seçenek	A	B	C	D	E
Yüzde %	1,64	21,31	53,28	4,92	7,38

43. 2014 yılı itibariyle en son açılışı yapılan kara yolu tünelimiz Antalya - Mersin arasında yer alan "BOĞSAK" tüneldir.

Seçenek	A	B	C	D	E
Yüzde %	68,03	8,20	0	0	0,82

44. Palandöken → Erzurum,
 İshak Paşa Sarayı → Ağrı,
 Ağrı Dağı → Ağrı,
 Muradiye Şelalesi → Van
 ilimizde yer almaktadır.

Malabadi Köprüsü ise Güneydoğu Anadolu Bölgesi'nin ili olan Diyarbakır sınırları içerisinde bulunmaktadır.

Seçenek	A	B	C	D	E
Yüzde %	3,28	4,10	2,46	57,38	26,23

45. Soruda verilen Antalya, İç Batı Anadolu, Yıldız Dağları ve Orta Fırat bölümlerinin demir yolu bağlantısı vardır.

Ancak (C) Hakkâri Bölümü'nün demir yolu bağlantısı bulunmamaktadır.

Seçenek	(A)	(B)	(C)	(D)	(E)
Yüzde %	45,90	0	36,07	9,02	0

46. – Yazılı olarak konulmuş kurallara **mevzuat** adı verilir.

– Mevzu Hukuk = Yürürlükte Olan + Yazılı Hukuk Kuralları

Anayasa, kanun, kanun hükmünde kararname, milletlerarası antlaşmalar, tüzükler, yönetmelikler Türk hukuk mevzuatına örnek olarak verilebilir.

Seçenek	(A)	(B)	(C)	(D)	(E)
Yüzde %	1,64	68,03	0,82	5,74	10,66

47. Sınırlı ehliyetliler;

- Ayırt etme gücüne sahip küçükler
- Ayırt etme gücüne sahip kısıtlılardır.

Seçenek	(A)	(B)	(C)	(D)	(E)
Yüzde %	33,61	4,10	18,85	7,38	19,67

48. – Kişileri veya şeyleri devlete bağlayan hukuki veya siyasi bağa **uyrukluk** denir.

- Devlete uyrukluk bağı ile bağlı olan gerçek kişilere **vatandaş** adı verilir.
- Kişiler, **gerçek ve tüzel kişiler** iken şeyler gemi ve uçaklardır.
- Doğumla kazanılan uyrukluğa **asli uyrukluk** denir.
- Kişinin doğumdan sonra kazandığı uyrukluğa **kazanılmış uyrukluk** adı verilir.

Seçenek	(A)	(B)	(C)	(D)	(E)
Yüzde %	0,82	18,85	1,64	39,34	16,39

49. – Ölümüne kesin gözle bakılacak bir hâlde kaybolan ve cesedi bulunamayan kişi ölmüş sayılır. Buna **ölüm karnesi** adı verilir.

- Birden fazla kişiden hangisinin önce hangisinin sonra öldüğü ispat edilemezse hepsi aynı anda ölmüş sayılır. Buna **birlikte ölüm karnesi** adı verilir.

- Ölüm olayları **10 gün** içerisinde nüfus müdürlüğüne bildirilir.

- Ölüm karnesi ve birlikte ölüm karnesi **adi karnedir**.

- Ölen bir kişinin kişilik hakları sona ererken mal varlığı hakları kanuni mirasçılara geçer.

Seçenek	(A)	(B)	(C)	(D)	(E)
Yüzde %	10,66	4,92	0	0	67,21

50. 1924 Anayasası çoğunlukçu demokrasi modelini benimsemiştir. Çoğunlukçu demokrasi veya mutlak demokrasi çoğunluğun kararlarının uygulandığı ve bu kararların mutlak olduğu demokrasi çeşididir.

Seçenek	(A)	(B)	(C)	(D)	(E)
Yüzde %	3,28	9,84	27,05	4,92	3,28

51. Milletvekilinin meclis çalışmalarına **1 ay içinde toplam 5 birleşim günü** katılmaması hâlini, Türkiye Büyük Millet Meclisi Başkanlık Divanı tespit ettikten sonra, milletvekilinin vekilliğinin düşürülmesine Türkiye Büyük Millet Meclisi Genel Kurulunun salt çoğunluğunun oyu ile karar verilir.

Seçenek	(A)	(B)	(C)	(D)	(E)
Yüzde %	5,74	70,49	5,74	0,82	0

52. Geçici Bakanlar Kurulu için güvenoyuna başvurulmaz. Geçici Bakanlar Kurulu, yenilenme kararının Resmî Gazete'de ilanından itibaren 5 gün içinde kurulur. TBMM genel seçimlerinden önce, Adalet, İç İşleri ve Ulaştırma Bakanları çekilir. Geçici Bakanlar Kurulu seçim süresince ve yeni meclis toplanıncaya kadar vazife görür.

Seçenek	(A)	(B)	(C)	(D)	(E)
Yüzde %	3,28	4,92	0,82	20,49	40,98

53. Hâkimlerin görevlerini; herhangi bir baskı ya da tehditle karşılaşmaksızın, tam bir serbestlik, tarafsızlık ve huzur ortamı içinde gerçekleştirebilmeleri için öngörülen önlemlerin bütününe "hâkimlik teminatı" adı verilir.

Hâkimler ve savcılar;

- Azlunamaz.
- Kendileri istemedikçe anayasada gösterilen yaştan önce emekliye sevk edilemez.
- Bir mahkemenin veya kadronun kaldırılması sebebiyle de olsa, aylıklarından, ödeneklerinden ve özlük haklarından yoksun bırakılamaz.

Seçenek	(A)	(B)	(C)	(D)	(E)
Yüzde %	54,10	2,46	2,46	4,10	8,20

54. Taşra teşkilatı;

- İl Genel İdareisi,
- İlçe İdareisi,
- Bucak İdareisidir.

Taşra teşkilatının kamu tüzel kişiliği yoktur. Merkeze bağlı olarak devlet tüzel kişilikleri bulunmaktadır.

Seçenek	(A)	(B)	(C)	(D)	(E)
Yüzde %	4,10	16,39	49,18	3,28	7,38

55. Bu ödüle layık görülen Hakan Günday Türk edebiyat dünyasında adını henüz 24 yaşındayken yayımlanan "Kinyas ve Kayra" romanıyla duyuran Günday'ın 8 romanı var. 39 yaşındaki Günday "Ziyan" isimli romanıyla da 2014'te Türk - Fransız Edebiyat Ödülü'nün sahibi olmuştur.

(Bu soru daha önce hiç denenmemiştir.)

Cevap: C

56. Yüz ölçümü 44 hektar olan Vatikan yüz ölçümü bakımından dünyanın en küçük ülkesidir. Hukuki statüsü tartışmalı platform bir ada olan Sealand ise BM üyesi ülkeler tarafından ülke olarak kabul edilmemektedir. Nauru ise 220 km yüz ölçümü ile dünyanın en küçük ada ülkesidir.

(Bu soru daha önce hiç denenmemiştir.)

Cevap: E

57. Türkiye Radyo Televizyon Kurumu (TRT) idari ve mali özerkliğe kamu tüzel kişiliğine sahiptir. Radyo televizyon yayın hizmetini, tüm ülke düzeyinde merkezin hiyerarşisine girmeden sunar ancak herhangi bir alanda düzenleme denetleme yetkisi yoktur.

(Bu soru daha önce hiç denenmemiştir.)

Cevap: B

58. Avrupa Konseyi Parlamenterler Meclisi üyelerini, üye ülkelerin parlamentoları seçer. 318 asıl 318 yedek üyeden oluşmaktadır. Her üye devlete ayrılan parlamenter sayısı, söz konusu ülkenin nüfusuyla orantılıdır.

(Bu soru daha önce hiç denenmemiştir.)

Cevap: D

59. AİHM üyelerini, üye devletlerin göstereceği 3 aday arasından Avrupa Konseyi Parlamenterler Asamblesi (parlamenterler meclisi) seçer.

(Bu soru daha önce hiç denenmemiştir.)

Cevap: B

60. UNEP (Birleşmiş Milletler Çevre Kuruluşu) çevre etkinlikleri organize eden, gelişmekte olan ülkelere çevre politikaları konusunda yardımcı olan kuruluştur.

(Bu soru daha önce hiç denenmemiştir.)

Cevap: A

kısayol yayıncılık