

Bu testte 60 soru vardır.

1. Yalnızlığı konu alan romaniyle yayın dünyasına sessiz sedasız giren yazar, kıvrak dili, ilginç benzetmeleri ve sıra dışı üslubuyla yazının taşlarını yerinden oynattı.

**Bu cümledeki "yazının taşlarını yerinden oynatmak" sözüyle anlatılmak istenen aşağıdakilerden hangisidir?**

- A) Değişik yöntemlere başvurmak  
B) Yapıtıyla ses getirmek  
C) Alışılmıştın dışına çıkmak  
D) Dilin kurallarına uymamak  
E) Yazınımıza canlılık kazandırmak

2. Çocuk öyküsü yazan yazarların, çocukların fiziksel ve ruhsal ---- göz önünde bulundurmaları; onları geleceğe hazırlayacak, onlara ---- sağlayacak bilgileri eğlence ile birleştirerek sunmaları gerekir.

**Bu cümlede boş bırakılan yerlere sırasıyla aşağıdakilerden hangileri getirilmelidir?**

- A) gelişimlerini - yarar  
B) durumlarını - amaç  
C) yapılarını - öncelik  
D) sorunlarını - alışkanlık  
E) eğilimlerini - kazanç

3. I. Bir kokunun bir anı, bir yeri, bir kişiyi ya da bir olayı gizemli bir şekilde hatırlatması da işte bu yakın ilişki sayesinde gerçekleşiyor.  
II. Oysa koku duyusu ve hafıza, birbiriyle tahminimizden çok daha yakından ilişkilidir.  
III. Koku hafızası denilen bu gizem, deneyimlerimizle ilgili aslında.  
IV. Duyduklarımızı ya da gördüklerimizi mi hatırlamak daha kolay, yoksa bir kokuyu mu?  
V. Yapılan araştırmalara göre göze ve kulağa gelen uyarılar bazen çabuk unutulabiliyor, karıştırılabiliyor ya da bazı etkenler bu uyarıların öğrenilmesini etkileyebiliyor.

**Yukarıdaki numaralandırılmış cümleler anlamlı bir bütün oluşturacak biçimde sıralandığında hangisi sonuncu cümle olur?**

- A) I      B) II      C) III      D) IV      E) V

4. I. Kuzey Buz Denizi'yle ilgili olarak kötü haberlerin sonu pek gelmeyecek gibi.  
II. Bilim insanlarının bildirdiklerine göre, bölgedeki deniz buzları yalnızca yazın değil, kışın da erimekte.  
III. Raporlara göre 2019 ve 2020 yıllarında 'kış buzu' son 26 yıldaki ortalamaya göre %6 kadar azalmış durumda.  
IV. Araştırmacılar bu değişikliği de doğrudan küresel ısınmaya bağlıyorlar.  
V. Bu, oldukça önemli bir miktarı işaret ediyor.

**Yukarıdaki numaralanmış cümlelerin anlamlı bir bütün oluşturabilmesi için hangileri yer değiştirmelidir?**

- A) I ve II      B) I ve V      C) II ve III  
D) III ve IV      E) IV ve V

5. Muz ve elma, yurdumuzda dört mevsim en çok tüketilen iki meyvedir.

**Bu cümleden, aşağıdakilerin hangisine kesin olarak ulaşılabılır?**

- A) Muz ve elma yurdumuzda en çok üretilen meyvelerdir.
- B) Muz ve elmanın dışında yıl boyunca tüketilen meyveler de vardır.
- C) Yurdumuz muz ve elma tüketiminde dünyanın önde gelen ülkelerindedir.
- D) Yurdumuzda muz ve elmanın dışında pek meyve tüketilmektedir.
- E) Muz ve elma dört mevsim üretilbildiği için en çok tüketilen meyvelerdir.

6. Köpek balığı saldırıları en çok Avustralya'da görülüyor ama burada arı sokmalarıyla ölenler, köpek balığı saldırılarından ölenlerden 100 kat daha fazla.

**Bu cümleden, aşağıdakilerin hangisine kesin olarak ulaşılabılır?**

- A) Köpek balığı saldırıları en fazla Avustralya'da görülse de arı sokmalarının neden olduğu kadar ölüme yol açmamaktadır.
- B) Avustralya'daki ölümlerin büyük bir bölümü arı sokması ve köpek balığı saldırılarıyla meydana gelmektedir.
- C) İnsanlar için arı, köpek balığından daha büyük bir tehdit oluşturmaktadır.
- D) Köpek balığı ve arı, Avustralya'da yaşayan insanlar için en büyük tehdit gibi görülmektedir.
- E) Dünyada arı sokmalarına bağlı ölümler en çok Avustralya'da görülmektedir.

7. (I) Yakıt pilleri, verimli ve temiz olduğundan geleceğin enerji kaynağı olacak gibi görünüyor. (II) Yakıt pilleri, aslında çok da yeni bir teknoloji değil. (III) Yaklaşık 160 yıl önce icat edilmesine karşın, 1950'li yıllarda, uzay araçları için enerji kaynakları aranırken ciddi olarak ele alındı. (IV) O günden bu yana yakıt pilleri uzay araçlarında kullanıldı. (V) Günümüzde, uzay mekiklerinin enerjisi de yakıt pillerinden elde ediliyor.

**Yakıt pillerini konu alan bu parçadaki numaralanmış cümlelerle ilgili olarak aşağıda verilenlerden hangisi yanlıştır?**

- A) I. cümlede, bir çıkarımda bulunulmuştur.
- B) II. cümlede, bir saptama yapılmıştır.
- C) III. cümlede, zaman içinde önem kazanma nedeni üzerinde durulmuştur.
- D) IV. cümlede, bir önceki cümlede belirtilen yargının gerekçesi belirtilmiştir.
- E) V. cümlede, kullanım alanının genişlemesi örneklendirilmiştir.

8. (I) İnsan dilinin kökeni dil bilimciler arasında uzun yıllardır kapsamlı olarak araştırılan ve tartışılan bir konu. (II) Buna rağmen hâlâ dilin kökeni ve yaşı konusunda henüz bir fikir birliği sağlanmış değil. (III) Bu konudaki çalışmalar 1990'lı yılların başından itibaren dil bilimciler, arkeologlar, psikologlar, genetikçiler ve antropologlar tarafından yeni yöntemlerin kullanılmaya başlanması ile birlikte hız kazanmış. (IV) Günümüzde insan dilinin bağımsız olarak kaç kez değişim gösterdiği tam olarak bilinmiyor. (V) Hem arkeolojik kayıtlar hem de genetik çalışmalar modern, konuşan insanın atasının Afrika kökenli olabileceğini savunuyor.

**Bu parçadaki numaralanmış cümlelerin hangisi, düşüncenin akışını bozmaktadır?**

- A) I
- B) II
- C) III
- D) IV
- E) V

9. Fabrika dumanlarında resmin

Kirli ve temiz haritaları doldurmuşsun

Hatırasız ve geleceksiz bir iç deniz gibi

Aşka veda etmiş topraklarda durmuşsun

**Bu parçada, aşağıdaki ses olaylarından hangisi vardır?**

- A) Ünlü düşmesi
- B) Ünsüz türemesi
- C) Ünlü daralması
- D) Ünsüz değişimi
- E) Ünsüz benzeşmesi

10. Her şeyin sustuğu şu saatlerde, şairlere ilham veren kızıl ufuklar, bir günün daha sona erdiğini tüm canlılara haber veriyordu.

**Bu cümlelerin öge dizilişi, aşağıdakilerden hangisiyle özdeş-tir?**

- A) Sokakta gezinen insanlar, gecenin geç saatlerinde, lunapar-kın ışıklarının yanıp söndüğünü görebiliyorlardı.  
B) Züccaciye dükkânının raflarında birbirinden güzel cam kaplar gelişigüzel dizilmişti.  
C) Her yıl 23 Nisan'da kardeşim ve ben kırtasiyeden aldığımız rengârenk süslerle odamızı baştan aşağı süslerdik.  
D) Bahar gelip de dağlardaki karlar eriyince o coşkun akan çay ve dereler, ovanın verimli topraklarını denize sürüklerdi.  
E) Av sezonu başladığında, ihtiyar balıkçı, motorlu teknesine bi-nip denize açılırdı.

11. Günümüzde insanların daha sağlıklı ve daha uzun yaşam

sürmelerinde, Sanayi Devrimi'nin, bilim ve teknoloji-deki  
ilerlemelerin büyük payının olduğu inkâr edilemez.

**Bu parçadaki altı çizili sözcüklerin yapısıyla ilgili olarak aşağıdakilerin hangisi söylenemez?**

- A) I. sözcük, birden çok yapım eki almıştır.  
B) II. sözcük, yapıca basittir.  
C) III. sözcük, fiilden isim yapım eki almıştır.  
D) IV. sözcük, ses düşmesi görülen bir sözcüktür.  
E) V. söz, birleşik fiildir.

12. Aşağıdaki cümlelerin hangisinde ad tamlaması cümlelerin farklı bir ögesi olmuştur?

- A) Annem gümüş takımlarını yalnız misafir gelince kullanıyor.  
B) Kuşun kanadını sıkıştırdığı yerden güçlükle çıkarmıştı.  
C) Turistler kilimin desenini çok beğendiler.  
D) Kardeşim yine ödev defterimin sayfalarını karalamış.  
E) Akşama doğru yağmurun şiddeti iyice artmıştı.

13. Alacahöyük Çorum'un Alaca ilçesinin kuzeybatısında,

bugün Horamözü denen köyün yerinde bulunan çok katmanlı eski bir yerleşim merkezidir. Burası tarih öncesinde ve sonraki

çağlarda, önemli bir yaşama alanı olmuştur.

Türk Tarih Kurumu adına höyükte yapılan kazılarda dört kültür

çağı ortaya çıkarılmıştır. Bunların en eskisi olan IV. kültür çağı

MÖ 3200 - 2600 yıllarına rastlar ve Kalkolitik Çağ özellikleri gösterir.

**Bu parçadaki numaralanmış sözlerden hangisinin yazımı yanlıştır?**

- A) I      B) II      C) III      D) IV      E) V

14. Çitlerle çevrilmiş bahçeye girince önce güller (I) zambaklar (II) sonra çiçek açmış erik (III) elma ağaçları dikkatimizi çekiyor. Bu küçük ilçe-deki (IV) böylesine güzel bir yerin varlığı ruhumuza huzur veriyor (V) bizi sonsuz bir sevincin kollarına bırakıyordu.

**Bu parçada ayrıca belirtilen yerlerden hangisine virgül (,) dışında bir noktalama işareti getirilmelidir?**

- A) I      B) II      C) III      D) IV      E) V

15. Sabah uyanınca koltuk altından ölçülen normal vücut sıcaklığı 36,3 ile 37,1 °C arasında değişir. Vücut sıcaklığını ayarlayan merkez, beynimizdeki hipotalamustur. Hipotalamustaki bu merkez bir termostat gibi çalışır. Hipotalamik termostatın ayar noktası 37,1 °C'dir. Vücudun iç sıcaklığı koltuk altı sıcaklığından daha yüksektir, beyin sıcaklığı da vücudun iç sıcaklığı kabul edilir. Beyin sıcaklığı 37,1 derecenin altına düşerse hipotalamustaki ısı üretimini sağlayan ve aynı zamanda ısı kaybını engelleyen mekanizmalar devreye sokulur. Vücut sıcaklığı bu derecenin üstüne çıkarsa ısı üreten mekanizmaların durdurulup ısı kaybına yol açan mekanizmaların çalıştırılması sağlanır.

**Bu parçanın konusu, aşağıdakilerin hangisinde en doğru biçimde verilmiştir?**

- A) Vücut sıcaklık değerlerinin gün içindeki değişimi  
B) Vücut sıcaklığını etkileyen faktörler  
C) Hipotalamusun vücut sıcaklığını düzenleme işlevi  
D) Beynin ısını dengeleyen termostat sistemi  
E) Vücut ısısının ölçümünde koltuk altının önemi

16. Son günlerde, usta ozan ve yazarlara öykünmekte bir yanlışlık görmeyen bazı sanatçılar ortaya çıktı. Onlara göre sanat eseri güzel olsun, gerisi önemli değil. Özgünlük için uğraşmayı boş bir çaba olarak görürler. Çünkü nasıl olsa her yöntem denenmiş, her konu işlenmiştir. Yeni bulacağım diye uğraşmak boşunadır. Yeter ki eser dikkat çekici olsun. Eleştirmenlere kulaklarını tıkayan bu sanatçılar, asıl ölçüt olarak okuru görürler. Eğer eserleri okunuyorsa yaptıkları iş güzel, gittikleri yol doğrudur.

**Bu parçada sözü edilen sanatçılarla ilgili olarak aşağıdakilerden hangisi çıkarılamaz?**

- A) Sanatta güzelliğe önem verdikleri
- B) Okuru eleştirmenden üstün tuttukları
- C) Özgün olmak için çaba göstermedikleri
- D) Yapıtlarında farklı konulara değindikleri
- E) Başka yazarlardan yararlanmaktan çekinmedikleri

18. Kentin kuzeydoğusundaki yalçın kayalara sırtını dayayan kale, yöre tarihine de tanıklık ediyor. Duvarları yedi metre genişlikte, otuz beş metre yüksekliktedir. Güneyinde Korkulu Kule denilen yüksek bir burcu vardır. Kale içinde iki yüz civarında ev, han, saray, kiler olarak kullanılan mağaralar, medrese ve su yolları... Zamanla meydan okurcasına dimdik ayakta kalmayı başaran kale, tüm ihtişamıyla kente tepeden bakıyor. Daha yıllarca yerli ve yabancı turistlerin ilgi odağı olmaya devam edeceğe benziyor.

**Bu parçanın anlatımıyla ilgili olarak aşağıdakilerden hangisi söylenemez?**

- A) Görsel öğelere yer verilmiştir.
- B) Anlatanın duygusu yansıtılmıştır.
- C) Karşılaştırmadan yararlanılmıştır.
- D) Kişileştirmeye başvurulmuştur.
- E) Eksilteli cümle kullanılmıştır.

17. Ünlü serüven romanı yazarı, hızlı yazabilmek için çocukluğunda gördüğü bir mobilya ustasını taklit etti. Usta, yapacağı mobilyanın önce resmini çiziyor; sonra kalfalarını çağırıp bu mobilyaların nerede kullanılacağını ve ne işe yarayacağını anlatıyordu. Sonra parçaları ayrı ayrı çizip ölçeklerini belli ediyor, bunları kalfalarına paylaşıyordu. Ustaya, kalfaların hazırladığı parçaları birleştirmek kalıyordu. Usta yazar da böyle yaptı. Yazacağı romanın karakterlerini belli ediyor, sonra sekreterlerine karakterlere uygun malzeme toplamalarını söylüyordu. Yazara da bu malzemeyi etkileyici üslubu ve sağlam diliyle birbirine eklemek kalıyordu.

**Bu parçada, sözü edilen yazarla ilgili olarak aşağıdakilerden hangisi çıkarılamaz?**

- A) Yazarken, çocukluğunda etkilendiği marangozun yöntemini kullanmıştır.
- B) Eserlerini önce taslak biçiminde oluşturmuştur.
- C) Hızlı yazabilmenin farklı yollarını aramıştır.
- D) Eserlerini oluştururken başkalarından yardım almıştır.
- E) Eserlerini bütünlükten önce yöntemle oluşturmuştur.

19. Ünü dört bir yana yayılmış usta ozandan şiir sanatının sırrını öğrenmek isteyen bir genç, ozanın kapısını çalar. Onu talebesi olarak kabul edip işin sırrını kendisine öğretmesini ister. Usta ozan, şu bin şairin bin şiirini ezberle, anlamlarını öğren gel, der. Genç gider, aylar süren bir çalışmadan sonra denileni yapar ve heyecanla çıkar ustasının huzuruna. Ustasının sorduğu tüm soruları eksiksiz cevaplar. Artık ben de şiir yazabilir miyim, der. Ustası, hayır henüz değil. Şimdi git bu şairlerin şiirlerini unut, gel; ondan sonra yazmaya başla der.

**Bu parçada sözü edilen usta ozanın genç şaire öğretmek istediği özellik aşağıdakilerden hangisidir?**

- A) Özlülük
- B) Doğallık
- C) Akıcılık
- D) Özgünlük
- E) Yalınlık

20. Sanatın etkisi içinden çıktığı toplumu anlatmasından gelir. Sanatçı ---- Çünkü o zaman her şeyi içinde yaşadığı düzensiz doğadan taklit etmiş olurdu. Oysa sanatçı çoğu zaman doğadan aldığını tanınmayacak hâle getirecek kadar yeteneklidir. Çünkü sanatçı doğadan aldığını kendi duygu, düşünce ve içsel yaşantısını ekleyerek ortaya koyar. Böyle olduğu için de insanlar üzerinde etkisi büyüktür. İnsanı duygu ve düşünce yönünden değiştirmeyi başarmaktadır.

**Bu parçada boş bırakılan yere, düşüncenin akışına göre aşağıdakilerden hangisi getirilebilir?**

- A) evrensel konuları işlemezse insanlara yararlı olamaz.
- B) bir fotoğrafçı olmadığı için gördüğünü aynen vermemelidir.
- C) özgün bir anlatıma sahip olmadıkça toplumsal yapıyı değiştiremez.
- D) var olan toplumsal yapıyı olduğu gibi yansıtmıyorsa birey ve toplumu etkilememesi gerekirdi.
- E) anlatacaklarını özgürce seçmedikçe kalıcı olamaz.

21. Yapılan her şey sanat değildir. Yapılanın sanat eseri olabilmesi için o şeyin mutlaka bir sanatçı tarafından yapılmış olması gerekmez. Ünlü bir sanatçı beyaz bir kâğıda rastgele resimler çizse ve boya dökse ortaya çıkan, sanat eseri olamaz. Eser yapandan dolayı müzeye konabilir veya çok paraya satılabilir. Buna "kerameti kendinden" denir. Bunun tersi de mümkün. Sanatla ilgisi olmayan biri, sanat kaygısı gütmeden bir şey yapsa yapılan şey estetik değer taşıyorsa sanat eseri sayılır. Kısacası ----

**Bu parçanın sonuna düşüncenin akışına göre aşağıdakilerden hangisi getirilebilir?**

- A) sanatçıların yaptığı her eser sanat değeri taşımayabilir.
- B) izleyene haz veren, estetiği olan, ilgi çeken her şey sanat eseridir.
- C) bir eserin sanat değeri taşıyabilmesi etki gücüne bağlıdır.
- D) sanatçı olmak için sanat değeri taşıyan eser vermek zorunlu değildir.
- E) bazı eserler estetik değere sahip olduğu için sanat eseri kabul edilebilir.

22. Her insanın yalnız kalmak, kendini dinlemek istediği anlar olur. İçini dökmeden edemediği dakikalarda hislerine tercüman olacak sözcükler birbiri ardınca sıralanır. Hele bu insan, içinin gizli kıvrımlarını görebilen bir yazarsa içinde biriken duyguları yazıya aktarmadan edemez. İşte yazarın kendi kendisiyle alçak sesle konuşmasından başka bir şey olmayan, o günü gününe tutulan, yazarın iç dökme ihtiyacından doğan türdür günce. Yazarın hislerinin en saf, en yoğun yansımasıdır yazıya aktarılan. Çoğu zaman paylaşılmak için yazılmadığından en samimi, en içten itiraflar yer alır güncelerde. Çoğu yazar kendisi için tutar günlüğünü ve onu sır gibi saklar. Bu nedenle bu tür günceleri edebî bir tür saymak pek doğru olmaz.

**Bu parçadan, günce ile ilgili olarak aşağıdakilerden hangisi çıkarılamaz?**

- A) Yazarın iç dünyasını yansıttığı
- B) Yalnız kalma ihtiyacından dolayı oluştuğu
- C) Yazarın en içten duygularını dile getirdiği
- D) Yazarın yazma becerisine bağlı olarak geliştiği
- E) Paylaşılmak için yazılmadığından edebî bir tür sayılmayacağı

23. Yazarın on üç öyküden oluşan kitabını Sahaflar Çarşısı'nda buldum. Öyküler uzunlu kısıklı. Uzun öykülerinde gereksiz betimlemelere yer veren yazar, kısa öykülerinde şiirsel bir dil kullanmış. Eğer eserleriyle ilgili eleştirileri dikkate alırsa sanırım kısa öykülerde karar kılacak. Öykülerinin kahramanları sıradan insanlar ama nefes alan, sokakta her an karşımıza çıkabilecek kişiler. İyi bir gözlemci olan yazarımız, kişiler ve olaylarla ilgili hiçbir ayrıntıyı kaçırmıyor. Dilindeki pürüzleri giderip uzun cümlelerden, abartıdan, gereksiz süslemelerden kaçınırsa edebiyatımız nitelikli bir öykü ustası kazanacak demektir.

**Bu parçada, sözü edilen yazarla ilgili olarak aşağıdakilerden hangisine değinilmemiştir?**

- A) Eserleriyle ilgili eleştirileri dikkate aldığına
- B) Kısa öykülerinde daha başarılı olduğuna
- C) Ayrıntıları görebilen iyi bir gözlemci olduğuna
- D) Dilinde ve anlatımında kusurlar bulunduğuna
- E) Öykülerini bir kitapta topladığına

24. Roman yazarı aynı zamanda iyi bir gözlemci ve araştırmacıdır da. Bugün kendisinden usta yazar diye söz ettiğimiz pek çok yazar, bir bilim insanı gibi günlerce araştırma inceleme yapar, deneylere, gözlemlere başvurur. Hayatın yansıması olan eserini oluştururken pek çok bilim ve sanat dalının verilerinden yararlanır. Bir sosyolog gibi toplumun nabzını tutar, bir tarihçi gibi çağına tanıklık eder, bir filozof gibi çağının değer yargılarını sorgular. En derindeki korkuları dile getirirken psikolojinin tüm verilerinden yararlanır. Bir ressam gibi doğanın tüm renklerini sözcüklerle dile getirir. Doğa bilimci gibi doğadaki tüm değişimleri ve canlılarla doğa arasındaki ilişkiyi görür. Onun eserinde kurduğu dünya yaşadığı dünyadan daha zengin ve daha gizemlidir. Dış güzelliklerle iç zenginliğini birleştirerek oluşturur eserini. Bir insanda, bütün insanları görür ve anlatır.

**Bu parçada, roman yazarıyla ilgili olarak aşağıdakilerden hangisine değinilmemiştir?**

- A) Bilim insanı gibi gözlem ve deney yaptığına
- B) Bilim ve sanat dallarına yön verdiğiğine
- C) Eserlerinde zengin bir dünya kurduğuna
- D) Eserini oluştururken pek çok bilimden yaralandığına
- E) Özelde, geneli görüp anlattığına

25. Köşe yazarı, yalnızca günlük olaylara yorum getiren, "günü" aşmayan veya günün ötesine geçemeyen kişi değildir. O, bugünü anlatırken dünle yarını birleştirir. Bugünün olaylarını yorumlarken dünden ilham alarak yarına ışık tutmasını bilir. Köşe yazarı bu sentezlemeyi yaparken kalıcı ve etkileyici olmayı da hedeflediğinden diline çeki düzen verir. İlginç benzetmeler, canlı örnekler ve bilimsel verilerle güçlendirir anlatımını.

**Bu sözler aşağıdaki sorulardan hangisine karşılık söylenmiş olabilir?**

- A) Köşe yazarı, yazarken nasıl bir yol izler?
- B) Köşe yazarının günlük olaylara yaklaşımı nasıldır?
- C) Köşe yazarı olabilmek için ne gibi nitelikler taşımak gerekir?
- D) Köşe yazarının ayırt edici özellikleri nelerdir?
- E) Köşe yazarı, nasıl bir dil ve anlatıma başvurur?

**26 ve 27. soruları aşağıdaki parçaya göre cevaplayınız.**

(I) İnsan tasarımı canlılar üretilmesi, birtakım kaygıları da beraberinde getiriyor. (II) İlk akla gelen olasılıklardan biri sentetik organizmanın laboratuvar dışına kaçarak doğadaki "kuzenlerinin" soyunu tehlikeye atması ya da bünyesindeki sentetik DNA'yı yatay gen aktarımı yoluyla onlara bulaştırması. (III) Araştırmacıların bu tür kazaları önlemek üzere öngördükleri bazı yöntemler var. (IV) Örneğin sentetik canlıyı laboratuvar ortamı dışında hayatta kalamayacak biçimde tasarlamak. (V) Bu tür tedbirler faydalı görülse bile sentetik canlıların üretildiği araştırmaların çok sıkı denetimlere tabi tutulmasının gerekli olacağı öngörülüyor. (VI) Sentetik biyoloji teknolojisinin kötü niyetli kişiler ya da gruplar tarafından zararlı patojenler üretmede kullanıma ihtimali de endişe yaratan hususlar arasında. (VII) Şu anda yüksek maliyetin ve teknik zorlukların bu teknolojiyi teröristler için cazip hâle getirmediği, ancak yakın gelecekte bu teknoloji daha erişilebilir olduğunda tehlikeli girişimler olabileceği düşünülüyor.

**26. Bu parçada, insan tasarımı sentetik canlılarla ilgili olarak aşağıdakilerin hangisi çıkarılamaz?**

- A) Laboratuvarında üretildiği
- B) Üretimiyle birlikte birtakım kaygılara neden olduğu
- C) Çok sıkı denetimlere tabi tutulduğu
- D) Yakın gelecekte bu teknolojiye daha kolay ulaşılabileceği
- E) Yüksek maliyet ve teknik zorluklarla üretildiği

**27. Bu parçadaki numaralandırılmış cümlelerin hangilerinde bir kaygı söz konusudur?**

- A) I, II ve VI
- B) II, IV ve VI
- C) II, VI ve VII
- D) III, IV ve V
- E) IV, V ve VI

28 – 30. soruları aşağıdaki bilgilere göre cevaplayınız.

Bir iş yerinde çalışan Asya, Benay, Cihan, Doğan, Emre ve Faruk isimli güvenlik görevlileri iki kişinin nöbetçi olacağı 6 gece nöbeti için kura çekip nöbet arkadaşlarını belirleyeceklerdir. Buna göre isimler ayrı ayrı kâğıtlara yazılıp, kâğıtlar karıştırılıyor. Sırasıyla herkes bir kâğıt çekiyor ve kâğıtta adı yazılı olan arkadaşıyla bir gece nöbeti tutuyor. Kura sonuçlarına ait bilgiler aşağıdadır.

- Hiç kimse kendi adının olduğu kâğıdı seçmemiştir.
- Asya, Benay ve Emre'yi seçmemiştir.
- Doğan'ı seçen kişi Cihan'dır.
- Emre'yi seçen kişi, Benay ve Faruk değildir.
- Faruk'un seçtiği kişi Asya veya Cihan değildir.

28. Bilgilere göre, Doğan'ın nöbet arkadaşları aşağıdakilerin hangisinde doğru olarak verilmiştir?

- A) Asya - Benay
- B) Benay - Cihan
- C) Cihan - Emre
- D) Emre - Faruk
- E) Faruk - Asya

29. Bilgilere göre, Benay Cihan'ı seçmiş olsaydı, Emre'nin seçmiş olduğu kâğıtta yazan nöbet arkadaşı kim olurdu?

- A) Asya
- B) Benay
- C) Doğan
- D) Emre
- E) Faruk

30. Bilgilere göre, Emre Cihan'ı seçmiş olsaydı, Benay'ın kâğıtında yazan nöbet arkadaşı kim olurdu?

- A) Asya
- B) Benay
- C) Doğan
- D) Emre
- E) Faruk

31.  $\frac{0,2}{0,22} + \frac{0,4}{0,44} + \frac{0,6}{0,66}$

işleminin sonucu kaçtır?

- A)  $\frac{3}{11}$
- B)  $\frac{5}{11}$
- C)  $\frac{10}{11}$
- D)  $\frac{20}{11}$
- E)  $\frac{30}{11}$

32.  $\frac{2(2\sqrt{5} - \sqrt{15} - \sqrt{10})}{4 - 2\sqrt{3} - 2\sqrt{2}}$

işleminin sonucu kaçtır?

- A)  $\sqrt{2}$
- B)  $\sqrt{3}$
- C) 2
- D)  $\sqrt{5}$
- E) 3

33.  $4 \cdot 3^{x+1} + 3^x = \frac{13}{27}$

olduğuna göre, x kaçtır?

- A) -4
- B) -3
- C) -2
- D) -1
- E) 0

34.  $\sqrt{(-4)^2} - \sqrt[3]{(-1)^3} + (-0,5)^{-2}$

işleminin sonucu kaçtır?

- A) 2
- B) 4
- C) 5
- D) 7
- E) 9



35.  $4x - y + 2 = 0$

$|x| < 3$

olduğuna göre,  $y$ 'nin alabileceği tam sayı değerleri toplamı kaçtır?

- A) 48      B) 47      C) 46      D) 43      E) 44

36.  $|x - 4| + x - 4 = 0$

denkleminin çözüm kümesi aşağıdakilerden hangisidir?

- A)  $x \leq 4$       B)  $x \geq 4$       C)  $x < 4$   
D)  $x > 4$       E)  $x \geq 3$

37.  $\frac{x}{x-1} - \frac{x}{1-\frac{1}{x}}$

ifadesinin en sade şekli aşağıdakilerden hangisidir?

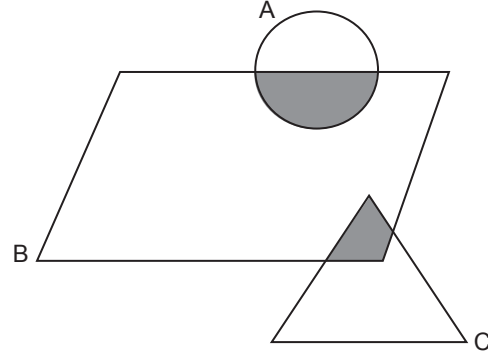
- A)  $2x$       B)  $x$       C)  $-x$       D)  $-2x$       E)  $1$

38.  $\frac{n! + 2 \cdot (n-1)!}{(n+1)! + n!} = \frac{1}{6}$

olduğuna göre,  $n$  kaçtır?

- A) 3      B) 4      C) 5      D) 6      E) 7

39.



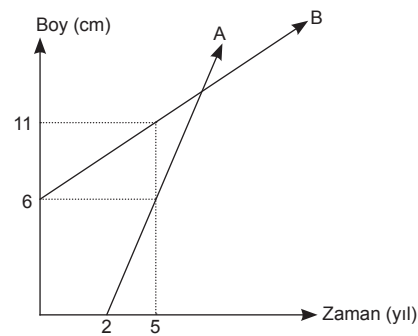
Yukarıdaki şekilde taralı bölgeyi temsil eden küme aşağıdakilerden hangisidir?

- A)  $(A \cap B) \cup C$   
B)  $(A \cup B) \cap C$   
C)  $(A \cup B) \cap (B \cup C)$   
D)  $(A \cap B) \cup (B \cap C)$   
E)  $(A \cap C) \cup B$

40. Ardışık iki çift sayının çarpımının birler basamağı kaç farklı değer alır?

- A) 2      B) 3      C) 4      D) 5      E) 6

41.



Yukarıda şekilde A ve B bitkilerinin yıllara göre uzama miktarları verilmiştir.

Buna göre, kaçınıcı yılda A ve B bitkilerinin boyları eşit olur?

- A) 6      B) 7      C) 8      D) 9      E) 10



42. Bir balığın kafasının uzunluğu 6 cm'dir. Kuyruğunun uzunluğu, kafasının uzunluğu ile gövde uzunluğunun yarısının toplamına eşittir.

**Gövde uzunluğu ise kuyruğu ile kafasının uzunluğunun toplamına eşit olduğuna göre, balığın toplam uzunluğu kaç cm'dir?**

- A) 52      B) 48      C) 40      D) 36      E) 24

43. Sahilden başlayarak arka arkaya inşa edilen 21 tane evin fiyatları sahilden uzaklaştıkça her evde 8000 dolar ucuzlamaktadır.

**Sahile en uzak evin fiyatının 4 katı ve ortadaki evin fiyatının toplamı, sahile en yakın evin fiyatı olduğuna göre, en ucuz evin fiyatı kaç dolardır?**

- A) 20.000      B) 28.000      C) 36.000  
D) 44.000      E) 52.000

44. Bir futbol takımı oynadığı maçlarda toplam 36 gol atmıştır. Bu takımın maç başına gol ortalaması 0,8'dir ve sadece 5 maçta gol atamamıştır.

**Buna göre, takımın gol attığı maçlardaki gol ortalaması kaçtır?**

- A) 0,8      B) 0,85      C) 0,9      D) 0,95      E) 1

45. Tolga ile Orkun lokantada yemek yiyorlar. Toplam yemek masrafı 14 liradır. Ancak bu parayı her ikisinde tek başına ödeyememektedir. Tolga, parasının  $\frac{1}{5}$ 'ini Orkun'a verirse hesabı Orkun, Orkun parasının  $\frac{1}{3}$ 'ünü Tolga'ya verirse hesabı Tolga ödeyebilmektedir.

**Buna göre, Tolga'nın kaç lirası vardır?**

- A) 8      B) 10      C) 11      D) 12      E) 13

46. Bir kasa domatesin  $\frac{3}{13}$ 'ü satılıyor. Geriye kalanların yarısı çürüyor. Çürüyenlerden salça yapılırsa  $\frac{3}{5}$ 'i kadar salça elde ediliyor.

**Toplam 30 kg salça elde edildiğine göre, başlangıçta kaç kg domates vardır?**

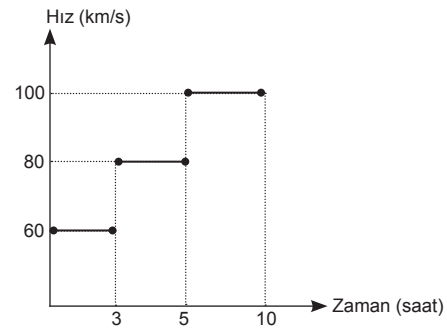
- A) 130      B) 115      C) 100  
D) 95      E) 78

47. İlk çocuk doğduğunda anne 28, ikinci çocuk doğduğunda 33 yaşında idi.

**Anne ile çocukların şimdiki yaşlarının toplamı 68 olduğuna göre, küçük çocuk şimdi kaç yaşındadır?**

- A) 5      B) 8      C) 10      D) 12      E) 15

48.



Yukarıda bir aracın hız-zaman grafiği verilmiştir.

**Bu aracın 10. saatin sonundaki ortalama hızı kaç km/saattir?**

- A) 24      B) 48      C) 80      D) 84      E) 90

49. Bir tüccar bir maldan % 40 kâr elde ediyor. Bu tüccar bu mala indirim yaparak kârını %33'e indirmişse satış fiyatı üzerinden yüzde kaç indirim yapmıştır?

A) 5 B) 6 C) 8 D) 10 E) 12

50.  $\Delta$  işlemi reel sayılarda,  
 $x \Delta y = x - y^{x-y}$  şeklinde tanımlanıyor.

Buna göre,  $5 \Delta 2$  kaçtır?

A) 27 B) 9 C) 3 D) -3 E) -9

51. 8 kişilik bir gruptan 3 kişinin ehliyeti vardır.

Arabayı ehliyetli kullanmak koşuluyla 5 kişilik bir araca kaç farklı şekilde binilebilir?

A) 105 B) 95 C) 90 D) 84 E) 72

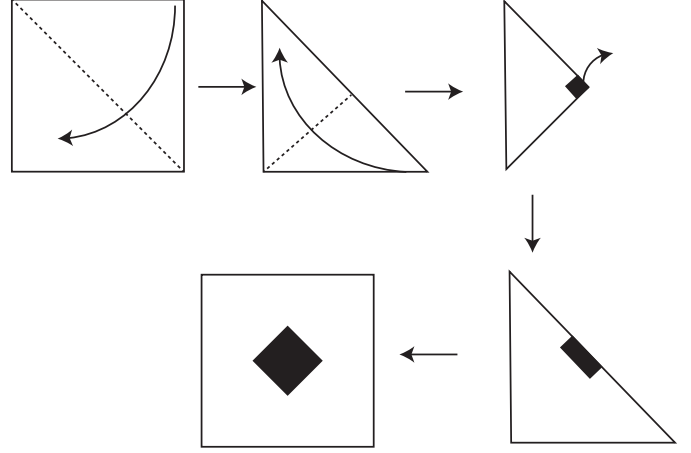
52. Obeleri 15, Okekleri 180 olan iki doğal sayının toplamı en az kaçtır?

A) 195 B) 180 C) 105 D) 90 E) 45

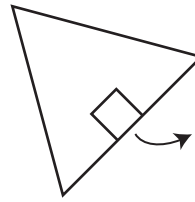
53 ve 54. soruları aşağıdaki bilgilere göre cevaplayınız.

Kare şeklindeki bir kâğıdın ilk olarak şekildeki gibi karşılıklı iki köşesi birleştiriliyor. Oluşan üçgendeki dik kenarların birleştirilmesi ile yeni bir üçgen elde ediliyor.

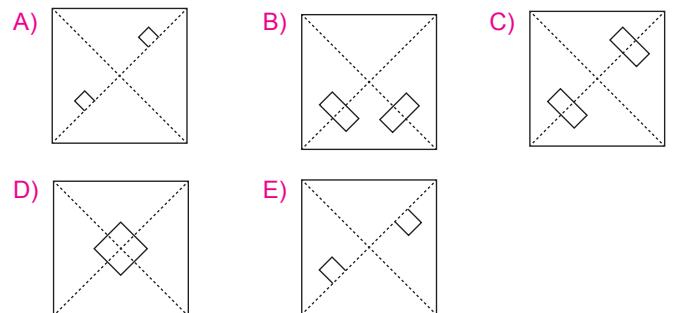
Oluşan şeklin belirli bölgeleri kesilerek çıkarılıyor ve şekil tekrar katlanma yerlerinden açılarak eski hâline getiriliyor.



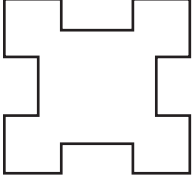
53. Buna göre, üçgenden,



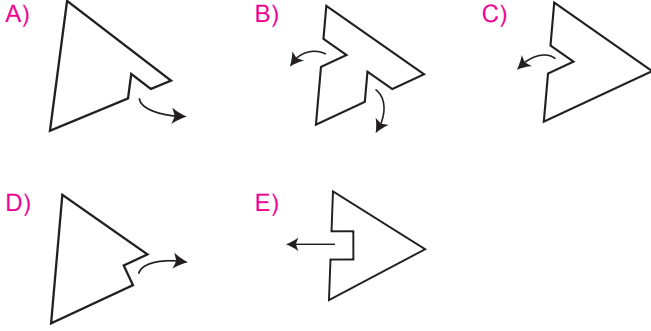
şeklinde bir parça çıkarılıp şekil tekrar açılırsa aşağıdakilerden hangisi oluşur?



54. Açık hâli



olan şeklin kesilen kısmı aşağıdakilerden hangisinde doğru olarak gösterilmiştir?



55 – 57. soruları aşağıdaki bilgilere göre cevaplayınız.

Bir havayolu şirketi yılda ortalama olarak 1000 uçuş yapmakta ve her uçuştaki 100 yolcusuna içinde 4'er adet zeytinin de bulunduğu ikram tabağı vermektedir.

Zeytin'in kilogram fiyatı 15 TL'dir ve bir adet zeytin ortalama 3 gr gelmektedir.

55. Buna göre, havayolu şirketinin bir yılda yolcularına verdiği toplam zeytin miktarı kaç kilogramdır?

- A) 800 B) 900 C) 1000  
D) 1200 E) 1500

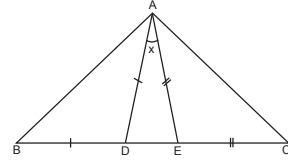
56. Havayolu şirketi yolcularına 1 adet az zeytin ikram ederse bir yılda yapacağı kâr miktarı kaç TL'dir?

- A) 3600 B) 4500 C) 5200  
D) 5800 E) 620

57. Havayolu şirketi, yolcularına ikramda kullandığı zeytin için 23400 TL ödeme yaptığı yıl kaç uçuş gerçekleştirmiştir?

- A) 1300 B) 1400 C) 1600  
D) 1800 E) 1900

58.



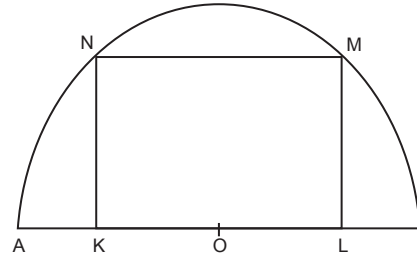
$$|AD| = |BD|$$

$$|AE| = |EC|$$

$m(\widehat{BAC}) = 100^\circ$  olduğuna göre,  $m(\widehat{EAD}) = x$  kaç derecedir?

- A) 10 B) 20 C) 30 D) 40 E) 50

59.



O merkezli yarım daire içine KLMN dikdörtgeni çizilmiştir.

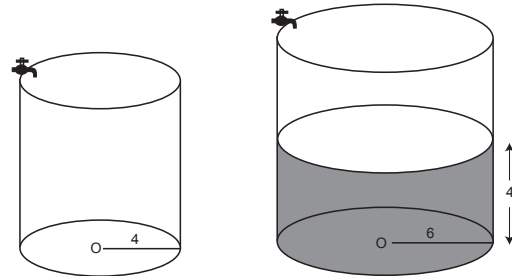
$$A(KLMN) = 64 \text{ br}^2$$

$$|KN| = |OK|$$

olduğuna göre, çemberin yarıçapı kaç br'dir?

- A) 4 B)  $4\sqrt{2}$  C) 6 D) 8 E)  $8\sqrt{2}$

60. Yükseklikleri eşit yarıçapları sırasıyla 4 ve 6 metre olan dairesel dik silindir biçimindeki iki su deposu başlangıçta boştur. Birim zamanda aynı miktarda su akıtan büyük depoya ait musluk açıldıktan 6 saat sonra küçük deponun musluğu da açılıyor. Küçük deponun musluğu açıldığı anda büyük depodaki suyun yüksekliği 4 metredir.



Buna göre, küçük depoya su verilmeye başladıktan kaç saat sonra depolardaki suyun yüksekliği eşit olur?

- A) 2,4 B) 3 C) 3,6 D) 4,8 E) 5

Bu testte 60 soru vardır.

1. İkinci Göktürk Devleti'nin yıkılmasında;

- I. Uygurlar,
- II. Karluklar,
- III. Basmiller

devletlerinden hangileri etkili olmuştur?

- A) Yalnız I                      B) I ve II                      C) I ve III  
D) II ve III                      E) I, II ve III

2. I. Kumanlar  
II. Oğuzlar  
III. Peçenekler

Malazgirt Savaşı'nda, yukarıdaki Türk topluluklarından hangileri taraf değiştirerek Selçuklu Devleti'nin savaşı kazanmasını sağlamıştır?

- A) Yalnız I                      B) Yalnız II                      C) I ve II  
D) I ve III                      E) II ve III

3. Timur İmparatorluğu dönemine ait olan ve Türkçenin Farsçadan üstün bir dil olduğunu kanıtlamaya çalışan edebî eser aşağıdakilerden hangisidir?

- A) Muhakemet'ül Lügateyn  
B) Şehname  
C) Divan-ı Lügat'it Türk  
D) Kutadgu Bilig  
E) Divan-ı Hikmet

4. Osmanlı Devleti'nde, sadrazam aşağıdakilerden hangisinin döneminden itibaren divan toplantılarına başkanlık etmeye başlamıştır?

- A) Yavuz Sultan Selim  
B) III. Selim  
C) Fatih Sultan Mehmet  
D) Kanuni Sultan Süleyman  
E) II. Mahmut

5. Osmanlı Devleti'nde hanedan üyeleri dışında Avrupa'daki gibi aristokrat bir sınıfın oluşmamasında;

- I. tımar,
- II. müsadere,
- III. malikane

sistemlerinden hangilerinin uygulanması etkili olmuştur?

- A) Yalnız I                      B) Yalnız II                      C) I ve II  
D) II ve III                      E) I, II ve III

6. Osmanlı Devleti'nde;

- I. akıncılar,
- II. tımarlı sipahiler,
- III. yeniçeriler

askerî sınıflarından hangileri Türkmen kökenli askerlerden oluşuyordu?

- A) Yalnız I                      B) Yalnız II                      C) I ve II  
D) II ve III                      E) I, II ve III

7. Aşağıdakilerden hangisi Osmanlı şehzadelerinin sancak beyliği yaptığı şehirlerden biri değildir?

- A) Manisa                      B) Edirne                      C) Trabzon  
D) Amasya                      E) Kütahya

8. Osmanlı Devleti, Duraklama Dönemi'nde nakit para ihtiyacını gidermek amacıyla;

- I. tımar toprakların iltizama verilmesi,  
II. iç borçlanmaya gidilmesi,  
III. malikane sistemine geçilmesi

uygulamalarından hangilerine başvurmuştur?

- A) Yalnız I                      B) Yalnız II                      C) I ve II  
D) I ve III                      E) I, II ve III

9. Osmanlı Devleti'nde XVI. yüzyılın sonlarından itibaren dirliklerin usulsüz verilmesi sonucunda tımar sisteminin bozulmasıyla;

- I. tarım,  
II. askerlik,  
III. güvenlik

alanlarının hangilerinde aksaklıklar ortaya çıkmıştır?

- A) Yalnız I                      B) Yalnız II                      C) I ve II  
D) I ve III                      E) I, II ve III

10. XIX. yüzyılda ortaya çıkan;

- I. Kırım Savaşı,  
II. Mısır Sorunu,  
III. Yunan İsyanı

gelişmelerinin hangilerinde İngiltere Osmanlı Devleti'yle birlikte hareket etmiştir?

- A) Yalnız I                      B) Yalnız II                      C) I ve II  
D) II ve III                      E) I, II ve III

11. İkinci Mahmut Dönemi'nde tımar sisteminin kaldırılması;

- I. Ayanların ortadan kalkması,  
II. Redif birliklerinin kurulması,  
III. İltizam sisteminin yaygınlaşması

gelişmelerinden hangilerinin ortaya çıkmasını sağlamıştır?

- A) Yalnız I                      B) Yalnız II                      C) Yalnız III  
D) II ve III                      E) I, II ve III

12. Osmanlı Devleti'nde Genç Osmanlılar (Jön Türkler);

- I. Meşrutiyet'in ilan edilmesi,  
II. Kanunuesasi'nin hazırlanması,  
III. Abdülaziz'in tahttan indirilmesi

gelişmelerinin hangilerinde etkili olmuştur?

- A) Yalnız I                      B) Yalnız II                      C) I ve II  
D) II ve III                      E) I, II ve III

13. Osmanlı Devleti, Birinci Dünya Savaşı'nda Kanal Cephesi'nde;

- I. İngiltere,
- II. İtalya,
- III. Fransa

devletlerinden hangileriyle savaşmıştır?

- A) Yalnız I                      B) Yalnız II                      C) Yalnız III  
D) I ve II                      E) I ve III

14. Mondros Ateşkes Antlaşması'ndan sonra işgallere karşı mücadeleye eden;

- I. Kilikyalılar,
- II. Milli Kongre,
- III. Doğu Anadolu Müdafaa-i Hukuk Milliyesi

cemiyetlerinden hangileri İstanbul'da kurulmuştur?

- A) Yalnız I                      B) Yalnız II                      C) Yalnız III  
D) I ve II                      E) I, II ve III

15. Sivas Kongresi'nde karara bağlanan konular arasında;

- I. TBMM'nin açılması,
- II. İstanbul Hükûmeti'nin düşürülmesi,
- III. Batı Cephesi'nin açılması

durumlarından hangileri yer alır?

- A) Yalnız I                      B) Yalnız II                      C) Yalnız III  
D) I ve II                      E) II ve III

16. Kurtuluş Savaşı Dönemi'nde ortaya çıkan;

- I. Amasya Görüşmeleri,
- II. Londra Konferansı,
- III. Bilecik Görüşmeleri

gelişmelerinden hangileri İstanbul Hükûmeti ile Anadolu Hareketini uzlaştırmak amacıyla yöneliktir?

- A) Yalnız I                      B) Yalnız II                      C) I ve II  
D) I ve III                      E) I, II ve III

17. Sakarya Savaşı'ndan sonra TBMM ile Fransa arasında yapılan Ankara Antlaşması'na;

- I. İtalya,
- II. İngiltere,
- III. Sovyet Rusya

devletlerinden hangileri tepki göstermiştir?

- A) Yalnız I                      B) Yalnız II                      C) I ve II  
D) I ve III                      E) II ve III

18. Milli Mücadele Dönemi'nde TBMM Hükûmeti;

- I. İngiltere,
- II. Fransa,
- III. Sovyet Rusya

devletlerinden hangileriyle yaptığı antlaşmalarda Misakımillî sınırlarından taviz vermiştir?

- A) Yalnız I                      B) Yalnız II                      C) I ve II  
D) II ve III                      E) I, II ve III

19. Türkiye, Lozan Barış Antlaşması'nın geçici bir maddesinden dolayı, 1929 yılına kadar;

- I. dış ticarete müdahalede bulunma,
- II. gümrük tarifelerini değiştirme,
- III. dış borç alma

haklarının hangilerinden yoksun kalmıştır?

- A) Yalnız I                      B) Yalnız II                      C) I ve II  
D) II ve III                      E) I, II ve III

20. Cumhuriyet Dönemi'nde ortaya çıkan Şeyh Said İsyanı aşağıdakilerden hangisine ortam hazırlamamıştır?

- A) Nasturi ayaklanmasına  
B) Takririsükûn Kanunu'nun çıkarılmasına  
C) İstiklal Mahkemelerinin kurulmasına  
D) Hükûmet değişikliğine  
E) Irak sınırının belirlenmesine



21. Mustafa Kemal Cumhurbaşkanı seçildikten sonra, aşağıdaki devlet adamlarından hangisini hükümeti kurmakla görevlendirmiştir?

- A) Ali Fethi Okyar
- B) İsmet İnönü
- C) Kâzım Karabekir
- D) Fevzi Çakmak
- E) Celal Bayar

22. Aşağıdaki devletlerden hangisi Balkanlarda ve dünyada barışın sağlanmasındaki büyük katkılarından dolayı, Atatürk'ü 1934'te Nobel Barış Ödülü'ne aday göstermiştir?

- A) Azerbaycan
- B) Yunanistan
- C) Sovyet Rusya
- D) Fransa
- E) Afganistan

23. Cumhuriyet Dönemi'nde ortaya çıkan;

- I. Birinci Beş Yıllık Sanayi Planının uygulanması,
- II. Ekonomide devletçiliğin benimsenmesi,
- III. Millî ekonomi ilkesinin benimsenmesi

gelişmelerinin kronolojik sıralaması aşağıdakilerin hangisinde doğru verilmiştir?

- A) I, II, III
- B) I, III, II
- C) II, III, I
- D) III, II, I
- E) III, I, II

24. I. Yabancı ırk ve millet adlarının soyadı olarak kullanılmaması  
II. Tanık olmada kadın - erkek eşitliğinin sağlanması  
III. Milletvekillerinin yemin şeklinin değişmesi

Yukarıda verilen gelişmeler milliyetçilik, halkçılık ve laiklik ilkeleriyle ilişkisi açısından aşağıdakilerin hangisinde doğru olarak verilmiştir?

	<u>Milliyetçilik</u>	<u>Halkçılık</u>	<u>Laiklik</u>
A)	I	II	III
B)	II	III	I
C)	III	II	I
D)	II	I	III
E)	I	III	II

25. Briand-Kellogg Paktı;

- I. SSCB,
- II. Fransa,
- III. ABD

devletlerinden hangilerinin öncülüğünde kurulmuştur?

- A) Yalnız I
- B) Yalnız II
- C) I ve II
- D) II ve III
- E) I, II ve III

26. İkinci Dünya Savaşı'ndan sonra SSCB'nin yayılmacı politikalarına karşı Türkiye;

- I. Balkan Paktı,
- II. Bağdat Paktı,
- III. NATO

örgütlerinden hangilerine üye olmuştur?

- A) Yalnız I
- B) Yalnız II
- C) Yalnız III
- D) II ve III
- E) I, II ve III

27. Aşağıdakilerin hangisinde Avrupa Birliği'nin genişlemesinin Merkezî Doğu Avrupa devletlerini kapsamı ve adaylık başvurusunda bulunan ülkelerin tam üyeliğe kabul edilmesi için karşılaması gereken kriterler belirlenmiştir?

- A) Maastricht Zirvesi
- B) Kopenhag Zirvesi
- C) Helsinki Zirvesi
- D) Lüksemburg Zirvesi
- E) Cardiff Zirvesi



28. Türkiye'nin mutlak konumuyla ilgili aşağıda verilenlerden hangisi yanlıştır?

- A) Güneyi Ekvator'a daha yakındır.
- B) Başlangıç meridyeninin doğusundadır.
- C) Yengeç Dönencesi'nin kuzeyindedir.
- D) Yüksek enlemlerde yer alır.
- E) Kuzeyi ile güneyi arasındaki kuş uçuşu uzaklık yaklaşık olarak 666 km'dir.

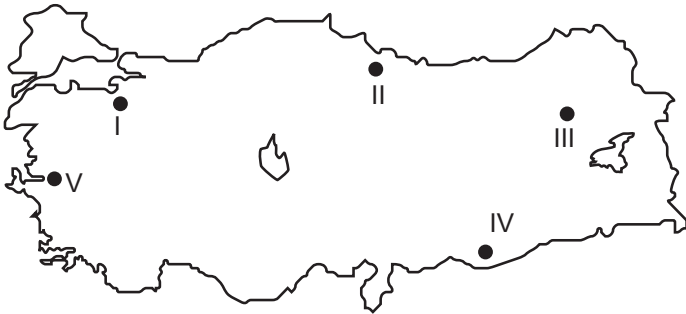
29. Aşağıda bazı illerin gerçek alan ve iz düşüm alanları verilmiştir.

	Gerçek alan (km <sup>2</sup> )	İz düşüm alan (km <sup>2</sup> )
İğdır	3701	3593
Rize	4328	3920
Edirne	6275	6114
Sivas	29.515	24.568

İğdır ve Edirne'de gerçek alan ile iz düşüm alan arasındaki fark az iken Rize ve Sivas'ta bu farkın fazla olmasının nedeni aşağıdakilerden hangisidir?

- A) Denizellik - karasallık
- B) Yükseltilerinin birbirinden farklı olması
- C) Yer şekillerinin birbirinden farklı olması
- D) Nüfuslarının birbirinden farklı olması
- E) Matematik konumlarının farklı olması

30. Ülkemizdeki sıcak su kaynakları (kaplıcalar) turist çeken önemli merkezlerdendir.



Sıcak su kaynaklarının dağılışı kırık (fay) hatlarının dağılışına paralel gösterdiğine göre, haritadaki kaç numaralı yörede kaplıcaların bulunma olasılığı en azdır?

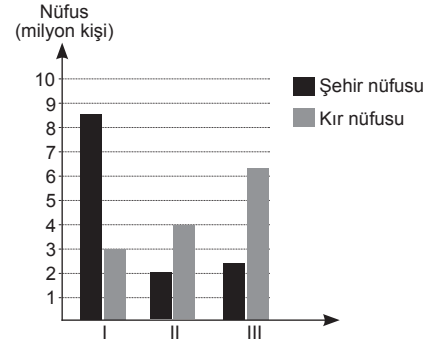
- A) I
- B) II
- C) III
- D) IV
- E) V

31. Akdeniz ve Karadeniz bölgeleri, yer şekilleri ve denize konumlarıyla benzer olmasına karşın yürütülen tarımsal etkinlikler yönüyle farklılıklar gösterirler.

**Bu durum bölgelerin, aşağıda verilen özelliklerinden hangisinin sonucudur?**

- A) Yüz ölçümleri
- B) Toprak türleri
- C) İklim özellikleri
- D) Nüfus miktarları
- E) Ekonomik etkinlikleri

32. Aşağıdaki grafikte üç farklı bölgenin şehir ve kırsal nüfusları gösterilmiştir.



Şehir ve kırsal nüfusları, bölgelerin sosyo - ekonomik durumları hakkında bilgiler vermektedir.

**Bu grafiğe dayanılarak, aşağıdakilerden hangisine ulaşamaz?**

- A) I. bölgenin kültürel gelişimi diğer bölgelerden fazladır.
- B) I. bölgede verimli tarım alanı azdır.
- C) II. bölgede doğum oranı fazladır.
- D) III. bölgede ekonomik etkinlik tarıma dayanır.
- E) II. bölgenin nüfusu, III. bölgeden azdır.

33. Türkiye'de Damlatış, Karain, İnsuyu gibi birçoğu turizm değeri olan mağaraların oluşması öncelikle aşağıdakilerden hangisinin sonucudur?

- A) Kalker tabakalarının
- B) Engebeli yüzey şekillerinin
- C) Tüf tabakalarının
- D) Kil tabakalarının
- E) Yağışlı sıcak iklim koşullarının





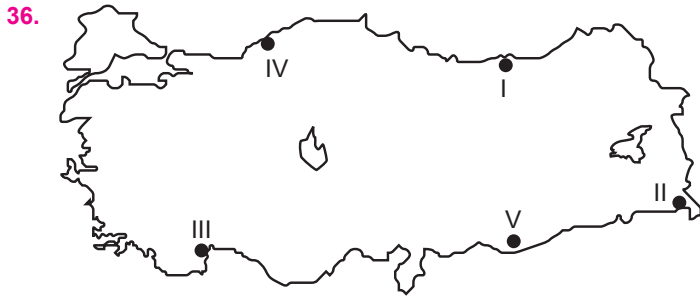
34. I. Bitki örtüsü  
II. Ulaşım imkanları  
III. Toprak verimi  
IV. Yer altı zenginlikleri

**Yukarıdakilerden hangileri ülkemizde nüfusun dağılışında daha az etkilidir?**

- A) Yalnız I                      B) Yalnız IV                      C) I ve II  
D) III ve IV                      E) II, III ve IV

35. Aşağıdakilerden hangisi, Türkiye’de iç ticaretin canlı olmasını kolaylaştıran etkenlerden biri olamaz?

- A) Bölgeler arasındaki ekonomik etkinliklerin farklı olması  
B) Endüstri merkezlerinin dağılış biçimi  
C) Yoğun nüfuslu büyük kentlerin bulunması  
D) Bölgeler arasında yetiştirilen ürünlerin farklı olması  
E) İç tüketim miktarının sabit kalması



**Haritada taranmış alanların hangisinde ekonomik faaliyet dalı yanlış gösterilmiştir?**

- A) I. Büyükbaş hayvancılık  
B) II. Arıcılık  
C) III. Seracılık  
D) IV. Madencilik  
E) V. Ormancılık

37. Ülkemizde bazı alanlar iklim koşullarının elverişli olmasına rağmen, yer şekillerinin engebeli ve tarım alanlarının dar olmasından dolayı fazla gelişmemiştir.

**Aşağıdakilerden hangisi bu yerlere örnek olarak verilebilir?**

- A) Taşeli ve Menteşe Yöresi  
B) Konya ve Tuz Gölü çevresi  
C) Çanakkale ve Balıkesir Yöresi  
D) Çukurova ve Hatay Yöresi  
E) Iğdır ve Hakkâri Yöresi

38. – Çay üretim alanlarında çay fabrikaları  
– Şeker pancarı üretim alanlarında şeker fabrikaları  
– Sebze üretim alanlarında konserve fabrikaları yaygındır.

**Yukarıdaki ürünlerin üretim alanı ile fabrikaların birbirine yakın olmasının en önemli nedeni, aşağıdakilerden hangisidir?**

- A) Üretim hızını artırmak  
B) Ulaşım maliyetini azaltmak  
C) Üretimin kalitesini artırmak  
D) Ürünler bozulmadan üretimi sağlamak  
E) İş gücünü kolaylaştırmak

39. Malatya, Gaziantep, Eskişehir endüstrinin geliştiği önemli merkezlerdendir.

**Bu illerde endüstrinin gelişmesinin en önemli nedeni aşağıdakilerden hangisidir?**

- A) Nüfusun yoğun olması  
B) Tarım alanlarının gelişmesi  
C) Ham maddenin fazla olması  
D) Önemli yollar üzerinde bulunmaları  
E) Elverişli iklim koşullarına sahip olmaları



40. Aşağıda verilen yerlerden hangisinde, temmuz ayındaki yağış miktarı ile sıcaklık değerleri, bölüm içindeki yöreler arasında en fazla değişiklik gösterir?

- A) Doğu Karadeniz
- B) Kıyı Ege
- C) Güney Marmara
- D) Konya
- E) Ergene

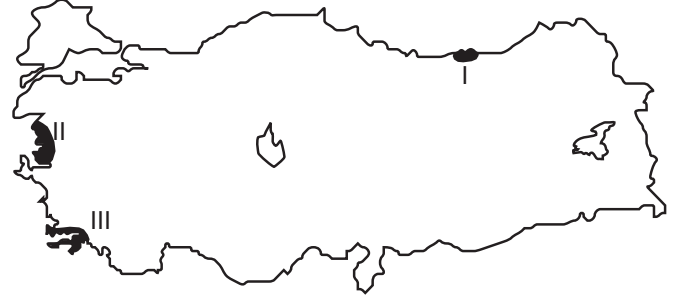
41. Ormanların tahrip edilmesinin, aşağıdakilerden hangisinin üzerinde etkisi yoktur?

- A) Heyelan
- B) Ekolojik dengenin bozulması
- C) Toprak erozyonu
- D) Sel ve su taşkınları
- E) Yer altı sularının miktarı

42. Hızlı nüfus artışının olumsuzluklarına karşı alınması gereken tedbirler arasında aşağıdakilerden hangisi yer almaz?

- A) Planlı ve hızlı bir gelişme politikasının tespit edilip uygulanması
- B) Yeni kaynakların tespit edilip kullanılması
- C) Genç nüfusun bilinçli bir eğitim ile kaliteli eleman hâline getirilmesi
- D) İşletilmeyen kaynakların devreye konulması
- E) Ölüm oranının düşürülüp doğum oranının artırılması

43.



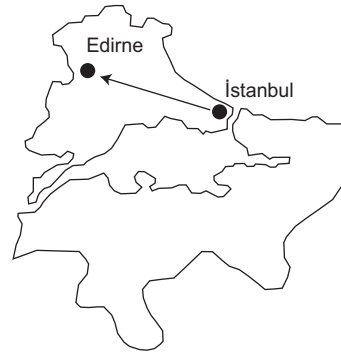
Haritada işaretli noktalarda görülen kıyı tipi aşağıdakilerin hangisinde doğru verilmiştir?

- |    | <u>I</u> | <u>II</u> | <u>III</u> |
|----|----------|-----------|------------|
| A) | Boyuna   | Boyuna    | Enine      |
| B) | Boyuna   | Ria       | Ria        |
| C) | Boyuna   | Enine     | Ria        |
| D) | Boyuna   | Ria       | Dalmaçya   |
| E) | Enine    | Enine     | Dalmaçya   |

44. Türkiye’de su gücü, linyit ve güneş enerjisinden en fazla yararlanan bölgeler aşağıdakilerden hangisinde sırasıyla doğru verilmiştir?

- A) Doğu Anadolu - Akdeniz - Ege
- B) Akdeniz - Doğu Anadolu - Ege
- C) Güneydoğu Anadolu - Ege - Akdeniz
- D) Akdeniz - Ege - Doğu Anadolu
- E) Ege - Doğu Anadolu - Akdeniz

45.



Yukarıdaki haritada işaretli merkezler arasında ok yönünde ilerleyen bir grup öğrenci yolculukları sırasında aşağıdakilerden hangisini gözlemleyemez?

- A) Bitki örtüsünün değiştiğini
- B) Tarım faaliyetlerinin önem kazandığını
- C) Nüfus yoğunluğunun azaldığını
- D) Ticaretin canlandığını
- E) Sanayi kuruluşlarının azaldığını



46. Ulaşılmaması hedeflenen, olan değil olması amaçlanan adalet duygularına en yakın hukuk tanımı aşağıdakilerden hangisidir?

- A) Tarihi hukuk
- B) Pozitif hukuk
- C) İdeal hukuk
- D) Mevzu hukuk
- E) Daimi hukuk

47.

- I. 16 yaşının tamamlanmış olması
- II. Küçüğün isteğinin olması
- III. Küçüğün menfaatini gerektiren durum olması

**Yukarıdakilerden hangileri mahkeme kararıyla ergin kılınma için aranan şartlar arasında yer alır?**

- A) Yalnız I
- B) Yalnız II
- C) Yalnız III
- D) I ve III
- E) II ve III

48.

Vatandaşlar arasında herhangi bir fark aranmaksızın herkesin vergi vermekle yükümlü olması aşağıdakilerden hangisiyle ifade edilir?

- A) Genellik
- B) Kanunilik
- C) Eşitlik
- D) Adalet
- E) Güvenlik

49.

- I. Toplantı ve gösteri yürüyüş düzenleme hakkı
  - II. Suç ve cezaların geçmişe yürütülememesi
  - III. Gençliğin korunması
- Yukarıda verilenlerden hangileri çekirdek haklar arasında yer alır?

- A) Yalnız II
- B) Yalnız III
- C) I ve II
- D) II ve III
- E) I, II ve III

50.

Aşağıda verilenlerden hangisi 2017 Anayasa değişikliği ile birlikte TBMM'nin görev ve yetkileri arasına eklenmiştir?

- A) Para basılmasına karar vermek
- B) Genel af ilan etmek
- C) Özel af ilan etmek
- D) Kamu Başdenetçisini seçmek
- E) Hakimler ve Savcılar Kuruluna üye seçmek

51.

1982 Anayasası'na göre cumhurbaşkanının hastalık ve yurt dışına çıkma gibi sebeplerle geçici olarak görevinden ayrılması hallerinde, görevine dönünceye kadar, aşağıdakilerden hangisi cumhurbaşkanına vekillik eder ve cumhurbaşkanına ait yetkileri kullanır?

- A) TBMM başkanı
- B) Anayasa Mahkemesi başkanı
- C) Yargıtay cumhuriyet başsavcısı
- D) Cumhurbaşkanı Yardımcısı
- E) Genelkurmay başkanı

52.

- I. 40 yaşını doldurmuş olmak
- II. Daha önce cumhurbaşkanı seçilmemiş olmak
- III. Milletvekili olmak

Yukarıdakilerden hangileri cumhurbaşkanı seçilme yeterlilikleri arasında yer almaz?

- A) Yalnız III
- B) I ve II
- C) I ve III
- D) II ve III
- E) I, II ve III

53.

- I. İktidar Partisi Meclis Grubu
- II. Ana Muhalefet Partisi Meclis Grubu
- III. Cumhurbaşkanı
- IV. TBMM üye tam sayısının beşte biri

Yukarıda verilenlerden hangileri Anayasa değişiklikleri için" Anayasa Mahkemesi"ne iptal davası açabilmektedir?

- A) I ve IV
- B) I, II ve III
- C) III ve IV
- D) II, III ve IV
- E) I, II, III ve IV

54.

T.C. 1982 Anayasası, "2017 Anayasa Değişikliği"ne göre, aşağıda verilenlerden hangisi "Hakimler ve Savcılar Kurulu" için doğru bir ifade değildir?

- A) HSK 13 üyeden oluşur.
- B) Üyelerinin 4'ünü Cumhurbaşkanı, 7'sini ise TBMM seçer.
- C) Seçilen üyeler 1. sınıf adli ve idari hakim savcılar, Danıştay üyeleri, Yargıtay üyeleri, hukukçu öğretim üyeleri ve avukatlar arasından gelmektedir.
- D) Süresi biten üyelerin yeniden seçilmesi mümkün değildir.
- E) Meslekten çıkarma dışındaki kararlarına karşı yargı yolu kapalıdır.

55.

Çocuğundan yaşlısına hayatımızın her anında; anılarımızın içerisinde yer bulan, yaptığı her işle adını tekrar tekrar gönlümüze yazdıran, "Hababam Sınıfı", "Neşeli Günler" gibi birçok klasikleşmiş Türk sineması örneklerinde oynayan, Ocak 2019 tarihinde kaybettiğimiz, **Türk tiyatrosu ve sinema oyuncusu kimdir?**

- A) Münir Özkul
- B) Dinçer Çekmez
- C) İtir Esen
- D) Ayşen Gruda
- E) Tarık Akan

56.

Kaz tüyünden yapılmış bir top ve raketle oynanan, tenis benzeri, tüytop olara olarakta isimlendirilen spor dalı aşağıdakilerden hangisidir?

- A) Kriket
- B) Squash
- C) Badminton
- D) Golf
- E) Hentbol

57.

Millet ve hürriyet kavramlarını "Türk Edebiyatı"na işleyen, "Vatan şairi" olarak adlandırılan, Genç Osmanlı hareketi mensubu, yazar ve şair aşağıdakilerden hangisidir?

- A) İbrahim Şinâsi
- B) Mehmet Âkif Ersoy
- C) Abdülhak Hamit Tarhan
- D) Namık Kemal
- E) Tevfik Fikret

58.

Evlîya Çelebi'nin seyahatnamesinde; "Deniz kıyısında olup iki tarafı deniz, kuzey tarafı karadeniz, doğu yönü Akdeniz ve güney tarafı Ayasofya Camii'dir ki iki deniz arasında kurulmuş adeta bir şehirdir" şeklinde bahsettiği Osmanlı sarayı aşağıdakilerden hangisidir?

- A) Cırağan sarayı
- B) Beylerbeyi sarayı
- C) Dolmabahçe sarayı
- D) Yıldız sarayı
- E) Topkapı sarayı

59.

2018 Cumhurbaşkanlığı Kültür ve Sanat Büyük ödülleri kapsamında, "Tarih" alanında aşağıdaki isimlerden hangisine ödül verilmiştir?

- A) Halil Berktaş
- B) Namık Kemal Zeybek
- C) Mehmet İpşirli
- D) Murat Bardakçı
- E) İlber Ortaylı

60.

2019 Yılı "Avrupa Kültür Başkent"i olarak ilan edilen şehir/ülke aşağıdakilerden hangisinde doğru olarak verilmiştir?

- A) Valetta (Malta) - Leeuwarden (Hollanda)
- B) Valetta (Malta) - Matera (İtalya)
- C) Plovdiv (Bulgaristan) - Matera (İtalya)
- D) Leeuwarden (Hollanda) - Valetta (Malta)
- E) Galway (İrlanda) - Rijeka (Hırvatistan)

## GY- GK DENEME 8

### CEVAP ANAHTARI

GENEL YETENEK											
1	C	11	B	21	B	31	E	41	E	51	A
2	A	12	E	22	D	32	D	42	B	52	C
3	C	13	D	23	A	33	B	43	A	53	C
4	D	14	B	24	B	34	E	44	C	54	E
5	B	15	C	25	A	35	C	45	B	55	D
6	A	16	D	26	C	36	A	46	A	56	B
7	D	17	C	27	C	37	C	47	C	57	A
8	D	18	C	28	C	38	D	48	D	58	B
9	A	19	D	29	A	39	D	49	A	59	D
10	D	20	B	30	A	40	B	50	D	60	D

GENEL KÜLTÜR											
1	E	11	D	21	B	31	C	41	A	51	D
2	E	12	E	22	B	32	B	42	E	52	D
3	A	13	A	23	D	33	A	43	C	53	C
4	C	14	E	24	A	34	A	44	C	54	D
5	C	15	B	25	D	35	E	45	D	55	D
6	C	16	D	26	E	36	E	46	C	56	C
7	B	17	E	27	B	37	A	47	E	57	D
8	A	18	D	28	D	38	D	48	A	58	E
9	E	19	C	29	C	39	D	49	A	59	C
10	C	20	A	30	D	40	A	50	E	60	C