

1. Bazı okurlar, yazarların çok okumadığını, kurguya dayalı yazım serüveni yaşadıklarını düşünür. Oysa büyük yazarlar çok okur ve okuduklarını özümser, eserdeki güzellikleri kendine mal eder. Kendi edebî kimliğini ve üslubunu ortaya koyarak okuduklarını satır aralarında gizler.

Bu parçada geçen “okuduklarını satır aralarında gizler” sözüyle yazara yönelik olarak anlatılmak istenen aşağıdakilerden hangisidir?

- A) Okuduklarını eserlerine doğrudan yansıtma
B) Eserlerinde örtülü anlamları ortaya çıkarma
C) Okuduklarını eserlerinde özümseyerek verme
D) Eserlerini okuduklarından hareketle oluşturma
E) Okuduklarını eserleri yoluyla iletme

2. Özlü ve yalın bir anlatım yeğledim bu eserde. Cümlelerimde sözcükleri yerli yerinde kullanmaya, söyleyişte tumturaklı ifadelere yer vermemeye özen gösterdim. İstedim ki sözü dolambaçlı yollardan değil, doğrudan iletileyim okuruma. İnceden inceye hissettireyim düşüncelerimi. Okurun, her okuyuşta ayrı bir haz aldığı yapıtlardan biri olsun.

Aşağıdakilerin hangisi, parçadaki altı çizili sözlerin anlamlarından biri değildir?

- A) karmaşık biçimde
B) zor anlaşılın
C) düzenli
D) derinlemesine
E) gösterişli

3. I. İstanbul'daki kulelerin hepsi bir zamanlar sahip oldukları fonksiyonel özellikleri ve sembolik değerleriyle İstanbul kimliğinin vazgeçilmez unsurlarıdır.
II. Galata Kulesi de aynı amaçla uzun yıllar hizmet etmiştir.
III. Mesela, yangınlarıyla ünlü eski İstanbul'un harap olmaması için inşa edilen Beyazıt Yangın Kulesi, oldukça önemli bir konumdaydı.
IV. Efsanelere konu olmuş Kız Kulesi ise Osmanlı devri öncesinde stratejik konumu nedeniyle daha çok askerî amaçlarla kullanılmıştır.
V. Osmanlı Devri'nde ise artık güvenli bir yer hâline gelen Boğaz'ın girişinde şanına uygun rollerde kullanıldı.

Yukarıdaki numaralandırılmış cümlelerin anlamlı bir bütün oluşturabilmesi için hangileri yer değiştirmelidir?

- A) I ile II
B) II ile III
C) III ile IV
D) IV ile V
E) II ile V

4. Bizim, gelenekle yerleşmiş bir atasözü anlayışımız vardır. Bu anlayışa göre atasözleri ulusal varlıklardır ve ruha işleyen bir etkiye sahiptir. Geniş halk yığınlarının yüzyıllar boyunca deneyimlerinden ve bunlara dayanan düşüncelerden doğmuşlardır. Ulusun ortak düşünce, inanış ve tutumunu belirtir, insanlara yol gösterirler.

Örneğin; “Ağaç yaşken eğilir.” atasözü eğitimde

I

yaşın önemini, “Ağaca çıkan keçinin, dala bakan oğlağı olur.”

II

atasözü büyüklere özenmeyi, “Ağacın kurdu içinde olur.” atasözü

III

sır saklamayı, “Ağaca balta vurmuşlar, sapı bedenimden demiş.”

IV

atasözü yakınların nankörlüğünü, “Ağaç meyvesi olunca başını

V

aşağı salar.” atasözü alçak gönüllülüğü dile getirir.

Bu parçadaki numaralanmış atasözlerinden hangisinin ifade ettiği anlam yanlış verilmiştir?

- A) I
B) II
C) III
D) IV
E) V

5. Antropolojik buluntular, avcılığın Anadolu'da binlerce yıldır var olduğunu gösteriyor.

Bu cümleden, aşağıdakilerin hangisine kesin olarak ulaşılabılır?

- A) Anadolu'da avcılık tarımdan daha önce başlamıştır.
- B) Anadolu'da avcılığın tarihini saptamak için farklı yöntemlere başvurulmaktadır.
- C) Avcılığın tarihçesi, yalnız antropolojik buluntularla ortaya çıkarılabilmektedir.
- D) Antropolojik buluntular, insanlık tarihine ışık tutan önemli kültürel miraslardır.
- E) Anadolu'da hâlâ avcılık yapılmaktadır.

6. Son dönemde eczanelerde de kullanılmaya başlanan "kare kod", İtalyan ressam Fabrice De Nola tarafından 2006'dan beri yağlı boya tablolarla ve fotoğraflara gömülü olarak kullanılıyor.

Aşağıdakilerden hangisi, bu cümleden yola çıkılarak ulaşılabilecek bir yargıdır?

- A) Kare kodlar ilaç sektöründe kullanılmaya yeni başlanmıştır.
- B) Kare kodlar sağlık, sanat gibi çeşitli alanlarda kullanılabilme özelliğine sahiptir.
- C) İtalyan ressam Fabrice De Nola sanatında çağın gelişmelerine ayak uyduran bir sanatçıdır.
- D) Kare kodların yaygın olarak kullanılma nedeni yüksek güvenlik özelliği içermeleridir.
- E) Kare kodların kullanım alanlarının günümüzde yaygınlaşması söz konusudur.

7. (I) Günümüzde doğal ürünlere olan ilgi, doğal olarak yetişen tıbbi ve hoş kokulu bitkilere de yansımış durumda. (II) Dünyadaki 300 bin çiçekli bitki türünden 20 bininin tıbbi amaçlar için potansiyel taşıdığı ve bunlardan 4 bininin yoğun olarak kullanıldığı biliniyor. (III) Ülkemizde de yaklaşık 12 bin bitki türünün 500 kadarının tıbbi ve aromatik değeri var. (IV) Ballıbabagiller ailesi de bunlardan biri. (V) Ballıbabagiller hoş kokulu, bir ya da çok yıllık otsu bitkilere sahiptir.

Bu parçadaki numaralanmış cümlelerle ilgili olarak aşağıda verilenlerden hangisi yanlıştır?

- A) I. cümlede, bir tespit bulunulmuştur.
- B) II. cümlede, yargı gerekçesiyle verilmiştir.
- C) III. cümlede, bir yaklaşıklıkla söz edilmiştir.
- D) IV. cümlede, örneklendirme yapılmıştır.
- E) V. cümlede, tanım yapılmıştır.

8. (I) Robot dendiğinde ilk zamanlar insana benzeyen, insan gibi davranabilen elektromekanik makineler anlaşılıyordu. (II) Hatta bilimkurgu filmlerinde insanlarla hâkimiyet savaşına giren robot hikâyeleri bile işlendi. (III) Teknoloji ve bilimdeki gelişmeler robot kavramını zaman içinde yerine oturttu. (IV) Robotlar bugün, "endüstriyel robotlar" ve "insansı robotlar" şeklinde sınıflandırılıyor. (V) Çok hassas işlemler, sanayide artık robotlar tarafından yapılıyor. (VI) Endüstriyel robotlar belirli bir iş için üretilmiş yapıları ve hafızalarına yazılmış programları ile kendilerinden beklenen işi eksiksiz yaparlar. (VII) Bu çeşit endüstriyel robotlar; bilgisayar ve benzeri hassas cihazlardan otomotiv endüstrisine kadar çok farklı alanlarda hatasız üretim yapabildikleri için tercih edilmektedir.

Bu parçadaki numaralanmış cümlelerden hangisi, düşüncenin akışını bozmaktadır?

- A) II
- B) III
- C) IV
- D) V
- E) VI

9. Marmara Denizi, 50-60 yıl öncesine kadar Akdeniz foku, orkinos,

I

kalkan ve kılıç balığı gibi canlıların bol olduğu bir denizken, kirlilikten

II

III

etkilenmeyen, tür sayısı az, ama popülasyonları kalabalık, istilacı

türlerin yaşadığı bir deniz hâline geldi.

IV

V

Bu parçadaki numaralanmış sözcüklerden hangisini niteleyen bir söz kullanılmamıştır?

- A) I
- B) II
- C) III
- D) IV
- E) V

10. Aşağıdaki cümlelerin hangisinde "gibi" edatı yerine "üzere" sözcüğünün getirilmesi anlamda değişme veya bozulmaya yol açmaz?

- A) Olaylar beklediğim gibi sonuçlanmadığından canım sıkılmıştı.
- B) Daha önce belirtildiği gibi toplantı yarın akşam yapılacakmış.
- C) Hiç sıkıntısı yokmuş gibi market alışverişlerini de kendisi yapıyordu.
- D) Öykü yazarından okurlar gibi düşünebilmesi beklenmemelidir.
- E) Uykusuzluk ve yorgunluktan bayılacak gibi sağa sola sallanıyordu.

11. (I) Mevsim sonbahar olunca etrafa pervasızca yayılır kurumuş yapraklar. (II) Hafif bir rüzgâra bile dayanamaz, dalından koparak yere düşerler. (III) Bizim için hüznüldür tüm bu olup bitenler, oysa bitkilerin dünyasında durum farklıdır. (IV) Kış boyunca ağaçlar kendilerini dinlenmeye çeker ve yazın depoladıkları besini kullanarak yaşamlarını sürdürür. (V) Yapraklarına, besin yapan fabrikalarına, gerek yoktur.

Bu parçadaki numaralandırılmış cümlelerle ilgili olarak aşağıda verilenlerden hangisi yanlıştır?

- A) I'inci cümle, devrik cümledir.
B) II'nci cümle, sıralı cümledir.
C) III'üncü cümle, eylem cümlesidir.
D) IV'üncü cümle, bağlı cümledir.
E) V'inci cümle, ara söz içermektedir.

12. Aşağıdaki cümlelerin hangisinde isim-fiil ve bağ-fiil birlikte kullanılmıştır?

- A) Yaşadıklarını anlatırken sesi heyecandan titriyordu.
B) İleride yapacaklarımızı size özetlemeye çalıştım.
C) Eve girer girmez annemin dolmalarına saldırdım.
D) Gençken bu işleri yapmak daha kolaydı.
E) İşlerimi çabucak bitirip size yetişmeye çalışacağım.

13. (I) Havuza doğru yürüdü, yüzüne birkaç avuç su serpti. (II) Su, geniş yüzünde dağılıyor ve havuza dökülüyordu. (III) Ellerini dirseklerine kadar yıkadı; başına, boynuna su çarptı ve kareli mendiliyle başını, yüzünü kuruladı. (IV) Havuzun kenarına bıraktığı poşeti aldı, yorgun ve ağır adımlarla ikinci kata çıktı. (V) Biz de onun ardısına merdiveni çiktik.

Bu parçadaki numaralandırılmış cümlelerin hangisinde bir yazım yanlışı yapılmıştır?

- A) I B) II C) III D) IV E) V

14. Şiraz_ _ İran kültürünün kalbinin attığı kent_ _Geniş bir alana
I II
yayılan kentin göz bebeği_ _ Persepolis. Dört bir yanda Antik
III
Pers İmparatorluğu kalıntıları_ _ Binlerce yıldır ihtişamını koruyan
IV
antik kentte_ _ devasa sütunlar, her biri şaheser olan rölyefler,
V
anıtlar ve kaya mezarlıkları var.

Bu parçadaki numaralanmış noktalama işaretlerinden hangisi yanlıştır kullanılmıştır?

- A) I B) II C) III D) IV E) V

15. (I) Çocuklara yönelik ürünlerin ambalaj tasarımı tamamen çocukların dikkatini çekecek şekilde yapılıyor. (II) Seçilen renkler çocuğun duygu ve düşüncelerini etkileyerek alma isteğini harekete geçirecek şekilde belirleniyor. (III) Bu konuda özellikle yaş grupları göz önünde bulundurularak algı düzeylerine göre tasarım, renk ve içerik gibi unsurlar belirleniyor. (IV) Okul öncesi dönemdeki çocuklar parlak ve titreşen renklerden etkileniyor. (V) Araştırmalara göre, okul öncesi dönemdeki çocukların dikkatini, özellikle de gıda ambalajlarında ana renkler çekiyor.

Bu parçada numaralanmış cümlelerin hangilerinde çocuklara yönelik ürünlerin dikkat çekmesine yönelik yapılanlardan söz edilmektedir?

- A) I ve II B) II ve III C) I, II ve III
D) II, III ve IV E) III, IV ve V

16. (I) Büyükada'da olmak, doğanın dilini öğrenmek demektir. (II) Ben özellikle adanın sakin kuytularını çok seviyorum. (III) Bazen boya takımlarımı da alıp adanın içlerine doğru ilerler, sonra kendime uygun bir yer seçerim. (IV) Sırt üstü kırlara uzanır, uzun uzun renkleri izler, içime dolan güzellikleri tuvale aktarıyorum. (V) Burası resim yapmak kadar okumak için de çok ideal. (VI) Sırtımı ağaca dayayıp arada bir gözümü kitaptan kaldırdığımda eşsiz manzaranın güzelliği beni adeta büyüleyiveriyor.

Bu parçadaki numaralanmış cümlelerin hangisinden sonra düşüncenin akışına göre, "Adada özellikle sanatçı ruhların kentten uzaklaşıp ilham alabileceği pek çok köşe var." cümlesi getirilebilir?

- A) II B) III C) IV D) V E) VI

17. İyi bir şiirde imge, şiire kan pompalayan ve sonra yine kanla dolan yürek gibidir. Eğer imgeyle sözcükler arasında böyle bir dolaşım sağlanamazsa imge de şiir de değerini ve yaşamını yitirebilir. Çünkü şiir organik bir bütünlükten yoksun kalır.

Bu parçada imgeyle ilgili olarak aşağıdakilerden hangisine ulaşamaz?

- A) Sözcüklerin yaşam kaynağı olduğuna
- B) Şiiri beslediğine
- C) Şiirin bütünlüğünü sağladığına
- D) Şiiri oluşturan en önemli öge olduğuna
- E) Sözcüklere değer kattığına

18. Sagalassos, Roma egemenliğine girdikten sonra doğal su kaynaklarının zenginliğiyle dikkat çekmiştir. Sagalassos'u keşfeden Fransız gezgin Paul Lucas bölgenin güzelliği ve suyunun bolluğu hakkında "Hayatımda burası kadar çok pınarı olan bir yer daha görmedim. Pınardan çıkan sular hemen dereler oluşturuyor ve her yere bereket getiriyor." demiştir. Böylesine zengin su kaynaklarına sahip olması Sagalassos'u Pisidya'nın en önemli kenti hâline getirmiştir. Siyasi nüfuzu artan şehir, Burdur Ovası gibi bölgenin verimli ovalarını da zamanla sınırlarına dâhil etmiştir.

Bu parçayla ilgili olarak aşağıdakilerin hangisi söylenemez?

- A) Tanımlamaya başvurulmuştur.
- B) Birleşik eylem kullanılmıştır.
- C) Alıntıya yer verilmiştir.
- D) Karşılaştırma yapılmıştır.
- E) Açıklayıcı anlatım yeğlenmiştir.

19 – 20. soruları aşağıdaki parçaya göre cevaplayınız.

(I) Güllab ve Deysan ırmaklarının suladığı Kuzey Mezopotamya düzlüğündeki Harran Ovası'nın eteklerine yayılan Harran, tarih ve medeniyetin buluşma noktası. (II) Kenti çevreleyen yaklaşık 4 kilometre uzunluğunda, 3 metre genişliğindeki surların 187 burcu bulunuyor. (III) Kubbeli evleri, tarihî kalesi, ilk İslam üniversitesinin kalıntıları ve kutsal ziyaret yerleri ile Harran, Anadolu'nun Mezopotamya'ya açılan kapısı. (IV) Tarih boyunca Ay, Güneş ve gezegenlerin kutsal sayıldığı eski Mezopotamya'daki Asur ve Babillerin çok tanrılı inanca dayanan paganizminin de önemli merkezlerindendi burası. (V) Bu nedenle Harran'da astronomi ilmi çok ilerlemiş. (VI) Dünyadaki üç büyük felsefe ekolünden biri "Harran Ekolü". (VII) İlk Çağ'dan beri varlığı bilinen Harran Üniversitesinde dünyaca ünlü birçok bilgin yetişmiş.

19. Bu parçada anlatılan Harran'la ilgili olarak aşağıdakilerin hangisine değinilmemiştir?

- A) Mezopotamya uygarlığı içinde yer aldığına
- B) Birçok inancın buluşma noktası olduğuna
- C) Etrafında surların bulunduğu
- D) Tarih ve kültür yönünden zenginliğine
- E) İlk Çağ'da bilim ve felsefede ilerlediğine

20. Bu parçadaki numaralandırılmış cümlelerin hangileri arasında neden - sonuç ilişkisi vardır?

- A) II ile III
- B) III ile IV
- C) IV ile V
- D) V ile VI
- E) VI ile VII

21 – 22. soruları aşağıdaki parçaya göre cevaplayınız.

(I) Antik kent kalıntıları, tarihî surlar ve kapılar, İznik'in görülmeye değer zenginliklerindedir. (II) Doğal güzellikleri ve Antik Çağlara uzanan kadim tarihi bir yana, bugün hâlâ dünyanın en zarif ve değerli çinilerinin üretildiği bir yer İznik. (III) Kent merkezine doğru indiğinizde adım başı rastlayacağınız çini atölyeleri ve satış yerleri, rengârenk tabaklar, objeler, tablolar ve takılar sanatın burada durmaksızın özveriyle icra edildiğinin bir göstergesi. (IV) Alışveriş sırasında çinilerin yanı sıra bölgede üretilen zeytin ve zeytinyağlarının da raflarda yer aldığını görebilirsiniz. (V) Akşam olup el ayak çekildiğinde koca çınarların arasından sakince yürüyerek tarihte yaptığınız yolculuğu daha da derinden hissedeceksiniz.

21. Bu parçada İznik ile ilgili olarak aşağıdakilerin hangisine değinilmemiştir?

- A) Tarihinin çok eskilere dayandığına
- B) Çinileri, doğası ve tarihi ile önem taşıdığına
- C) Çini üretiminin yaygın olarak yapıldığına
- D) Çini üretimi ve satışının birlikte yapıldığına
- E) Önemli alışveriş merkezlerinden biri olduğuna

22. Bu parçadaki numaralanmış cümlelerin hangisinde öznellik söz konusu değildir?

- A) I
- B) II
- C) III
- D) IV
- E) V

23 – 24. soruları aşağıdaki parçaya göre cevaplayınız.

(I) Kastamonu'da 16. yüzyılda inşa edilen Nasrullah Camisi, şehre gelenleri seçkin bir tarihî miras olarak selamlıyor. (II) İç mekân süslemeleri ve hat yazıları ile mimari zarafet örneği olan caminin minberi, özgün ahşap işleme sanatının en muhteşem örneklerinden biri. (III) Kastamonu'da bulunan bir diğer kültür mirası ise Kasaba köyünde bulunan Çivisiz Camisi'dir. (IV) Tam bir başyapıt olan cami 1366 yılında inşa edilmiş ve yıkılmadan bugüne ulaşmıştır. (V) Hayli sade ve mütevazı bir dış görünüm ile ziyaretçilerini karşılayan cami, bütün görkemini içeride saklıyor. (VI) Ahşap unsurları bindirme tekniği ile çivisiz olarak inşa edilen bu nadide yapı, Türk ahşap mimarisinin şaheserlerinden biri.

23. Bu parçada sözü edilen tarihî eserlerle ilgili olarak aşağıdakilerden hangisine değinilmemiştir?

- A) Ahşap işleme sanatının özgün ürünleri olduklarına
- B) Kültürel miras özelliği taşıdıklarına
- C) Aynı ahşap tekniğiyle inşa edildiklerine
- D) Günümüze kadar tahrip olmadan kalabildiklerine
- E) İç mekân süslemeleri ile öne çıktıklarına

24. Bu parçadaki numaralandırılmış cümlelerin hangilerinde kişileştirme yapılmıştır?

- A) I ve II
- B) II ve IV
- C) III ve V
- D) I ve V
- E) III ve VI

25 – 27. soruları aşağıdaki parçaya göre cevaplayınız.

Suyun günümüzdeki doğal kaynaklar arasında gittikçe öne çıkan önemli bir yeri var. Özellikle de Orta Doğu'da su gittikçe önem kazanan bir yere sahip. Orta Doğu'da 20. yüzyıl boyunca yaşanan politik çekişme ve istikrarsızlığın en önemli nedeni petroldü. Çok önemli bir enerji kaynağı olarak petrol, bölgenin şekillenmesi ve ekonomi politiği bakımından oldukça etkiliydi. Ne var ki petrolün bugünlerde tahtı sallanıyor. Dünyada, özellikle de Orta Doğu'da stratejik önemi olan başka bir doğal kaynak ön plana çıkıyor: su. Petrol kadar önemli ve petrolden daha yaşamsal olan su, çetin bir iklime sahip olan Orta Doğu'da en değerli şeylerden biridir. Orta Doğu'nun en önemli su kaynakları olan can kaynağı durumundaki nehirleri, farklı devletlerin sınırlarını aşmaktadır. Bölgedeki hiçbir büyük nehir, bir devletin sınırları içinde çıkıp o devletin sınırları içinde denize akmamakta, en önemli nehirler iki, hatta üçten fazla devletin sınırları içinde geçmekte ve böylece nehirler üzerindeki anlaşmazlığın boyutu genişlemektedir.

25. I. İklim
II. Politik durum
III. Yeryüzü şekilleri

Bu parçaya göre Orta Doğu'da suyun petrolden daha fazla öne çıkmasında ve su kaynaklarıyla ilgili sorun yaşanmasında yukarıdakilerden hangilerinin etkisi söz konusudur?

- A) Yalnız I B) Yalnız II C) Yalnız III
D) I ve III E) II ve III

26. **Bu parçada geçen "tahtı sallanmak" ifadesiyle anlatılmak istenen aşağıdakilerden hangisidir?**

- A) yer değiştirmek
B) önemini yitirmek
C) çöküntüye uğramak
D) değeri artmak
E) elinde bulundurmak

27. **Bu parçanın anlatımıyla ilgili olarak aşağıdakilerden hangisi söylenemez?**

- A) Alıntıya yer verilmiştir.
B) Karşılaştırmaya gidilmiştir.
C) Açıklama yapılmıştır.
D) Terim kullanılmıştır.
E) Öznellik söz konusudur.

28 – 30. soruları aşağıdaki bilgilere göre, birbirlerinden bağımsız olarak cevaplayınız.

Ali, Can, Emre, Hüseyin adlı erkeklerle Betül, Didem ve Filiz adlı kızların bir spor kulübünde eskrim, voleybol, hentbol ve yüzme kurslarından hangilerine kaydolduklarıyla ilgili olarak şunlar bilinmektedir:

- Herkes en az iki kursa kaydolmuştur.
- Eskrim kursuna iki erkek bir kız kaydolmuştur.
- Can ve Didem aynı kurslara kaydolmuştur.
- Voleybol kursuna kaydolan 4 kişiden biri Ali'dir.
- Hentbol kursuna kaydolan kişilerin üçü de erkektir.
- Betül'ün kaydolduğu kurslardan biri yüzmedir.

28. **Bu bilgilere göre, aşağıdaki ifadelerden hangisi kesin olarak doğrudur?**

- A) Filiz, yüzme kursuna kaydolmuştur.
B) Emre, eskrim kursuna kaydolmuştur.
C) Ali, hentbol kursuna kaydolmuştur.
D) Hüseyin, eskrim kursuna kaydolmuştur.
E) Can, voleybol kursuna kaydolmuştur.

29. **Filiz'in eskrim kursuna kaydolduğu biliniyorsa;**

- I. Can,
II. Betül,
III. Hüseyin

adlı kişilerden hangilerinin kaydolduğu kurs kesin olarak bilinmektedir?

- A) Yalnız I B) Yalnız II C) Yalnız III
D) I ve II E) I, II ve III

30. **Hüseyin ve Emre'nin voleybol kursuna kaydoldukları biliniyorsa aşağıdaki ifadelerden hangisi kesin olarak yanlıştır?**

- A) Filiz, voleybol kursuna kaydolmuştur.
B) Can, eskrim voleybol kursuna kaydolmuştur.
C) Didem, yüzme kursuna kaydolmuştur.
D) Betül, eskrim kursuna kaydolmuştur.
E) Ali, yüzme kursuna kaydolmuştur.

31. $(0,073 + 0,027) \cdot (0,657 + 0,443)$

işleminin sonucu kaçtır?

- A) 0,1 B) 0,11 C) 0,111 D) 1,1 E) 11

32. $2 \cdot (x - 1) + 3 \cdot (x + 1) = 51$

denklemini sağlayan x değeri kaçtır?

- A) 10 B) 11 C) 12 D) 13 E) 14

33. İki basamaklı bir doğal sayı, rakamları toplamının en fazla kaç katı olabilir?

- A) 7 B) 8 C) 9 D) 10 E) 11

34. Sadece iki tanesi 500'den küçük üç basamaklı dört farklı pozitif tam sayının toplamı 1453'tür.

Bu sayılardan en büyüğü en çok kaçtır?

- A) 501 B) 702 C) 750
D) 751 E) 752

35. $\frac{A}{3} \mid \frac{B}{4} \quad \frac{C}{4} \mid \frac{A}{3}$

Yukarıdaki bölme işlemlerine göre, B'nin C türünden ifadesi aşağıdakilerden hangisidir?

- A) $\frac{C-13}{12}$ B) $\frac{C-12}{13}$ C) $12C+13$
D) $13C+12$ E) $\frac{12C+3}{12}$

36. $\frac{3}{8} < \frac{x}{24} < \frac{13}{16}$

olduğuna göre, x aşağıdakilerden hangisi olabilir?

- A) 8 B) 9 C) 19 D) 20 E) 29

37. a ve b iki basamaklı pozitif tam sayılardır.

$$\frac{\text{ebob}(a,b)}{\text{ekok}(a,b)} = \frac{1}{20}$$

olduğuna göre, a + b toplamının alabileceği en küçük değer aşağıdakilerden hangisidir?

- A) 18 B) 25 C) 27 D) 35 E) 40

38. $\frac{(475)^2 - (175)^2}{(725)^2 - (575)^2}$

işleminin sonucu kaçtır?

- A) 1 B) 2 C) 4 D) 8 E) 16

39. a ve b pozitif gerçel sayılardır.

$$4^a = 3^b$$

olduğuna göre, $\frac{b}{a}$ sayısı için aşağıdakilerden hangisi doğrudur?

- A) $\frac{b}{a} < 0$ B) $0 < \frac{b}{a} < 1$ C) $1 < - < 2$
D) $\frac{b}{a} > 2$ E) $2 < \frac{b}{a} < 3$

40. x, y ve z pozitif tam sayı olmak üzere;

$$2x = 3y = 4z \text{ ve } |x - y| + |z - y| = 6$$

olduğuna göre, x kaçtır?

- A) 3 B) 6 C) 12 D) 11 E) 20

41. a ve b gerçel sayılar olmak üzere;

$$-5 \leq a < 3$$

$$2 < b \leq 7$$

eşitsizlikleri veriliyor.

Buna göre, $a^2 - b^2$ ifadesinin en küçük tam sayı değeri kaçtır?

- A) -49 B) -40 C) -12 D) 3 E) 35

42 – 43. soruları aşağıdaki bilgilere göre cevaplayınız.

Ayşe, Burak, Cem, Dursun ve Enes adlı arkadaşlar yaz tatilinde toplam 25 kitap okumuştur. Bu kişilerin okudukları kitap adetleri ile ilgili şunlar bilinmektedir:

- Herkes en az 1 tane kitap okumuştur.
- Burak hariç diğerleri en az 2 tane kitap okumuştur.
- Ayşe, Burak ve Cem toplam 11 kitap okumuştur.
- Dursun ve Enes eşit sayıda kitap okumuştur.
- En çok sayıda kitabı Cem okumuştur.

42. Dursun toplam kaç kitap okumuştur?

- A) 4 B) 5 C) 7 D) 8 E) 9

43. Cem toplam kaç kitap okumuştur?

- A) 6 B) 7 C) 8 D) 9 E) 10

44. Özlem parasının $\frac{1}{4}$ 'ünü Özge'ye verirse paraları eşit oluyor.

Buna göre, başlangıçta Özlem'in parasının, Özge'nin parasına oranı aşağıdakilerden hangisidir?

- A) 1,5 B) 2 C) 2,5 D) 3 E) 3,5

45. Toprak ile Ece'nin bugünkü yaşları toplamı 38'dir.

Toprak, Ece'nin yaşına geldiğinde Ece 22 yaşında olacağına göre, Toprak'ın bugünkü yaşı kaçtır?

- A) 21 B) 20 C) 19 D) 18 E) 17

46. Bir malın yarısı %60 kârla, üçte biri %80 kârla ve kalan kısmı da %40 zararla satılıyor.

Buna göre, bu malın tamamının satışındaki kâr yüzdesi kaç olur?

- A) 20 B) 30 C) 40 D) 50 E) 60

47. %30'luk tuzlu suyun $\frac{1}{4}$ 'ü buharlaştırılırsa, geriye kalan karışımın tuz oranı yüzde kaç olur?

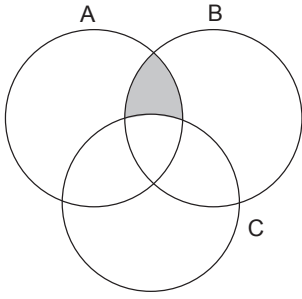
- A) 33 B) 35 C) 40 D) 43 E) 45

48. Zeynep ile Ela bir işi beraber 12 günde yapabilmektedir. Beraber işe başladıktan 3 gün sonra, Zeynep işi bırakıyor ve kalan işin yarısını Ela 9 günde yapabiliyor.

Buna göre, Zeynep işi bırakmadan önce işin kaçta kaçını yapmıştır?

- A) $\frac{1}{24}$ B) $\frac{1}{16}$ C) $\frac{1}{12}$ D) $\frac{1}{8}$ E) $\frac{1}{4}$

49.



Şekilde A, B, C kümeleri verilmiştir.

Taralı bölge aşağıdakilerden hangisi ile ifade edilir?

- A) $(A \cap B) \setminus C$ B) $(B \cap C) \setminus A$ C) $A \setminus (B \cup C)$
D) $A \cap B \cap C$ E) $(A \cup C) \setminus B$

50. Bir oyunda 4 erkek ve 6 kız öğrenci rol almak istiyor.

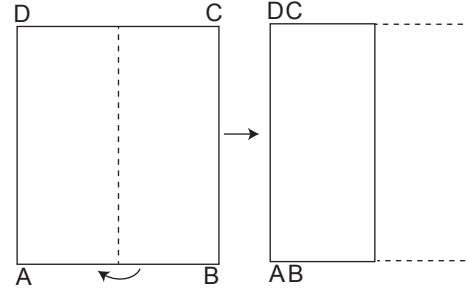
Buna göre, en fazla 2 kız öğrencinin rol alabileceği 3 kişilik bu oyun için oyuncular kaç farklı şekilde seçilebilir?

- A) 100 B) 90 C) 80 D) 75 E) 60

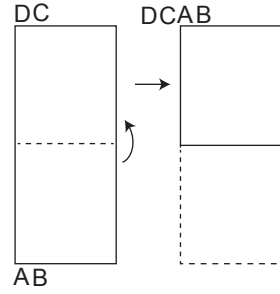
51 – 52. soruları aşağıdaki görsellere göre cevaplayınız.

Aşağıda kare biçimindeki bir kâğıdın iki adımda dörde katlanması gösterilmektedir.

Birinci adımda kâğıt sağdan sola katlanmaktadır.

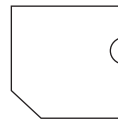


İkinci adımda ise aşağıdan yukarıya katlanmaktadır.

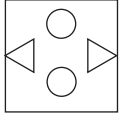
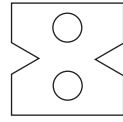
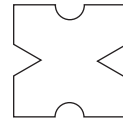
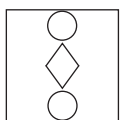
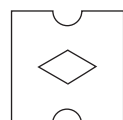


Oluşan küçük kareden bazı parçalar kesilerek çıkarılmakta ve şekil tekrar açılmaktadır.

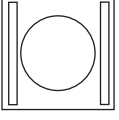
51. İkinci adımdan sonra oluşan kâğıt, aşağıdaki gibi kesiliyor.



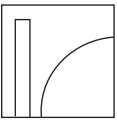
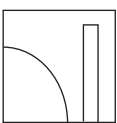
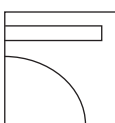
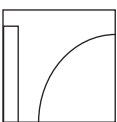
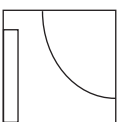
Buna göre, kâğıt katlandığı yerlerden açılırsa, kâğıdın görünümü aşağıdakilerden hangisi gibi olur?

- A)  B)  C) 
D)  E) 

52. Kesilen parçalar çıkarıldıktan sonra, kâğıt katlandığı yerden açılıyor ve aşağıdaki görüntü elde ediliyor.



Buna göre, kâğıdın açılmadan, parçalar kesildikten sonraki görüntüsü aşağıdakilerden hangisidir?

- A)  B)  C) 
- D)  E) 

53 – 54. soruları aşağıdaki bilgilere göre cevaplayınız.

Bir lokantada verilen iki farklı menüyü seçerek yemek yiyenlerden bir günde toplam 2400 TL para kazanılmıştır. I. menünün ücreti, II. menünün ücretinin $\frac{2}{3}$ 'üdür. I. menüyü yiyenlerin sayısı, II. menüyü yiyenlerin sayısının 3 katıdır.

53. I. menüyü yiyenlerden kazanılan para kaç TL'dir?
- A) 1050 B) 1200 C) 1500
D) 1600 E) 1800

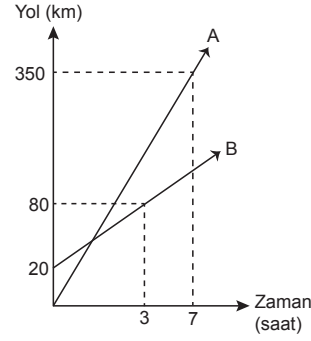
54. II. menünün fiyatı 16 TL olduğuna göre, II. menüyü kaç kişi yemiştir?
- A) 24 B) 32 C) 36 D) 40 E) 50

55. R'de * ve Δ işlemleri,
 $x * y = x^2 - xy - (x \Delta y)$
 $x \Delta y = -y^2 + xy + (x * y)$
 şeklinde tanımlanıyor.

Buna göre, $2013 * 2019$ işleminin sonucu kaçtır?

- A) 14 B) 15 C) 16 D) 17 E) 18

56 – 57. soruları aşağıdaki bilgilere göre cevaplayınız.

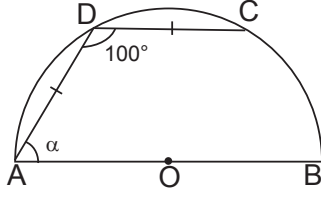


Yukarıdaki grafik aynı anda harekete başlayan A ve B araçlarının zamana göre aldıkları yolları göstermektedir.

56. A aracı, B aracına kaç dakika sonra yetişir?
- A) 30 B) 35 C) 40 D) 50 E) 55

57. A aracı, B aracına yetiştikten 5 saat sonra aralarındaki mesafe kaç km olur?
- A) 75 B) 100 C) 120 D) 150 E) 200

58.




Şekildeki O merkezli çemberde [AD] ve [DC] kırımları çizilmiştir.

$m(\widehat{CDA}) = 100^\circ$ ve $|AD| = |DC|$

olduğuna göre, $m(\widehat{DAB}) = \alpha$ kaç derecedir?

- A) 40 B) 45 C) 50 D) 60 E) 75

60.

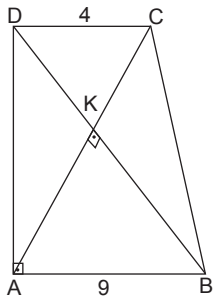


Yukarıdaki şekil bir kenarı 2 br olan bir küpün açık hâlidir.

Buna göre, bu şeklin herhangi iki köşesi arasındaki uzaklık en fazla kaç br'dir?

- A) $4\sqrt{6}$ B) $4\sqrt{5}$ C) $2\sqrt{19}$
D) $2\sqrt{17}$ E) $6\sqrt{8}$

59.



Şekildeki ABCD dik yamuktur.

[AD] \perp [AB],

[AC] \perp [BD],

[DC] // [AB],

|DC| = 4 cm,

|AB| = 9 cm

olduğuna göre, A(ABCD) kaç cm^2 dir?

- A) 36 B) 39 C) 42 D) 45 E) 48

1. I. Tarihte töre sistemini yazılı hâle getiren ilk Türk devletidir.
II. Din değiştiren ilk Türk devletidir.
III. Türk tarihinin ilk yazılı belgesini hazırlamışlardır.

Yukarıda verilen bilgilerden hangileri Uygur Devleti'ne ait özellikler arasında gösterilebilir?

- A) Yalnız I B) Yalnız II C) Yalnız III
D) I ve II E) I, II ve III

3. XIII. yüzyılda Anadolu'da kurulmuş olan bu teşkilat, Türk gelenek ve göreneklerini bulunduğu bölgelerde yaşatarak çevresine örnek olurdu. Kadınların eğitimi ile ilgilenir ve kimsesiz kadınlara sahip çıkarlardı.

Yukarıda özellikleri verilen teşkilatlanma aşağıdakilerden hangisidir?

- A) Ahilik
B) Lonca
C) Gazıyan-ı Rum
D) Bacıyan-ı Rum
E) Abdalan-ı Rum

4. I. Enderun Mektebinin açılması
II. Yaya ve müselleme adı verilen ilk düzenli ordunun oluşturulması
III. İlk kez kadı ve subaşı atamasının yapılması

Osmanlı Devleti'nde yukarıda verilen gelişmelerden hangileri I. Murat Dönemi'ne aittir?

- A) Yalnız I B) Yalnız II C) Yalnız III
D) I ve II E) I, II ve III

2. I. Atabetü'l Hakayık → Uygur alfabesiyle yazılmış eğitici öğretici bir ahlak kitabıdır.
II. Divaniinşa → Sultanın iç ve dış yazışmalarından sorumludur.
III. Kümbet → Selçukluların çadır şeklinde yaptıkları ve İslam mimarisine kazandırdıkları türbelerdir.
IV. Karluklar → Doğu Anadolu'da İslamiyet'i kabul eden ilk Türk devletidir.
V. Gazneli Mahmut → Karahanlılarla ittifak kurarak Samanoğullarının varlığına son vermiştir.

Türk - İslam tarihiyle ilgili olarak yukarıda verilenlerden hangisinin açıklaması yanlıştır?

- A) I B) II C) III D) IV E) V

5. Osmanlı Devleti'nde resmî tarih yazıcılarına "vakanüvis" adı verilmektedir.

Osmanlı Devleti'nde ilk vakanüvis aşağıdakilerden hangisidir?

- A) Tursun Bey
B) Mustafa Naima Efendi
C) Hoca Saadettin
D) Davudu Kayseri
E) Aşıkpaşazade

6. Osmanlı Devleti'nde mahkemelerde alınan kararların kaydedildiği defterler aşağıdakilerden hangisidir?

- A) Mühimme defterleri
- B) Tahrir defterleri
- C) Şeriyye sicilleri
- D) Tereke defterleri
- E) Layiha

7. Osmanlı Devleti'nde 1908'de açılan Batılı tarzda ilk müzik okulu aşağıdakilerden hangisidir?

- A) Mızıka-yı Hümâyun
- B) Dârülelhan
- C) Sanayi-i Nefise Mektebi
- D) Darülbedayi
- E) Musiki Muallim Mektebi

8. XVIII. yüzyılda Osmanlı Devleti Avrupa devletleriyle siyasi, kültürel, sosyal ve bilimsel anlamda etkileşime girmiştir.

Osmanlı Devleti'nin bu dönemde Batı'ya açılan ilk penceresi olarak değerlendirilen eser aşağıdakilerden hangisidir?

- A) Seyahatname
- B) Sefaretname
- C) Mecelle
- D) Cihannüma
- E) Vankulu Lügati

9. Aşağıdakilerden hangisi II. Mahmut Dönemi'nde yapılan ıslahatlardan biri değildir?

- A) Askerî amaçlı ilk nüfus sayımının yapılması
- B) Müsadere usulüne son verilmesi
- C) Mektebi Erkânı Harbiyenin açılması
- D) İlk Türk matbaasının kurulması
- E) Mektebi Maarifi Adliyenin açılması

10. Osmanlı Devleti'nin dağılmasını önlemek amacıyla XIX. yüzyılda fikir akımları ortaya çıkmıştır.

Bunlardan Osmanlılık fikrinin temsilcileri arasında;

- I. Mithat Paşa,
- II. Ziya Paşa,
- III. Mehmet Akif

adlı kişilerden hangileri yer almaktadır?

- A) Yalnız I
- B) Yalnız II
- C) Yalnız III
- D) I ve II
- E) I, II ve III

11. Tanzimat Dönemi gelişmeleri arasında aşağıdakilerden hangisi gösterilemez?

- A) İstanbul - Edirne arasına ilk telgraf hattının çekilmesi
- B) İlk demir yolu hattının açılması
- C) Encümeni Danışın açılması
- D) Mürur Tezkeresinin uygulanması
- E) İltizam sisteminin kaldırılması

12. Osmanlı Devleti'nin I. Dünya Savaşı'na girmesiyle;

- I. Almanya'nın Avrupa'daki savaş yükünün hafiflemesi
- II. İtilaf devletlerinin gizli antlaşmaları öne sürmesi
- III. Rusya'da Bolşevik İhtilali'nin çıkması
- IV. İngiltere'nin Kıbrıs'ı topraklarına kattığını açıklaması

gelişmelerinden hangileri gerçekleşmiştir?

- A) I ve II
- B) I ve III
- C) I, II ve III
- D) I, II ve IV
- E) I, III ve IV

13. – Merkezi İstanbul olan cemiyet, basın - yayın yoluyla Türk halkının haklı sesini dünyaya duyurmaya çalışmıştır.

– Cemiyetin kurucuları arasında yer alan Dr. Esat Işık, raporunda Kuvayimilliyeye tabirinden ilk kez söz etmiştir.

Yukarıda özellikleri verilen millî varlığa yararlı cemiyet, aşağıdakilerden hangisidir?

- A) Kilikyalılar
- B) Doğu Anadolu Müdafai Hukuk
- C) Reddi İlhak
- D) Millî Kongre
- E) Trakya Paşaeli

14. I. Temsil Heyetinin yürütme yetkisini kullanması
II. Komutanlar toplantısının yapılması
III. Damat Ferit Paşa Hükümetinin istifa etmesi
- Yukarıda verilenlerden hangileri Sivas Kongresi'nin sonuçları arasında yer almaktadır?**
- A) Yalnız I B) Yalnız II C) Yalnız III
D) I ve II E) I, II ve III

15. – Sivas Kongresi'nde alınan bir kararla çıkarılmaya başlanmıştır.
– İlk yazıları Mustafa Kemal yazmıştır.
– Mustafa Kemal'in "benim gazetem" dediği yayındır.
- Yukarıda özellikleri verilen Millî Mücadele yanlısı basın organını aşağıdakilerden hangisidir?**

- A) Hakimiyeti Milliye
B) İradei Milliye
C) Hukuku Beşer
D) Albayrak
E) İstikbal

16. Millî Mücadele Dönemi'nde Güney Cephesi'nde göstermiş oldukları direniş ve başarıdan dolayı bazı şehirlerimize unvanlar verilmiştir.

Bunlardan;

- I. Antep,
II. Maraş,
III. Urfa

şehirlerinden hangilerine unvanlar, Atatürk Dönemi'nde verilmiştir?

- A) Yalnız I B) Yalnız II C) Yalnız III
D) I ve II E) I, II ve III

17. **Mustafa Kemal aşağıdaki gelişmelerden hangisinin sonucunda İsmet Paşa'ya çektiği telgrafta "Siz orada yalnız düşmanı değil, milletin makus talihini de yendiniz." demiştir?**

- A) I. İnönü Savaşı
B) II. İnönü Savaşı
C) Eskişehir - Kütahya Savaşı
D) Dumlupınar Meydan Savaşı
E) Sakarya Savaşı

18. **24 Temmuz 1923'te imzalanan Lozan Barış Antlaşması'nda yer alan konulardan hangisi daha sonraki dönemde dış politikada gündeme gelmemiştir?**

- A) Boğazlar
B) Yabancı okullar
C) Savaş tazminatı
D) Musul sorunu
E) Nüfus mübadelesi

19. **Aşağıdaki partilerden hangisi Şeyh Sait İsyanı ile ilgisi olduğu gerekçesiyle kapatılmıştır?**

- A) Serbest Cumhuriyet Fırkası
B) Terakkiperver Cumhuriyet Fırkası
C) Ahali Cumhuriyet Fırkası
D) Amele ve Çiftçi Fırkası
E) Cumhuriyet Halk Fırkası

20. Cumhuriyetin ilk yıllarında Atatürk'ün direktifiyle konservatuvar hazırlıklarına başlandı.

Atatürk, Türk operasının hazırlanması için aşağıdaki müzisyenlerden hangisini görevlendirmiştir?

- A) Cemal Reşit Rey
B) Ulvi Cemal Erkin
C) Ahmet Adnan Saygun
D) Hasan Ferit Ahar
E) Necil Kazım Akses

21. I. Medreseler
II. Kuzat Mektebi
III. Azınlık okulları

Atatürk Dönemi'nde eğitim alanında birliği sağlamak için yukarıda verilen eğitim kurumlarından hangileri kapatılmıştır?

- A) Yalnız I B) Yalnız II C) Yalnız III
D) I ve II E) I, II ve III

22. **Mustafa Kemal'in, "Türk milletinin yüzyıllardır beklediği ses" diyerek övdüğü, vatan, millet, hürriyet ve yurt kavramlarını sıkça kullanan şair aşağıdakilerden hangisidir?**

- A) Tevfik Fikret
B) Namık Kemal
C) Ziya Gökalp
D) Mehmet Emin Yurdakul
E) Mehmet Akif Ersoy

23. I. Şapka Kanunu
II. Tekke, zaviye ve türbelerin kapatılması
III. Yabancı şirketlerin satın alınması

Bu gelişmeler, sırasıyla aşağıdakilerden hangisinde verilen ilkelerle eşleştirilebilir?

- A) Cumhuriyetçilik - Halkçılık - Milliyetçilik
B) Halkçılık - Laiklik - Milliyetçilik
C) Laiklik - Milliyetçilik - Devletçilik
D) Halkçılık - İnkılapçılık - Devletçilik
E) Cumhuriyetçilik - Halkçılık - İnkılapçılık

24. Atatürk Dönemi'nde dış politikada dünya barışına ve bölgesel ittifaklara önem verilmiştir.

Türkiye'nin bu doğrultuda Atatürk Dönemi'nde katıldığı ilk oluşum aşağıdakilerden hangisidir?

- A) Locarno Paketi
B) Briand - Kellogg Paketi
C) Akdeniz Paketi
D) Sadabad Paketi
E) Balkan Antantı

25. **II. Dünya Savaşı'nın sonuçları arasında aşağıdakilerden hangisi gösterilemez?**

- A) Soğuk Savaş Dönemi'nin başlaması
B) Almanya, Vietnam ve Kore'nin ikiye ayrılması
C) Basmacı Hareketi'nin ortaya çıkması
D) Birleşmiş Milletlerin kurulması
E) İnsan Hakları Evrensel Beyannamesi'nin kabul edilmesi

26. **Soğuk Savaş Dönemi'nde Türkiye, Batılı devletlerle iş birliği yapmak ve kendi güvenliğini sağlamak için;**

- I. Kuzey Atlantik Paketi,
II. COMINFORM,
III. Marshall Planı

oluşumlarından hangilerinde yer almıştır?

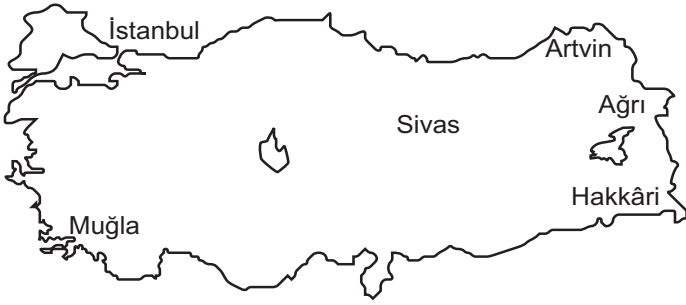
- A) Yalnız I B) Yalnız II C) Yalnız III
D) I ve III E) I, II ve III

27. Türk dilinin konuşulduğu ve Türkiye'ye komşu ülkeler başta olmak üzere, gelişmekte olan ülkelerin kalkınmalarına yardımcı olmak ve bu ülkeler arasında iş birliğini geliştirmek amacıyla kurulan teşkilattir.

Yukarıda amaçları belirtilen kuruluş aşağıdakilerden hangisidir?

- A) TÜRKSOY B) TİKA C) AĞİT
D) KEİ E) AET

28.



Türkiye’de sonbaharın son ayında Sivas’tan yola çıkan Azra, yukarıdaki haritada gösterilen illerden hangisine gittiğinde hem gece süresinin **daha uzun** olduğu hem de güneşin **daha geç** doğduğunu görmüştür?

- A) İstanbul B) Muğla C) Hakkâri
D) Artvin E) Ağrı

29. Aşağıdaki Türkiye haritasında buzullanmanın etkili olduğu dağlar gösterilmiştir.



Türkiye’nin buzul dağları incelendiğinde, buzullanmanın batıya doğru azalmasıdaki etken faktör aşağıdakilerden hangisidir?

- A) Ortalama yükseltinin azalması
B) Yer şekilleri engebелiliğinin azalması
C) Dağların uzanış doğrultusunun değişmesi
D) Kuzey Yarım Küre’de yer alması
E) Deniz etkisinin iç kesimlere geçebilmesi

30. Türkiye’nin fiziki yapısı incelendiğinde ovaların, toplam yüz ölçümünün yaklaşık %10’unu kapladığı görülmektedir.

Bu durumun görülmesinde, Türkiye’nin aşağıdaki özelliklerinden hangisi etkili olmuştur?

- A) Toplam arazinin yaklaşık %90’ının ormanlarla kaplı olması
B) Tarımda sulama olanaklarının yeterince gelişmemiş olması
C) Üç tarafı denizlerle çevrili bir yarımada olması
D) Yüzey yapısının daha çok engebелi arazilerden oluşması
E) Dış kuvvetlerde akarsuların daha çok etkili olması

31

(I) Akdeniz ikliminin karakteristik bitki örtüsü makidir. (II) Makiler, kı-zılçamların tahribi sonucu ortaya çıkan bitki türüdür. (III) Makiler, yıl boyunca yeşil kalabilen kısa boylu bodur bitki türleridir. (IV) Makilerin en geniş alanı Ege Bölgesi’dir. (V) Bunun temel nedeni Ege’de dağ-ların kıyıya paralel uzanmasıdır.

Yukarıdaki numaralandırılmış cümlelerin hangisinde bir bilgi **yanlıslığı** yapılmıştır?

- A) I B) II C) III D) IV E) V

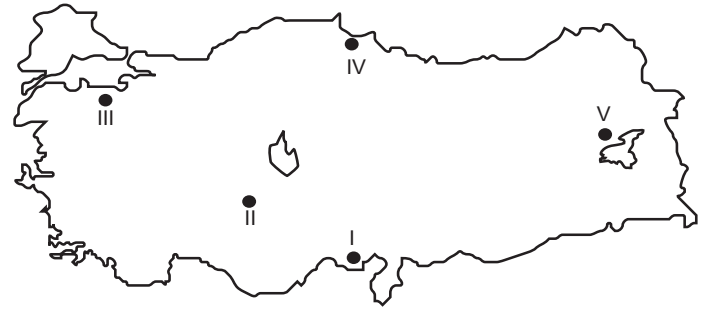
32

Demir yolları ile ilgili aşağıdaki gelişmelerden hangisi cum-huriyetin ilanından günümüze kadar yaşanan gelişmelerden biri **değildir**?

- A) Demiryollarının yabancı şirketlerden satın alınarak millileştiril-mesi
B) İşletmelerin TCDD adıyla iktisadi devlet teşekkülü hâline gel-mesi
C) Devlet demiryolları işletmelerinin Umum Müdürlüğü Münaka-lat Vekaletine bağlanması
D) Kıtalar arası deniz altı ray sistemlerinin açılması
E) İlk demir yolu hattının İzmir - Aydın arasında açılması

33.

Sulama olanaklarının geliştiği, yıllık ortalama sıcaklık değeri-nin yüksek olduğu ve tarım alanlarının verimli olduğu yörelerde tarım toprakları daha uzun süre kullanılabilir.



Verilen bu duruma göre, yukarıdaki Türkiye haritasında nume-ralandırılmış yörelerden hangisinde tarımda toprakların kullanı-mının **daha uzun** bir zaman dilimine yayıldığı söylenebilir?

- A) I B) II C) III D) IV E) V

34. Aşağıdaki tabloda Bursa ve Çanakkale illerine ait bazı özellikler gösterilmiştir.

	Çanakkale	Bursa
Nüfus	500.000	2.500.000
Çalışan Nüfus	400.000	2.000.000
İhracat (milyon dolar)	395	5.250
İthalat (milyon dolar)	345	6.685
Elektrik tüketimi (wh)	835.068	5.980.060

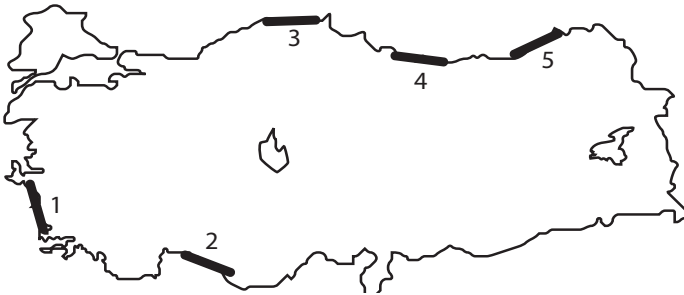
Tablodaki veriler dikkate alındığında Bursa ve Çanakkale'nin aynı bölgede olmalarına rağmen aşağıdaki özelliklerden hangisi bakımından farklı oldukları yorumuna ulaşamaz?

- A) Kalkınma düzeyi
B) Çevreden gelen göçler
C) Teknolojiyi kullanma düzeyleri
D) İhracat hacmi
E) Çalışan nüfusun toplam nüfusa oranı
35. Aşağıdaki Türkiye haritasında elektrik enerjisi üretiminde belirlenmiş iki merkez bulunmaktadır.



Haritada verilen merkezlerde kullanılan enerji kaynağı aşağıdakilerden hangisidir?

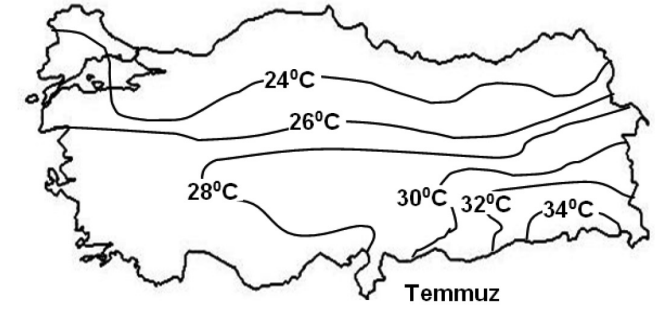
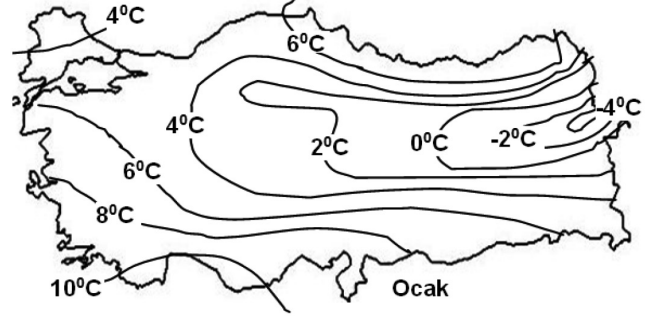
- A) Linyit
B) Jeotermal
C) Doğal gaz
D) Fuel-oil
E) Rüzgâr
36. Dalgakıran, kıyılardaki yapıları veya limanları dalgaların yıpratıcı etkisinden korumak amacıyla yapılan uzun setlerdir.



Türkiye'nin coğrafi özelliklerine bağlı olarak kıyıları incelendiğinde, numaralandırılmış alanların hangisindeki limanlarda dalgakıran yapma zorunluluğu daha azdır?

- A) 1
B) 2
C) 3
D) 4
E) 5

37. Aşağıdaki haritalarda Türkiye'nin ocak ve temmuz aylarına ait indirgenmiş sıcaklık değerleri verilmiştir.



Haritadaki değerler incelendiğinde aşağıdakilerden hangisine ulaşamaz?

- A) Ocak ayında kıyı ile iç kesimler arası sıcaklık farkları daha fazladır.
B) Akdeniz Bölgesi'nde yaz aylarında yağışlar nedeniyle sıcaklıklar daha azdır.
C) Temmuz ayında en sıcak bölge Güneydoğu Anadolu'dur.
D) Karadeniz kıyıları yaz aylarında en serin yerlerdir.
E) Ocak ayında, iç kesimlerden kıyılara doğru sıcaklık artmaktadır.
38. 2014 yılı nüfus sayımına göre, Ege Bölgesi'nin aritmetik nüfus yoğunluğu, Türkiye ortalamasının üzerindedir.

Buna göre, Ege Bölgesi'ndeki aşağıdaki illerden hangisi bu genellemeye uymaz?

- A) Afyon
B) Aydın
C) Denizli
D) Kütahya
E) Uşak

39. Türkiye’de nüfusun dağılışında fiziki ve beşerî faktörler etkili olmuştur.

Aşağıda verilen nüfusun sık olduğu yerler ve bu durumun nedeni olan eşleştirmelerden hangisi **yanlıştır**?

- A) Batı Karadeniz – Demir - çelik sanayisi
 B) Ege kıyıları – Ulaşım, ticaret, turizm, tarım
 C) Gaziantep yöresi – Karstik şekillenme
 D) Antalya kıyıları – Turizm
 E) Yukarı Sakarya – Başkent, sanayi, ticaret

40. Bir bölgede yaz aylarının serin ve yağışlı geçmesi, aşağıdaki tarım ürünlerinden hangisinin yetişmesini engellemiştir?

- A) Çeltik B) Pirinç C) Mısır
 D) Fındık E) Pamuk

41. Türkiye’de “inanç turizmi koridoru” olarak adlandırılan hatta aşağıdaki illerden hangisi **yer almamaktadır**?

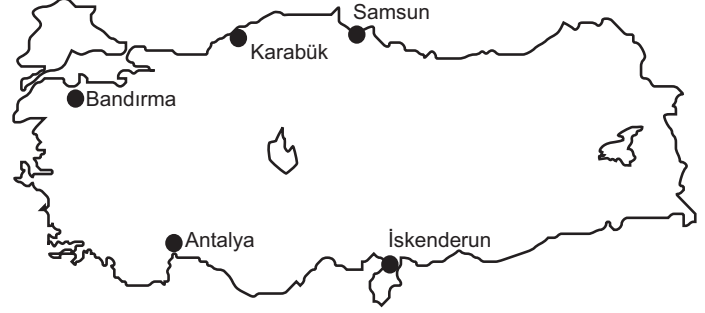
- A) Şanlıurfa B) Hatay C) Konya
 D) Adıyaman E) Mardin

42. Türkiye’de batıdan doğuya gidildikçe kişi başına düşen enerji tüketiminde azalma görülmektedir.

Bu duruma göre, aşağıdakilerden hangisine **kesin olarak ulaşılabilir**?

- A) Elektrik üretiminde sanayi tesislerinin etkisinin olmadığı
 B) Doğuda elektrikli ev aletleri sayısının az olduğu
 C) Batıda enerji üretiminin fazla olduğu
 D) Doğuda termik enerji kaynaklarının yetersiz olduğu
 E) Batıda sanayi faaliyetlerinin daha yoğun olduğu

43. Aşağıdaki Türkiye haritasında bazı merkezler gösterilmiştir.



Türkiye’de çıkarılan yer altı kaynaklarından hangisi, yukarıdaki haritada gösterilen merkezlerden en az birinde **işletilmemektedir**?

- A) Demir B) Bakır C) Civa
 D) Krom E) Bor

44. Yerleşim özelliklerine göre bölge sınıflaması yapıldığında yerleşim alanları, kırsal ve kentsel olarak ikiye ayrılır.

Aşağıdaki illerimizden hangisinde kırsal nüfus oranı diğerlerine göre **daha fazladır**?

- A) Bursa B) Rize C) Adana
 D) Denizli E) İzmir

45. I. Turizmi çeşitlendirmek
 II. Bağcılık, meyvecilik, arıcılık gibi faaliyetlerin gelişmesini sağlamak
 III. Ulaşım, iletişim ve enerji alt yapısını güçlendirmek

gibi amaçları olan ve Amasya, Çorum, Yozgat, Tokat, Samsun illerini kapsayan bölgesel kalkınma projesi aşağıdakilerden hangisidir?

- A) Doğu Karadeniz Kalkınma Projesi
 B) Zonguldak, Bartın, Karabük Projesi
 C) Güneydoğu Anadolu Projesi
 D) Yeşilirmak Havzası'nı Geliştirme Projesi
 E) Doğu Anadolu Kalkınma Projesi

46. Aşağıdakilerden hangisi sınırlı ehliyetsizdir?

- A) 30 yaşında akli başında ama korunmaya muhtaç kişi
- B) 17 yaşında akli başında bir kişi
- C) 5 yaşındaki bir çocuk
- D) 50 yaşında akıl hastası olan bir kişi
- E) 25 yaşında akli başında ancak kendisine yasal danışman atanmış kişi

47. **Anneleri bir olan Mustafa ile Mustafa'nın kardeşi Hatice'nin oğlu arasındaki hısımlık türü ve derecesi aşağıdakilerden hangisidir?**

- A)Yarım kan-Yansoy- 3.Derece
- B)Tam Kan- Üst soy- 2.Derece
- C)Yarım Kan- alt soy- 4.Derece
- D)Tam Kan- Yansoy- 1.Derece
- E)Yarım Kan- üst soy- 3.Derece

48. **Aşağıdakilerden hangisi 1961 ve 1982 anayasalarının benzer özelliklerinden biri değildir?**

- A) Her iki anayasanın da hazırlanmasında rol oynayan sivil kanatlar seçimle oluşmamıştır.
- B) Her iki anayasa da askeri müdahaleler sonucu hazırlanmıştır.
- C) Her iki anayasada da sivil kanadın, Bakanlar Kurulunun kurulması ve düşürülmesiyle ilgili yetkileri yoktur.
- D) Her iki anayasanın hazırlanmasında da siyasi partiler etkin rol oynamıştır.
- E) Her iki anayasa da referandum sonucu kabul edilmiştir.

49.

- I. Kasten öldürme suçunu işlerken suçüstü yakalanan milletvekili
- II. Hakkında, dokunulmazlığı TBMM kararıyla kaldırıldıktan sonra kovuşturma devam ederken tekrar milletvekili seçilen kişi
- III. Meclis başkanı

Yukarıdakilerden hangileri yasama dokunulmazlığından yararlanamaz?

- A) Yalnız I
- B) Yalnız II
- C) Yalnız III
- D) I ve II
- E) II ve III

50.

Kanun koyucunun yazılı kaynaklar içerisinde bilerek ve isteyerek bıraktığı boşluklara ne ad verilir?

- A)Kural dışı boşluk
- B)Örtülü boşluk
- C)Hukuk boşluğu
- D)Kural içi boşluk
- E)Açık boşluk

51.

1982 Anayasası'na göre devlet organlarının çalışma düzeninden, Türkiye Cumhuriyeti ve ulusun birliğinin temsilinden aşağıdakilerden hangisi sorumludur?

- A) Cumhurbaşkanı
- B) Başbakan
- C) Bakanlar Kurulu
- D) TBMM başkanı
- E) Anayasa Mahkemesi başkanı

52.

1982 Anayasası, 2017 değişikliğine göre "Hâkimler ve Savcılar Kurulu" kaç üyeden oluşur?

- A) 22
- B) 17
- C) 15
- D) 13
- E) 11

53.

- I. Getirmiş olduğu en önemli yenilik, milli egemenlik ilkesidir.
- II. Anayasa Mahkemesinin kuruluş süreci tamamlanmıştır.
- III. Yasama ve yürütme yetkileri Mecliste toplanmıştır.
- 1921 Anayasası ile ilgili yukarıdakilerden hangileri doğrudur?

- A) Yalnız I
- B) Yalnız II
- C) Yalnız III
- D) I ve II
- E) I ve III

54.

Kural içi boşlukları doldurmak için hakime tanınan yetki aşağıdakilerden hangisidir?

- A) Manevi yaptırım
- B) Hukuk yaratma
- C) Örf ve adet hukukundan yararlanma
- D) Takdir yetkisi
- E) Genel hükmü uygulama

55.

2019 Yılı Türk Dili Konuşan Ülkeler İşbirliği Konseyi (Türk Konseyi) 7. Zirvesi hangi ülkede yapılmıştır?

- A) Türkiye
- B) Azerbaycan
- C) Kırgızistan
- D) Özbekistan
- E) Türkmenistan

56.

2020 Yılında Türk Konseyi Zirvesi hangi ülkede yapılacak?

- A) Kazakistan
- B) Azerbaycan
- C) Türkiye
- D) Kırgızistan
- E) Özbekistan

57.

Nahçıvan anlaşması ile kurulan Türk Konseyinin kuruluş yılı nedir?

- A) 2010
- B) 2011
- C) 2009
- D) 2008
- E) 2012

58.

2021 Dünya Kitap Başkenti hangi şehir olmuştur?

- A) Sharjah
- B) Atina
- C) Kuala Lumpur
- D) Tiflis
- E) Sidney

59.

Türkiye'nin ilk Bor Karbür Tesisi 2019 Ekim ayında hangi şehirde açılmıştır?

- A) Tekirdağ
- B) Bursa
- C) Balıkesir
- D) Çanakkale
- E) Kocaeli

60.

Dünya Dalış rekortmenimiz Şahika Ercüman 2019 ekim ayında Mersin ilinde bulunan Gilindire mağarasında paletsiz kaç metre dalarak Dünya rekoru kırmıştır?

- A) 70
- B) 80
- C) 90
- D) 100
- E) 110

GY- GK

DENEME SINAVI - 9

CEVAP ANAHTARI

GENEL YETENEK											
1	C	11	C	21	E	31	B	41	A	51	B
2	B	12	E	22	D	32	A	42	C	52	A
3	B	13	E	23	C	33	D	43	C	53	D
4	C	14	E	24	D	34	E	44	B	54	E
5	E	15	C	25	D	35	A	45	D	55	E
6	D	16	A	26	B	36	C	46	D	56	C
7	B	17	D	27	A	37	C	47	C	57	D
8	E	18	A	28	C	38	A	48	D	58	C
9	A	19	B	29	D	39	C	49	A	59	B
10	B	20	C	30	D	40	C	50	A	60	D

GENEL KÜLTÜR											
1	D	11	D	21	D	31	E	41	C	51	A
2	D	12	D	22	B	32	E	42	E	52	D
3	D	13	D	23	B	33	A	43	C	53	E
4	A	14	E	24	B	34	E	44	B	54	D
5	B	15	B	25	C	35	B	45	D	55	B
6	C	16	A	26	D	36	A	46	B	56	C
7	B	17	B	27	B	37	B	47	A	57	C
8	B	18	C	28	A	38	E	48	D	58	D
9	D	19	B	29	A	39	C	49	A	59	C
10	D	20	C	30	D	40	E	50	D	60	D